

شكراً لتحميلك هذا الملف من موقع المناهج السعودية



أسئلة اختبار نهائي محلولة

[موقع المناهج](#) ← [المناهج السعودية](#) ← [الصف الأول الثانوي](#) ← [جغرافيا](#) ← [الفصل الأول](#) ← [الملف](#)

تاريخ نشر الملف على موقع المناهج: 07:24:38 2022-11-17

التواصل الاجتماعي بحسب الصف الأول الثانوي

[الرياضيات](#)

[اللغة الانجليزية](#)

[اللغة العربية](#)

[التربية الاسلامية](#)

روابط مواد الصف الأول الثانوي على تلغرام

المزيد من الملفات بحسب الصف الأول الثانوي والمادة جغرافيا في الفصل الأول

[أسئلة اختبار نهائي محلولة](#)

نموذج اجابة اختبار نهائي للعام الدراسي

١٤٤٣هـ

اسم الطالبة : رقم الجلوس : الشعبة : الدور الأول (أساسي)

١٠

السؤال الأول :

ضعي حرف (ص) أمام العبارة الصحيحة وحرف (خ) أمام العبارة الخاطئة فيما يلي ثم ظللي في ورقة التصحيح الآلي: ؟

- ١ العمليات الباطنية الفجائية الالتواءات والصدوع والانكسارات. (خ)
- ٢ تخزين بيانات نظم المعلومات الجغرافية في اكثر من طبقة (layer) واحدة في النظام. (ص)
- ٣ الخريطة وسيلة عالمية للتفاهم والتعبير تتخطى حواجز اللغة. (ص)
- ٤ يقصد بال عمران الدائم القرية الثابتة .. (ص)
- ٥ من مناطق الضغط منطقتا الضغط المرتفع حول درجتي عرض ٣٠ شمالا وجنوبا. (ص)
- ٦ من نتائج دوران الارض حول نفسها ظهور الفصول الاربعة (خ)
- ٧ النقط في نظم المعلومات الجغرافية GIS تمثل موقع منزل او مسجد او مدرسة. (ص)
- ٨ الجغرافيا كلمة اصلها اغريقي. (ص)
- ٩ من الجبال الانكسارية في العالم جبال البحر الأحمر. (ص)
- ١٠ من المدن التي تقوم بوظيفة ثقافية مدينة الجبيل وينبع في المملكة العربية السعودية. (خ)

١٠

السؤال الثاني : اختاري الاجابة الصحيحة فيما يلي ثم ظللي في ورقة التصحيح الآلي:

يستخدم المسقط الاسطواني (مركبتور)في:

١	أ	خرائط الملاحة البحرية والجوية .	أ	العروض القطبية.
	ب	دائرة ٧٠° شمالا وجنوبا .	ب	خرائط الوطن العربي.
٢	أ	المجرات.	ج	السد
	ب	درب التبانة.	د	النيازك

٣ تسود الامطار التصاعدية في المناطق:

٣	أ	الاستوائية.	ج	الصحراوية.
	ب	الجبليّة .	د	الباردة.
٤	أ	الرياح.	ج	الامطار والسحب والندى والصقيع والبرد.
	ب	الضغط الجوي.	د	درجة الحرارة.

رمز العاصمة في خرائط المساحة العسكرية السعودية :

٥	أ	<input type="checkbox"/>	ج	✈
	ب	x	د	★
٦	من خصائص المناطق الصحراوية أنها :			
	أ	جافة ونادرة المياه.	ج	باردة .
	ب	كثيرة السحب.	د	غزيرة المطر.
٧	معظم امطار جنوب غربي المملكة العربية السعودية في جبال السروات جنوبي جبال الحجاز :			
	أ	الامطار التضاريسية.	ج	الامطار التصاعدية.
	ب	المزن.	د	امطار الجبهات (الاعاصير) .
٨	من نباتات الصحارى الباردة الاقليم القطبي:			
	أ	نباتات شوكية .	ج	الغابة الاستوائية.
	ب	حشائش السفانا.	د	النباتات الطحلبية.
٩	من فوائد ظاهرة المد والجزر:			
	أ	توليد الكهرباء وصد الاسماك.	ج	قوة الطرد المركزية.
	ب	جذب الماء على سطح الارض.	د	التيارات الباردة.
١٠	محمية طبيعية وتكون بين مشروع نيوم ومشروع البحر الأحمر وهي من المحميات الطبيعية الملكية في المملكة العربية السعودية:			
	أ	محمية صاحب السمو الملكي الأمير محمد بن سلمان بن عبد العزيز	ج	محمية محازة الصيد
	ب	محمية جزر فرسان .	د	محمية ريده

١٠

السؤال الثالث : صلي العمود الاول بما يناسبه من العمود الثاني ثم ظللي في ورقة التصحيح الالى:

م	العمود الأول	العمود الثاني
١	من انواع السحب التي تنشأ عن الامطار التصاعدية . ب	أ شعب الاسكيمو.
٢	نهر تغير مجراه يفصل بين الولايات المتحدة الامريكية والمكسيك ط	ب المزن.
٣	من ادوات الاستشعار عن بعد المواسح . ج	ج الماسح متعدد الاطياف S.S.M.
٤	محمية تكون في المنطقة الواقعة بين مشروع نبوم ومشروع البحر الاحمر والاعلا و	د جبال الانديز
٥	الخطوط في نظم المعلومات الجغرافية GIS مثل : هـ	هـ شبكات المياه والطرق والكهرباء.
٦	من البحار الهامشية .	و محمية الامير محمد بن سلمان الملكية
٧	جبال تفصل بين الارجننتين وتشيلي د	ز البحر الكاريبي.
٨	أول من لاحظ أن السفرحول الأرض بالكامل يؤدي إلى زيادة يوم او نقصانه. ك	ح خسوف القمر.
٩	الجماعات التي تمارس الصيد في الجهات القطبية أ	ط نهر ريو غراندي
١٠	هو احتجاب كل أجزاء بسبب سقوط ظلال أرض عليه عندما تقع بينه وبين الشمس. ح	ي قارة استراليا .
		ك ابو الفدا.

١٠

السؤال المقالى

١- على لماياتى:

- ١- يفضل الطيران في طبقة الغلاف الجوي العلوي Stratosphere؟ لأنها في مأمن من تقلبات الجو التي تحدث في طبقة التروبوسفير
- ٢- مياه البحر في حركة مستمرة لاتتوقف ابدا؟

بسبب الاشعاع الشمسي الساقط عليها

٢ عددي اثنين فقط ممايلي:

أ- مشكلات المدن؟

١- مشكلة الازدحام المروري

٢- مشكلة صعوبة الحصول على الاحتياجات اليومية

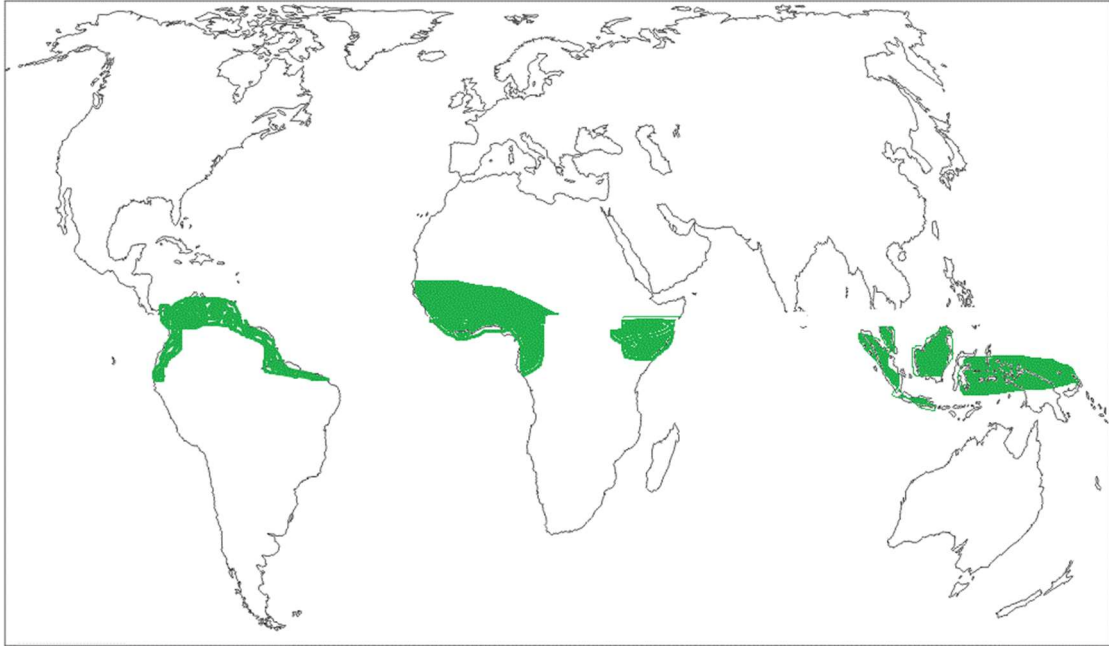
٣- مشكلة التخلص من النفايات ومياه الصرف الصحي

٤- مشكلة التلوث

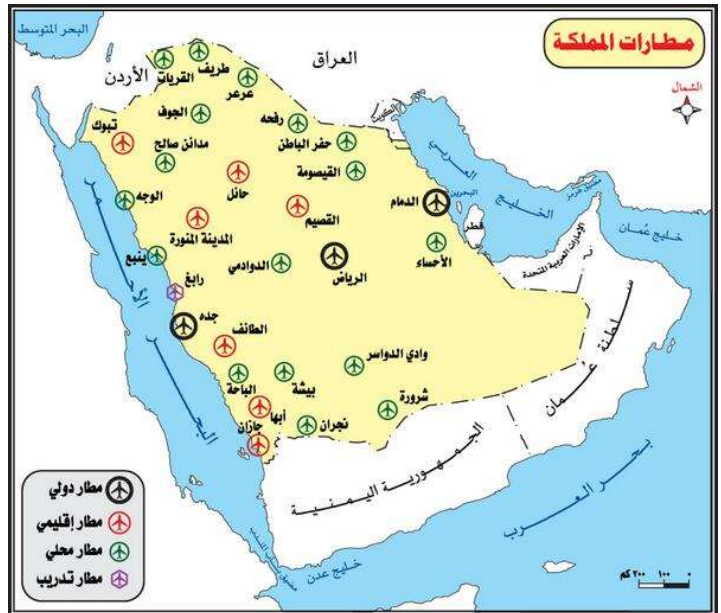
٥- مشكلة نقص المياه

٦- مشكلة الضجيج

٢- وزعى على خريطة العالم التى امامك أماكن توزيع الاقليم الاستوائى بأستخدام الالوان فى ذلك؟



٣- أذكرى عناصر الخريطة الموجودة على الخريطة التالية:



١ اتجاه الشمال

٢- الاطار

٣- مفتاح الخريطة

٤ مقياس الرسم

١- مثلى لما ياتى:

١- للدولة الجزرية فى العالم؟

استراليا اليابان الفلبين سيرلانكا ايسلندا
٢- دولة قسمت على اساس ديني ؟
السودان

١- أكملى جدول المقارنة التالى :

الحرفة	العلاقات الاجتماعية	حجم المجتمع	مستوى المعيشة	
الزراعة والرعي	قوة	صغير	منخفض	العمران الريفي سكان القرى
حرف متعددة الصناعة التجارة التعدين وغيرها	ضعف	كبير	مرتفع	العمران الحضري سكان المدن



مع تمنياتي لكن بالتوفيق والنجاح

اعداد فتون

تيلجرام



faanal3

أسئلة اختبار نهائي للعام الدراسي ١٤٤٣ هـ

اسم الطالبة: رقم الجلوس: الشعبة: الدور الأول (أساسي)

السؤال الأول:

ضعي حرف (ص) أمام العبارة الصحيحة وحرف (خ) أمام العبارة الخاطئة فيما يلي ثم ظللي في ورقة التصحيح الآلي:

- ١ العمليات الباطنية الفجائية الالتواءات والصدوع والانكسارات. ()
- ٢ تخزين بيانات نظم المعلومات الجغرافية في أكثر من طبقة (layer) واحدة في النظام. ()
- ٣ الخريطة وسيلة عالمية للتفاهم والتعبير تتخطى حواجز اللغة. ()
- ٤ يقصد بالعمران الدائم القرية الثابتة .. ()
- ٥ من مناطق الضغط منطقتا الضغط المرتفع حول درجتي عرض ٣٠° شمالا وجنوبا. ()
- ٦ من نتائج دوران الأرض حول نفسها ظهور الفصول الأربعة ()
- ٧ النقط في نظم المعلومات الجغرافية GIS تمثل موقع منزل أو مسجد أو مدرسة. ()
- ٨ الجغرافيا كلمة أصلها اغريقي. ()
- ٩ من الجبال الانكسارية في العالم جبال البحر الأحمر. ()
- ١٠ من المدن التي تقوم بوظيفة ثقافية مدينة الجبيل وينبع في المملكة العربية السعودية. ()

السؤال الثاني: اختاري الإجابة الصحيحة فيما يلي ثم ظللي في ورقة التصحيح الآلي:

١	أ	خرائط الملاحة البحرية والجوية.	أ	العروض القطبية.
	ب	دائرة ٧٠° شمالا وجنوبا.	ب	خرائط الوطن العربي.
٢	تشتهر المجرة التي يتبعها نظامنا الشمسية باسم:			
	أ	المجرات.	ج	السدن
	ب	درب التبانة.	د	النيازك

٣ تسود الأمطار التصاعدية في المناطق:

٣	أ	الاستوائية.	ج	الصحراوية.
	ب	الجبلية.	د	الباردة.
٤	من صور التكاثف:			
	أ	الرياح.	ج	الأمطار والسحب والندى والصقيع والبرد.
	ب	الضغط الجوي.	د	درجة الحرارة.
٥	رمز العاصمة في خرائط المساحة العسكرية السعودية:			
	أ	□	ج	✈
	ب	x	د	★

٦	من خصائص المناطق الصحراوية أنها :	أ	جافة ونادرة المياه.	ب	كثيرة السحب.	ج	باردة .	د	غزيرة المطر.
٧	معظم امطار جنوب غربي المملكة العربية السعودية في جبال السروات جنوبي جبال الحجاز :	أ	الامطار التضاريسية.	ب	المزن.	ج	الامطار التصاعدية.	د	امطار الجبهات (الاعاصير).
٨	من نباتات الصحارى الباردة الاقليم القطبي:	أ	نباتات شوكية .	ب	حشائش السفانا.	ج	الغابة الاستوائية.	د	النباتات الطحلبية.
٩	من فوائد ظاهرة المد والجزر:	أ	توليد الكهرباء وصد الاسماك.	ب	جذب الماء على سطح الارض.	ج	قوة الطرد المركزية.	د	التيارات الباردة.
١٠	محمية طبيعية وتكون بين مشروع نيوم ومشروع البحر الأحمر وهي من المحميات الطبيعية الملكية في المملكة العربية السعودية:	أ	محمية صاحب السمو الملكي الأمير محمد بن سلمان بن عبد العزيز	ب	محمية جزر فرسان .	ج	محمية محازة الصيد	د	محمية ريذة

السؤال الثالث : صلي العمود الاول بما يناسبه من العمود الثاني ثم ظللي في ورقة التصحيح الالى

م	العمود الأول	العمود الثاني
١	من انواع السحب التي تنشأ عن الامطار التصاعدية .	أ شعب الاسكيمو.
٢	نهر تغير مجراه يفصل بين الولايات المتحدة الامريكية والمكسيك	ب المزن.
٣	من ادوات الاستشعار عن بعد المواسح .	ج الماسح متعدد الاطيفاف S.S.M.
٤	محمية تكون في المنطقة الواقعة بين مشروع نبوم ومشروع البحر الاحمر والعالا	د جبال الانديز
٥	الخطوط في نظم المعلومات الجغرافية GIS مثل :	هـ شبكات المياه والطرق والكهرباء.
٦	من البحار الهامشية .	و محمية الامير محمد بن سلمان الملكية
٧	جبال تفصل بين الارجتنتين وتشيلي	ز البحر الكاريبي.
٨	أول من لاحظ أن السفرحول الأرض بالكامل يؤدي إلى زيادة يوم او نقصانه.	ح خسوف القمر.
٩	الجماعات التي تمارس الصيد في الجهات القطبية	ط نهر ريو غراندي
١٠	هو احتجاب كل أجزء بسبب سقوط ظلال أرض عليه عندما تقع بينه وبين الشمس.	ي قارة استراليا .
		ك

السؤال المقالى

١- على لماياتي:

١- يفضل الطيران في طبقة الغلاف الجوي العلوي Stratosphere؟

.....

٢- مياه البحر في حركة مستمرة لاتتوقف ابدا ؟

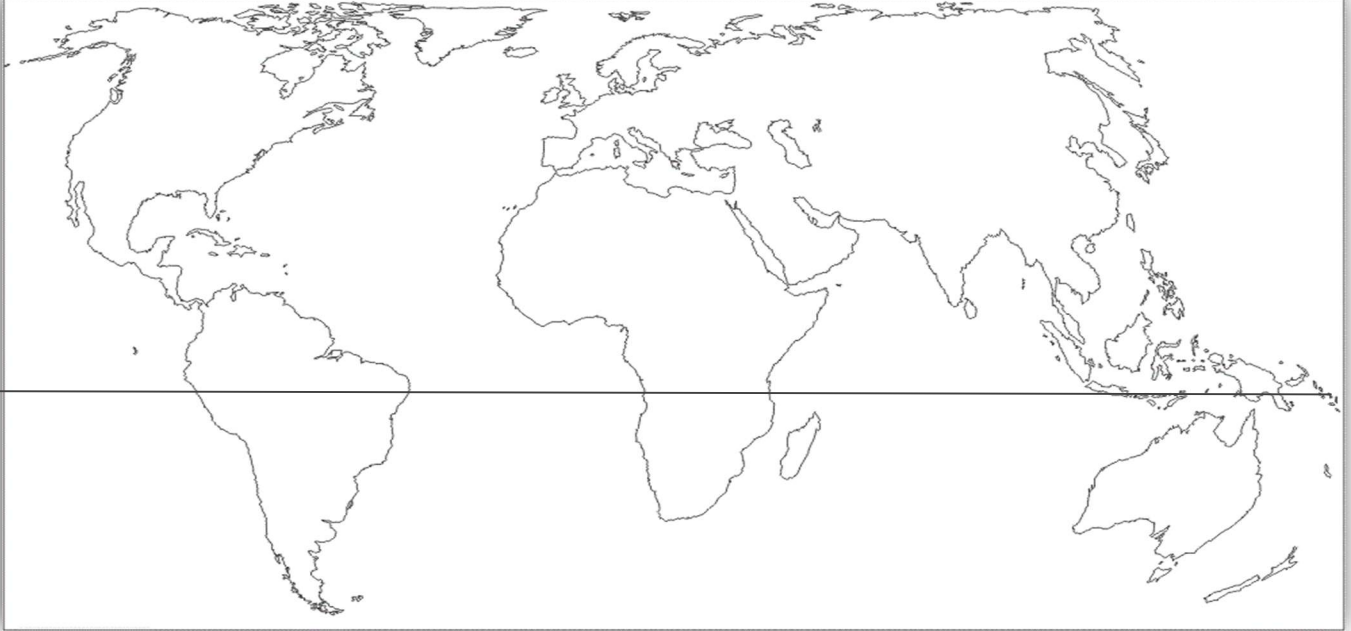
٢ عددي اثنين فقط ممايلي :

أ -مشكلات المدن؟

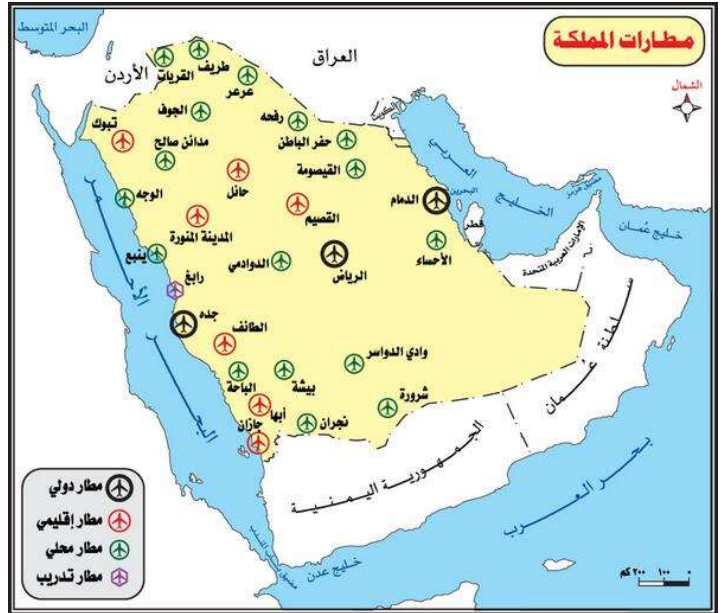
١-.....

٢-.....

٢- وزعي على خريطة العالم التي امامك أماكن توزيع الاقليم الاستوائي باستخدام الالوان في ذلك ؟



٣- أذكرى عناصر الخريطة الموجودة على الخريطة التالية :



١-.....

٢-.....

٣-.....

٤-.....

٥-.....

١-مثلى لما ياتى:

١- للدولة الجزرية في العالم.؟

٢- دولة قسمت على اساس ديني ؟

١- أكملى جدول المقارنة التالى :

الحرفة	العلاقات الاجتماعية	حجم المجتمع	مستوى المعيشة	
				العمران الريفى سكان القرى
				العمران الحضري سكان المدن



مع تمنياتي لكن بالتوفيق والنجاح

اعداد فتون

تيلجرام



faanal3