

تم تحميل هذا الملف من موقع المناهج السعودية



ورقة عمل البرهان الإحداثي

موقع المناهج ← المناهج السعودية ← الصف الأول الثانوي ← رياضيات ← الفصل الثاني ← أوراق عمل ← الملف

تاريخ إضافة الملف على موقع المناهج: 2024-12-04 16:58:42

ملفات اكتب للمعلم اكتب للطالب الاختبارات الكترونية | اختبارات | حلول | عروض بوربوينت | أوراق عمل
منهج انجليزي | ملخصات و تقارير | مذكرات و بنوك | الامتحان النهائي للمدرس

المزيد من مادة
رياضيات:

التواصل الاجتماعي بحسب الصف الأول الثانوي



صفحة المناهج
السعودية على
فيسبوك

الرياضيات

اللغة الانجليزية

اللغة العربية

التربية الاسلامية

المواد على تلغرام

المزيد من الملفات بحسب الصف الأول الثانوي والمادة رياضيات في الفصل الثاني

تحميل كتاب الرياضيات 1 للفصل الثاني نسخة 1446هـ

1

ورقة عمل درس المثلثات المتطابقة

2

ورقة عمل درس تصنيف المثلثات و درس زوايا المثلثات

3

خطة توزيع مقرر رياضيات للفصل الثاني

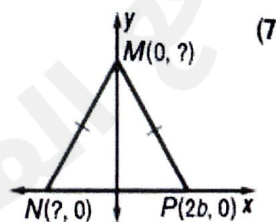
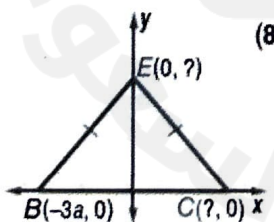
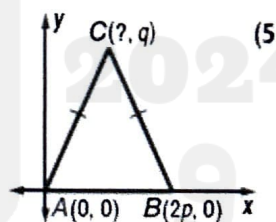
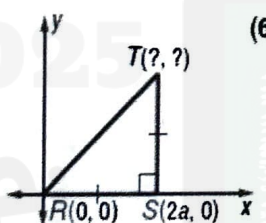
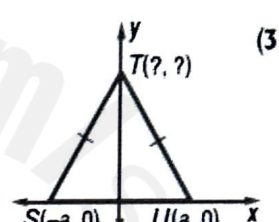
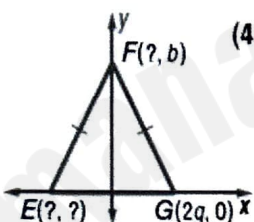
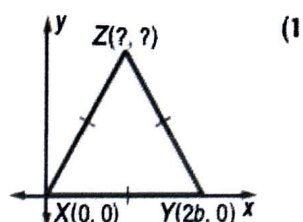
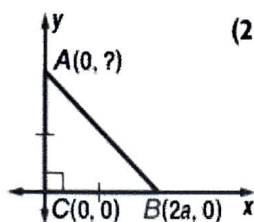
4

مراجعة نهائية للوحدة الرابعة العلاقات في المثلث

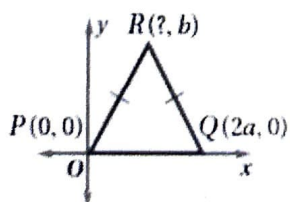
5

اسم الطالب :

1 أوجد الإحداثيات المجهولة في كل من المثلثات الآتية :



2 ما إحداثيات النقطة R في المثلث المجاور



(4a, b) C (a/2, b) A

(a/4, b) D (a, b) B