

أوراق عمل اختبار نفسك



تم تحميل هذا الملف من موقع المناهج السعودية

موقع المناهج ← المناهج السعودية ← الصف الأول الثانوي ← رياضيات ← الفصل الثالث ← أوراق عمل ← الملف

تاريخ إضافة الملف على موقع المناهج: 11:36:26 2025-04-08

ملفات اكتب للمعلم اكتب للطالب ا اختبارات الكترونية ا اختبارات ا حلول ا عروض بوربوينت ا أوراق عمل
منهج انجليزي ا ملخصات وتقارير ا مذكرات وبنوك ا الامتحان النهائي ا للمدرس

المزيد من مادة
رياضيات:

التواصل الاجتماعي بحسب الصف الأول الثانوي



صفحة المناهج
السعودية على
فيسبوك

الرياضيات

اللغة الانجليزية

اللغة العربية

التربية الاسلامية

المواد على تلغرام

المزيد من الملفات بحسب الصف الأول الثانوي والمادة رياضيات في الفصل الثالث

الخطة الأسبوعية لكامل المقرر للفصل الثالث مسارات

1

عرض بوربوينت الدرس الرابع عناصر المثلثات المتشابهة

2

عرض بوربوينت للدرس الثالث المستقيمات المتوازية والأجزاء المتناسبة

3

عرض بوربوينت للدرس الثاني المثلثات المتشابهة

4

عرض بوربوينت للدرس الأول المضلعات المتشابهة

5

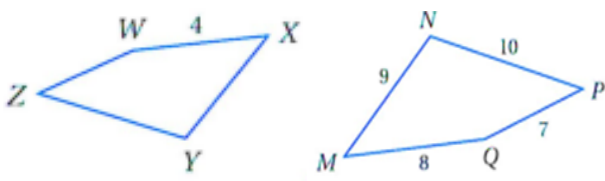
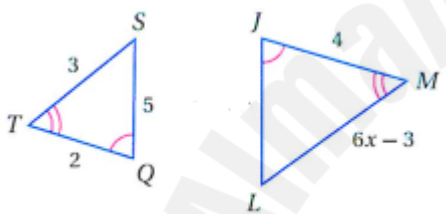
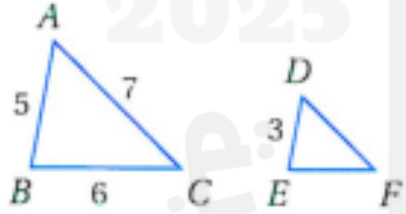
ورقة عمل (اختبر نفسك)

الفصل الأول : (١-١) المضلعات المتشابهة

الاسم :

الشعبة :

اختر الإجابة الصحيحة :

<p>في الشكل المجاور $MNPQ \sim XYZW$ معامل التشابه يساوي</p> 								١
4	د	5	ج	2	ب	3	أ	
<p>في الشكل المجاور $\triangle JLM \sim \triangle QST$ قيمة x تساوي</p> 								٢
3	د	2.5	ج	2	ب	1.5	أ	
<p>في الشكل المجاور $\triangle ABC \sim \triangle DEF$ محيط $\triangle DEF$</p> 								٣
13	د	11	ج	10.8	ب	9	أ	

ورقة عمل (اختبر نفسك)

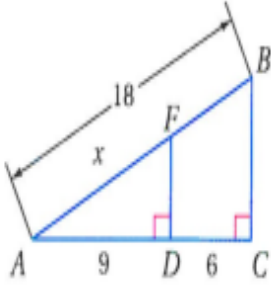
(٣-١) المستقيمت المتوازية والأجزاء المتناسبة

الفصل الأول :

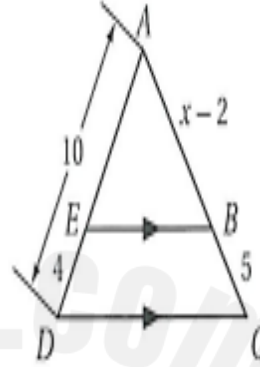
الشعبة :

الاسم :

٢- في الشكل المجاور أوجد x :



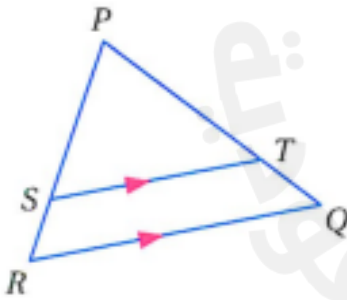
١- في الشكل المجاور أوجد x :



٣- في $\triangle PQR$ إذا كان


$$\overline{ST} \parallel \overline{RQ}, PT = 7.5, TQ = 3, SR = 2.5$$

فأوجد PS



- مثل بيانيا كل شكل مما يأتي وارسم صورته بالانعكاس المحدد

(١) ΔABC الذي إحداثيات رؤوسه $A(-5, 3), B(2, 0), C(1, 2)$ بالانعكاس حول المحور x



(٢) متوازي الأضلاع $PQRS$ الذي إحداثيات رؤوسه $P(-4, 1), Q(2, 3), R(2, -1), S(-4, -3)$ بالانعكاس حول المحور y

