

تم تحميل هذا الملف من موقع المناهج السعودية



الملف اختبار الفترة الثالثة

[موقع المناهج](#) ⇨ [المناهج السعودية](#) ⇨ [الصف الأول](#) ⇨ [علوم](#) ⇨ [الفصل الثاني](#)

الملف اختبار الفترة الثالثة

[موقع المناهج](#) ⇨ [المناهج السعودية](#) ⇨ [الصف الأول](#) ⇨ [علوم](#) ⇨ [الفصل الثاني](#)

المزيد من الملفات بحسب الصف الأول والمادة علوم في الفصل الثاني

تحميل كتاب الطالب	1
كتاب النشاط علوم	2
تحضير علوم	3
تنمية مهارات القراءة والكتابة	4
توزيع علوم 1	5

اختبار الفتره الثالثه لمادة العلوم الفصل الدراسي الثاني ١٤٤٣هـ للفص الاول (نسخة)

استعيني بالله ثم أجيبني:

almanahj.com/sa
المنهج السعودية

* مطلوب

1

الاسم الثلاثي *

2

الموارد الطبيعية هي الأشياء التي نحصل عليها من الارض ونستخدمها *
(1 نقطة)

صح ☐

خطأ ☐




almanahj.com/sa
المنهج السعودية

نستخدم صوف الأغنام في صنع الملابس *
(1 نقطة)

☐ مورد طبيعي حي

☐ مورد طبيعي غير حي



التربة مورد طبيعي مهم : *
(1 نقطة)

☐ يتغذى الانسان عليه

☐ يصنع الانسان منه الاطباق والاكواب

من أمثله الموارد الطبيعيه الغير حيه : *
(1 نقطة)

☐ النباتات والحيوانات

☐ الماء والهواء والتربه

التلوث هو *
(1 نقطة)

☐ وجود اشياء نافعه في اليابسه والماء والهواء

☐ وجود اشياء ضاره في اليابسه والماء والهواء


almanahj.com/sa
المنهج السعودية

الصوره التي امامي تدل على : *
(1 نقطة)



☐ اعاده التدوير

☐ التلوث



almanahj.com/sa
المنهج السعودية

اغلق صنبور المياه في اثناء تنظيف أسناني لأقلل استهلاك الماء*
(1 نقطة)

☐ تصرف صحيح

☐ تصرف خاطئ

صنع شي جديد من شي قديم هو.....*
(1 نقطة)

☐ الترشيح

☐ إعادة التدوير



الصورة التي أمامي تدل على إعادة الاستخدام وهي استخدام الأشياء مرة أخرى بصورة جديدة

*

(1 نقطة)

almanahj.com/sa
المنهج السعودية

صح ☐

خطأ ☐

11

عندما يكون الماء والهواء ملوثان فإنهما يضران بصحتنا *
(1 نقطة)

صح ☐

خطأ ☐

اذكر خاصيتين للدمية التي امامي : *
(1 نقطة)



almanahj.com/sa
المنهج السعودية


☐ اللون الاحمر وخشونة الملمس

☐ اللون البني ونعومة الملمس

جميع الاشياء تتكون من ماده وهو يشغل حيزا *
(1 نقطة)

☐ صح

☐ خطأ



أكمل الفراغ بكلمه مناسبه:
كتلة الارنب المعدني من كتلة الارنب الاسفنجي *
(1 نقطة)

almanahj.com/sa
المنهج السعودية

أكبر ☐

أقل ☐

15

توجد الماده في ثلاث حالات وهي : *
(1 نقطة)

الصلبه فقط ☐

الصلبه والسائله والغازيه ☐

16

الكتله هي كمية الماده الموجوده في الشئ *
(1 نقطة)

صح ☐

خطأ ☐

17

يستخدم لقياس الكتل *
(1 نقطة)

☐ المسطره

☐ الميزان ذو كفتين

18

الماء والكرسي المطاطي والهواء جميعها أشياء تتكون من ماده. *
(1 نقطة)

المنهج السعودي

☐ صح

☐ خطأ

19



الصورة التي أمامي بالون ومن خصائصه اللون الاخضر وخشونة الملمس وحجمه صغير *
(1 نقطة)

☐ صح

☐ خطأ

الماء والعصير والمشروبات تكون مادته في حاله *

(1 نقطة)

☐ السائله

☐ الصلبه

21



من خصائص المادة ان نصف *

(1 نقطة)

☐ اللون فقط

☐ اللون والشكل والحجم والرائحه والطعم والملمس والصوت

لم يتم إنشاء هذا المحتوى أو اعتماده من قبل Microsoft. سيتم إرسال البيانات التي ترسلها إلى مالك النموذج.

Microsoft Forms