

تم تحميل هذا الملف من موقع المناهج السعودية

almanahj.com/sa

موقع المناهج السعودية

الملف اختبار الفترة الأولى

[موقع المناهج](#) ← [المناهج السعودية](#) ← [الصف السادس](#) ← [اجتماعيات](#) ← [الفصل الثالث](#)

روابط مواقع التواصل الاجتماعي بحسب الصف السادس



روابط مواد الصف السادس على تلغرام

[الرياضيات](#)

[اللغة الانجليزية](#)

[اللغة العربية](#)

[التربية الاسلامية](#)

المزيد من الملفات بحسب الصف السادس والمادة اجتماعيات في الفصل الثالث

[اختبار أعمال السنة دراسات اجتماعية](#)

1

[نماذج اختبارات نهائية مع نماذج الإجابة](#)

2

[مجموعة اختبارات نهائية مع نموذج الإجابة](#)

3

[ملخص وخرائط مفاهيم](#)

4

[اختبار نهائي الدور الأول](#)

5

٦ - ١٢

الأجزاء المتطابقة



تم تحميل هذا الملف من
موقع المناهج السعودية

alManahj.com/sa

أ. أحمد الأحمدى

@ahmad9963



فكرة الدرس

أتعرف الأجزاء
المتطابقة .

المفردات
الأجزاء المتطابقة

أ.أحمد الأحمدى

@ahmad9963

تم تحميل هذا الملف من
وقع المناهج السعودية

alManahj.com/sa

أضع قطع النماذج على الأشكال المرسومة، ثم أكتب عدد الأجزاء المتطابقة في كل شكل:

أتأكد




٣



..... أجزاء متطابقة.

alManahj.com/sa

٦



..... أجزاء متطابقة.

١



..... أجزاء متطابقة.

أ.أحمد الأحمد

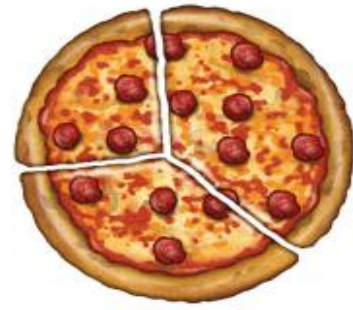
@ahmad9963



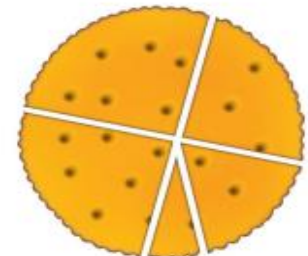
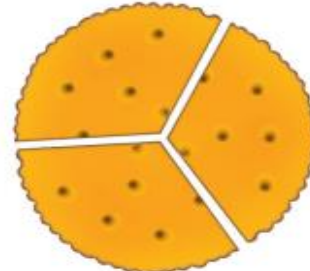

أَنْذَرُ
الأجزاء المتطابقة لها الشكل
والحجم نفسها.

أحوطُ الشكل الذي أجزاءه متطابقة:

أَتَدَرَّبُ



تم تحميل ملف من
موقع المناهج السعودية



alManhaj.com/sa



أرسم خطأ أو خُطوطاً لأقسّم الشكل إلى أجزاءٍ مُتطابقة:



٨



٧


٣ أجزاءٍ مُتطابقة. هذا الملف من

جزآنٍ مُتطابقان.

موقع المناهج السعودية



١٠



٩

alManahj.com/sa

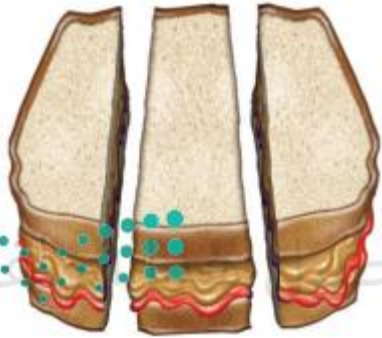
٣ أجزاءٍ مُتطابقة.

٤ أجزاءٍ مُتطابقة.



أحلُّ المسألة

١١ التفكير البصري: اقتسمت سميرة هذه الشطيرة مع زميلاتها. كم بنتاً ستأكل من الشطيرة؟



..... بناتٍ. تحبُّ من

موقع المناهج السعودية

alManahj.com/sa

أ.أحمد الأحمد

@ahmad9963