

أوراق عمل فصل القياس مقارنة الأطوال وترتيبها



تم تحميل هذا الملف من موقع المناهج السعودية

موقع المناهج ← المناهج السعودية ← الصف الأول ← رياضيات ← الفصل الثاني ← ملفات متنوعة ← الملف

تاريخ إضافة الملف على موقع المناهج: 2026-04-12 10:50:45

ملفات اكتب للمعلم اكتب للطالب الاختبارات الكترونية الاختبارات حلول عروض بوربوينت أوراق عمل منهج انجليزي ملخصات وتقارير مذكرات وبنوك الامتحان النهائي للمدرس

المزيد من مادة
رياضيات:

التواصل الاجتماعي بحسب الصف الأول



صفحة المناهج
السعودية على
فيسبوك

الرياضيات

اللغة الانجليزية

اللغة العربية

التربية الاسلامية

المواد على تلغرام

المزيد من الملفات بحسب الصف الأول والمادة رياضيات في الفصل الثاني

مراجعة فصل القيمة المنزلية الأحاد والعشرات

1

اختبار 2 الفترة الأولى مع نموذج الإجابة 1447هـ

2

اختبار الطرح 1444هـ

3

اختبار الفترة الأولى 1447هـ غير محلول

4

اختبار الفصل السابع الفترة الأولى

5

فصل القياس





مقارنة الأطوال وترتيبها

الاسم :

أحِوِّطُ الكَلِمَةَ المُناسِبَةَ (أَطوْلُ مِنْ ، أَقْصَرُ مِنْ) لِأَقارِنَ بَيْنَ الأَطْوالِ.



النَّمْلَةُ (أَطوْلُ مِنْ ، أَقْصَرُ مِنْ) الدُّودَةُ.



قَلَمُ التَّخْطِيطِ (أَطوْلُ مِنْ ، أَقْصَرُ مِنْ) قَلَمُ الرِّصَاصِ.



السَّوَارُ (أَطوْلُ مِنْ ، أَقْصَرُ مِنْ) ماسِكِ الشَّعْرِ.




فصل القياس



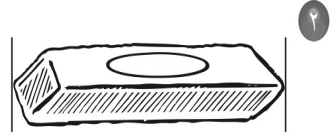
وحدات الطول غير القياسة

الاسم :

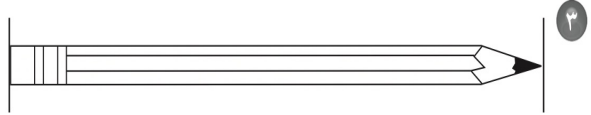
أَسْتَعْمِلُ  لِأَقِيسَ الطُّوْلَ:



حَوَالِي مُكَّعَبَاتٍ



حَوَالِي مُكَّعَبَاتٍ



حَوَالِي مُكَّعَبَاتٍ



فصل
القياس



أحل المسألة: أضمن ثم أتحقق

الاسم :

كَمْ طُولُ كُلِّ مِنْ هَذِهِ الْأَشْيَاءِ؟ أضمنُ ثُمَّ أقيسُ الطَّوْلَ لِأَتَحَقَّقَ مِنْ إجابَتِي:



أضمنُ: حوَالِي مُكعَبَاتٍ
أقيسُ: حوَالِي مُكعَبَاتٍ



أضمنُ: حوَالِي مُكعَبَاتٍ
أقيسُ: حوَالِي مُكعَبَاتٍ



فصل
القياس



مقارنة الكتل وترتيبها

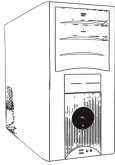
الاسم :

أُقارِنُ، ثُمَّ أُحَوِّطُ الإِجَابَةَ الصَّحِيحَةَ:

١ أَيُّهُمَا أَثْقَلُ؟



٢ أَيُّهُمَا أَخَفُّ؟



٣ أَيُّهَا الْأَخَفُّ؟



فصل
القياس



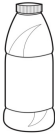
مقارنة السعات وترتيبها

الاسم :

أحوطُ الأقلَّ سعةً:



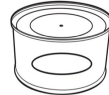
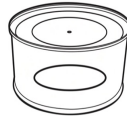
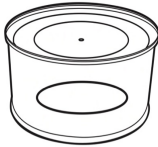
١



٢



أحوطُ الأكثرَ سعةً:



٣

