

اختبار الفترة الأولى غير محلول



تم تحميل هذا الملف من موقع المناهج السعودية

موقع المناهج ← المناهج السعودية ← الصف الأول ← رياضيات ← الفصل الثاني ← ملفات متنوعة ← الملف

تاريخ إضافة الملف على موقع المناهج: 2026-04-12 15:52:33

ملفات اكتب للمعلم اكتب للطالب الاختبارات الكترونية الاختبارات ا حلول ا عروض بوربوينت ا أوراق عمل
منهج انجليزي ا ملخصات وتقارير ا مذكرات وبنوك الامتحان النهائي للمدرس

المزيد من مادة
رياضيات:

التواصل الاجتماعي بحسب الصف الأول



صفحة المناهج
السعودية على
فيسبوك

الرياضيات

اللغة الانجليزية

اللغة العربية

التربية الاسلامية

المواد على تلغرام

المزيد من الملفات بحسب الصف الأول والمادة رياضيات في الفصل الثاني

ورقة عمل لوحة المئة أنماط الأعداد

1

أوراق عمل فصل القياس مقارنة الأطوال وترتيبها

2

مراجعة فصل القيمة المنزلية الأحاد والعشرات

3

اختبار 2 الفترة الأولى مع نموذج الإجابة 1447هـ

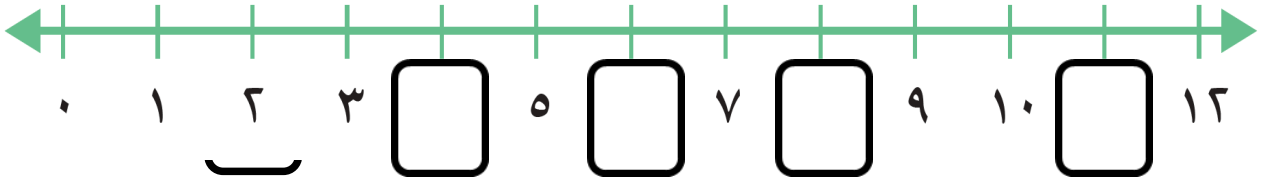
4

اختبار الطرح 1444هـ

5

الاسم

س1: أكمل خط الاعداد.




س2:



وَقَفَّ عَلَى الشَّجِيرَةِ ٤ فَرَّاشَاتٍ، طَارَتْ وَاحِدَةٌ مِنْهَا. كَمْ فَرَّاشَةً بَقِيَتْ؟


.....
فراشات

س3: اكتب جملة الطرح.



س4: اوجد ناتج الطرح افقياً ورأسياً.

$$\begin{array}{r} 6 \\ - 1 \\ \hline \square \end{array}$$



$$\dots = 1 - 6$$

← اقلب الصفحة

س5: أعد تصاعديا لأجد ناتج الجمع.

$$8 \dots\dots\dots = 3 +$$

$$4 \dots\dots\dots = 2 +$$

س6: أستعمل خط الأعداد لأجد ناتج الجمع :



$$\begin{array}{r} 9 \\ 3 + \\ \hline \square \end{array}$$

$$\begin{array}{r} 8 \\ 1 + \\ \hline \square \end{array}$$

$$\begin{array}{r} 6 \\ 2 + \\ \hline \square \end{array}$$

س7: أعد تنازليا لأجد ناتج الطرح

$$10 \dots\dots\dots = 1 -$$

$$7 \dots\dots\dots = 2 -$$

س6: أستعمل خط الأعداد لأجد ناتج الطرح :



$$\begin{array}{r} 9 \\ 8 - \\ \hline \square \end{array}$$

$$\begin{array}{r} 5 \\ 3 - \\ \hline \square \end{array}$$

$$\begin{array}{r} 8 \\ 5 - \\ \hline \square \end{array}$$

مع تمنياتي لكم بالتوفيق