

شكراً لتحميلك هذا الملف من موقع المناهج السعودية



## اختبار الفترة الثانية

[موقع المناهج](#) ← [المناهج السعودية](#) ← [الصف الأول](#) ← [رياضيات](#) ← [الفصل الثالث](#) ← [الملف](#)

## التواصل الاجتماعي بحسب الصف الأول

### روابط مواد الصف الأول على تلغرام

[الرياضيات](#)

[اللغة الانجليزية](#)

[اللغة العربية](#)

[التربية الاسلامية](#)

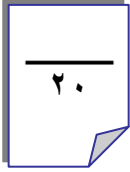
## المزيد من الملفات بحسب الصف الأول والمادة رياضيات في الفصل الثالث

<a href="#">بوربوينت مراجعة تراكمية للفصل الرابع الأعداد حتى 10</a>	1
<a href="#">اختبار تحريبي للفترة الثانية</a>	2
<a href="#">اختبار الفترة الثانية</a>	3
<a href="#">اسئلة اختبار مهاراتي</a>	4
<a href="#">اختبار القيمة المنزلية</a>	5

بِسْمِ اللَّهِ الرَّحْمَنِ الرَّحِيمِ

اسم الطالب :	 وزارة التعليم Ministry of Education	٢٠	المملكة العربية السعودية
المادة : رياضيات			وزارة التعليم
الصف : الأول ابتدائي			الإدارة العامة للتعليم بمنطقة ( )
			مكتب التعليم ب
			مدرسة

### اختبار الفترة الثانية الفصل الدراسي الثالث لعام ١٤٤٣هـ



أرّتب الأشياء من الأقصر إلى الأطول، وأكتب الأزقَام ١ أو ٢ أو ٣ مَبْتَدَأًا بِالْأَقْصَرِ:



.....

.....

.....

أحوط الشيء الأَخْفَ:



أحوط الشيء الذي سَعْتُهُ أَقْلُ:




أكتب العدَدَ:

٧ عَشْرَاتٍ = .....  
سَبْعِينَ

٥ عَشْرَاتٍ = .....  
خَمْسِينَ

٩ عَشْرَاتٍ = .....  
تِسْعِينَ

أَسْتَعْمِلُ  لِأَقِيسَ الطُّوْلَ:



حَوَالِي ..... 


حَوَالِي ..... 




حَوَالِي ..... 



أَعِدُّ بِالْعَشْرَاتِ، ثُمَّ أَقْرَأُ الْعَدَدَ وَأَكْتُبُهُ:

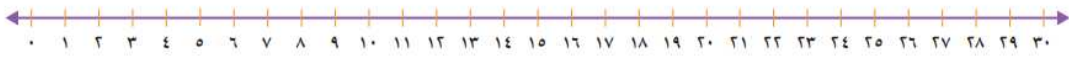


عَشْرَاتٍ .....  
.....  
ثَمَانُونَ



عَشْرَاتٍ .....  
.....  
أَرْبَعُونَ

أَسْتَعْمِلُ خَطَّ الْأَعْدَادِ لِأَعِدَّ بِالْقَفْزِ:



(١) .....، ٤، ٣

(٢) .....، ١٥، ١٠، ٣٥

(٣) .....، ١٠، ٥

انتهت الأسئلة

أ. أحمد الاحمدى  
@ahmad9963