

تم تحميل هذا الملف من موقع المناهج السعودية



# موقع المناهج السعودي

\* للحصول على أوراق عمل لجميع الصفوف وجميع المواد اضغط هنا

<https://www.almanahj.com/sa>

\* للحصول على أوراق عمل لجميع مواد الصف الأول اضغط هنا

<https://almanahj.com/sa/1>

\* للحصول على أوراق الصف الأول في مادة رياضيات ولجميع الفصول, اضغط هنا

<https://almanahj.com/sa/1math>

\* للحصول على أوراق عمل لجميع مواد الصف الأول في مادة رياضيات الخاصة بـ الفصل الثاني اضغط هنا

<https://www.almanahj.com/sa/1math2>

\* لتحميل كتب جميع المواد في جميع الفصول للـ الصف الأول اضغط هنا

<https://www.almanahj.com/sa/grade1>

للحصول على جميع روابط الصفوف على تلغرام وفيسبوك من قنوات وصفحات: اضغط هنا


<https://t.me/sacourse>

# بِسْمِ اللَّهِ الرَّحْمَنِ الرَّحِيمِ

الصف : الأول  
الحصة :  
الاسم :

المادة / رياضيات  
التاريخ / / / 14  
الموضوع / التهيئة

- لون الشاحنة بالأصفر والكرة بالأزرق والطائر بالأسود  
والوردة بالأحمر




# بِسْمِ اللَّهِ الرَّحْمَنِ الرَّحِيمِ

الصف : الأول  
الحصة :  
الاسم :

المادة / رياضيات  
التاريخ / / / 14  
الموضوع / التصنيف وفق خاصية واحدة

ضع  حول الشيء داخل الإطار الذي له نفس الصفة

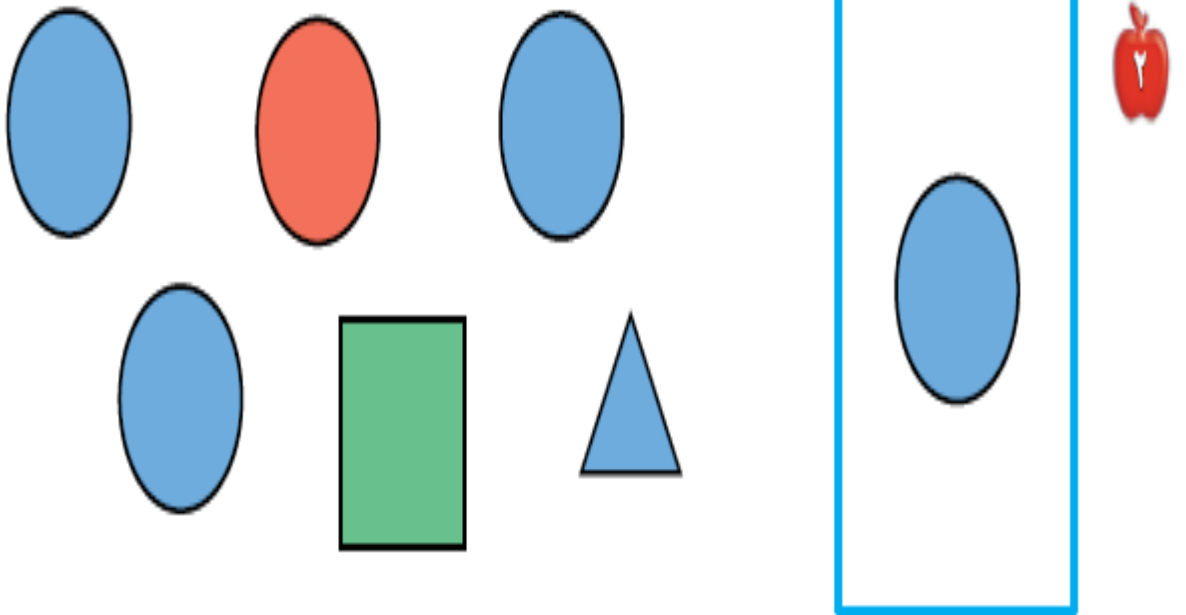
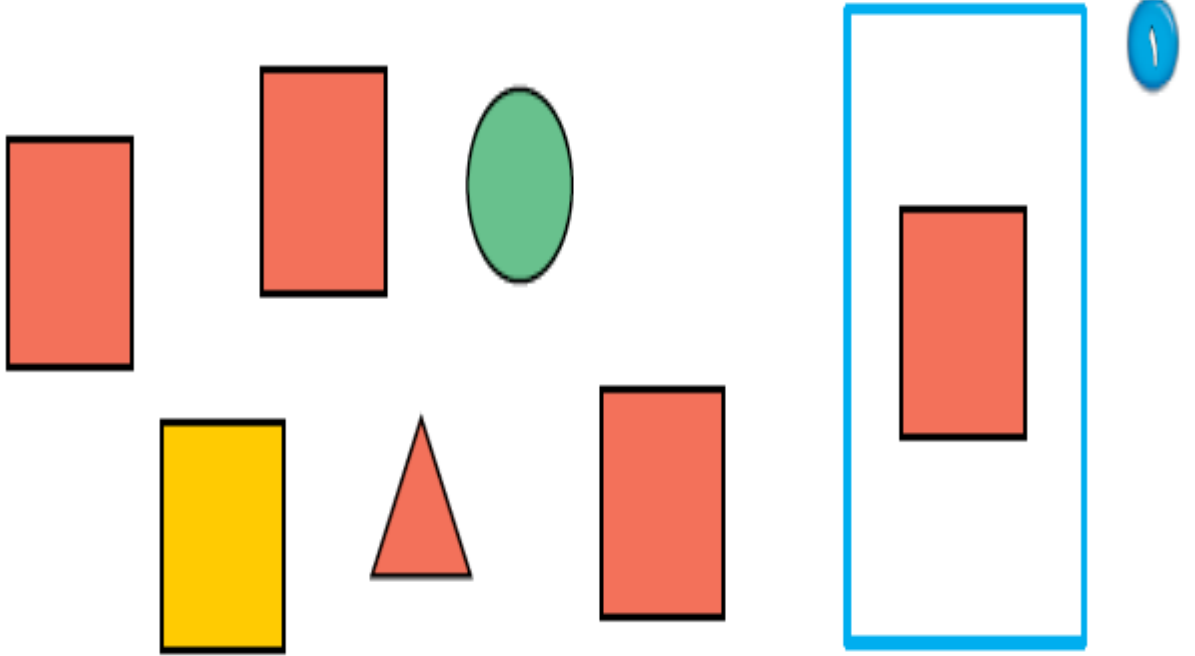


بِسْمِ اللَّهِ الرَّحْمَنِ الرَّحِيمِ

الصف : الأول  
الحصة :  
الاسم :

المادة / رياضيات  
التاريخ / / / 14  
الموضوع / التصنيف وفق أكثر من خاصية

ضع  حول الشكل المماثل و علامة × حول الشكل المختلف

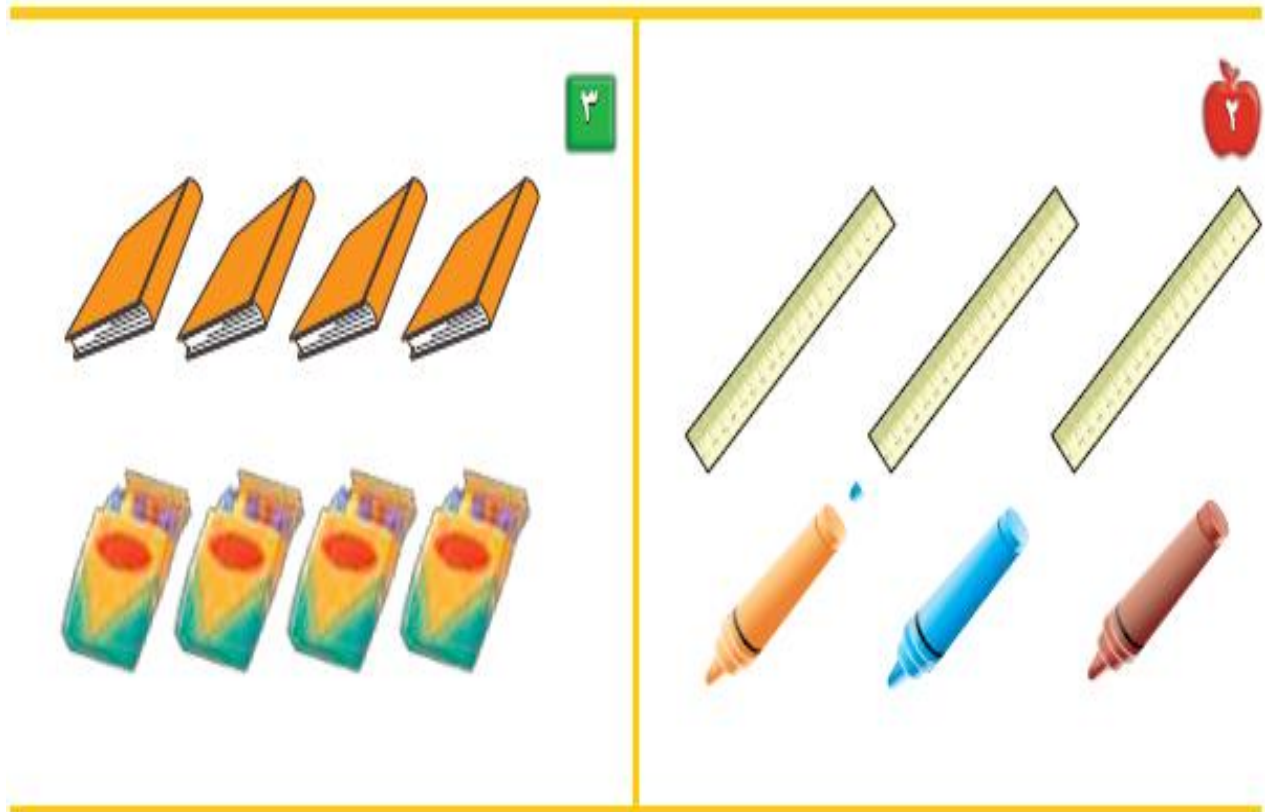


# بِسْمِ اللّٰهِ الرَّحْمٰنِ الرَّحِیْمِ

الصف : الأول  
الحصة :  
الاسم :

المادة / رياضيات  
التاريخ / / / 14  
الموضوع / التصنيف وفق أكثر من خاصية

صل بخط بين المجموعتين المتقابلتين




# بِسْمِ اللَّهِ الرَّحْمَنِ الرَّحِيمِ

الصف : الأول  
الحصة :  
الاسم :

المادة / رياضيات  
التاريخ / / / 14  
الموضوع / التصنيف ( أكثر من وأقل من )

صل بخط بين المجموعتين وضع  حول المجموعة التي عناصرها أكثر





# بِسْمِ اللَّهِ الرَّحْمَنِ الرَّحِيمِ

الصف : الأول  
الحصة :

الاسم :

المادة / رياضيات

التاريخ / / / 14

الموضوع / الأعداد 1 ، 2 ، 3

## عد المربعات ثم لونها



--	--	--



--	--	--



--	--	--



--	--	--



--	--	--

# بِسْمِ اللَّهِ الرَّحْمَنِ الرَّحِيمِ

الصف : الأول  
الحصة :

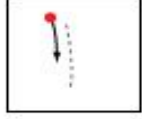
الاسم :

المادة / رياضيات

التاريخ / / / 14

الموضوع / قراءة الأعداد ( 1 ، 2 ، 3 )

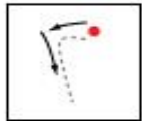
## عد الأشياء وانطق العدد ثم اكتبه ثلاث مرات



واحد



ثلاثة



اثنان





# بِسْمِ اللَّهِ الرَّحْمَنِ الرَّحِيمِ

الصف : الأول  
الحصة :

الاسم :

المادة / رياضيات

التاريخ / / / 14

الموضوع / العدادان 4 ، 5

ارسم 4 تفاحات على الشجرة الأولى و 5 تفاحات على الشجرة الثانية



# بِسْمِ اللَّهِ الرَّحْمَنِ الرَّحِيمِ

الصف : الأول  
الحصة :  
الاسم :

المادة / رياضيات  
التاريخ / / / 14  
الموضوع / قراءة العددين 4 ، 5 وكتابتها

عد الأشياء وانطق العدد ثم اكتب العدد ثلاث مرات

3



أَرْبَعَةٌ

5



خَمْسَةٌ

4



أَرْبَعَةٌ

5



4









# بِسْمِ اللَّهِ الرَّحْمَنِ الرَّحِيمِ

الصف : الأول  
الحصة :  
الاسم :

المادة / رياضيات  
التاريخ / / / 14  
الموضوع / قِرَاءَةُ أَعْدَادِ صِفْرٍ، وَكِتَابَتُهُ

عد الكرات في كل رسمة وعاء ثم قل العدد واكتبه

# بِسْمِ اللَّهِ الرَّحْمَنِ الرَّحِيمِ

الصف : الأول  
الحصة :  
الاسم :

المادة / رياضيات  
التاريخ / / / 14  
الموضوع / الأعداد 6 ، 7 ، 8

عد الأشياء وقل العدد واستعمل قطع العد الملونة لتمثيل العدد



١



٧



٨



# بِسْمِ اللَّهِ الرَّحْمَنِ الرَّحِيمِ

الصف : الأول  
الحصة :

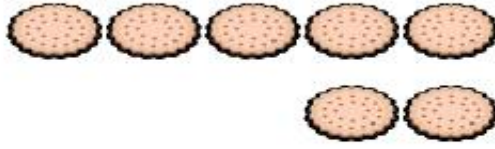
الاسم :

المادة / رياضيات

التاريخ / / / 14

الموضوع / قراءة الأعداد 6 ، 7 ، 8 وكتابتها

عد الأشياء وقل العدد ووضح عددها

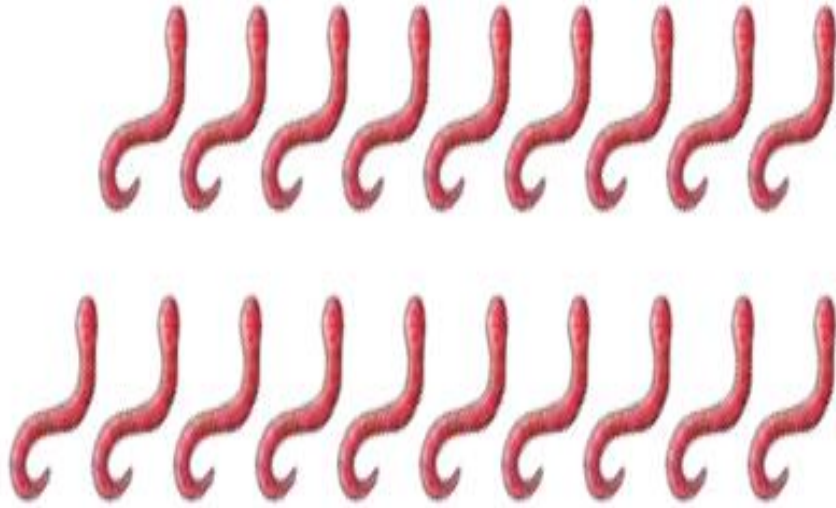


# بِسْمِ اللَّهِ الرَّحْمَنِ الرَّحِيمِ

الصف : الأول  
الحصّة :  
الاسم :

المادة / رياضيات  
التاريخ / / / 14  
الموضوع / أَعْدَادُ 9 ، 10

عد المجموعات ثم قل عددها ثم حوّل المجموعة التي عدد عناصرها 9 باللون الأحمر  
والمجموعة التي عدد عناصرها 10 باللون الأزرق





# بِسْمِ اللَّهِ الرَّحْمَنِ الرَّحِيمِ

الصف : الأول  
الحصة :  
الاسم :

المادة / رياضيات  
التاريخ / / / 14  
الموضوع / قراءة العددين 9 - 10

عد الحيوانات وقل العدد ثم اكتب العدد في المكان المخصص



٣



بِسْمِ اللَّهِ الرَّحْمَنِ الرَّحِيمِ

الصف : الأول  
الحصة :  
الاسم :

المادة / رياضيات  
التاريخ / / / 14  
الموضوع / مقارنة الأعداد حتى 10

عد الأشياء في كل مجموعة ثم اكتب عددها وضع × على المجموعة الأقل

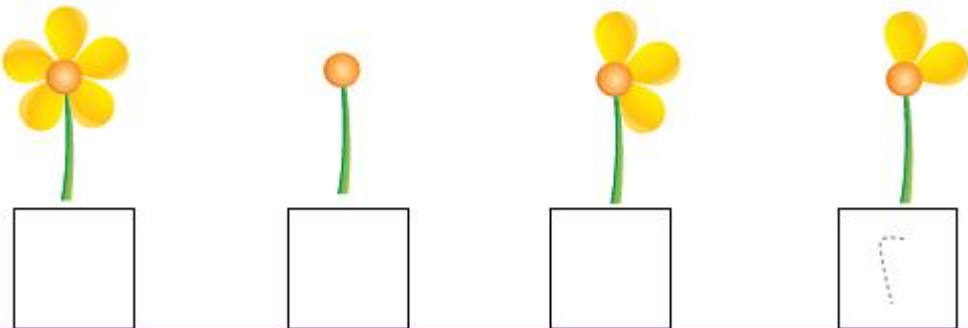
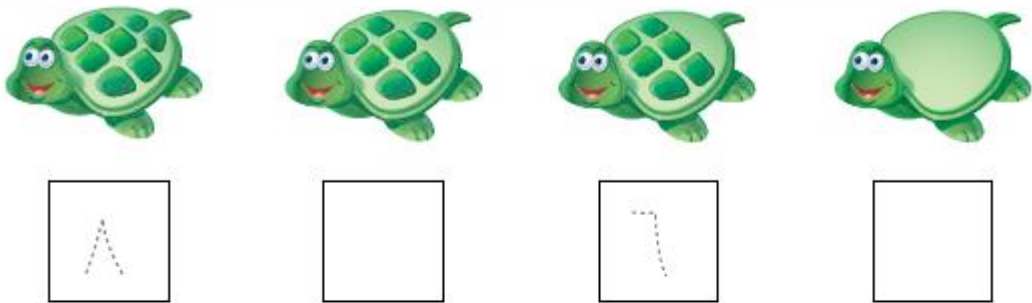
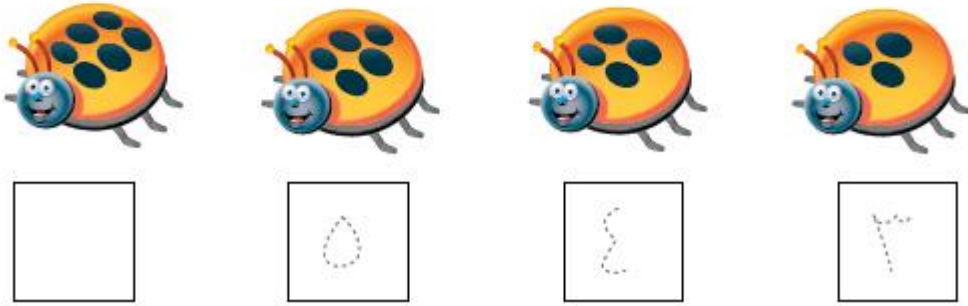
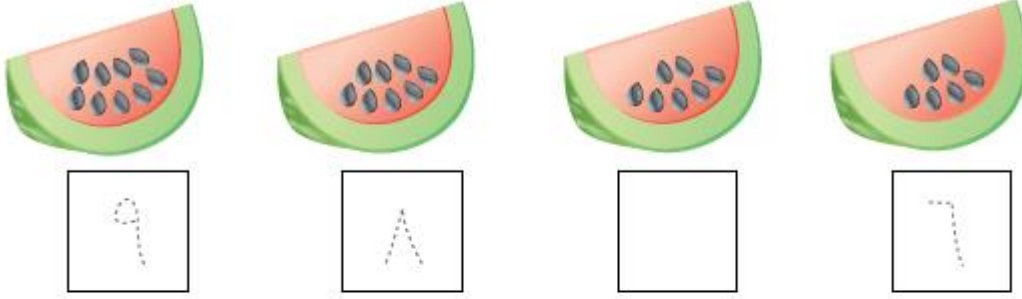


# بِسْمِ اللَّهِ الرَّحْمَنِ الرَّحِيمِ

الصف : الأول  
الحصة :  
الاسم :

المادة / رياضيات  
التاريخ / / / 14  
الموضوع / ترتيب الأعداد حتى 10

عد الأشياء ثم مرر قلمك على الأعداد المنقطة واكتب الأعداد المفقودة



# بِسْمِ اللَّهِ الرَّحْمَنِ الرَّحِيمِ

الصف : الأول  
الحصة :  
الاسم :

المادة / رياضيات  
التاريخ / / / 14  
الموضوع / العدد الترتيبي

اذكر ترتيب كل نسر وضع  على النسر السادس و  على النسر الثالث



# بِسْمِ اللَّهِ الرَّحْمَنِ الرَّحِيمِ


الصف : الأول  
الحصة :

المادة / رياضيات  
التاريخ / / / 14

الاسم :

الموضوع / الفصل الثالث ( الأعداد حتى 20 )

## عد الجزرات وحببات الفلفل واكتب عددها



# بِسْمِ اللَّهِ الرَّحْمَنِ الرَّحِيمِ

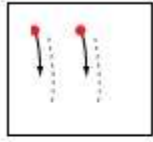
الصف : الأول  
الحصّة :

المادة / رياضيات  
التاريخ / / / 14

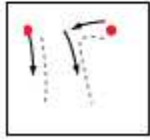
الاسم :

الموضوع / العدان 11 ، 12

عد الأشياء وانطق العدد ومرر قلمك على العدد المنقط واكتبه











# بِسْمِ اللَّهِ الرَّحْمَنِ الرَّحِيمِ

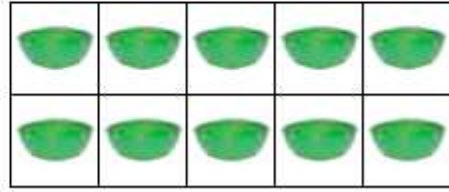

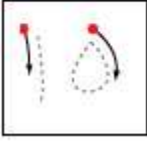


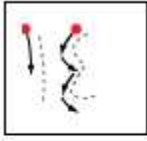
الصف : الأول  
الحصّة :

المادة / رياضيات  
التاريخ / / / 14

الاسم :

الموضوع / الأعداد 13 ، 14 ، 15

عد الأشياء وانطق العدد ومرر قلمك على العدد المنقط واكتبه





# بِسْمِ اللَّهِ الرَّحْمَنِ الرَّحِيمِ

الصف : الأول  
الحصّة :

المادة / رياضيات  
التاريخ / / / 14

الاسم :

الموضوع / أبحث عن نمط

## عد الريش ثم اكتب العدد وحدد النمط



# بِسْمِ اللَّهِ الرَّحْمَنِ الرَّحِيمِ



الصف : الأول  
الحصّة :

المادة / رياضيات  
التاريخ / / / 14





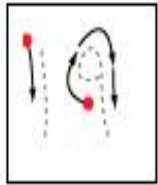
الاسم :

الموضوع / الأعداد 18 ، 19 ، 20

عد الأشياء واكتب العدد وتمرر قلمك على العدد المنقط واكتبه



1



3

# بِسْمِ اللَّهِ الرَّحْمَنِ الرَّحِيمِ





الصف : الأول  
الحصّة :


المادة / رياضيات  
التاريخ / / / 14

الاسم :

الموضوع / مقارنة الأعداد حتى 20

عد الأشياء في كل طبق و اكتب عددها وضعي × على العدد الذي يمثل المجموعة الأكبر

			
<input type="text"/>	<input type="text"/>	<input type="text"/>	<input type="text"/>



# بِسْمِ اللَّهِ الرَّحْمَنِ الرَّحِيمِ

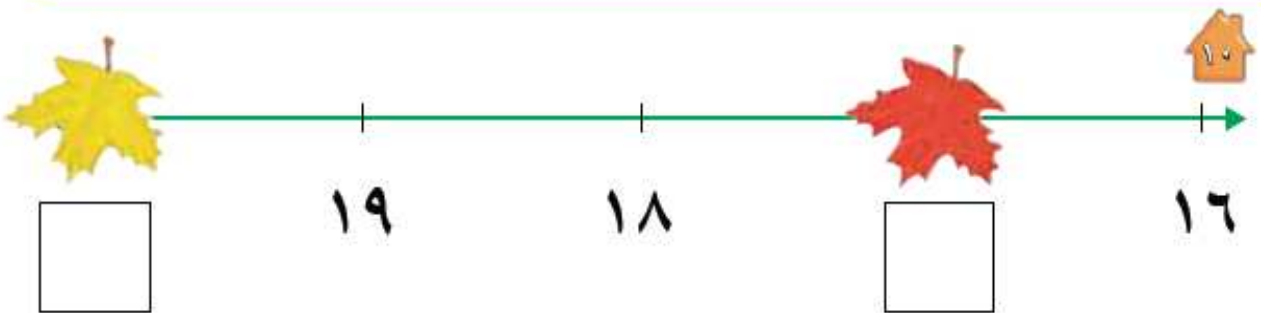
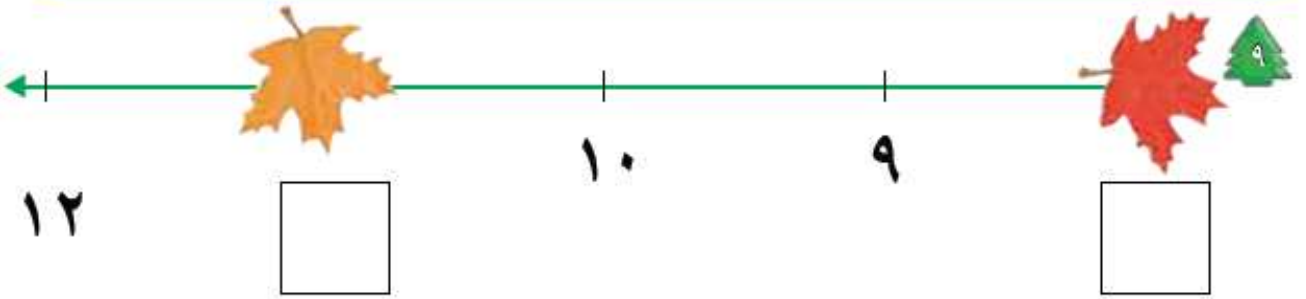
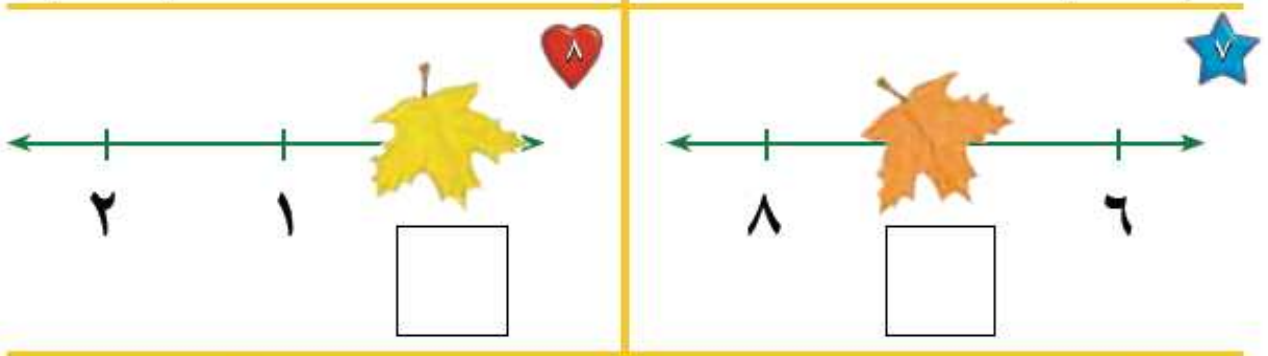
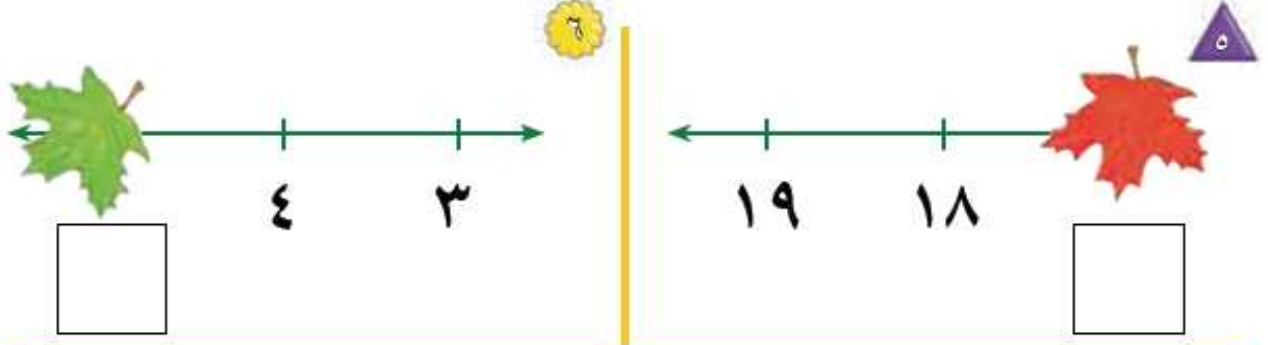
الصف : الأول  
الحصّة :

المادة / رياضيات  
التاريخ / / / 14

الاسم :

الموضوع / ترتيب العدد حتى 20 .

## أكتب العدد المفقود في الفراغ





# بِسْمِ اللَّهِ الرَّحْمَنِ الرَّحِيمِ


الصف : الأول  
الحصّة :

المادة / رياضيات  
التاريخ / / / 14

الاسم :

الموضوع / الفصل الرابع ( الجمع )

لاحظ الصورة واكتب عدد التفاحات



# بِسْمِ اللّٰهِ الرَّحْمٰنِ الرَّحِیْمِ

الصف : الأول  
الحصّة :

المادة / رياضيات  
التاريخ / / / 14

الاسم :

الموضوع / قصص الجمع

## احك قصة عددية مستعملاً قطع العدد واكتب عدد الحيوانات



٣

ثَعَالِبَ \_\_\_\_\_



٤

غَزَالًا \_\_\_\_\_



٥

فَرَّاشَةً \_\_\_\_\_

# بِسْمِ اللَّهِ الرَّحْمَنِ الرَّحِيمِ

الصف : الأول  
الحصة :

المادة / رياضيات  
التاريخ / / / 14

الاسم :

الموضوع / تمثيل الجمع

## استعمل ورقة العمل 3 وقطع العد لإيجاد ( الكل ) المجموع

جزء	جزء
٥	٤
الكل	



جزء	جزء
٢	٣
الكل	



جزء	جزء
٥	٥
الكل	



جزء	جزء
٢	٥
الكل	



جزء	جزء
٢	٤
الكل	



جزء	جزء
٣	١
الكل	



جزء	جزء
٣	٣
الكل	



جزء	جزء
٢	١
الكل	



# بِسْمِ اللَّهِ الرَّحْمَنِ الرَّحِيمِ

الصف : الأول  
الحصّة :

المادة / رياضيات  
التاريخ / / / 14

الاسم :

الموضوع / جمل الجمع

## استعمل المكعبات لتمثيل جملة الجمع واكتبها



— ( ) — ( ) —



— ( ) — ( ) —



— ( ) — ( ) —



— ( ) — ( ) —



— ( ) — ( ) —



— ( ) — ( ) —

# بِسْمِ اللَّهِ الرَّحْمَنِ الرَّحِيمِ

الصف : الأول  
الحصّة :

المادة / رياضيات  
التاريخ / / / 14

الاسم :

الموضوع / جمع الصفر

## اكتب ناتج الجمع



$$\underline{\quad} = 0 + 3$$



$$\underline{\quad} = 0 + 5$$



$$\underline{\quad} = 1 + 0$$



$$\underline{\quad} = 0 + 6$$

$$\underline{\quad} = 8 + 0$$



$$\underline{\quad} = 0 + 7$$



$$\underline{\quad} = 1 + 2$$



$$\underline{\quad} = 3 + 3$$





# بِسْمِ اللَّهِ الرَّحْمَنِ الرَّحِيمِ

الصف : الأول  
الحصّة :

المادة / رياضيات  
التاريخ / / / 14

الاسم :

الموضوع / أحل المسألة

## مثل قصص الجمع لإيجاد الناتج



$$\underline{\hspace{2cm}} = \underline{\hspace{2cm}} + \underline{\hspace{2cm}}$$



$$\underline{\hspace{2cm}} = \underline{\hspace{2cm}} + \underline{\hspace{2cm}}$$



$$\underline{\hspace{2cm}} = \underline{\hspace{2cm}} + \underline{\hspace{2cm}}$$

# بِسْمِ اللَّهِ الرَّحْمَنِ الرَّحِيمِ

الصف : الأول  
الحصّة :

المادة / رياضيات  
التاريخ / / / 14

الاسم :

الموضوع / تكوين الأعداد 4، 5، 6

استعمل قطع العد الكرة الحمراء والصفراء وضعهما في مجموعتين لتكوين العدد 4 ثم لون واكتب الأعداد

تكوّن العدد 4				
التّاج	مِساوي		زائد	
	=		+	
4	=	—	+	—
4	=	—	+	—



# بِسْمِ اللَّهِ الرَّحْمَنِ الرَّحِيمِ

الصف : الأول  
الحصّة :

المادة / رياضيات  
التاريخ / / / 14

الاسم :

الموضوع / تكوين الأعداد 7 ، 8 ، 9

استعمل قطع العد الكرة الحمراء والصفراء وضعهما في مجموعتين لتكوين العدان 8 ، 9 ثم  
لون واكتب الأعداد

# بِسْمِ اللَّهِ الرَّحْمَنِ الرَّحِيمِ

الصف : الأول  
الحصّة :

المادة / رياضيات  
التاريخ / / / 14

تكوّن العدد ٩				
الناتج	يُسَاوِي	زائد		
٩	=	— + —		
٩	=	— + —		
٩	=	— + —		
٩	=	— + —		
٩	=	— + —		
٩	=	— + —		
٩	=	— + —		



تكوّن العدد ٨				
الناتج	يُسَاوِي	زائد		
٨	=	— + —		
٨	=	— + —		
٨	=	— + —		
٨	=	— + —		
٨	=	— + —		
٨	=	— + —		
٨	=	— + —		



الاسم :

الموضوع / تكوين الأعداد 10 ، 11 ، 12

استعمل قطع العد الكرة الحمراء والصفراء ثم ارسم دوائر واكتب العدد

# بِسْمِ اللَّهِ الرَّحْمَنِ الرَّحِيمِ

الصف : الأول  
الحصة :

المادة / رياضيات  
التاريخ / / / 14




$$10 = \text{---} + \text{---}$$




$$10 = \text{---} + \text{---}$$




$$11 = \text{---} + \text{---}$$




$$11 = \text{---} + \text{---}$$




$$12 = \text{---} + \text{---}$$




$$12 = \text{---} + \text{---}$$




$$12 = \text{---} + \text{---}$$




$$11 = \text{---} + \text{---}$$

الاسم :

الموضوع / الجمع الرأسي

اكتب الأعداد ثم أوجد الناتج



بِسْمِ اللَّهِ الرَّحْمَنِ الرَّحِيمِ

الصف : الأول  
الحصة :

المادة / رياضيات  
التاريخ / / / 14



$$\begin{array}{r} \square \\ \square + \\ \hline \square \end{array}$$



$$\text{---} = \text{---} + \text{---}$$



$$\begin{array}{r} \square \\ \square + \\ \hline \square \end{array}$$



$$\text{---} = \text{---} + \text{---}$$

