

## اختبار الفصل السابع الفترة الأولى



### تم تحميل هذا الملف من موقع المناهج السعودية

موقع المناهج ← المناهج السعودية ← الصف الأول ← رياضيات ← الفصل الثاني ← ملفات متنوعة ← الملف

تاريخ إضافة الملف على موقع المناهج: 03:06:14 2026-02-18

ملفات اكتب للمعلم اكتب للطالب | اختبارات الكترونية | اختبارات | حلول | عروض بوربوينت | أوراق عمل  
منهج انجليزي | ملخصات وتقارير | مذكرات وبنوك | الامتحان النهائي | للمدرس

المزيد من مادة  
رياضيات:

إعداد: هدى علي كناني

### التواصل الاجتماعي بحسب الصف الأول



صفحة المناهج  
السعودية على  
فيسبوك

الرياضيات

اللغة الانجليزية

اللغة العربية

التربية الاسلامية

المواد على تلغرام

### المزيد من الملفات بحسب الصف الأول والمادة رياضيات في الفصل الثاني

أوراق عمل شاملة للمنهج

1

ورقة عمل قصص الطرح استعمال قطع العد

2

خطة توزيع المنهج

3

كتاب الرياضيات

4

اختبار نهائي الدور الأول

5

اختبار مادة : الرياضيات  
الصف : الأول الابتدائي  
الفترة : الأولى

المملكة العربية السعودية  
وزارة التعليم  
الإدارة العامة للتعليم بمحافظة .....  
الطفولة المبكرة بابتدائية .....

أسئلة اختبار مادة الرياضيات ( الفصل السابع ) للصف الأول الابتدائي ( الفصل الدراسي الثاني )

الدرجة : ..... / ٢٠

الصف : أول / .....

الاسم : .....

حل المسألة التالية :



كان على الخسن ٦ عصافير , طار ٣ منها .  
كم عصفوراً بقي على الغصن ؟ ..... عصافير.

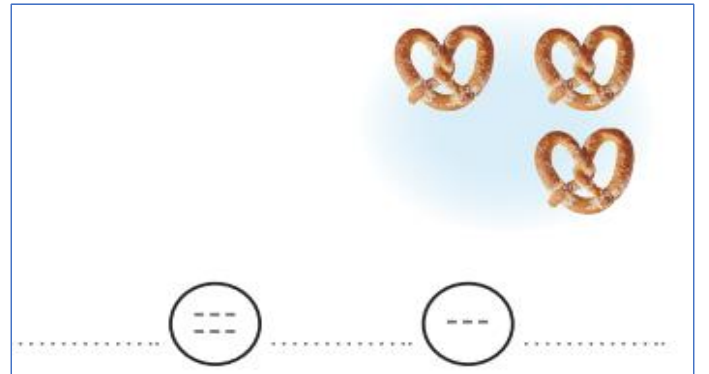
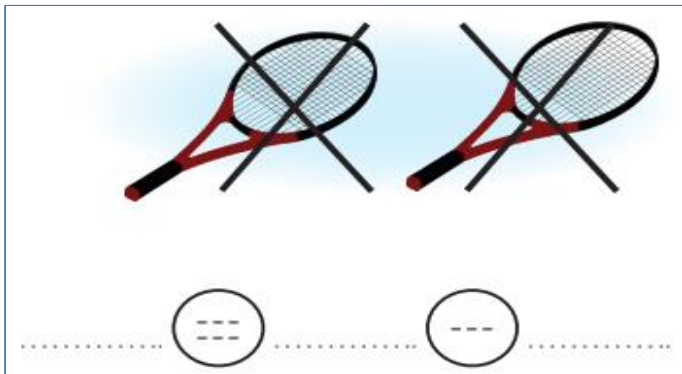
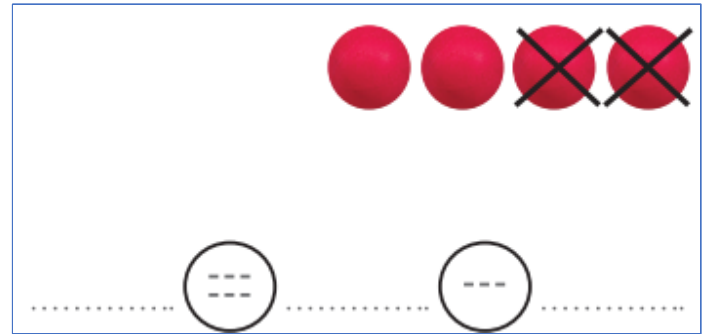
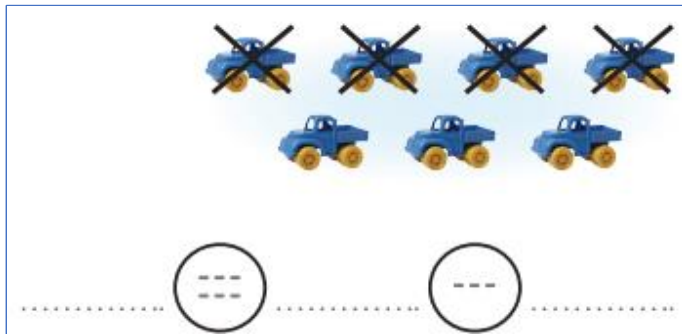
أوجد الجزء المتبقي :

جُزء	جُزء
	٣
الكل	
٧	

جُزء	جُزء
	٤
الكل	
٨	

جُزء	جُزء
	٥
الكل	
١٠	

أكتبُ جُمْلَ الطرح :



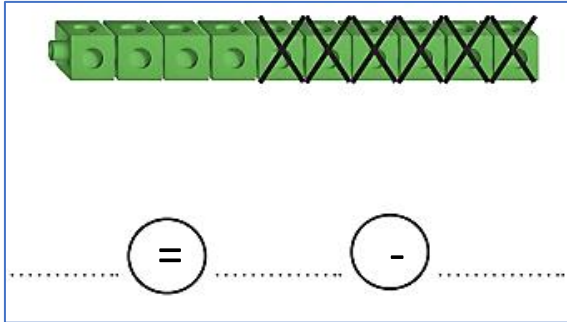
أكتبُ جُمل الطرح :

$$\dots\dots\dots = 9 - 9$$

$$\dots\dots\dots = 0 - 1$$

$$\dots\dots\dots = 0 - 5$$

$$\dots\dots\dots = 4 - 4$$



أكتبُ جُمل الطرح :

$$\dots\dots\dots = 1 - 5$$

$$\dots\dots\dots = 4 - 9$$

$$\dots\dots\dots = 3 - 10$$

أضع علامة X على النقاط المطروحة , لأجد ناتج الطرح رأسياً و أفقياً :

$$\begin{array}{r} 6 \\ 1 - \\ \hline \square \end{array}$$



$$\dots\dots\dots = 1 - 6$$

-----

$$\begin{array}{r} 3 \\ 2 - \\ \hline \end{array}$$

$$\underline{\hspace{2cm}} = 4 - 8$$

معلمة المادة : هدى على كناني