

## روابط مجموعات المناهج السعودية

كل ما يحتاجه الطالب في جميع الصفوف من أوراق عمل واختبارات ومذكرات, يجده هنا في الروابط التالية لأفضل مواقع المناهج السعودية:

القناة الرسمية لموقع المناهج السعودية : [www.almanahj.com/sa](http://www.almanahj.com/sa)

### روابط مجموعات الواتساب

[الصف الأول الابتدائي](#)

[الصف الثاني الابتدائي](#)

[الصف الثالث الابتدائي](#)

[الصف الرابع الابتدائي](#)

[الصف الخامس الابتدائي](#)

[الصف السادس الابتدائي](#)

[الصف الأول متوسط](#)

[الصف الثاني متوسط](#)

[الصف الثالث متوسط](#)

[الصف الأول الثانوي](#)

[الصف الثاني الثانوي العلمي](#)

[الصف الثاني الثانوي الأدبي](#)

[الصف الثالث الثانوي العلمي](#)

[الصف الثالث الثانوي الأدبي](#)

[مجموعة أخبار التربية](#)

### روابط قنوات التلغرام

[الصف الأول](#)

[الصف الثاني](#)

[الصف الثالث](#)

[الصف الرابع](#)

[الصف الخامس](#)

[الصف السادس](#)

[الصف الأول متوسط](#)

[الصف الثاني متوسط](#)

[الصف الثالث متوسط](#)

[الصف الأول الثانوي](#)

[الصف الثاني الثانوي الأدبي](#)

[الصف الثاني الثانوي العلمي](#)

[الصف الثالث الثانوي الأدبي](#)

[الصف الثالث الثانوي العلمي](#)

[المناهج السعودية](#)


ورقة عمل ( التصنيف وفق خاصية واحدة )

السؤال الأول : ارسم دائرة حول المجموعة التي عناصرها متشابهة ؟

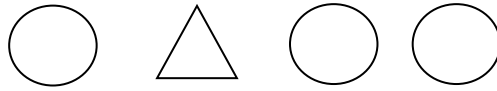


السؤال الثاني : أين أعيش ؟


تعيش في الماء    تعيش في الماء واليابسة    تعيش في اليابسة



السؤال الثالث : ارسم دائرة حول الشيء المختلف ؟




السؤال الرابع : لون الدائرة أسفل الشيء الأصغر ؟




أتقن	لم يتقن	ملحوظات المعلم	توقيع ولي الأمر

ورقة عمل ( التصنيف وفق أكثر من خاصية )

السؤال الأول: ارسم ○ حول الأشياء المتماثلة × على الأشياء المختلفة ؟



السؤال الثاني: ضع إشارة × على الشيء المختلف ؟



[almanahj.com/sa](http://almanahj.com/sa)

السؤال الثالث: ارسم ○ حول الأشياء المتماثلة في الشكل والقياس ؟



السؤال الرابع: لون الجوارب باللون الأحمر ثم ارسم ○ حول شيئين متماثلين في الحجم واللون ؟



أنتن	لم يتنن	ملحوظات المعلم	توقيع ولي الأمر

ورقة عمل ( أكثر من وأقل من ويساوي )

السؤال الأول : ارسم شمساً لكل هلال بحيث يكون للمجموعتين العدد نفسه ؟



السؤال الثاني : صل بخط بين كل شيئين في كلتا المجموعتين ولون المجموعة التي عددها أكثر ؟



[almanahj.com/sa](http://almanahj.com/sa)

السؤال الثالث : صل بخط بين كل شيئين في كلتا المجموعتين ولون المجموعة التي عددها أقل ؟



السؤال الرابع : ارسم سمكة لكل حوض بحيث يكون للمجموعتين العدد نفسه ؟



أنتن	لم يتقن	ملحوظات المعلم	توقيع ولي الأمر

ورقة عمل (الأعداد ١-٢-٣)

السؤال الأول: أخط الإجابة الصحيحة؟



(١ ، ٢ ، ٣)



(١ ، ٢ ، ٣)



السؤال الثاني: ضع علامة  $\checkmark$  أمام العبارات الصحيحة وعلامة  $\times$  أمام غيرها؟

أ) الأعداد ٢-٣-١ مرتبة ترتيباً صحيحاً

ب) عدد السمك المرسوم أمامك  (٢) 

ج) عدد الكرات المرسومة  (٣)

السؤال الثالث: أعد الأشياء التالية واكتب العدد؟



{ }



{ }



{ }

السؤال الرابع: أكمل الجدول يا بطل بتكرار كتابة العدد؟

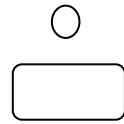
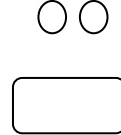
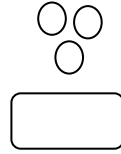
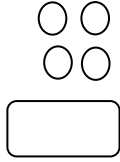
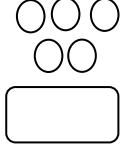
						١
						٢
						٣

أتقن	لم يتقن	ملحوظات المعلم	توقيع ولي الأمر



ورقة عمل ( الأعداد ٤ و ٥ )

السؤال الأول : تمثل الدوائر أعداداً مرتبة . اكتب عددها ؟



السؤال الثاني: صل بين كل مجموعة من الصور والعدد المناسب لها ؟



١



٣

almanahj.com/sa




٢



٤



٥



السؤال الثالث : أكمل الجدول يا بطل بتكرار كتابة العدد ؟

						٣
						٤
						٥

أُتقن	لم يتقن	ملحوظات المعلم	توقيع ولي الأمر



ورقة عمل ( فوق وتحت )

السؤال الأول : لون القلم الذي في الأعلى باللون الأزرق والذي في الوسط باللون الأحمر والذي في الأسفل باللون الأخضر ؟



السؤال الثاني : ضع  حول العربة التي في الأسفل ولون العربة التي في الوسط وضع  على العربة التي في الأعلى ؟

almanahj.com/sa




السؤال الثالث : لون الحصان الذي يأتي بعد البقرة ؟



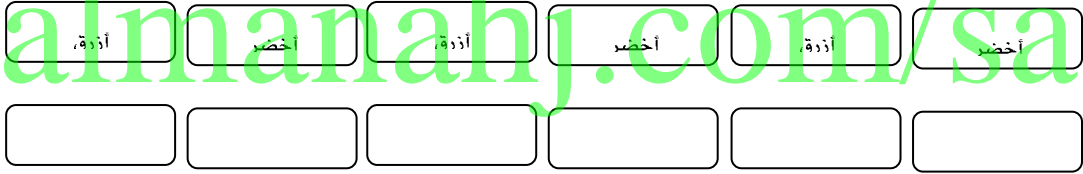
توقيع ولي الأمر	ملحوظات المعلم	لم يتقن	أتقن

ورقة عمل ( الأنماط )

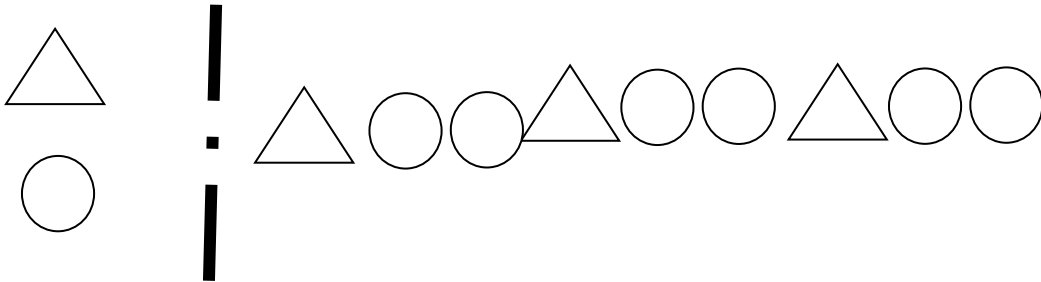
السؤال الأول : لون الأشكال أعلى القلوب بالأحمر والأشكال أسفل القلوب باللون الأزرق ؟



السؤال الثاني : أجد النمط ولون المربعات لتوضيحه ؟



السؤال الثالث : ارسم دائرة حول الشكل التالي في النمط ؟



توقيع ولي الأمر	ملحوظات المعلم	لم يتقن	أتقن





ورقة عمل ( أعلى وأوسط وأسفل )

السؤال الأول :



- أ) ارسم ٣ عصافير تطير فوق الشجرة ؟  
ب) ارسم عشباً تحت الشجرة ؟  
ج) ارسم أرنبين على العشب تحت الشجرة ؟  
د) ارسم الشمس فوق الشجرة ؟

السؤال الثاني : أكمل الجدول يا بطل بتكرار كتابة العدد ؟

						١
						٢
						٣
						٤
						٥

أتقن	لم يتقن	ملحوظات المعلم	توقيع ولي الأمر

ورقة عمل ( الأعداد ٦-٧-٨ )


السؤال الأول : صل بخط بين كل مجموعة والعدد المناسب لها ؟



٦


٧

٨



السؤال الثاني : أخط الإجابة الصحيحة ؟  
almanahj.com/sa

(٧، ٦، ٥، ٤)



(أ) عدد الأحصنة المرسومة أمامك

(٧، ٦، ٥، ٤)

(ب) عدد الأجزاء المظلمة




السؤال الثالث : أكمل الجدول يا بطل بتكرار كتابة العدد ؟

							٦
							٧
							٨

أنتن	لم يتقن	ملحوظات المعلم	توقيع ولي الأمر

ورقة عمل (الأعداد ٩ و ١٠)

السؤال الأول : اكتب العدد المناسب في



السؤال الثاني : لون بحسب العدد ؟



السؤال الثالث : أكمل الجدول يا بطل بتكرار كتابة العدد ؟




						٨
						٩
						١٠

أتقن	لم يتقن	ملحوظات المعلم	توقيع ولي الأمر



ورقة عمل (ترتيب الأعداد حتى ١٠)

السؤال الأول: ارسم صورة بحسب العدد ٩

٨		
٩		
١٠		

السؤال الثاني: عد إلى ١٠ واكتب الأعداد المفقودة ٩

أ- ..... ٢ ١ ..... ٧ ٦ ٥ .....

ب- ..... ١ ..... ٤ ..... ٦ ٧ ..... ٩ .....  
almanahj.com/sa

ج- ..... ٢ ٢ ..... ٥ ..... ٨ ..... ٩

السؤال الثالث:

أ) أنا عدد بين العددين ٦، ٨،

ب) أنا عدد أكبر من ٨


ج) أنا عدد أصغر من ٢

د) أنا عدد أكبر من ٥ أصغر من ٧

أُتقن	لم يتقن	ملحوظات المعلم	توقيع ولي الأمر

ورقة عمل (الأعداد من ١١ إلى ١٦)

السؤال الأول : أحط الإجابة الصحيحة ؟



( ١٤ - ١٣ - ١٢ - ١١ )



( ١٤ - ١٣ - ١٢ - ١١ )



( ١٤ - ١٣ - ١٢ - ١١ )

السؤال الثاني : عد الأشياء التالية واكتب عددها ؟



السؤال الثالث : أكمل الجدول التالي بتكرار كتابة الأعداد ؟

						١١
						١٢
						١٣
						١٤
						١٥
						١٦

أُتقن	لم يتقن	ملحوظات المعلم	توقيع ولي الأمر



ورقة عمل (الأعداد من ١٨ إلى ٢٠)

السؤال الأول : لون بحسب العدد ؟

١٨


١٧


١٩


almanahj.com/sa

٢٠


السؤال الثاني : أخط الإجابة الصحيحة ؟



(٢٠ - ١٩ - ١٨ - ١٧)

السؤال الثالث : أكمل الجدول يا بطل بتكرار كتابة العدد ؟

									١٧
									١٨
									١٩
									٢٠

أتقن	لم يتقن	ملحوظات المعلم	توقيع ولي الأمر



ورقة عمل (مقارنة الأعداد حتى ٢٠)

السؤال الأول: أعد الأشياء الموجودة في كل مجموعة واكتب العدد وارسم دائرة حول العدد الأقل ومربعاً حول العددين المتساويين؟



.....



.....



.....

almanahj.com/sa

السؤال الثاني: اكتب الأعداد المفقودة؟

١٧ ○ ١٥ ○ ١٣ ١٢ (أ)

١٥ ١٤ ○ ○ ١١ ١٠ (ب)

٩ ○ ○ ٦ ٥ ○ (ج)

توقيع ولي الأمر	ملحوظات المعلم	لم يتقن	أتقن



ورقة عمل (نشاط صفي)

أكمل الجدول يا بطل بتكرار كتابة العدد ؟

									٠
									١
									٢
									٣
									٤
									٥
									٦
									٧
									٨
									٩
									١٠
									١١
									١٢
									١٣
									١٤
									١٥
									١٦
									١٧
									١٨
									١٩
									٢٠





ورقة عمل ( جمل الجمع )

السؤال الأول: أخط الاجابة الصحيحة ؟

( ٨ ، ٧ ، ٦ ، ٥ )

( أ ) = ٥ + ٥



( ٨ ، ٧ ، ٦ ، ٥ )

( ٨ ، ٧ ، ٦ ، ٥ )

( ج ) = ٦ + ٢

( ٨ ، ٧ ، ٦ ، ٥ )



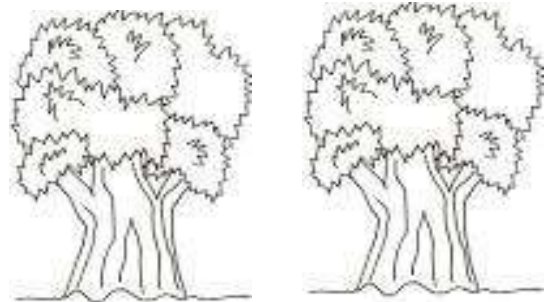
السؤال الثاني: اختر من العمود (أ) ما يناسبه من (ب) ؟

almanahj.com/sa

ب	أ
٨	= ٣ + ٢
٥	= ٦ + ١
٦	
٧	
٩	= ٥ + ٨
٢	

السؤال الثالث: ارسم ٥ تفاحات على الشجرة الأولى و ٢ على الثانية ثم اكتب عدد التفاحات التي على الشجرتين معاً ؟

=  +



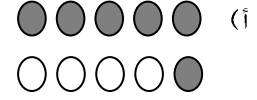
توقيع ولي الأمر	ملحوظات المعلم	لم يتقن	أتقن



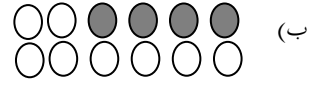
ورقة عمل ( تدرّيات على الجمع )

السؤال الأول: اكتب العدد المناسب في

$$١٠ = \boxed{\phantom{00}} + \boxed{\phantom{00}}$$



$$١٢ = \boxed{\phantom{00}} + \boxed{\phantom{00}}$$



$$\boxed{\phantom{00}} = ١ + ٣ \text{ (ج)}$$

المنهجية.com/sa

السؤال الثاني: اكتب + أو =

(أ)

$$\boxed{\phantom{00}} = \boxed{٢} \text{ } \boxed{٤}$$

(ب)

$$\boxed{\phantom{00}} = \boxed{٤} \text{ } \boxed{٦}$$

(ج)

$$\boxed{٥} \text{ } \boxed{٢} + \boxed{٣}$$

(د)

$$\boxed{\phantom{00}} \text{ } \boxed{١} + \boxed{١}$$

أُتقن	لم يتقن	ملحوظات المعلم	توقيع ولي الأمر