

## اختبار الطرح 1444هـ



### تم تحميل هذا الملف من موقع المناهج السعودية

موقع المناهج ← المناهج السعودية ← الصف الأول ← رياضيات ← الفصل الثاني ← ملفات متنوعة ← الملف

تاريخ إضافة الملف على موقع المناهج: 2026-02-20 14:54:59

ملفات اكتب للمعلم اكتب للطالب ا اختبارات الكترونية ا اختبارات ا حلول ا عروض بوربوينت ا أوراق عمل  
منهج انجليزي ا ملخصات وتقارير ا مذكرات وبنوك ا الامتحان النهائي ا للمدرس

المزيد من مادة  
رياضيات:

### التواصل الاجتماعي بحسب الصف الأول



صفحة المناهج  
السعودية على  
فيسبوك

الرياضيات

اللغة الانجليزية

اللغة العربية

التربية الاسلامية

المواد على تلغرام

### المزيد من الملفات بحسب الصف الأول والمادة رياضيات في الفصل الثاني

اختبار الفترة الأولى 1447هـ غير محلول	1
اختبار الفصل السابع الفترة الأولى	2
أوراق عمل شاملة للمنهج	3
ورقة عمل قصص الطرح استعمال قطع العد	4
خطة توزيع المنهج	5


اختبار : مادة الرياضيات  
فصل : الطرح  
للفص : الأول ابتدائي  
لعام ١٤٤٤

المملكة العربية السعودية  
وزارة التعليم  
ادارة التعليم بمحافظة  
مدرسة :

الصف : أولى / .....

الإسم : .....

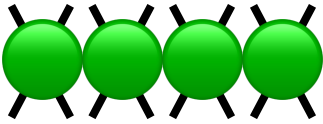
س١: اكتب العدد المتبقي .



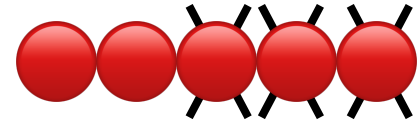
كَانَ عَلَى الْغُصْنِ ٦ عَصَافِيرَ، طَارَ ٣ مِنْهَا.  
كَمْ عُصْفُورًا بَقِيَ عَلَى الْغُصْنِ؟

عَصَافِيرَ .....

س٢: اكتب جملة الطرح .



— ○ — ○ —



— ○ — ○ —

س٣: أجد ناتج الطرح :

$$.... = 10 - 11 \quad \blacksquare$$

$$.... = 4 - 12 \quad \blacksquare$$

$$.... = 6 - 9 \quad \blacksquare$$

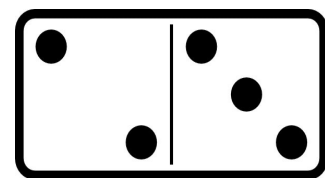
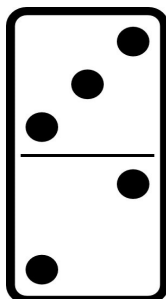
$$.... = 5 - 10 \quad \blacksquare$$

$$.... = 0 - 2 \quad \blacksquare$$

$$.... = 3 - 7 \quad \blacksquare$$

س٤: أوجد ناتج الطرح رأسياً وأفقياً :

$$\begin{array}{r} 4 \\ 6 \\ \hline \square \end{array}$$



$$..... = 5 - 8$$