

أوراق عمل مدرسة صلاح الدين الأيوبي مع الإجابة النموذجية



تم تحميل هذا الملف من موقع المناهج القطرية

موقع المناهج ← المناهج القطرية ← الصف التاسع ← اجتماعيات ← الفصل الأول ← ملفات متنوعة ← الملف

تاريخ إضافة الملف على موقع المناهج: 14:46:15 2025-12-13

ملفات اكتب للمعلم اكتب للطالب | اختبارات الكترونية | اختبارات | حلول | عروض بوربوينت | أوراق عمل
منهج انجليزي | ملخصات وتقارير | مذكرات وبنوك | الامتحان النهائي | للمدرس

المزيد من مادة
اجتماعيات:

إعداد: مدرسة صلاح الدين الأيوبي

التواصل الاجتماعي بحسب الصف التاسع



صفحة المناهج
القطرية على
فيسبوك

الرياضيات

اللغة الانجليزية

اللغة العربية

التربية الاسلامية

المواد على تلغرام

المزيد من الملفات بحسب الصف التاسع والمادة اجتماعيات في الفصل الأول

أوراق عمل وتدريبات اثرائية نهاية الفصل غير مجابة

1

أوراق عمل وتدريبات نهاية الفصل غير مجابة

2

ورقة عمل الديمقراطية ومبادئها مدرسة سعيد بن زيد غير مجابة

3

أوراق عمل مدرسة الأندلس نهاية الفصل غير مجابة

4

ورقة عمل الوحدة الخامسة مدرسة سعيد بن زيد غير مجابة

5

السؤال الأول : اختر الإجابة الصحيحة بوضع علامة (x) داخل المربع :

1. كلمة اغريقية قديمة وتعني حكم الشعب لنفسه .

ج ☐ التعددية

أ ☒ الديمقراطية

د ☐ الاشتراكية

ب ☐ الحرية

2. الديمقراطية التي يكون فيه الشعب مصدر السلطات وله حق ممارستها .

المباشرة ☒

أ ☐ النيابية

د ☐ شبه المباشرة

ب ☐ غير مباشرة

3. الإقرار بالاختلاف والتعايش بين الافراد في اطار احترام التنوع وحرية الآخر " يعبر المفهوم عن :

ج ☐ القانون

أ ☐ الديمقراطية

د ☐ الحرية

أ ☒ التعددية

4. من مظاهر التعددية :

ج ☐ سيادة القانون

أ ☐ الفصل بين السلطات

وجود الأحزاب ☒

ب ☐ اصدار الدستور

5. تم الاستفتاء على الدستور القطري عام :

ج ☐ 2002م

أ ☐ 2001 م

د ☐ 2004م

أ ☒ 2003م

6. اصدر صاحب السمو الشيخ حمد بن خليفة ال ثاني الدستور الدائم لدولة قطر عام :

ج ☐ 2003م

أ ☐ 2001م

2004م ☒

ب ☐ 2002م

الاسم: الصف: التاسع

7. يتولى السلطة التشريعية ويمارس الرقابة على السلطة التنفيذية :

- ☐ مجلس الشورى ☐ المجلس البلدي المركزي
☐ وزارة الداخلية ☐ مجلس العدل

8. ساعد على حرية الرأي والتعبير في دولة قطر :

- ☐ انشاء مجلس الوزراء ☐ انشاء مجلس الشورى
☐ انشاء ديوان الخدمة ☐ الغاء الرقابة على وسائل الاعلام

9. عدد أعضاء المجلس البلدي المركزي في قطر :

- ☐ 19 ☐ 39
☐ 29 ☐ 49

10. يعد الاستفتاء على الدستور القطري صورة من الديمقراطية :

- ☐ المباشرة ☐ غير مباشرة
☐ شبه مباشرة ☐ النيابية

ثانيا: اجب عن الأسئلة التالية:

1. عرف الديمقراطية .

كلمة اغريقية قديمة . حكم الشعب لنفسه

2. اذكر مبادئ الديمقراطية .

- أ. مبدأ الحرية
ب. مبدأ التعددية

3. يتمتع المواطن القطري بأنواع متعددة من الحرية عددها .

1- الحرية الشخصية

2- حرية الرأي والبحث العلمي

3 - حرية الصحافة والطباعة والنشر

4 بم تفسر أهمية الدستور الدائم لدولة قطر .

1- يُرسي الدعائم الأساسية للمجتمع.

2 - يجسد المشاركة الشعبية في اتخاذ القرار

3-يضمن الحقوق والحريات لابناء الوطن

5 عدد مظاهر الديمقراطية في دولة قطر .

أ - الاستفتاء على الدستور عام 2003م

ب- اصدار الدستور الدائم عام 2004م

ج- مجلس الشورى

د- إلغاء الرقابة على وسائل الاعلام

هـ - انتخاب المجلس البلدي

6 دلل على تطبيق الديمقراطية في دولة قطر .

1-الاستفتاء على الدستور 2003

2-اصدار الدستور الدائم 2004م

3-إلغاء الرقابة على وسائل الاعلام

7 ما النتائج المترتبة على إلغاء الرقابة على وسائل الاعلام .

1-تربية الجيل اجتماعياً وثقافياً وسياسياً.

2-رفع الوعي بقضايا المجتمع المحلي والعالمي

3- حرية الصحافة والطباعة والنشر مكفولة بالقانون

السؤال الأول : اختر الإجابة الصحيحة بوضع علامة (x) داخل المربع :-

1. أكثر العوامل الخارجية تأثيراً في تشكيل سطح الأرض بالمناطق الصحراوية.
- أ ☐ الحرارة ☐ ج ☐ الأمطار
- ب ☒ الرياح ☐ د ☐ التجمد
2. تفتت وتحلل الصخور مع بقائها في مكانها يقصد به:
- أ ☒ التجوية ☐ ج ☐ التجوية الكيميائية
- ب ☐ التجوية الميكانيكية ☐ د ☐ التعرية
3. تفتت وتحلل الصخور دون حدوث تغير في التركيب المعدني للصخور يقصد به:
- أ ☐ التجوية ☐ ج ☐ التجوية الكيميائية
- ب ☒ التجوية الميكانيكية ☐ د ☐ التعرية
4. حدوث تغيرات في التركيب المعدني للصخور مع بقائها في مكانها يقصد به :
- أ ☐ التجوية ☒ ج ☐ التجوية الكيميائية
- ب ☐ التجوية الميكانيكية ☐ د ☐ التعرية
5. من العوامل المؤدية إلى التجوية الميكانيكية:
- أ ☒ التجمد ☐ ج ☐ الأكسدة
- ب ☐ الازابة ☐ د ☐ الرطوبة
6. من العوامل المؤدية إلى التجوية الكيميائية :
- أ ☐ التجمد ☐ ج ☐ الكائنات الحية
- ب ☐ الحرارة ☒ د ☐ الازابة
7. تفاعل الاكسجين المذاب مع معادن الصخور يقصد به .
- أ ☐ الازابة ☒ ج ☐ الأكسدة
- ب ☐ التملح ☐ د ☐ التصحر

الاسم: الصف: التاسع

8 من اشكال النحت الجليدي؟

- الفيرورات ☐ ج الجنادل
الشلالات ☐ د الكهوف البحرية

9 نحت ونقل وارساب مكونات سطح الأرض بفعل تأثير العوامل الطبيعية يشير المفهوم الى :

- التعرية ☐ ج التجوية
الالتواءات ☐ د الانكسارات

10 نتيجة لنحت الرياح للصخور تتشكل الصخور مكونة:

- الجروف الساحلية ☐ أ الكثبان الهلالية
الكهوف الصحراوية ☐ ج المسلات البحرية
أكثر عوامل تشكيل سطح الأرض في المناطق الرطبة . ☐ د

- الأنهار ☐ ج الأمواج
الامطار ☐ د الندى .

12 نتيجة هبوب الرياح في اتجاه واحد تنشأ :

- الكثبان الهلالية ☐ ج الكثبان الطولية
الشواطئ الرملية ☐ ب اللسنة الرملية

ثانياً: اجب عن الأسئلة التالية:

1. وضح العوامل المؤدية للتجوية الميكانيكية.

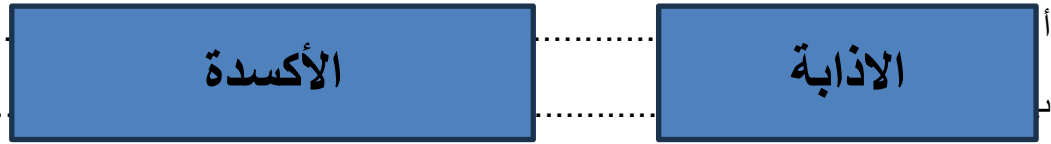
أ – اختلاف درجات الحرارة : تمدد الصخر وانكماش ينكسر الصخر

ب- التجمد : زيادة حجم الماء في الشقوق تكسر الصخر

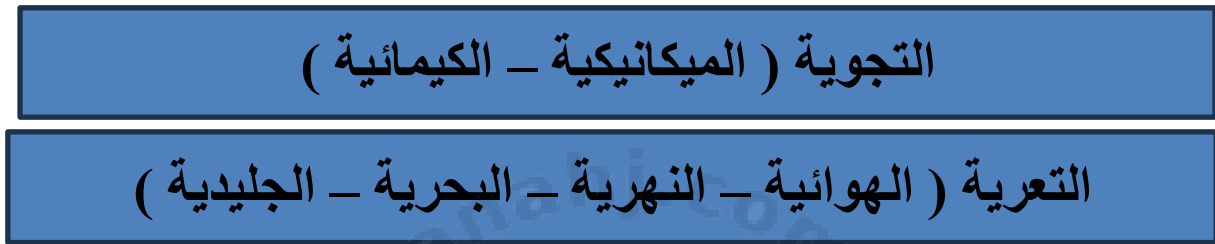
ج - الكائنات الحية: الانسان ، الحيوانات ، النباتات

الاسم: الصف: التاسع

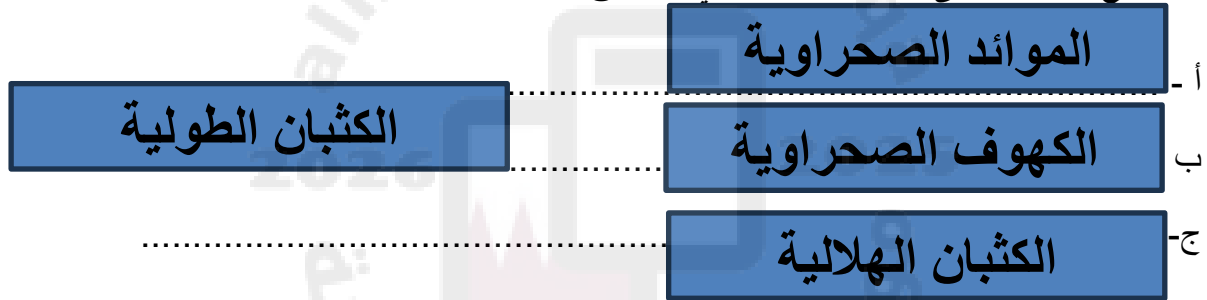
2. اذكر العوامل المؤدية للتجوية الكيميائية .



3. عدد العوامل الخارجية المؤثرة في تشكيل سطح الأرض



4. ماالنتائج المترتبة على التعرية الهوائية في المناطق الصحراوية .



5 - قارن بين التعرية النهرية والتعرية البحرية من حيث الاشكال الناتجة عن (النحت – الارساب)

المقارنة	التعرية النهرية	التعرية البحرية
النحت	الشلالات	الجروف الساحلية
	الجنادل	الكهوف الساحلية
الارساب	السهول الفيضية	الشواطئ الرملية
	الدلتاوات	الالسنه البحرية

الاسم: الصف: التاسع

6- قارن بين الشلالات والدلتاوات من حيث التكوين :

الشلالات	الدلتاوات
نحت نهري	ارساب نهري
سقوط الماء من المنطقة المرتفعة الصلبة الى المنطقة المنخفضة اللينة	ترسب الأنهار حملتها عند المصب

7: أوجه الشبه والاختلاف بين الشواطىء الرملية والالسنه الرملية البحرية .

المقارنة	الشواطىء الرملية	الالسنه الرملية
الشبه	ارساب بحري	ارساب بحري
الاختلاف	جانب البحر مباشرة	شريط طولي متصل مع اليابسة

8- وضح دور الانسان في عمليات تفكيك الصخور .

- 1 - شق الطرق
- 2 - حفر الانفاق والمناجم
- 3 - المحاجر
- 4 - قطع الأشجار

الاسم:

الصف: التاسع

9- فسر مايلي :

1- تكون الموائد الصحراوية في المناطق الصحراوية

نتيجة نحت الرياح للصخور السفلية اللينة وبقاء الصخور العليا الصلبة

2- تكون الدحول في دولة قطر

نتيجة ذوبان الحجر الجيري

3 _ تكسر الصخور بفعل النباتات .

نمور جذور النبات يكسر الصخور

4 _ تكون الفيوردات .

نتيجة النحت الجليدي للسواحل البحرية

5- تكسر الصخور في المناطق الباردة .

تمدد الصخر بالحرارة وانكماشه بالبرد ينكسر الصخر

6- تأكسد الصخور .

نتيجة تفاعل الاكسجين المذاب مع معادن الصخور

7- تشكل الجنادل في مجرى الأنهار .

نتيجة اختلاف صخور مجرى النهر

8- تشكل فجوات او فتحات صخرية في البحار .

نتيجة نحت أمواج البحر للجروف الساحلية

أولاً: اختر الإجابة الصحيحة بوضع علامة (x) داخل المربع:

1. بنى مدينة روما عام 753 ق.م القائد .

- | | | | |
|-------------------------------------|---------|---|----------|
| أ | بطلмос | ج | اكتافيوس |
| <input checked="" type="checkbox"/> | رومولوس | د | قسطنطين |

2. أي من الشعوب الأتية كونت الحضارة الرومانية في بدايتها .

- | | | | |
|-------------------------------------|------------|---|----------|
| أ | اللاتينيين | ج | الاغريق |
| <input checked="" type="checkbox"/> | الفينيقيين | د | الفراعنة |

3. ساهمت جبال الألب في حماية الحضارة الرومانية من غزوات .

- | | | | |
|-------------------------------------|------------|---|----------|
| أ | الفينيقيين | ج | الفراعنة |
| <input checked="" type="checkbox"/> | القرطاجية | د | الشمال |

4. أهم قادة العصر الجمهوري .

- | | | | |
|---|---------------|---|-------------|
| أ | يوليوس التاسع | ج | يوليوس قيصر |
| ب | قيصر روما | د | لويس السادس |

5. بدأ العصر الامبراطوري في الحضارة الرومانية بسيطرة القائد .

- | | | | |
|-------------------------------------|----------|---|-------|
| أ | زيوس | ج | أزوري |
| <input checked="" type="checkbox"/> | اكتافيوس | د | أمون |

6. سقطت الإمبراطورية الرومانية الشرقية على يد القائد العثماني .

- | | | | |
|---|-----------------|-------------------------------------|-------------------|
| أ | سليم الأول | ج | عبد الحميد الثاني |
| ب | سليمان القانوني | <input checked="" type="checkbox"/> | محمد الفاتح |

الاسم: الصف: التاسع

7 أصحاب المناصب العليا في المجتمع ويتمتع بكل الحقوق .

- أ ☐ التجار
ب ☐ الحرفيين
ج ☐ المزارعين
د ☐ النبلاء

8 قامت حروب كبيرة بين روما وقرطاجة للسيطرة على البحر .

- ☐ المتوسط
ب ☐ الشمال
ج ☐ الأحمر
د ☐ الأسود

9 تم الاعتراف بالديانة المسيحية وفقاً لمرسوم :

- ☐ ميلان
ب ☐ روما
ج ☐ برلين
د ☐ صقلية

ثانياً: بم تفسر:

1. نقل العاصمة الرومانية من روما إلى القسطنطينية؟

- 1- ضعف مدينة روما وبعدها عن الإمبراطورية الواسعة
- 2- الأهمية الاستراتيجية بين اسيا وأوروبا

2. قيام الحرب بين روما وقرطاجة ؟

- 1 - للسيطرة على طريق تجارة البحر المتوسط
- 2 - التنافس على الموانئ التجارية

3. صدور مرسوم ميلان في عهد الإمبراطور قسطنطين ؟

- 1 - وقف اضطهاد المسيحيين
- 2 - الاعتراف بالديانة المسيحية

4 ازدهار التجارة في عصر الدولة الرومانية .

- 1 - اسطول تجاريا كبيرا
- 2-السيطرة على طريق التجارة البحر المتوسط
- 3 - علاقات تجارية مع الهند
- 4 - يصدرون الزيتون

ثالثاً : أجب عن الأسئلة الآتية

1. عوامل قيام الحضارة الرومانية .

- 1 - الموقع الجغرافي
- 2 - المناخ المعتدل
- 3 - التضاريس
- 4- الموارد الطبيعية

2. وضح ملامح العصر الامبراطوري عند الرومان .

- 1 - سيطرة اكتافايوس على الحكم
- 2 - بناء القسطنطينية عاصمة جديدة للبلاد
- 3- انهيار الإمبراطورية الرومانية الشرقية على يد العثمانيين

3. دلل . للتضاريس دور هام في الحضارة الرومانية .

- 1 - السهول أهميتها في الزراعة
- 2 - جبال الالب وحماية البلاد من غزوات الشمال

4. عدد أنظمة الحكم في الإمبراطورية الرومانية .

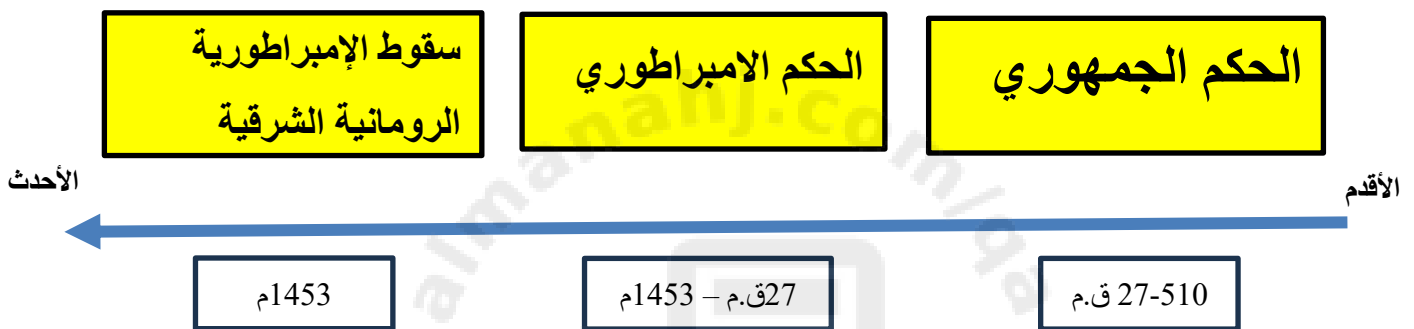
- 1 - الحكم الملكي
- 2 - الحكم الجمهوري
- 3- الحكم الامبراطوري

الاسم: الصف: التاسع

5

رتب الأحداث التاريخية التالية على الخط الزمني من الأقدم إلى الأحدث .

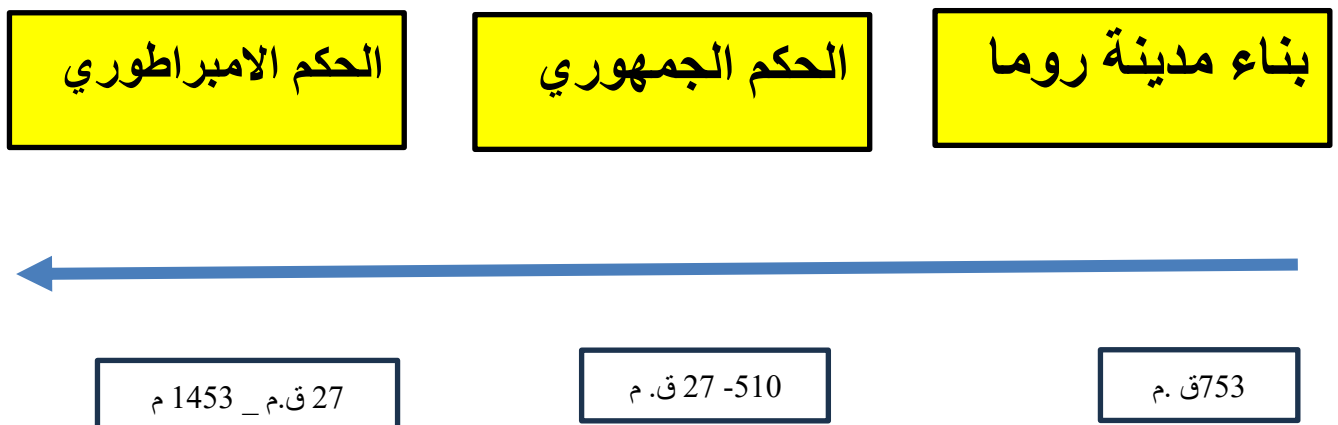
(سقوط الإمبراطورية الرومانية الشرقية - الحكم الجمهوري - الحكم الامبراطوري)



6

رتب الأحداث التاريخية التالية على الخط الزمني من الأقدم إلى الأحدث .

(الحكم الجمهوري - بناء مدينة روما - الحكم الامبراطوري)



الاسم: الصف: التاسع

7

قارن بين الإمبراطورية الرومانية الشرقية، والإمبراطورية الرومانية الغربية من حيث:
(العاصمة _ أسباب السقوط)

المقارنة	الإمبراطورية الرومانية الشرقية	الإمبراطورية الرومانية الغربية
العاصمة	القسطنطينية	روما
أسباب السقوط	على يد السلطان العثماني محمد الفاتح 1453م	على يد القبائل الجرمانية 476م

أولاً: اختر الإجابة الصحيحة بوضع علامة (x) داخل المربع:

1. انضمت دولة قطر الى الأمم المتحدة عام :

1971م ☒

1970م ☐ أ

1974م ☐ د

1972م ☐ ب

2. منظمة دولية أنشئت عام 1945م هدفها حماية حقوق الانسان ، ودعم القانون الدولي .

هيئة الأمم المتحدة ☒

محكمة العدل الدولية ☐ أ

منظمة العفو الدولية ☐ د

مجلس الامن ☐ ب

3. أطلقت دولة قطر مبادرات دولية في مجالي .

التعليم والصحة



أ التراث والثقافة



د البيئة والتلوث



ب السياسة والاقتصاد



4. حرصت دولة قطر على الانضمام لهيئة الأمم المتحدة من أجل .

تحقيق التعاون الدولي



أ التنمية الاقتصادية



د تعزيز تماسك المجتمع



ب مواجهة الكوارث الطبيعية



5. مبادرة هوب فور تهدف الى :

ج مكافحة الإرهاب



مواجهة الكوارث الطبيعية



د مكافحة المخدرات



ب مكافحة غسيل الأموال



ثانياً : أجب عن الأسئلة الآتية :

1 اذكر أهم الإنجازات القطرية في مجال السلام الدولي .

المشاركة في قوات حفظ السلام الدولي
حل بعض المشكلات في البلاد العربية
تبني مبادرة هوب فور

2 حدد مهام اللجنة الوطنية لمكافحة غسيل الأموال وتمويل الإرهاب .

- ✓ التعاون الثنائي والإقليمي والمتعدد الأطراف.
- ✓ وضع اتفاقيات تعاونية مع عدة بلدان.
- ✓ إنشاء اللجنة الوطنية لمكافحة الإرهاب.

3 ما أهم أدوار دولة قطر في تحقيق أهداف الهيئة .

- ✓ دعم جهود التنمية الإدارية.
- ✓ تعزيز حقوق الإنسان وترسيخها.
- ✓ توفير الإغاثات للإنسان.
- ✓ الحفاظ على الأمن والسلام الدوليين

4 اذكر اثنين من أهم مشاركات دولة قطر الفاعلية في هيئة الأمم المتحدة .

- ✓ لعب دور الوسيط والمصلح الأمين للمساعدة في الأزمات الدولية.
- ✓ حماية حقوق الإنسان داخل الدول وخارجها.
- ✓ تعزيز الحوار بين الأديان ودعم تحالف الحضارات.

انتهت الأسئلة

امنياتى لكم بالتوفيق والنجاح