

أوراق عمل الوحدة الرابعة مدرسة الخور غير مجابة



تم تحميل هذا الملف من موقع المناهج القطرية

موقع المناهج ⇨ المناهج القطرية ⇨ الصف السادس ⇨ رياضيات ⇨ الفصل الأول ⇨ ملفات متنوعة ⇨ الملف

تاريخ إضافة الملف على موقع المناهج: 2025-12-12 19:49:47

ملفات اكتب للمعلم اكتب للطالب ا اختبارات الكترونية ا اختبارات ا حلول ا عروض بوربوينت ا أوراق عمل منهج انجليزي ا ملخصات وتقارير ا مذكرات وبنوك ا الامتحان النهائي للمدرس

المزيد من مادة رياضيات:

إعداد: مدرسة الخور

التواصل الاجتماعي بحسب الصف السادس



صفحة المناهج القطرية على فيسبوك

الرياضيات

اللغة الانجليزية

اللغة العربية

التربية الاسلامية

المواد على تلغرام

المزيد من الملفات بحسب الصف السادس والمادة رياضيات في الفصل الأول

أوراق عمل الوحدة الثالثة مدرسة الخور غير مجابة

1

أوراق عمل مدرسة أم القرى نهاية الفصل غير مجابة

2

أوراق عمل مدرسة عبدالله بن رواحة نهاية الفصل مع الإجابة النموذجية

3

أوراق عمل مدرسة عبدالله بن رواحة نهاية الفصل غير مجابة

4

أوراق عمل الأندلس للبنين التحضيرية لاختبار نهاية الفصل غير مجابة

5



مدرسة الخور الابتدائية للبنات



تدريبات إثرائية لمادة الرياضيات للصف السادس

اختبار نهاية الفصل الدراسي الأول

2026-2025

الاسم : الصف : السادس /

ملاحظة : هذه التدريبات لا تغني عن الكتاب المدرسي

تدريبات الوحدة الرابعة

الاسم: ----- التاريخ: -----

4-1: التعرف على الأسئلة الإحصائية

السؤال الأول : أي الأسئلة التالية سؤالاً إحصائياً ؟

A	ما أوزان طالبات الصف السادس؟	B	ما لون علم مملكة البحرين؟
C	كم ساعة في اليوم؟	D	كم عدد أشهر السنة؟

السؤال الثاني : أي الأسئلة التالية سؤالاً إحصائياً ؟

A	ما عاصمة دولة قطر؟	B	ما عدد الكتب التي قرائها طالبات الصف السادس؟
C	ما عدد ركعات صلاة العصر؟	D	كم عدد فصول السنة؟

السؤال الثالث : أي من الأسئلة التالية إحصائي وأيها غير إحصائي.

ما عدد الأشهر الهجرية ؟ الإجابة :	ما عدد الأوراق التي استعملتها الأسبوع الماضي ؟ الإجابة :	ما عدد البلديات في دولة قطر ؟ الإجابة :
--	---	--

4-2: تلخيص البيانات باستعمال الوسط الحسابي والوسيط والمنوال والمدى .

السؤال الأول : أي مما يلي يمثل المنوال للبيانات التالية؟

2 , 5 , 3 , 4 , 5 , 8

A	2	B	3
C	5	D	8

السؤال الثاني : أي مما يلي يمثل المنوال للبيانات التالية؟

9 , 2 , 1 , 7 , 9 , 5

A	2	B	9
C	5	D	7

السؤال الثالث : يمثل الجدول أدناه درجات طالبات مدرسة الخور في اختبار مادة اللغة العربية
أي مما يلي يمثل الوسيط لدرجات اختبار مادة اللغة العربية .

الصفوف	الدرجة
الصف الأول	27
الصف الثاني	28
الصف الثالث	30
الصف الرابع	34
الصف الخامس	33
الصف السادس	30

A 27

B 28

C 30

D 33

السؤال الرابع : يمثل الجدول أدناه عدد ساعات مشاهدة التلفاز في الأسبوع
أي مما يلي يمثل الوسيط لعدد ساعات مشاهدة التلفاز .

عدد ساعات مشاهدة التلفاز في الأسبوع	
عبد الله	7
علي	9
يوسف	10
فهد	12
محمد	13
عبد العزيز	10

A 7

B 10

C 9

D 13

السؤال الخامس: أجب مما يلي باستعمال البيانات أدناه.

2 , 3 , 5 , 3 , 7

(1) أوجد الوسط الحسابي (2) ما المدى لمجموعة البيانات . (3) ما المنوال لمجموعة البيانات ؟

السؤال السادس: أجب مما يلي باستعمال البيانات أدناه.

4 , 6 , 5 , 6 , 9

(3) ما المنوال لمجموعة البيانات ؟

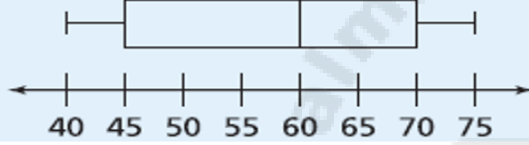
(2) ما المدى لمجموعة البيانات .

(1) أوجد الوسط الحسابي

4-3 : عرض البيانات في مخطط الصندوق وطرفيه .

السؤال الأول : يوضح مخطط الصندوق وطرفيه أدناه أسعار ألعاب الأطفال بالريال القطري .

أسعار ألعاب الأطفال بالريال القطري QR



أجب على الأسئلة التالية.

(1) ما أعلى قيمة لأسعار ألعاب الأطفال ؟

(2) ما أقل قيمة لأسعار ألعاب الأطفال ؟

A 40

C 45

B 60

D 75

A 40

C 60

B 70

D 75

درجات منيرة



السؤال الثاني : يوضح مخطط الصندوق وطرفيه أدناه درجات منيرة في اختبارات العام الماضي .

أجب على الأسئلة التالية.

(1) ما أعلى درجة لاختبارات منيرة العام الماضي ؟

(2) ما أقل درجة لاختبارات منيرة العام الماضي ؟

A 90

C 85

B 80

D 75

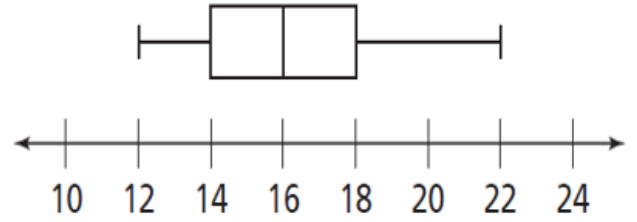
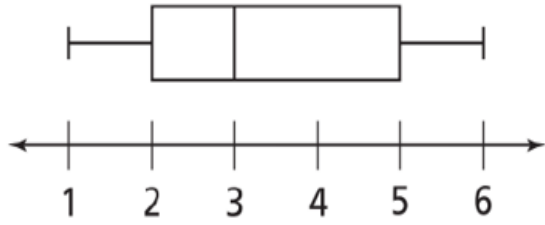
A 75

C 80

B 70

D 90

السؤال الثالث : من خلال مخطط الصندوق التالي أجب عما يلي.



1- أوجد القيمة الصغرى :

2- أوجد الربع الأول :

3- أوجد الوسيط :

4- أوجد الربع الثالث :

5- أوجد القيمة العظمى :

1- أوجد القيمة الصغرى :

2- أوجد الربع الأول :

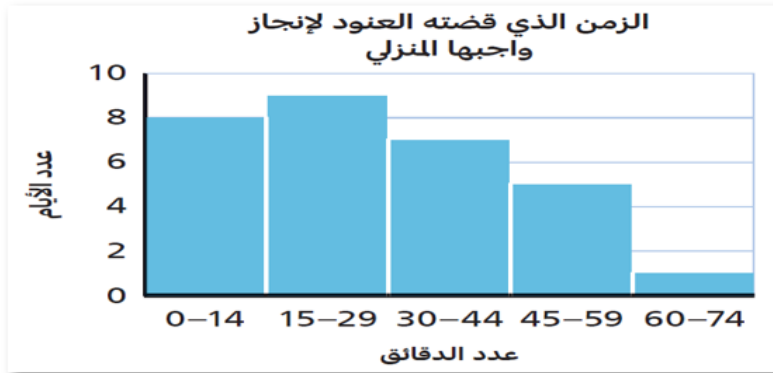
3- أوجد الوسيط :

4- أوجد الربع الثالث :

5- أوجد القيمة العظمى :

4-4: عرض البيانات في الجداول التكرارية والمدرجات التكرارية .

السؤال الأول : تسجل العنود الزمن الذي تقضية في أداء واجبها المنزلي خلال أيام الأسبوع ما عدد الأيام الذي تقضية العنود ما بين 15 – 29 دقيقة ؟



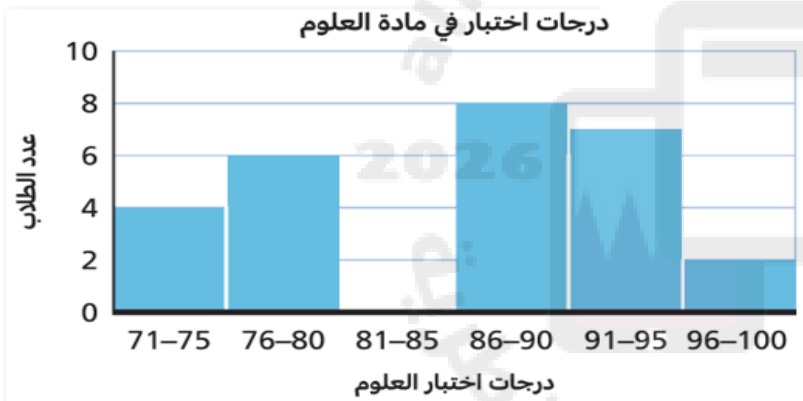
A 8

A 9

C 6

C 10

السؤال الثاني : استعمل البيانات الواردة في المدرج التكراري .



(1) ما عدد الطلاب الذين خاضوا اختبار العلوم ؟

(2) ما عدد الطلاب الذين حصلوا على درجة ما بين 90 – 86 في اختبار العلوم ؟

(3) بكم يزيد درجات الاختبار بين فئة (91-95) عن عدد درجات فئة (96-100) ؟

انتهت تدريبات الوحدة الرابعة ..

أول خطوات النجاح هو التوكل على الله



فانت منارة المستقبل المنتظر..