

## أوراق عمل الأندلس للبنين التحضيرية لاختبار نهاية الفصل غير مجانية



### تم تحميل هذا الملف من موقع المناهج القطرية

موقع المناهج ← المناهج القطرية ← الصف السادس ← اجتماعيات ← الفصل الأول ← ملفات متنوعة ← الملف

تاريخ إضافة الملف على موقع المناهج: 03:57:56 2025-12-10

ملفات اكتب للمعلم اكتب للطالب ا اختبارات الكترونية ا اختبارات ا حلول ا عروض بوربوينت ا أوراق عمل منهج انجليزي ا ملخصات وتقارير ا مذكرات وبنوك ا الامتحان النهائي للمدرس

المزيد من مادة اجتماعيات:

إعداد: مدرسة الأندلس

### التواصل الاجتماعي بحسب الصف السادس



صفحة المناهج القطرية على فيسبوك

الرياضيات

اللغة الانجليزية

اللغة العربية

التربية الاسلامية

المواد على تلغرام

### المزيد من الملفات بحسب الصف السادس والمادة اجتماعيات في الفصل الأول

أوراق عمل وملخص نهاية الفصل غير مجانية

1

أوراق عمل مدرسة أم القرى نهاية الفصل غير مجانية

2

أوراق عمل مدرسة عبدالله بن رواحة نهاية الفصل مع الإجابة النموذجية

3

أوراق عمل مدرسة عبدالله بن رواحة نهاية الفصل غير مجانية

4

أوراق عمل اثرائية نهاية الفصل مع الإجابة النموذجية

5

نسخة غير  
مجابة

العام الأكاديمي 2026/2025

نهاية الفصل الدراسي الأول



أوراق العمل الإثرائية

مادة الدراسات الاجتماعية

الصف السادس الابتدائي

	اسم الطالب
	الصف والشعبة

## ملخص للوحدة الثالثة ( الدرس الأول :- ثقافة المجتمع القطري )

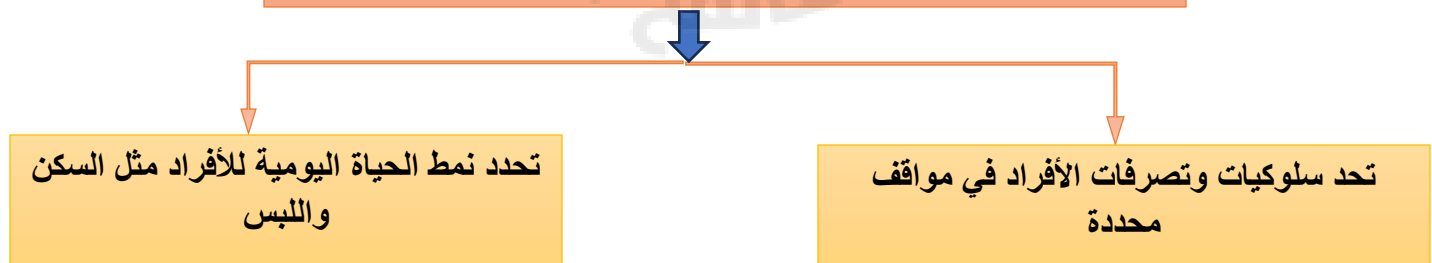
**أولاً:- مفهوم الثقافة:-** مجموعة متنوعة من الأنشطة المميزة للمجتمع تشمل على العادات والقيم والدين والأخلاق والسلوكيات السائدة في المجتمع

## ثانياً:- عناصر الثقافة في المجتمع القطري

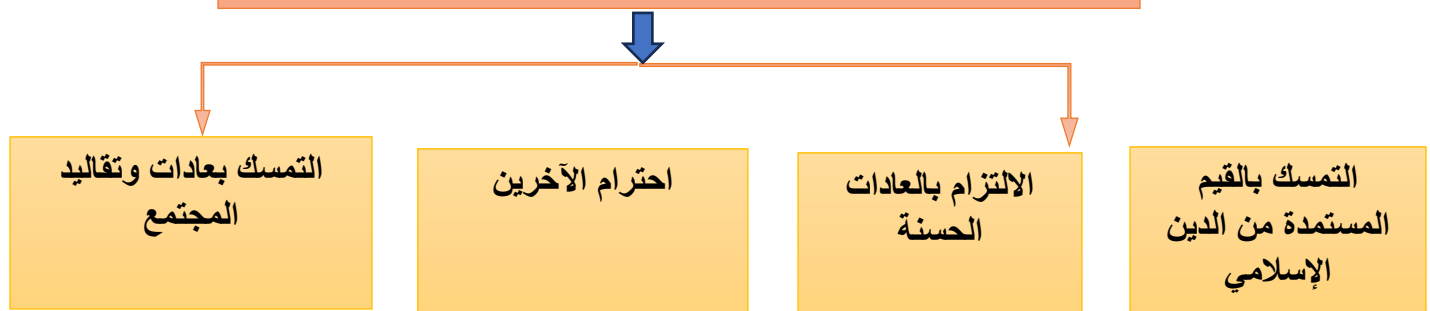


**التراث :-** هو كل ما توارثه المجتمع من الأسلاف والأجداد من مظاهر مادية ومعنوية

## أثر ثقافة المجتمع على الأفراد



## دور الأفراد في الحفاظ على ثقافة المجتمع



**ملخص للوحدة الثالثة ( الدرس الثاني :- المؤسسات الثقافية في دولة قطر )****أولاً:- وزارة الثقافة**

**والرياضة :-** أنشئت عام 2021م بقرار أميري في عهد صاحب السمو الشيخ تميم بن حمد آل ثاني

**اختصاصات وزارة الثقافة والرياضة :-**

- 1- رعاية شؤون الثقافة والفنون والتراث
- 2- تنظيم الفعاليات والاحتفال بالمناسبات الوطنية
- 3- الترخيص بإنشاء الفرق الفنية ومحطات البث الإذاعي

**ثانياً :- مؤسسة الحي الثقافي كتارا وتهدف إلى :-**

- 1- رعاية التراث القطري والحفاظ عليه
- 2- تعريف الزوار بالثقافات العالمية

**ثالثاً :- مكتبة قطر الوطنية :- تأسست عام 2018 لتحقيق عدة أهداف منها :-**

- 1- الحفاظ على تراث الأمة من أجل المستقبل
- 2- تعزيز الاستكشاف والتشجيع على الابتكار

**الخدمات التي تقدمها مكتبة قطر الوطنية**

توفر أكثر من مليون كتاب مطبوع وأكثر من 500 ألف مادة إلكترونية

توفر المصادر الإلكترونية التي تحتوي نصوصاً كاملة

إتاحة كافة مصادرها للجميع

**جهود دولة قطر في المحافظة على ثقافة المجتمع القطري :-**

- 1- اهتمام الدستور القطري بالتراث الثقافي والمحافظة عليه.
- 2- تنظيم الفعاليات الثقافية المختلفة والمتنوعة

## ملخص للوحدة الرابعة ( الدرس الأول:- نمو السكان وتركيبه في الوطن العربي)

### نمو السكان في الوطن العربي

#### أولاً:- النسب والتعدادات السكانية للوطن العربي

1. تعد مصر أكثر دول الوطن العربي سكانا لعام 2019

2. تعد جزر القمر أقل دول الوطن العربي سكانا لعام 2019

3. يستحوذ الجناح العربي الإفريقي على النسبة الأكبر من سكان الوطن العربي حيث كانت نسبتهم 61.2

4. بلغت نسبة سكان الجناح العربي الآسيوي من جملة سكان الوطن العربي 38.8 %

#### عوامل النمو السكاني للوطن العربي:

الزيادة غير الطبيعية

هي الهجرة الوافدة

الزيادة الطبيعية

الفرق بين عدد المواليد وعدد الوفيات (ارتفاع معدلات المواليد، وانخفاض معدلات)

#### أسباب ارتفاع معدلات المواليد في الوطن العربي:

العادات والتقاليد الاجتماعية

أسباب انخفاض معدل الوفيات في الوطن العربي:

1. ارتفاع مستوى المعيشة

3. تقدم الرعاية الصحية

2. التقدم الطبي في بعض الدول العربية

4. الاهتمام بصحة الأمهات والمواليد

**التركيب السكاني: - الخصائص السكانية التي يمكن قياسها مثل العمر أو النوع. وينقسم إلى**

التركيب النوعي

تصنيف السكان إلى ذكور وإناث

التركيب العمري

تصنيف السكان حسب فئات العمر

سجلت نسبة صغار السن (أقل من 15 سنة) حوالي 32.5 % من جملة سكان الوطن العربي

- استحوذت نسبة الشباب من هم في الفئة العمرية (15-65 سنة) على حوالي 62.74%

- سجلت نسبة كبار السن حوالي 4.76 % من جملة سكان الوطن العربي

**ملخص للوحدة الرابعة ( الدرس الثاني :- التوزيع السكاني وكثافته في الوطن العربي)**

**العوامل المؤثرة في توزيع سكان الوطن العربي**

عوامل بشرية

الأنشطة الاقتصادية

الأحداث السياسية

النقل والمواصلات

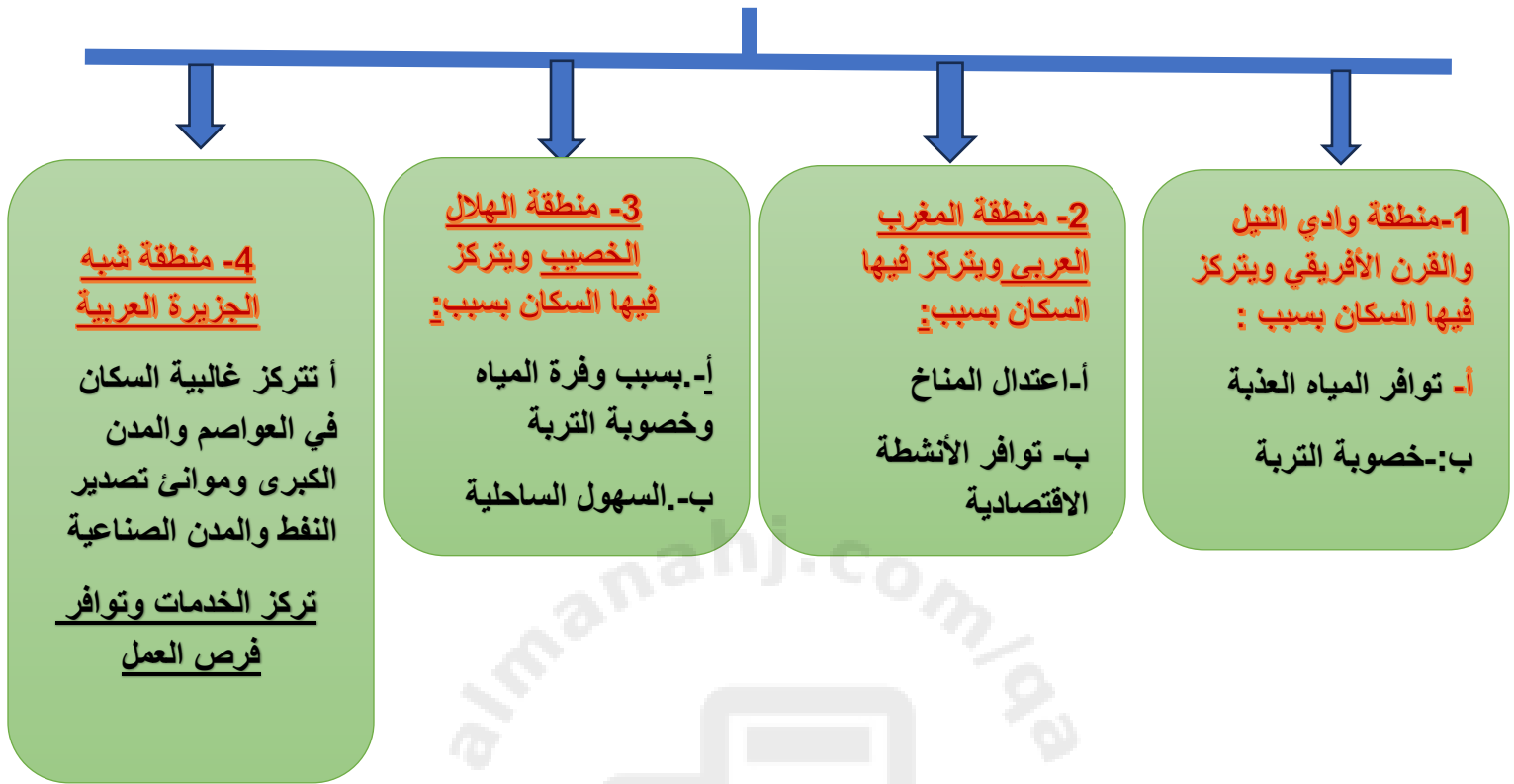
عوامل طبيعية

موارد المياه

التضاريس

المناخ

**مناطق التركيز السكاني في الوطن العربي**



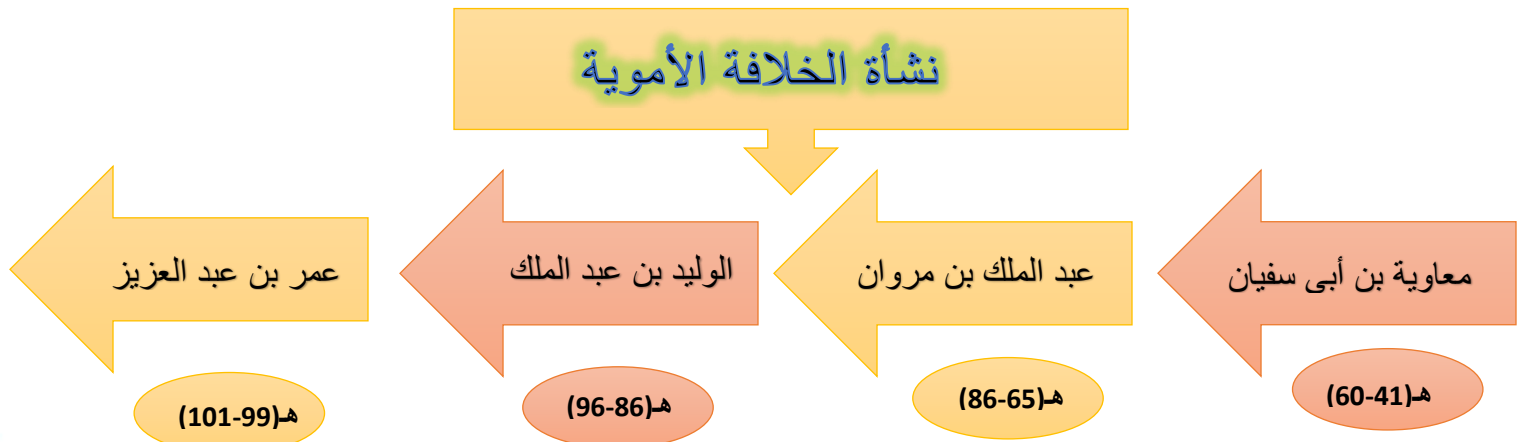
الكثافة العامة للسكان بأنها اجمالي عدد السكان مقسوما على المساحة الكلية للدولة

أقل دولة كثافة سكانية هي ليبيا

أعلى دولة كثافة سكانية هي البحرين،

ملخص للوحدة الخامسة ( الدرس الأول :- الخلافة الأموية (نشأتها - أبرز الخلفاء الأمويين وأعمالهم))

### نشأة الخلافة الأموية



**أعمال الخليفة الوليد بن عبد الملك:**

1. اتسعت رقعة الدولة الأموية في عهده إلى أقصى اتساع لها
2. استمر في ارسال الحملات العسكرية الى حدود الدولة البيزنطية
3. اهتم بالعمارة فبنى مسجد الجامع الأموي

**أعمال الخليفة معاوية بن أبي****سفيان:**

1. أسس الدولة الأموية
2. أسس الدواوين
3. اهتم بنظام الحسبة
4. اهتم بتقوية الجيش والأسطول

**أعمال الخليفة عبد الملك بن مروان:**

1. أمر بتنقيط المصحف الشريف
2. أنشأ داراً لسك العملة الإسلامية
3. أمر بتعريب الدواوين
4. اهتم بالعمارة والفنون فبنى مسجد قبة الصخرة

**أعمال الخليفة عمر بن عبد العزيز:**

1. رد الظلم إلى أهلها
2. اهتم بالعلم وعمل على نشره بين الناس
3. أسقط الجزية ممن أسلم من أهل البلدان المفتوحة
4. اهتم بالنواحي الاقتصادية



**ملخص للوحدة الخامسة ( الدرس الأول :- الخلافة الأموية (نشأتها - أبرز الخلفاء الأمويين وأعمالهم))****فتوحات الدولة الأموية****الفتوحات في الشرق:**

بلاد ما وراء النهر من 87-91هـ

بلاد السند (92هـ)

فتحت في عهد الخليفة الأموي الوليد بن عبد الملك بقيادة قتيبة بن مسلم

فتحت في عهد الخليفة الأموي الوليد بن عبد الملك بقيادة محمد بن القاسم

**الفتوحات في الغرب**جزر البحر المتوسط  
من 53-54هـشمال أفريقيا  
55هـالمغرب الأقصى  
89هـالأندلس  
92هـ

فتحت في عهد الخليفة معاوية بن أبي سفيان بقيادة جنادة بن أبي أمية

فتحت في عهد الخليفة معاوية بن أبي سفيان بقيادة عقبة بن نافع

فتحت في عهد الخليفة الوليد بن عبد الملك بقيادة موسى بن نصير

فتحت في عهد الخليفة الوليد بن عبد الملك بقيادة طارق بن زياد

**أسباب ضعف الدولة الأموية وسقوطها**

1. ضعف بعض الخلفاء والصراع على منصب ولاية العهد
2. الصراع بين فئات المجتمع في الدولة الأموية وإيثار العرب على غيرهم
3. كثرة الثورات ضد الدولة الأموية
4. ظهور الدعوة العباسية في بلاد فارس

**نتائج الفتوحات الإسلامية:**

1. اعتناق عدد كبير الدين الإسلامي
2. ازدياد مساحة الدولة الإسلامية
3. انتشار اللغة العربية
4. انتشار الأمن والطمأنينة
- 5- زيادة الموارد المالية للدولة

## ملخص للوحدة السادسة ( الدرس الأول :- التنوع والاختلاف )

### جوانب التنوع والاختلاف

اختلاف الآراء  
ووجهات النظر

الأوضاع  
الاقتصادية  
والاجتماعية

العادات والتقاليد  
والأفكار

اللغة والديانة

### مظاهر احترام التنوع والاختلاف

- 1- احترام الآخرين وتقبل ارائهم
- 2- تأكيد مبدأ المساواة وسيادة القانون
- 3- حرية التعبير عن الرأي

**الحوار الناجح :- هو حديث أونقاش بين طرفين أو عدة أطراف بهدف الوصول إلى الحقيقة**

### جوانب التنوع والاختلاف

- 1- اكتساب احترام الآخرين
- 2- تحقيق التواصل الفعال

### أسس الحوار الناجح

- 1- تحديد هدف واضح للحوار
- 2- اختيار الزمان والمكان المناسبين
- 3- الاستماع للطرف الآخر والبعد عن التعصب

**ملخص للوحدة السادسة ( الدرس الثاني :- المواطنة الفاعلة )****مفهوم الولاء**

الإخلاص للوطن والقيادة  
والعمل وفق ما تقتضيه  
مصلحة الوطن في كافة  
المجالات

**مفهوم الانتماء للوطن**

الانتماء إلى الوطن  
والإخلاص له فكرًا وقولًا  
وعملًا والاهتمام بخير  
الوطن ومصلحته

**مفهوم المواطنة الفاعلة**

هي مشاركة المواطنين في  
تدبير شؤون مجتمعهم  
والقيام بمبادرات تهدف  
إلى تحقيق المنفعة

**صفات المواطن الصالح**

- 1- القيام بالواجبات والمسؤوليات
- 2- المحافظة على الممتلكات العامة
- 3- احترام حقوق الآخرين

**مقومات المواطنة الفاعلة**

- 1- الولاء والانتماء
- 2- المساواة والعدالة
- 3- تكافؤ الفرص

**مظاهر المواطنة  
الفاعلة على  
مستوى الأسرة**

1. الالتزام بالأدوار والمسؤوليات
2. الحفاظ على عادات وتقاليد الأسرة
3. المشاركة في المناسبات الاجتماعية
4. العدالة والمساواة بين أفراد الأسرة

**مظاهر المواطنة  
الفاعلة على  
مستوى الوطن**

1. الانتماء والولاء للوطن
2. احترام الدستور القطري والالتزام بالقوانين
3. الدفاع عن الوطن في أي وقت
4. إبراز صورة مشرفة للوطن

**مظاهر المواطنة  
الفاعلة على  
مستوى المدرسة**

1. الالتزام بالقوانين المدرسية
2. الالتزام بالزي المدرسي
3. احترام العلم والنشيد الوطني
4. المشاركة في الأنشطة المختلفة
- 5- الاجتهاد في طلب العلم
- 6- احترام العاملين في المدرسة

## ( الورقة الإثرائية رقم (1) )

السؤال الأول :- اختر الإجابة الصحيحة بوضع علامة X في المربع المقابل لها.

1- كل ما توارثه المجتمع عن الأسلاف من مظاهر مائة ومعنوية يسمى:

- أ- الآثار ☐
- ب- الفنون ☐
- ج- التراث ☐
- د- العادات ☐

2- تؤثر ثقافة المجتمع على الأفراد في:

- أ- الإنتاج ☐
- ب- الصحة ☐
- ج- التعليم ☐
- د- السلوك ونمط الحياة ☐

3- هي مجموعة متنوعة من الأنشطة المميزة التي تشتمل على العادات والقيم والدين والأخلاق والسلوكيات السائدة في المجتمع يشير التعريف إلى مفهوم:

- أ- الإنتاج ☐
- ب- الصحة ☐
- ج- التعليم ☐
- د- الثقافة ☐

السؤال الثاني: - وضح دور الأفراد في الحفاظ على ثقافة المجتمع.

- 1-.....
- 2-.....
- 3-.....

السؤال الثالث: - وضح عناصر الثقافة في المجتمع القطري.

- 1-.....
- 2-.....
- 3-.....
- 4-.....

## ( الورقة الإثرائية رقم (2) )

السؤال الأول :- اختر الإجابة الصحيحة بوضع علامة [X] في المربع المقابل لها.

**1- تأسست وزارة الثقافة عام:**أ- ☐ 2019مب- ☐ 2020مج- ☐ 2021مد- ☐ 2022م**2- تأسست مكتبة قطر الوطنية عام:**أ- ☐ 2015مب- ☐ 2016مج- ☐ 2017مد- ☐ 2018م**3- تم إنشاء وزارة الثقافة في عهد الشيخ:**أ- ☐ أحمد بن علي آل ثانيب- ☐ خليفة بن حمد آل ثانيج- ☐ حمد بن خليفة آل ثانيد- ☐ تميم بن حمد آل ثاني**4- من الخدمات التي تقدمها مكتبة قطر الوطنية:**أ- ☐ إنشاء المتاحفب- ☐ تنظيم الفعاليات الوطنيةج- ☐ الترخيص بإنشاء الفرق الفنيةد- ☐ توفير أكثر من مليون كتاب مطبوع

**5- من المراكز والجمعيات الثقافية التي يضمها الحي الثقافي كتارا:**

- ☐ أ- جمعية أصدقاء البيئة
- ☐ ب- مركز قطر للعمل التطوعي
- ☐ ج- جمعية الهلال الأحمر القطري
- ☐ د- الجمعية القطرية للفنون التشكيلية

**السؤال الثاني: - اذكر ثلاث اختصاصات لوزارة الثقافة.**

- 1-.....
- 2-.....
- 3-.....

**السؤال الثالث: - وضح الخدمات التي تقدمها مكتبة قطر الوطنية.**

- 1-.....
- 2-.....
- 3-.....

## ( الورقة الإثرائية رقم (3) )

السؤال الأول :- اختر الإجابة الصحيحة بوضع علامة [X] في المربع المقابل لها.

1- الدولة الأكثر سكانًا في الوطن العربي:

- أ- ☐ مصر  
 ب- ☐ اليمن  
 ج- ☐ السعودية  
 د- ☐ موريتانيا

2- أقل دول الوطن العربي سكانًا:

- أ- ☐ لبنان  
 ب- ☐ جيبوتي  
 ج- ☐ البحرين  
 د- ☐ جزر القمر

السؤال الثاني: - ما المقصود بكل من..

- 1- الزيادة الطبيعية: - .....
- 2- الزيادة غير الطبيعية: - .....

السؤال الثالث: - اذكر أسباب انخفاض معدل الوفيات في الوطن العربي.

- 1- .....
- 2- .....
- 3- .....

## ( الورقة الإثرائية رقم (4) )

**السؤال الأول :- اختر الإجابة الصحيحة بوضع علامة [X] في المربع المقابل لها.**

**1- من العوامل غير الطبيعية المؤثرة في النمو السكاني للوطن العربي:**

أ- الكثافة ☐

ب- الوفيات ☐

ج- الهجرة ☐

د- المواليد ☐

**2- تصنيف السكان إلى فئات عمرية:**

أ- الهرم السكاني ☐

ب- التركيب العمري ☐

ج- التركيب النوعي ☐

د- التركيب الاقتصادي ☐

**3- تصنيف السكان إلى ذكور وإناث:**

أ- الهرم السكاني ☐

ب- التركيب العمري ☐

ج- التركيب النوعي ☐

د- التركيب الاقتصادي ☐

**السؤال الثاني :- اذكر العوامل الطبيعية المؤثرة في توزيع السكان في الوطن العربي**

1- ..... 2 .....

3- .....

**السؤال الثالث :- اذكر العوامل البشرية المؤثرة في توزيع السكان في الوطن العربي**

1- ..... 2 .....

3- .....



## ( الورقة الإثرائية رقم (5) )

السؤال الأول :- اختر الإجابة الصحيحة بوضع علامة [X] في المربع المقابل لها.

1- أكثر دول الوطن العربي في الكثافة السكانية:

- أ- ☐ لبنان  
 ب- ☐ البحرين  
 ج- ☐ الإمارات  
 د- ☐ جزر القمر

2- الدولة العربية الأقل في الكثافة السكانية:

- أ- ☐ ليبيا  
 ب- ☐ الجزائر  
 ج- ☐ السودان  
 د- ☐ موريتانيا

3- الدولة التي لا تعد ضمن منطقة الهلال الخصيب:

- أ- ☐ سوريا  
 ب- ☐ الأردن  
 ج- ☐ العراق  
 د- ☐ الكويت

السؤال الثاني: - بم تفسر: - تركز السكان في منطقة الهلال الخصيب.

- 1-.....  
 2-.....  
 3-.....

السؤال الثالث: - بم تفسر: - تركز السكان في منطقة وادي النيل والحوض الإفريقي.

- 1-.....  
 2-.....

## ( الورقة الإثرائية رقم (6) )

السؤال الأول :- اختر الإجابة الصحيحة بوضع علامة [X] في المربع المقابل لها.

**1- النسبة الأكبر من سكان الوطن العربي تمثلها فئة:**

- أ- ☐ الشباب  
 ب- ☐ الوافدين  
 ج- ☐ كبار السن  
 د- ☐ صغار السن

**2- اجمالي عدد السكان مقسومًا على المساحة الكلية للدولة يشير التعريف إلى مفهوم:**

- أ- ☐ الهجرة  
 ب- ☐ السكان  
 ج- ☐ النمو السكاني  
 د- ☐ الكثافة السكانية

**3- تبلغ نسبة سكان منطقة شبه الجزيرة العربية من جملة سكان الوطن العربي:**

- أ- ☐ 10%  
 ب- ☐ 20%  
 ج- ☐ 30%  
 د- ☐ 40%

**4- من العوامل البشرية المؤثرة في توزيع السكان:**

- أ- ☐ المناخ  
 ب- ☐ التضاريس  
 ج- ☐ موارد المياه  
 د- ☐ الأنشطة الاقتصادية

## ( الورقة الإثرائية رقم (7) )

السؤال الأول :- اختر الإجابة الصحيحة بوضع علامة X في المربع المقابل لها.

**1- بنى الوليد بن عبد الملك المسجد:**

- أ- ☐ النبوي  
 ب- ☐ الأموي  
 ج- ☐ الأقصى  
 د- ☐ قبة الصخرة

**2- بنى عبد الملك بن مروان مسجد:**

- أ- ☐ النبوي  
 ب- ☐ الأموي  
 ج- ☐ الأقصى  
 د- ☐ قبة الصخرة

**3- قُتل مروان بن محمد آخر خلفاء بني أمية في :**

- أ- ☐ مصر  
 ب- ☐ العراق  
 ج- ☐ الأندلس  
 د- ☐ بلاد الشام

**السؤال الثاني:- وضح أهم أعمال الخليفة معاوية بن أبي سفيان.**

1-.....

2-.....

3-.....

## ( الورقة الإثرائية رقم (8) )

السؤال الأول :- اختر الإجابة الصحيحة بوضع علامة [X] في المربع المقابل لها.

1- من خلفاء الدولة الأموية وأول من قام بتنظيم الصوائف والشواتي:

- أ- ☐ عمر بن عبد العزيز  
 ب- ☐ الوليد بن عبد الملك  
 ج- ☐ عبد الملك بن مروان  
 د- ☐ معاوية بن أبي سفيان

2- اهتم بنشر العدل بين الناس وعمل على رد المظالم إلى أهلها:

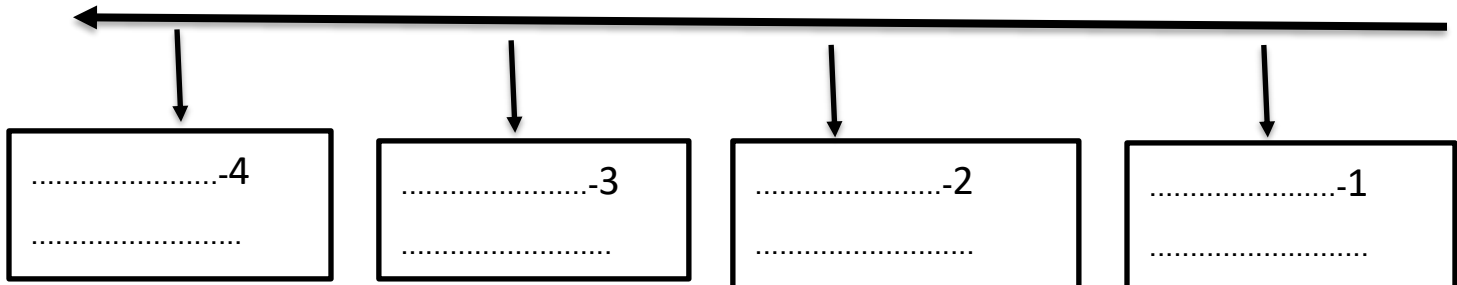
- أ- ☐ عمر بن عبد العزيز  
 ب- ☐ الوليد بن عبد الملك  
 ج- ☐ عبد الملك بن مروان  
 د- ☐ معاوية بن أبي سفيان

السؤال الثاني: - عدّد أعمال الخليفة عبد الملك بن مروان.

- 1-.....  
 2-.....  
 3-.....

السؤال الثالث: - رتب خلفاء الدولة الأموية على الخط الزمني من الأقدم إلى الأحدث.

(عبد الملك بن مروان - عمر بن عبد العزيز - معاوية بن أبي سفيان - الوليد بن عبد الملك)



## ( الورقة الإثرائية رقم (9) )

السؤال الأول :- اختر الإجابة الصحيحة بوضع علامة [X] في المربع المقابل لها.

**1- من أهم إنجازات عبد الملك بن مروان:**

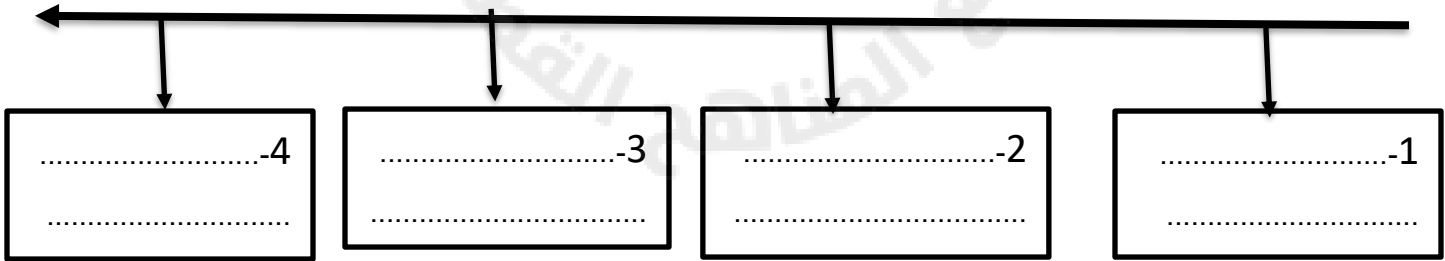
- أ- ☐ بناء مدينة دمشق
- ب- ☐ تدوين الحديث النبوي
- ج- ☐ سك العملة الإسلامية
- د- ☐ استحدث نظام ولاية العهد

**2- فتحت بلاد المغرب الأقصى في عهد الخليفة:**

- أ- ☐ عمر بن عبد العزيز
- ب- ☐ الوليد بن عبد الملك
- ج- ☐ عبد الملك بن مروان
- د- ☐ معاوية بن أبي سفيان

**السؤال الثاني: - رتب الفتوحات الآتية على الخط الزمني من الأقدم إلى الأحدث.**

(فتح بلاد الأندلس - معركة الزاب الكبير - فتح جزيرة رودس - فتح شمال إفريقيا)

**السؤال الثالث: - عدد نتائج الفتوحات الإسلامية في العهد الأموي.**

- 1-.....
- 2-.....
- 3-.....

## ( الورقة الإثرائية رقم (10) )

السؤال الأول :- اختر الإجابة الصحيحة بوضع علامة [X] في المربع المقابل لها.

1- وصلت الدولة الإسلامية أقصى اتساع لها في عهد:

- أ- ☐ الأمويين  
 ب- ☐ الفاطميين  
 ج- ☐ العباسيين  
 د- ☐ الخلفاء الراشدين

2- أي البلاد الآتية فتحت في عهد معاوية بن أبي سفيان:

- أ- ☐ السند  
 ب- ☐ الأندلس  
 ج- ☐ شمال إفريقيا  
 د- ☐ ما وراء النهر

3- تمكن طارق بن زياد من فتح بلاد:

- أ- ☐ السند  
 ب- ☐ العراق  
 ج- ☐ الأندلس  
 د- ☐ ما وراء النهر

السؤال الثاني: - بم تفسر: - ضعف الدولة الأموية وسقوطها.

1-.....

2-.....

3-.....

## ( الورقة الإثرائية رقم (11) )

السؤال الأول :- اختر الإجابة الصحيحة بوضع علامة [X] في المربع المقابل لها.

1- من فوائد الحوار الناجح.

- أ- ☐ السخرية بالآخرين
- ب- ☐ التمييز في المعاملة
- ج- ☐ حرية التعبير عن الرأي
- د- ☐ التعصب للرأي الشخصي

2- ناقش بين طرفين أو أكثر للوصول إلى الحقيقة يشير التعريف السابق إلى مفهوم.

- أ- ☐ الحوار
- ب- ☐ الجدل
- ج- ☐ المناظرة
- د- ☐ المحاضرة

السؤال الثاني: :- - اذكر جوانب التنوع والاختلاف بين البشر.

- 1-.....
- 2-.....
- 3-.....
- 4-.....

السؤال الثالث: :- - اذكر أسس الحوار الناجح.

- 1-.....
- 2-.....
- 3-.....