

تم تحميل هذا الملف من موقع المناهج القطرية



أوراق عمل مسيعيد قبل اختبار منتصف الفصل غير محلولة

موقع المناهج ← المناهج القطرية ← المستوى السادس ← اجتماعيات ← الفصل الأول ← أوراق عمل ← الملف

تاريخ إضافة الملف على موقع المناهج: 03:03:45 2024-10-31

ملفات اكتب للمعلم اكتب للطالب | اختبارات الكترونية | اختبارات | حلول | عروض بوربوينت | أوراق عمل
منهج انجليزي | ملخصات وتقارير | مذكرات وبنوك | الامتحان النهائي | للمدرس

المزيد من مادة
اجتماعيات:

التواصل الاجتماعي بحسب المستوى السادس



صفحة المناهج
القطرية على
فيسبوك

الرياضيات

اللغة الانجليزية

اللغة العربية

التربية الاسلامية

المواد على تلغرام

المزيد من الملفات بحسب المستوى السادس والمادة اجتماعيات في الفصل الأول

أوراق عمل دعم وإثراء الفرقان منتصف الفصل غير محلولة

1

أوراق عمل دعم وإثراء الفرقان منتصف الفصل مع الإجابة النموذجية

2

اوراق عمل نهاية الفصل غير مجابة

3

اوراق عمل نهاية الفصل مجابة مدرسة مسيعيد

4


اوراق عمل نهاية الفصل غير مجابة مدرسة مسيعيد

5



العام الدراسي
2025-2024

الصف
السادس
6



مادة الدراسات الاجتماعية

تدريبات علاجية - واجبات

منهاج منتصف الفصل الدراسي الأول
الوحدة الأولى + الوحدة الثانية + الوحدة الثالثة

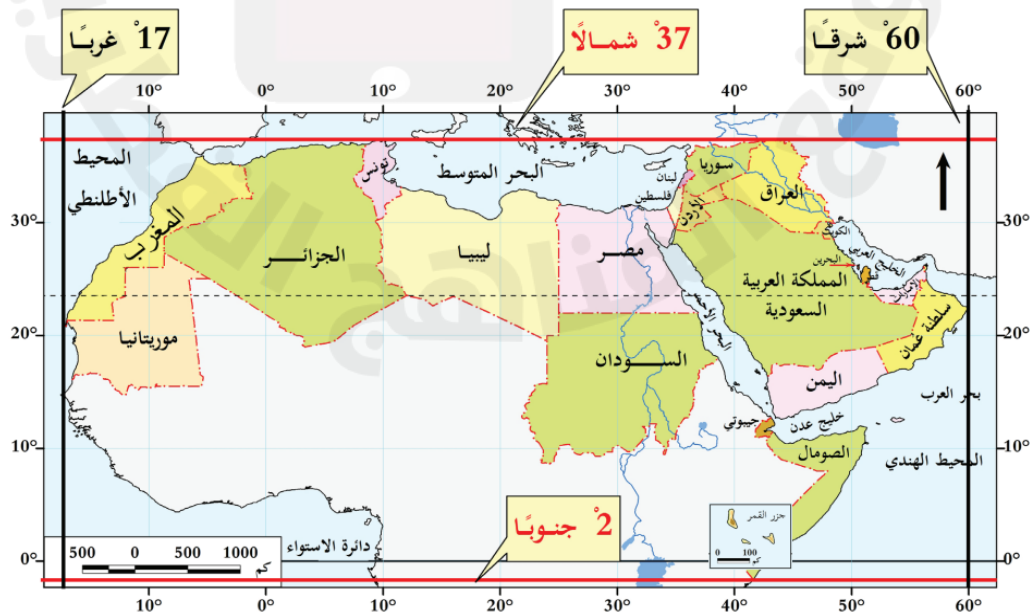
اسم الطالب:

الصف: السادس

ملحوظة هامة: هذه الأسئلة إثرائية ولا تغني عن الكتاب المدرسي وهو
المصدر الرئيس للتعلم



الوحدة الأولى: الأرض من حول





الأسبوع	الدرس	التاريخ
1	الوطن العربي " الموقع والخصائص الطبيعية "	01 – 09/05 /2024م

اختر الإجابة الصحيحة لكل من الأسئلة من 1 إلى 8 وذلك بوضع علامة x داخل المربع المجاور للإجابة الصحيحة.

تعليمات

1- ما عدد خطوط الطول التي يمتد خلالها الوطن العربي؟

55 ☐

66 ☐

77 ☐

88 ☐

2- الدولة العربية التي يعبرها خط الطول جرينتش:

مصر ☐

الجزائر ☐

السودان ☐

المغرب ☐

3- ما عدد دول الوطن العربي؟

20 ☐

21 ☐

22 ☐

23 ☐

4- تبلغ مساحة الوطن العربي بالمليون كيلومتر مربع نحو:

12.3 ☐

13.3 ☐

14.3 ☐

15.3 ☐

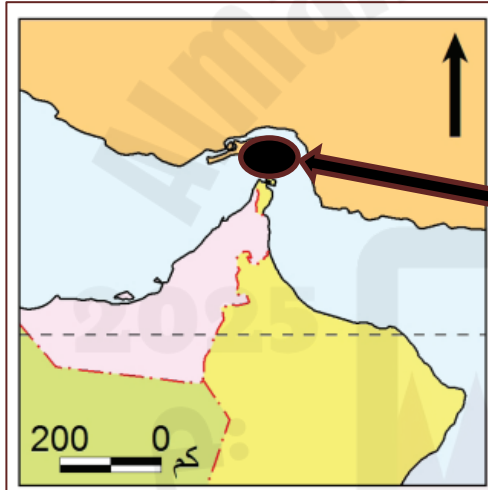


5- ما أكبر الدول العربية من حيث المساحة؟

- ☐ ليبيا
☐ السودان
☐ الجزائر
☐ السعودية

6- أصغر الدول العربية من حيث المساحة:

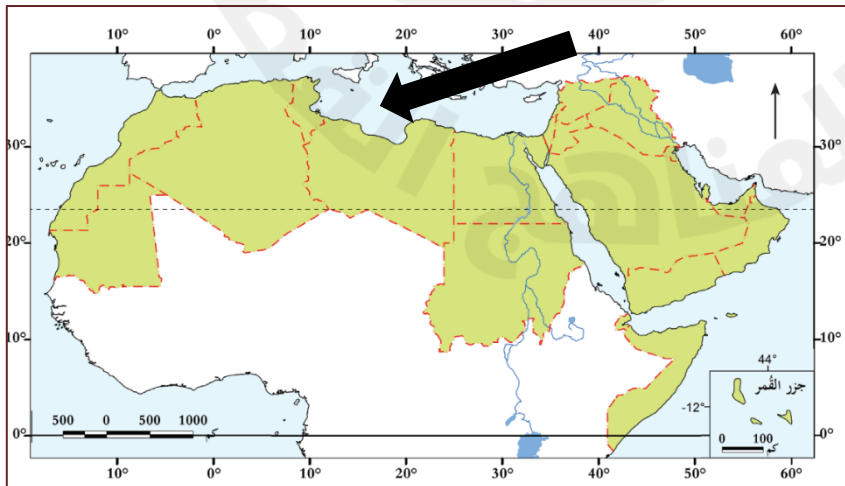
- ☐ لبنان
☐ جيبوتي
☐ البحرين
☐ جزر القمر



7- المضيق المُشار إليه بالسهم على الخريطة المجاورة هو:

- ☐ بيرنج
☐ هرمز
☐ باب المندب
☐ جبل طارق

8- البحر الذي يُمثل الحدود الشمالية للوطن العربي والمُشار إليه بالسهم على الخريطة المجاورة:

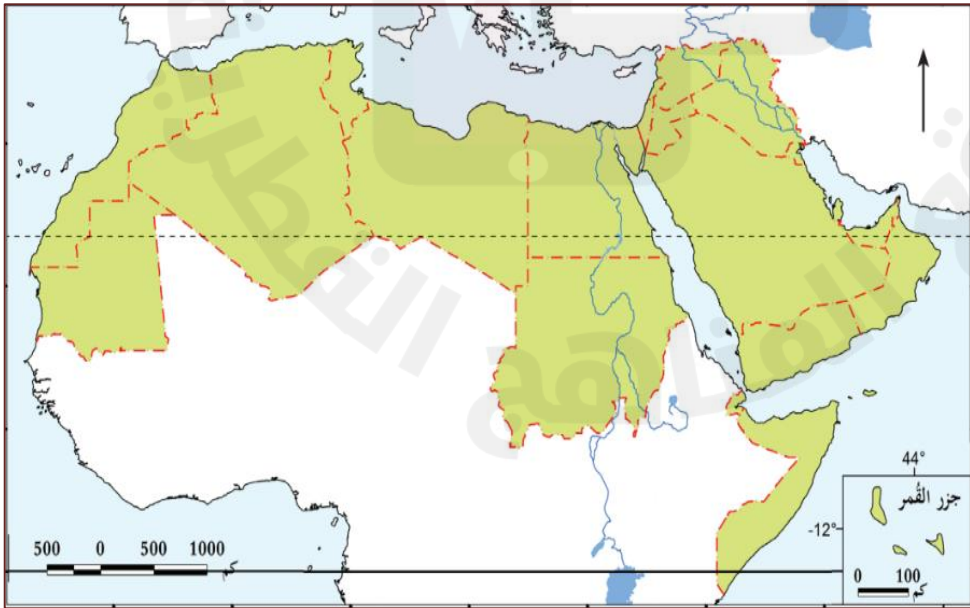


- ☐ العرب
☐ الأحمر
☐ الأسود
☐ المتوسط



تعليمات

عند الإجابة على الأسئلة من 09 إلى 12 ، اكتب إجابتك في الفراغ المخصص للإجابة:

9	اذكر الممرات المائية الهامة التي يتحكم بها الوطن العربي.
الإجابة:	
1-
2-
3-
10	وضح الأهمية الاستراتيجية لموقع الوطن العربي.
الإجابة:	
1-
2-
3-
11	أمامك خريطة صماء للوطن العربي؛ حدد عليها الظواهر التضاريسية الآتية بوضع الرقم في مكانه الصحيح على الخريطة:
	
1-	جبال عُمان.
2-	سهول تهامة.
3-	جبال البحر الأحمر.
4-	سهول دجلة
	والفرات.
5-	سهول الخليج العربي.
6-	هضبة حضرموت.



12	اذكر الحدود الشرقية للوطن العربي وفقاً للأرقام الموضحة على الخريطة أدناه.
1
2
3
4
.....
.....
.....
.....
.....
.....





الأسبوع	الدرس	التاريخ
2	الوطن العربي " الموقع والخصائص الطبيعية "	08 - 12 / 09 / 2024م

اختر الإجابة الصحيحة لكل من الأسئلة من 1 إلى 9 وذلك بوضع علامة x داخل المربع المجاور للإجابة الصحيحة.

تعليمات

1- أي الجبال الآتية تمتد على الساحل الشرقي للبحر الأحمر؟

- ☐ عُمان
☐ لبنان
☐ أطلس
☐ الحجاز

2- ما السلسلة الجبلية الممتدة في بلاد المغرب العربي؟

- ☐ أطلس
☐ الأحجار
☐ العوينات
☐ البحر الأحمر

3- يُعد الجبل الأخضر أشهر جبال:

- ☐ العراق
☐ مصر
☐ اليمن
☐ عُمان

4- الهضبة الممتدة في وسط شبه الجزيرة العربية:

- ☐ نجد
☐ الشطوط
☐ حضرموت
☐ الجلف الكبير



5- توجد محطة تحلية الأحمدى في دولة:

- ☐ قطر
☐ الكويت
☐ السعودية
☐ سلطنة عُمان

6- أي محطات التحلية الآتية توجد في سلطنة عُمان؟

- ☐ صُحار
☐ الأحمدى
☐ رأس لفان
☐ رأس أبو فنتاس

7- تغطي الثلوج جبال لبنان في فصل:

- ☐ الصيف
☐ الشتاء
☐ الربيع
☐ الخريف

8- ما الهضبة التي تمتد في جنوب مصر؟

- ☐ نجد
☐ الشطوط
☐ حضرموت
☐ الجلف الكبير

9- السهول الفيضية الممتدة في مصر والسودان كونها نهر:

- ☐ النيل
☐ دجلة
☐ الفرات
☐ شبيلي



تعليمات

عند الإجابة على الأسئلة من 10 إلى 17، اكتب إجابتك في الفراغ المخصص للإجابة:

10	قارن بين أشهر الجبال في الجناح الآسيوي والجناح الإفريقي:									
	<table border="1"> <tr> <th>الجبال في الجناح الآسيوي</th> <th>الجبال في الجناح الإفريقي</th> </tr> <tr> <td></td> <td></td> </tr> </table>	الجبال في الجناح الآسيوي	الجبال في الجناح الإفريقي							
الجبال في الجناح الآسيوي	الجبال في الجناح الإفريقي									
11	عدد أهم الهضاب في الوطن العربي.									
	<p>الإجابة:</p> <p>1-</p> <p>2-</p> <p>3-</p>									
12	قارن بين السهول الفيضية والساحلية في الوطن العربي من حيث المفهوم وأمثلة عليها في الجدول أدناه.									
	<p>الإجابة:</p> <table border="1"> <tr> <th>وجه المقارنة</th> <th>السهول الفيضية</th> <th>السهول الساحلية</th> </tr> <tr> <td>المفهوم</td> <td></td> <td></td> </tr> <tr> <td>أمثلة</td> <td> <p>1-</p> <p>2-</p> <p>3-</p> </td> <td> <p>1-</p> <p>2-</p> <p>3-</p> </td> </tr> </table>	وجه المقارنة	السهول الفيضية	السهول الساحلية	المفهوم			أمثلة	<p>1-</p> <p>2-</p> <p>3-</p>	<p>1-</p> <p>2-</p> <p>3-</p>
وجه المقارنة	السهول الفيضية	السهول الساحلية								
المفهوم										
أمثلة	<p>1-</p> <p>2-</p> <p>3-</p>	<p>1-</p> <p>2-</p> <p>3-</p>								



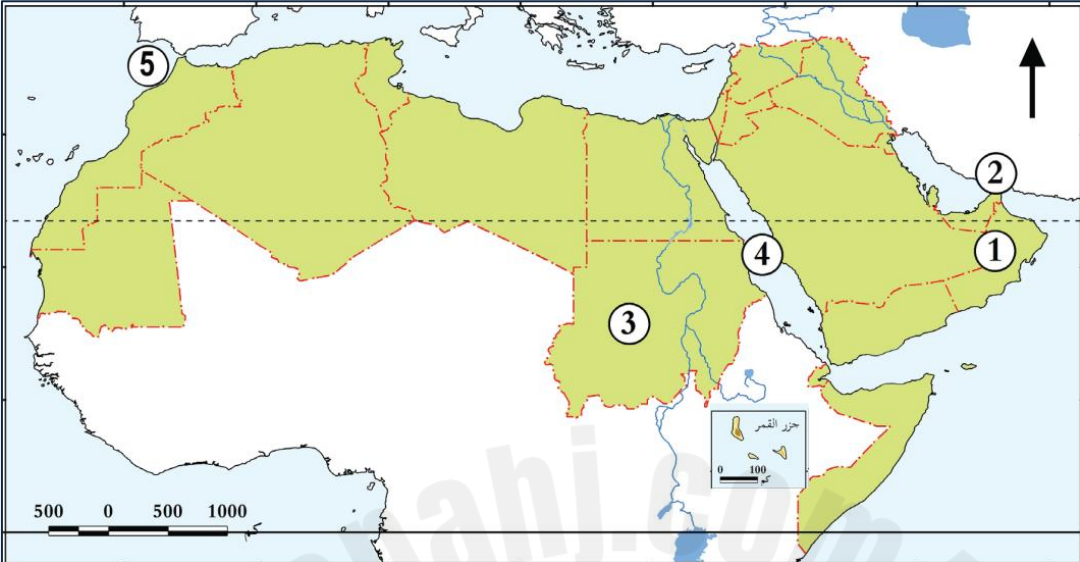
13		قارن بين الأحوال المناخية في الوطن العربي صيفاً وشتاءً من حيث الحرارة والأمطار:
الإجابة:		
وجه المقارنة	الصيف	الشتاء
الحرارة		
الأمطار		
14		عدد موارد المياه في الوطن العربي.
الإجابة:		
1-		
2-		
3-		
4-		
15		بم تفسر اتجاه دول الوطن العربي إلى تحلية مياه البحر.
الإجابة:		
1-		
2-		
3-		



	فسر كل مما يأتي:	16
	<p>أ- تنوع مظاهر السطح في الوطن العربي.</p> <p>الإجابة:</p> <p>.....</p>	
	<p>ب - ضيق سهول تهامة " البحر الأحمر " في السعودية واليمن.</p> <p>الإجابة:</p> <p>.....</p>	
	<p>ج - ارتفاع درجة الحرارة في وسط وشمال الوطن العربي صيفاً.</p> <p>الإجابة:</p> <p>.....</p>	
	<p>د- انخفاض درجة الحرارة في الوطن العربي شتاءً.</p> <p>الإجابة:</p> <p>.....</p>	
	<p>هـ - سقوط الأمطار الصيفية على السودان وموريتانيا واليمن.</p> <p>الإجابة:</p> <p>.....</p>	
	<p>و- سقوط الأمطار شتاءً على بلاد المغرب العربي وبلاد الشام.</p> <p>الإجابة:</p> <p>.....</p>	



17	أمامك خريطة صماء للوطن العربي؛ أكمل ما تشير إليه الأرقام الموضحة عليها.
----	---



1- سلطنة

2- مضيق

3- جمهورية

4- البحر

5- مضيق



الوحدة الثانية:

الحضارات القديمة في منطقة الخليج العربي





الأسبوع	الدرس	التاريخ
3	حضارات منطقة الخليج العربي	15 - 19 / 09 / 2024م

اختر الإجابة الصحيحة لكل من الأسئلة من 1 إلى 4 وذلك بوضع علامة x داخل المربع المجاور للإجابة الصحيحة.

تعليمات

1- ما أقدم حضارات منطقة الخليج العربي؟

- ☐ قطر
☐ مجان
☐ أم النار
☐ دلمون

2- نشأت حضارة (مجان) في المنطقة التي تشغلها حالياً دولة:

- ☐ البحرين
☐ الكويت
☐ الإمارات
☐ سلطنة عُمان

3- أطلق السومريون اسم (أرض الفردوس) على حضارة:

- ☐ مجان
☐ دلمون
☐ أم النار
☐ الجراء

4- أطلق اليونانيون اسم (إيكاروس) على حضارة:

- ☐ مجان
☐ فيلكا
☐ أم النار
☐ دلمون



تعليمات

عند الإجابة على الأسئلة من 05 إلى 07، اكتب إجابتك في الفراغ المخصص للإجابة:

5	اذكر عوامل قيام الحضارات في منطقة الخليج العربي.
الإجابة:	
1-
2-
3-
6	ما الموارد الطبيعية التي أسهمت في ازدهار حضارات الخليج العربي قديماً.
الإجابة:	
1-
2-
3-
4-
7	رتب حضارات الخليج العربي الآتية من الأقدم إلى الأحدث على الخط الزمني التالي.
(أم النار – مجان – فيلكا – قطر)	
<div style="display: flex; justify-content: space-around; align-items: center;"> <div style="border: 1px solid black; width: 150px; height: 30px; margin: 5px;"></div> <div style="border: 1px solid black; width: 150px; height: 30px; margin: 5px;"></div> <div style="border: 1px solid black; width: 150px; height: 30px; margin: 5px;"></div> <div style="border: 1px solid black; width: 150px; height: 30px; margin: 5px;"></div> </div> <div style="display: flex; justify-content: space-between; margin-top: 10px;"> ← 2000 ق م 2600 – 2000 ق م 3000 ق م 5000 ق م </div> <div style="display: flex; justify-content: space-between; margin-top: 10px;"> الأحدث الأقدم </div>	



الأسبوع	الدرس	التاريخ
4	حضارات منطقة الخليج العربي - المواقع الأثرية في قطر	22 - 09/26 / 2024م

اختر الإجابة الصحيحة لكل من الأسئلة من 1 إلى 8 وذلك بوضع علامة x داخل المربع المجاور للإجابة الصحيحة.

تعليمات

1- ما المعدن الذي استخرجه أهل مجان قديماً وقاموا بصهره؟

- ☐ الحديد
☐ الذهب
☐ النحاس
☐ الألمونيوم

2- ما أهم المواقع الأثرية في حضارة فيلكا؟

- ☐ البتراء
☐ مروب
☐ عسيلة
☐ تل سعيد

3- أقدم العصور التاريخية التي مرت بتاريخ دولة قطر:

- ☐ العبيدي
☐ الكاشيين
☐ البرونزي
☐ الساسانيين

4- الموقع الأثري الذي يقع بالقرب من أم باب في دولة قطر:

- ☐ عسيلة
☐ رأس بروق
☐ برج برزان
☐ مدافن تلال الخور



5- يقع على الساحل الشرقي لدولة قطر الموقع الأثري المعروف بـ:

- ☐ مروب
☐ لوسيل
☐ عسيلة
☐ رأس بروق

6- أي المواقع الأثرية الآتية تُصنف ضمن المواقع الأثرية الحديثة بدولة قطر؟

- ☐ لوسيل
☐ مروب
☐ عسيلة
☐ الزبارة

7- ما القلعة القطرية التي تنتمي إلى العصر العباسي؟

- ☐ مروب
☐ الشقب
☐ الوجبة
☐ الزبارة

8- اختر الترتيب الصحيح للعصور التاريخية التي مرت بها دولة قطر من الأقدم إلى الأحدث؟

- ☐ الكاشيين – البرونزي – العبيدي – الساسانيين
☐ العبيدي – البرونزي – الكاشيين – الساسانيين
☐ البرونزي – العبيدي – الساسانيين – الكاشيين
☐ الساسانيين – الكاشيين – البرونزي – العبيدي



تعليمات

عند الإجابة على الأسئلة من 09 إلى 13 ، اكتب إجابتك في الفراغ المخصص للإجابة:

9	بم تفسر أهمية الموقع الجغرافي لحضارات منطقة الخليج العربي قديماً.									
الإجابة:										
1-										
2-										
10	قارن بين حضارة (مجان) و (فيلكا) من حيث الموقع ومظاهر الحضارة:									
الإجابة:										
	<table border="1"> <thead> <tr> <th>وجه المقارنة</th> <th>حضارة مجان</th> <th>حضارة فيلكا</th> </tr> </thead> <tbody> <tr> <td>الموقع</td> <td></td> <td></td> </tr> <tr> <td>مظاهر الحضارة</td> <td></td> <td></td> </tr> </tbody> </table>	وجه المقارنة	حضارة مجان	حضارة فيلكا	الموقع			مظاهر الحضارة		
وجه المقارنة	حضارة مجان	حضارة فيلكا								
الموقع										
مظاهر الحضارة										
11	وضح المظاهر الحضارية لتاريخ دولة قطر في العصور القديمة.									
الإجابة:										
1-										
2-										
3-										



12	قارن بين موقع (مدافن تلل الخور)، و(لوسيل) من حيث الموقع وأهم الآثار:
الإجابة:	
وجه المقارنة	مدافن تلل الخور
الموقع	موقع لوسيل
أهم الآثار	
13	صنف المواقع الأثرية الآتية في دولة قطر في الجدول أدناه:
(قلعة الزبارة – موقع عسيلة – برجا برزان – مدافن تلل الخور – قلعة الوجبة – موقع رأس بروق – قلعة مروب – قلعة الكوت)	
الإجابة:	
المواقع الأثرية القديمة	المواقع الأثرية الحديثة



الوحدة الثالثة: الثقافة والهوية





الأسبوع	الدرس	التاريخ
5	ثقافة المجتمع القطري	29 - 03/09 - 10 / 2024م

اختر الإجابة الصحيحة لكل من الأسئلة من 1 إلى 3 وذلك بوضع علامة x داخل المربع المجاور للإجابة الصحيحة.

تعليمات

1- (ما توارثه المجتمع عن الأسلاف من مظاهر مادية ومعنوية) يسمى:

- ☐ الآثار
☐ التراث
☐ الفنون
☐ العادات

2- (مجموعة متنوعة من الأنشطة المميزة للمجتمع تشتمل على العادات والقيم والدين والسلوكيات السائدة في المجتمع)
يشير التعريف السابق لمفهوم:

- ☐ الآثار
☐ التراث
☐ الثقافة
☐ المواطنة

3- أحد عناصر الثقافة الذي يُعد نتاجاً لعملية التواصل بين جميع أهل قطر بمختلف ثقافتهم:

- ☐ التراث
☐ الفنون
☐ اللغة العربية
☐ القيم والعادات



تعليمات

عند الإجابة على الأسئلة من 04 إلى 06، اكتب إجابتك في الفراغ المخصص للإجابة:

4	عدد عناصر ثقافة المجتمع القطري.
الإجابة:	
1-	
2-	
3-	
4-	
5	وضح أثر ثقافة المجتمع على الأفراد.
الإجابة:	
1-	
2-	
6	اذكر دور الأفراد في الحفاظ على ثقافة المجتمع.
الإجابة:	
1-	
2-	
3-	