

أوراق عمل اثرائية نهاية الفصل غير مجابة



تم تحميل هذا الملف من موقع المناهج القطرية

موقع المناهج ⇨ المناهج القطرية ⇨ الصف الخامس ⇨ اجتماعيات ⇨ الفصل الأول ⇨ ملفات متنوعة ⇨ الملف

تاريخ إضافة الملف على موقع المناهج: 09:26:12 2025-12-10

ملفات اكتب للمعلم اكتب للطالب ا اختبارات الكترونية ا اختبارات ا حلول ا عروض بوربوينت ا أوراق عمل منهج انجليزي ا ملخصات وتقارير ا مذكرات وبنوك ا الامتحان النهائي للمدرس

المزيد من مادة اجتماعيات:


التواصل الاجتماعي بحسب الصف الخامس



الرياضيات



اللغة الانجليزية



اللغة العربية



التربية الاسلامية



المواد على تلغرام

صفحة المناهج القطرية على فيسبوك

المزيد من الملفات بحسب الصف الخامس والمادة اجتماعيات في الفصل الأول

أوراق عمل الفرقان نهاية الفصل مع الإجابة النموذجية

1

أوراق عمل مدرسة أم القرى نهاية الفصل غير مجابة

2

أوراق عمل مسيعيد لاختبار نهاية الفصل مع الإجابة النموذجية

3

أوراق عمل مسيعيد لاختبار نهاية الفصل غير مجابة

4

أوراق عمل مجمع الفرقان منتصف الفصل غير مجابة

5

أوراق عمل للصف الخامس

في

الدراسات الاجتماعية

لا تُغني عن الكتاب المدرسي

ورقة عمل رقم (3) 2025/11/18

السؤال الأول: اختر الإجابة الصحيحة مما يلي:

1- أكثر دول شبه الجزيرة العربية سكانا لعام 2019:

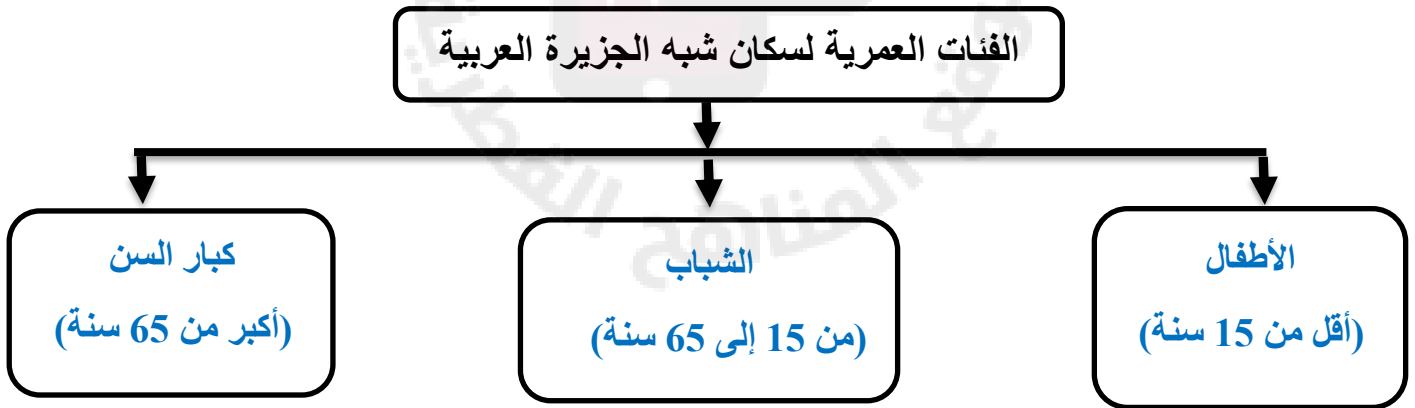
- أ - قطر. ☐
- ب - اليمن. ☐
- ج - البحرين. ☐
- د - السعودية. ☒

2 - "تصنيف السكان حسب الجنس الى ذكور وإناث" يُقصد به التركيب:

- أ - العمري. ☐
- ب - النوعي. ☒
- ج - الاجتماعي. ☐
- د - السياسي. ☐

السؤال الثاني: أجب على الأسئلة التالية:

1- أكمل المخطط المعرفي:



2- فسر أسباب تركيز السكان في المنطقة الجنوبية الشرقية (سهل الباطنة) بسلطنة عُمان:

1- خصوبة التربة

2- اعتدال المناخ

3- وفرة المياه

ورقة عمل رقم (4) 2025/11/7

السؤال الاول: أجب على الأسئلة التالية:

1 - "من الأسباب غير الطبيعية لزيادة السكان في شبه الجزيرة العربية:

ب - الهجرة.



أ - الكثافة.



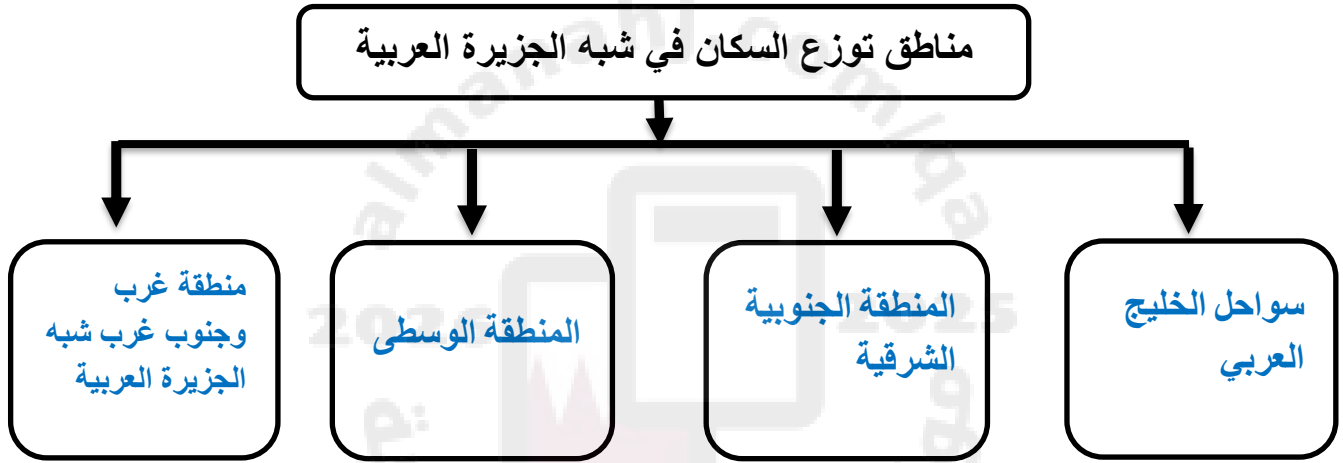
د - الوفيات.



ج - المواليد.



2- أكمل خريطة المفاهيم بما يناسب:



2- وضّح تركّز السكان في منطقة غرب وجنوب غرب شبه الجزيرة العربية.

1- المدن المقدسة (مكة المكرمة والمدينة المنورة)

2- ميناء جدة

3- جبال اليمن؛ بسبب اعتدال المناخ ووفرة مياه الأمطار

السؤال الثاني: وضّح أسباب مايلي:

أ. انخفاض نسبة الذكور في اليمن:

- الهجرة.

- الحروب .

ب - ارتفاع نسبة الذكور على الإناث في شبه الجزيرة العربية:

- العمالة الوافدة.

ورقة عمل رقم (5) 2025/10/19

السؤال الاول: اختر الاجابة الصحيحة مما يلي:

1- الشجرة الأكثر انتشارا في شبه الجزيرة العربية:

- أ - التفاح. ☐ ب - العنب. ☐
ج - النخيل. ☒ د - الزيتون. ☐

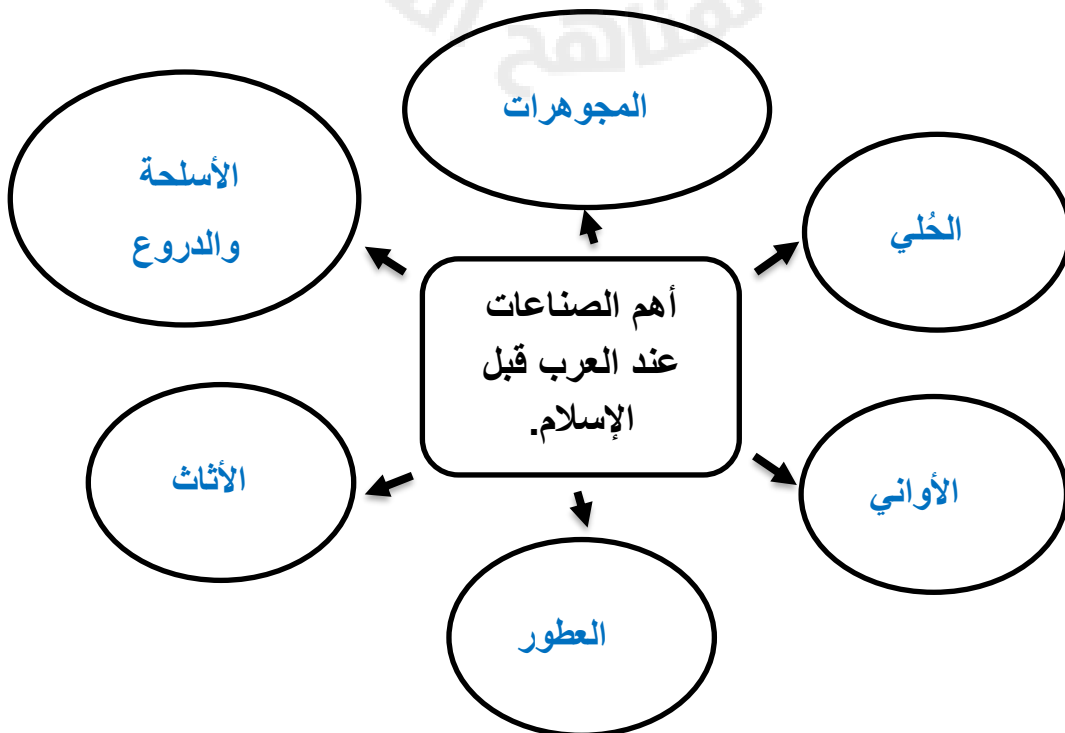
2 - " علم يتعلق بالظواهر الجوية من سحب وأمطار وحر وبرد" يشير المفهوم إلى علم:

- أ - الفلك. ☐ ب - الطب. ☐
ج - الأنواع. ☒ د - الكيمياء. ☐

3 - عبادة الله على دين سيدنا إبراهيم عليه السلام هي:

- أ - الحنيفية. ☒ ب - النصرانية. ☐
ج - اليهودية. ☐ د - الوثنية. ☐

السؤال الثاني: أكمل المخطط المعرفي التالي:



ورقة عمل رقم (6) 2025/11/ 15

السؤال الاول: اختر الاجابة الصحيحة مما يلي:

1- من العادات الحسنة عند العرب قبل الاسلام:

- أ - كرم الضيافة. ☒
 ب - العصبية القبلية. ☐
 ج - وأد البنات. ☐
 د - قطع الطرق. ☐

2 - واحدة من الآتية تنتسب الى القبائل العدنانية:

- أ - الأوس ☐
 ب - حمير. ☐
 ج - قريش. ☒
 د - الخزرج. ☐

السؤال الثاني: صنف عادات العرب قبل الإسلام حسب مكانها في الجدول:

(كرم الضيافة - وأد البنات - إغاثة الملهوف - قطع الطرق - الوفاء بالعهد - العصبية القبلية)

العادات السيئة	العادات الحسنة
العصبية للقبيلة	كرم الضيافة
قطع الطرق	إغاثة الملهوف
وأد البنات	الوفاء بالعهد

السؤال الثالث: اذكر أهم أقوام العرب البائدة.

- عاد - ثمود

- طسم وجديس - أصحاب الأيكة

ورقة عمل رقم (7) 2025/11/10

السؤال الأول: اختر الإجابة الصحيحة مما يلي:

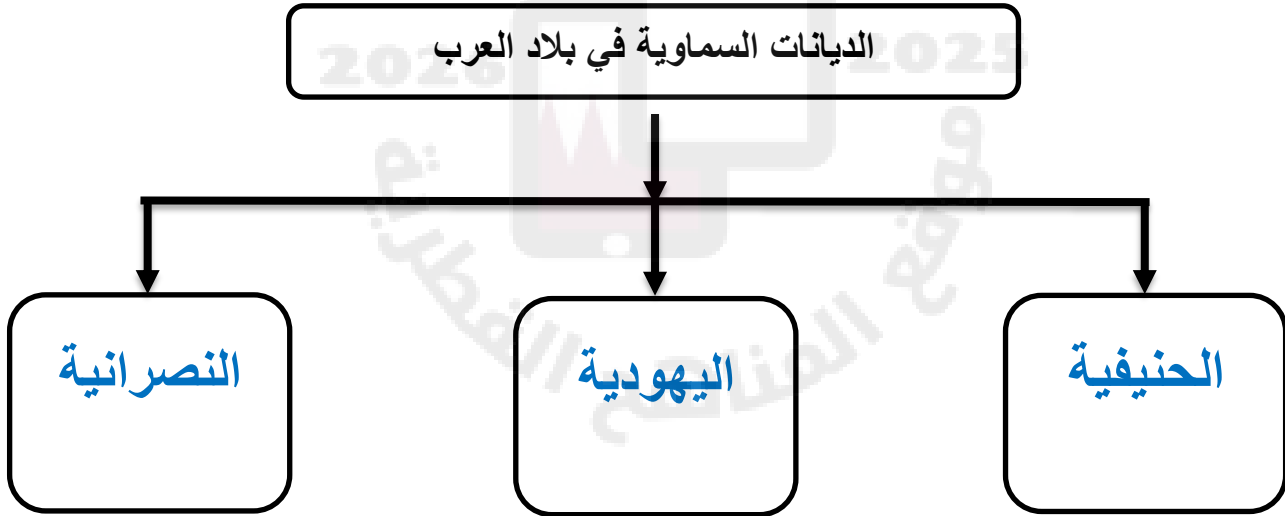
1- من القبائل العدنانية:

- أ - الأوس. ☐ ب - قريش. ☒
ج - قضاة. ☐ د - جرهم. ☐

2 - الحرفة السائدة لسكان البادية في شبه الجزيرة العربية:

- أ - الزراعة. ☐ ب - الصناعة. ☐
ج - الرعي. ☒ د - التجارة. ☐

السؤال الثاني: أكمل حل المخطط المعرفي التالي:



السؤال الثالث: وضح أثر الإسلام على الحياة الاجتماعية.

- أ- أقر الإسلام مبدأ المساواة الاجتماعية دون التمييز .
ب - شجع الإسلام على التمسك بالعادات والأخلاق الحسنة.
ج- نظم الإسلام العلاقة بين أفراد الأسرة وأعطى المرأة حقوقها كاملة.

ورقة عمل رقم (8) 2025/11/26

السؤال الأول: اختر الإجابة الصحيحة مما يلي:

1 - " القيمة التي تعبر عن احترام حقوق الإنسان بغض النظر عن جنسه أو دينه أو لغته أو أصله " يشير المفهوم السابق إلى:

- أ - الكرامة الإنسانية. ☒
- ب - التضامن. ☐
- ج - التعاون. ☐
- د - العمل التطوعي ☐

السؤال الثاني: أجب على ما يلي:

1- بيّن المظاهر الاقتصادية عند العرب:

- الرعي والزراعة: مثل الخضراوات والفواكه.
- الصناعة: مثل الأسلحة والدروع
- التجارة

السؤال الثالث:

3- وضح أهمية العمل التطوعي:

- تشجيع الفرد على البذل والعطاء.
- استغلال أوقات الفراغ في شيء مفيد.
- تقوية الروابط الاجتماعية بين أفراد المجتمع.

ورقة عمل رقم (9) 2025/11/27

السؤال الأول:

1- أكمل ملء الجدول التالي بما يناسبه:

صور الكرامة الإنسانية في الإسلام			
تحرير الإنسان من العبودية لغير الله.	المساواة في الحقوق والواجبات.	عدم إكراه غير المسلمين على اعتناق الإسلام.	منح المرأة حقوقها

2- اذكر العادات الحسنة عند العرب قبل الإسلام:

- كرم الضيافة.
- إغاثة الملهوف.
- الوفاء بالعهد.

2- أسباب زيادة سكان شبه الجزيرة العربية في السنوات الأخيرة.

- ظهور النفط والغاز.
- التقدم الطبي.

3- عدد البنود التي نص عليها الدستور القطري في المادة "36":

- الحرية الشخصية مكفولة.
- لا يعرض أي إنسان للتعذيب.

ورقة عمل رقم (10) 2025/11/16

السؤال الأول: اختر الإجابة الصحيحة مما يلي:

1 - "أقل دول شبه الجزيرة العربية سكاناً لعام 2019:

- أ - البحرين. ☒ ☐ ج - قطر.
ب - الكويت. ☐ ☐ د - السعودية.

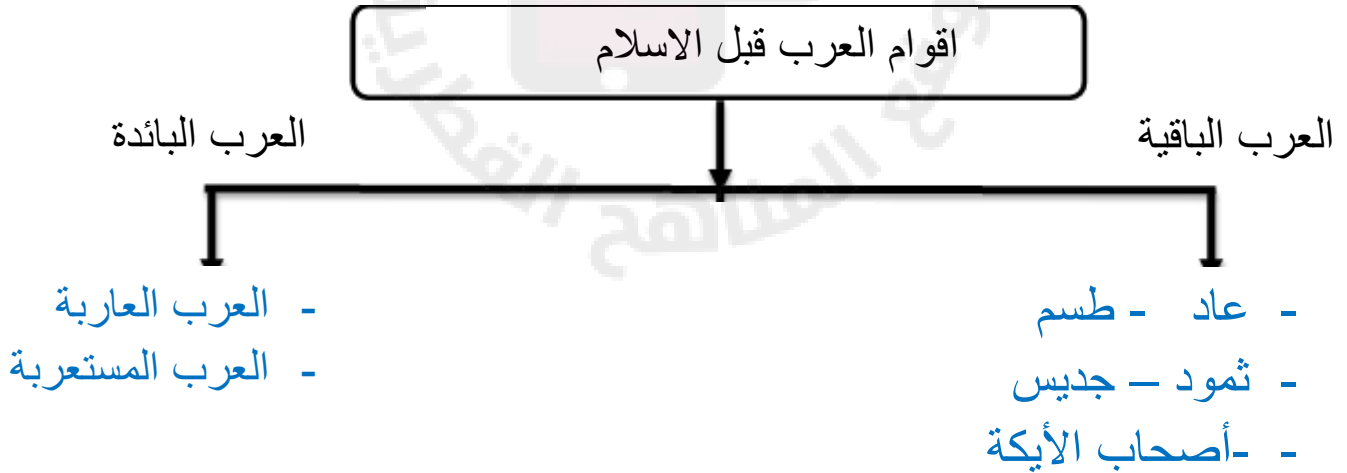
2 - أكثر دول شبه الجزيرة العربية سكاناً:

- أ - عمان. ☐ ☒ ج - السعودية.
ب - اليمن. ☐ ☐ د - الإمارات.

3 - من القبائل القحطانية:

- أ - الأوس. ☒ ☐ ج - هوازن.
ب - ثقيف. ☐ ☐ د - تغلب.

السؤال الثاني: أجب على ما يلي:



2- عدد العلوم عند العرب قبل الإسلام:

- علم الأنواء.
- علم الأثر.

ورقة عمل رقم (11) 2025/11/13

السؤال الأول: اختر الإجابة الصحيحة مما يلي:

1 - "جماعة من الناس ينتمون الى أصل واحد تربطهم رابطة الدم والنسب يقصد به تعريف :

- أ - القبيلة. ☒
 ب - مدينة ☐
 ج - الدولة. ☐
 د - قرية ☐

4 - هو معرفة وتتبع آثار الأقدام ساعدهم في ذلك الصحراء المغطاة بالرمال يقصد به:

- أ - علم الأثر. ☒
 ب - علم الانواء ☐
 ج - الطب. ☐
 د - الرياضيات. ☐

السؤال الثاني: أجب على ما يلي:

1- أثر الإسلام في تغيير الحياة السياسية عند العرب:

- حقق الإسلام وحدة العرب.

- قضى الإسلام على النزاعات القبلية.

2- أثر الإسلام في تغيير الحياة الدينية عند العرب:

- أخرج الإسلام الناس من ظلمات الشرك إلى نور الإسلام والهداية.

- نشر العدل بين الناس.

2- بما تفسر ما يلي:

أ- تسمية القحطانيون بعرب الجنوب:

- لأن موطنهم جنوب شبه الجزيرة العربية

ب- هجرة بعض القبائل القحطانية إلى وسط وشمال شبه الجزيرة العربية:

- بسبب تصدع سد مأرب

- سوء الأحوال الاقتصادية

ورقة عمل رقم (12) 2025/11/23

السؤال الاول: اختر الاجابة الصحيحة مما يلي:

1 – أحد المقومات الطبيعية للمجتمع القطري:

- أ – الأرض. ☒
 ب – الدين والشعب. ☐
 ج – العادات والتقاليد. ☐
 د – النظام السياسي. ☐

2 – أحد المقومات الثقافية للمجتمع القطري:

- أ – البيئة البحرية. ☐
 ب – النظام الاقتصادي. ☐
 ج – النظام السياسي. ☐
 د – الدين. ☒

3 – من الأزياء القطرية الرجالية:

- أ – العباءة. ☐
 ب – الثوب. ☒
 ج – البخناق. ☐
 د – الدراعة. ☐

4 – الجهد الذي يبذله الإنسان تجاه المجتمع بدون مقابل مادي:

- أ – الاحترام. ☐
 ب – التسامح. ☐
 ج – الصالح العام. ☐
 د – العمل التطوعي. ☒

5 – من المقومات الثقافية للمجتمع القطري:

- أ – الأرض. ☐
 ب – السكان. ☐
 ج – الاقتصاد. ☐
 د – العادات والتقاليد. ☒

6- " ما يقدمه الزوج من حُلي ومجوهرات وملابس قبل الزواج يقصد به:

- أ – الدزة. ☒
 ب – البخناق. ☐
 ج – العباءة. ☐
 د – الدراعة. ☐

ورقة عمل رقم (13) 2025/11/25

السؤال الثاني:-

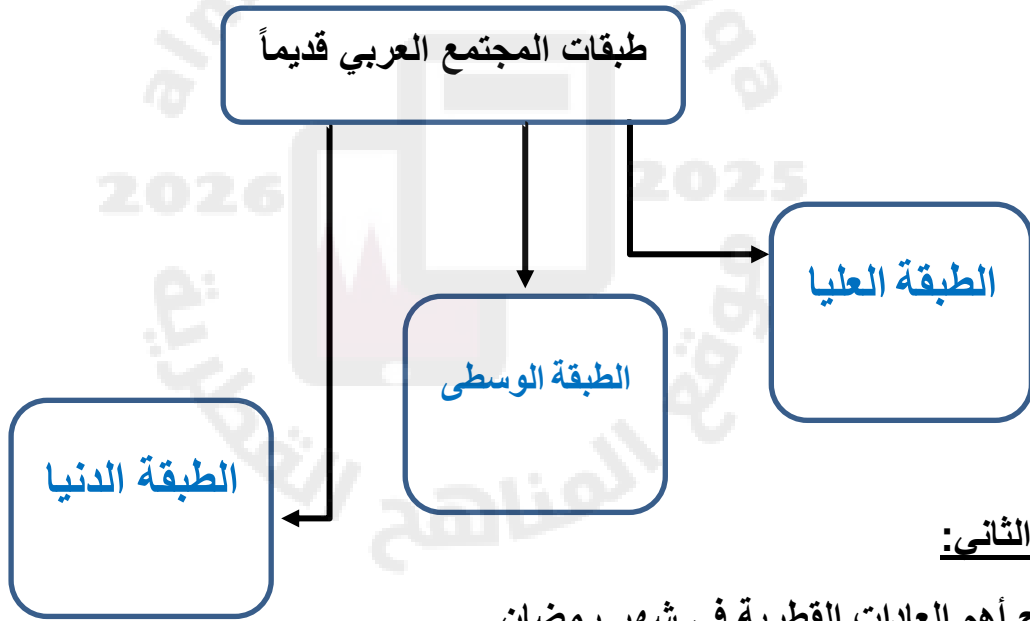
1- أذكر مقومات المجتمع القطري .مع ذكر مثلاً على كل منها.

أ - مقومات طبيعية: الأرض

ب - مقومات ثقافية: الدين واللغة

ج - مقومات بشرية: السكان

2 - أكمل خريطة المفاهيم التالية:



السؤال الثاني:-

1- وضح أهم العادات القطرية في شهر رمضان.

أ - تجهيز الأطعمة الرمضانية.

ب - الزيارات العائلية وصلة الرحم.

ج- يتزاور الناس فيما بينهم.

2 - ما دور المجتمع القطري في الحفاظ على العادات والتقاليد الإيجابية .

- الحفاظ على العادات والتقاليد.