

تم تحميل هذا الملف من موقع المناهج القطرية



أوراق عمل دعم وإثراء الفرقان منتصف الفصل مع الإجابة النموذجية

موقع المناهج ← المناهج القطرية ← المستوى الخامس ← تربية اسلامية ← الفصل الثاني ← أوراق عمل ← الملف

تاريخ إضافة الملف على موقع المناهج: 14:05:45 2025-02-17

ملفات اكتب للمعلم اكتب للطالب | اختبارات الكترونية | اختبارات | حلول | عروض بوربوينت | أوراق عمل
منهج انجليزي | ملخصات وتقارير | مذكرات وبنوك | الامتحان النهائي | للمدرس

المزيد من مادة
تربية اسلامية:

التواصل الاجتماعي بحسب المستوى الخامس



صفحة المناهج
القطرية على
فيسبوك

الرياضيات

اللغة الانجليزية

اللغة العربية

التربية الاسلامية

المواد على تلغرام

المزيد من الملفات بحسب المستوى الخامس والمادة تربية اسلامية في الفصل الثاني

أوراق عمل دعم وإثراء الفرقان منتصف الفصل غير مجابة	1
أوراق عمل دعم وإثراء الفرقان منتصف الفصل مع الإجابة النموذجية	2
أوراق عمل دعم وإثراء الفرقان منتصف الفصل غير مجابة	3
أوراق عمل الأندلس منتصف الفصل مع الإجابة النموذجية	4
أوراق عمل الأندلس منتصف الفصل غير مجابة	5

5

إجابات

الحواسبة

1446 هـ - 24-25 م

منتصف ف 2

تدريبات
دعم
وإثراء



يا رب انصر عبادك المؤمنين
وجنك الموحدين في كل مكان

حتماً ستعود

القدس والأقصى

ملحوظة: هذه التدريبات لا تقني عن الكتاب المدرسي

الصف/5-

الاسم/

التميز



س1 : ضع الكلمة المناسبة في الفراغ المناسب :

WAN

ثنائية الأبعاد

الانترنت

LAN

- ❖ الأشكال ثنائية الأبعاد لها بعدين فقط (الطول والعرض).
- ❖ شبكة الانترنت هي شبكة عالمية تتكون من ملايين الأجهزة التي تتبادل المعلومات.
- ❖ WAN هي شبكة كبيرة تغطي مناطق واسعة .
- ❖ LAN هي شبكة صغيرة تغطي مبنى أو بيت .

س2 : ضع الكلمة المناسبة في الفراغ المناسب :

المعلومات

البيانات

المؤلف

القرصنة

- ❖ المعلومات هي المخرجات الناتجة من معالجة وتنظيم الحاسوب للبيانات .
- ❖ البيانات هي حقائق أولية قد تكون أرقام أو حروف أو رموز ولا تعطي معنى.
- ❖ القرصنة هي قيام بعض الأشخاص بنسخ المواد دون ترخيص من المؤلف
- ❖ المؤلف يمتلك حقوق الملكية للعمل الذي قام به .

س3 : ضع الكلمة المناسبة في الفراغ المناسب :

أشكال ثلاثية الابعاد

البرامج المجانية

المحتوى المجاني

السرقه الأدبية

❖ السرقه الأدبية..... هي نسخ عمل شخص آخر والادعاء بأنه من عملك..❖ المحتوى المجاني.... هو أي نوع من المعلومات، أو الأعمال الفنية أو الأدبية أو غيرها التي

عليها قيود لاستخدام الأشخاص.

❖ . البرامج المجانية . هي برامج الحاسوب التي يمكن استخدامها، وإعادة توزيعها بدون أي قيود.❖ أشكال ثلاثية الابعاد.. هي كائنات ذات ثلاثة أبعاد الطول – العرض - الارتفاع .

س4 : ضع دائرة حول الإجابة الصحيحة فيما يلي :**1 - الأشكال ثنائية الأبعاد هي :**

- A . كائنات ذات أربعة أبعاد
B . كائنات ذات بعدين الطول والعرض فقط
C . كائنات ذات ثلاثة أبعاد الطول والعرض والارتفاع
D . كائنات ذات بعد واحد طول فقط

2 - من أمثلة الأشكال ثنائية الأبعاد :

- A . دائرة
B . كرة
C . مكعب
D . مخروط

3- الأسطوانة من أمثلة الأشكال

- A . الأشكال رباعية الأبعاد
B . الأشكال ثلاثية الأبعاد
C . الأشكال ثنائية الأبعاد
D . الأشكال خماسية الأبعاد

4 - الشبكة المحلية LAN هي عبارة عن :

- A . شبكة صغيرة
B . شبكة كبيرة
C . شبكة تغطي مناطق واسعة
D . شبكة الإنترنت

5 - شبكة الإنترنت هي شبكة تتكون من ملايين أجهزة الحاسوب التي تتبادل المعلومات :

- A . صغيرة
B . مدرسة
C . بلد
D . عالمية

6 - البيانات هي :

- A . مجرد مجموعة من الأعداد فقط .
- B . قد تكون أرقام أو حروف أو رموز ولا تعطي معنى
- C . معلومات منظمة .
- D . حقائق نهائية .

7 - أي نوع من أنواع البيانات يتضمن مجموعة من الأعداد من 0 إلى 9 :

- A . البيانات العددية
- B . البيانات الصوتية
- C . البيانات الأبجدية
- D . البيانات الأبجدية العددية

8 - ما هو الفرق بين البيانات والمعلومات:

- A . مفهومان يطلقان على الشيء نفسه .
- B . البيانات الرقمية والمعلومات نصية.
- C . البيانات قيم أساسية والمعلومات قيم نهائية .
- D . الحواسيب تحفظ البيانات

9- هي فكرة أو ابتكار أو عمل قام به شخص ما مثل الاختراعات والمصنفات الأدبية والفنية :

- A . الإنترنت
- B . الملكية الفكرية
- C . الشبكات المحلية
- D . الشبكات واسعة المجال

10 - هي نسخ مواضيع إلى مواقعهم الشخصية دون ترخيص من المؤلف :

- A . برامج الحاسوب
- B . الأشكال ثلاثية الأبعاد
- C . المحتوى المجاني
- D . القرصنة

س5 : أجب عن الأسئلة التالية :

- اذكر الأبعاد التي تتكون منها الأشكال ثلاثية الأبعاد **D3** :

.....الطول.....

.....العرض.....

.....الارتفاع.....

- اذكر أنواع الشبكات:

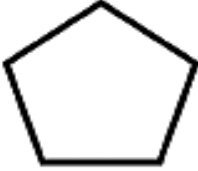





.....الشبكة المحلية LAN.....

.....الشبكة الواسعة WAN.....

قارن بين البيانات والمعلومات

وجه المقارنة	البيانات	المعلومات
التعريف	حقائق أولية لا تعطي معنى	بيانات منظمة ومرتبطة
الفهم	صعبه الفهم	سهله الفهم
التنظيم	غير منظمة	منظمة
مدخلات / مخرجات	مدخلات	مخرجات

س6 : أختَر نوع الشكل ثنائي الأبعاد (2D) أم ثلاثي الأبعاد (3D) :

3D	2D	
<input type="checkbox"/>	<input checked="" type="checkbox"/>	
<input checked="" type="checkbox"/>	<input type="checkbox"/>	
<input checked="" type="checkbox"/>	<input type="checkbox"/>	
<input type="checkbox"/>	<input checked="" type="checkbox"/>	
<input checked="" type="checkbox"/>	<input type="checkbox"/>	
<input checked="" type="checkbox"/>	<input type="checkbox"/>	

س7 : أختَر الخصائص التي تمثل الشبكة :

<u>الخصائص</u>	<u>الشبكة المحلية</u>	<u>الشبكة الواسعة</u>
اختصار الاسم WAN	<input type="checkbox"/>	<input checked="" type="checkbox"/>
اختصار الاسم LAN	<input checked="" type="checkbox"/>	<input type="checkbox"/>
شبكة صغيرة	<input checked="" type="checkbox"/>	<input type="checkbox"/>
شبكة كبيرة	<input type="checkbox"/>	<input checked="" type="checkbox"/>
مثال عليها (الانترنت)	<input type="checkbox"/>	<input checked="" type="checkbox"/>
مثال عليها (المدرسة)	<input checked="" type="checkbox"/>	<input type="checkbox"/>

س8 : أختَر نوع البيانات الصحيح:

البيانات	البيانات العددية	البيانات الأبجدية	البيانات الأبجدية العددية
30.25	<input checked="" type="radio"/>	<input type="radio"/>	<input type="radio"/>
Qatar	<input type="radio"/>	<input checked="" type="radio"/>	<input type="radio"/>
Airbus - A380	<input type="radio"/>	<input type="radio"/>	<input checked="" type="radio"/>
Four Seasons	<input type="radio"/>	<input checked="" type="radio"/>	<input type="radio"/>
سعد	<input type="radio"/>	<input checked="" type="radio"/>	<input type="radio"/>
mm 10:25	<input type="radio"/>	<input type="radio"/>	<input checked="" type="radio"/>