

أوراق عمل اثرائية نهاية الفصل غير مجابة



تم تحميل هذا الملف من موقع المناهج القطرية

موقع المناهج ⇨ المناهج القطرية ⇨ الصف الخامس ⇨ اجتماعيات ⇨ الفصل الأول ⇨ ملفات متنوعة ⇨ الملف

تاريخ إضافة الملف على موقع المناهج: 09:28:11 2025-12-10

ملفات اكتب للمعلم اكتب للطالب ا اختبارات الكترونية ا اختبارات ا حلول ا عروض بوربوينت ا أوراق عمل منهج انجليزي ا ملخصات وتقارير ا مذكرات وبنوك ا الامتحان النهائي ا للمدرس

المزيد من مادة اجتماعيات:

التواصل الاجتماعي بحسب الصف الخامس



صفحة المناهج
القطرية على
فيسبوك

الرياضيات

اللغة الانجليزية

اللغة العربية

التربية الاسلامية

المواد على تلغرام

المزيد من الملفات بحسب الصف الخامس والمادة اجتماعيات في الفصل الأول

أوراق عمل اثرائية نهاية الفصل مع الإجابة النموذجية

1

أوراق عمل الفرقان نهاية الفصل مع الإجابة النموذجية

2

أوراق عمل مدرسة أم القرى نهاية الفصل غير مجابة

3

أوراق عمل مسيعيد لاختبار نهاية الفصل مع الإجابة النموذجية

4

أوراق عمل مسيعيد لاختبار نهاية الفصل غير مجابة

5

أوراق عمل للصف الخامس

في

الدراسات الاجتماعية

لا تُغني عن الكتاب المدرسي

ورقة عمل رقم (3) 2025/11/18

السؤال الأول: اختر الإجابة الصحيحة مما يلي:

1- أكثر دول شبه الجزيرة العربية سكانا لعام 2019:

- أ - قطر. ☐ ب - اليمن. ☐
ج - البحرين. ☐ د - السعودية. ☐

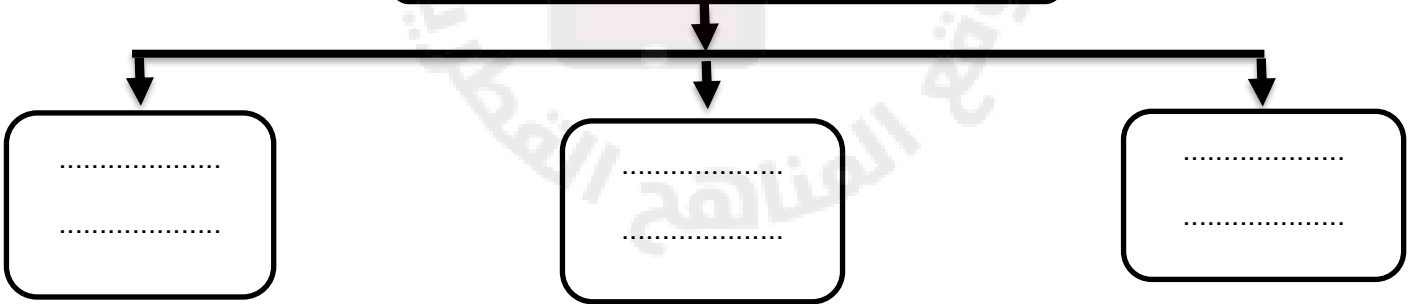
2 - "تصنيف السكان حسب الجنس الى ذكور وإناث" يُقصد به التركيب:

- أ - العمري. ☐ ب - النوعي. ☐
ج - الاجتماعي. ☐ د - السياسي. ☐

السؤال الثاني: أجب على الأسئلة التالية:

1- أكمل المخطط المعرفي:

الفئات العمرية لسكان شبه الجزيرة العربية



2- فسر أسباب تركيز السكان في المنطقة الجنوبية الشرقية (سهل الباطنة) بسلطنة عُمان:

-
.....
.....

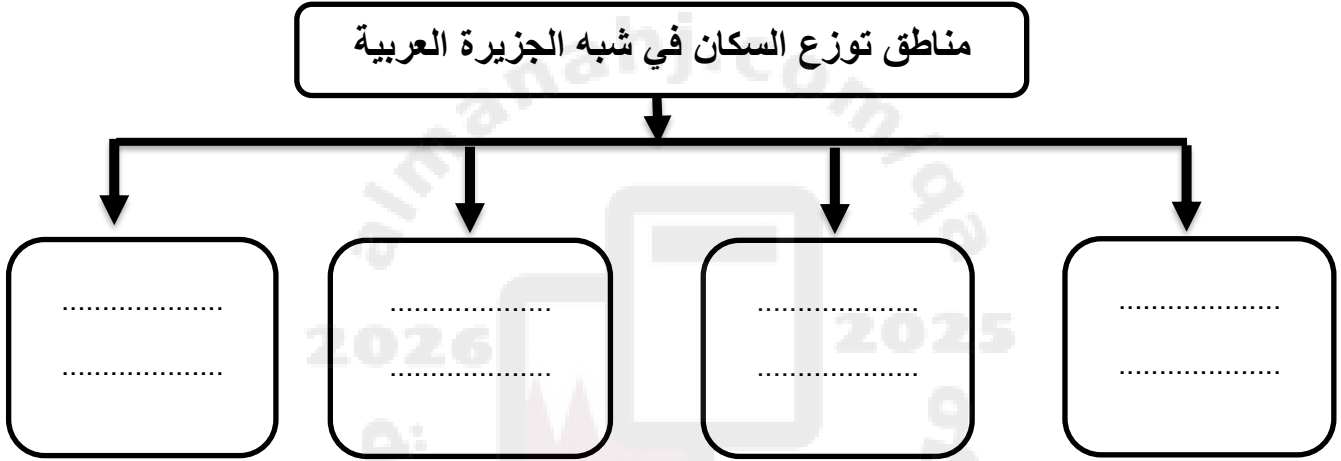
ورقة عمل رقم (4) 2025/11/7

السؤال الاول: أجب على الأسئلة التالية:

1 - "من الأسباب غير الطبيعية لزيادة السكان في شبه الجزيرة العربية:

- ☐ أ - الكثافة. ☐ ب - الهجرة.
☐ ج - المواليد. ☐ د - الوفيات.

2- أكمل خريطة المفاهيم بما يناسب:



2- وضّح تركّز السكان في منطقة غرب وجنوب غرب شبه الجزيرة العربية.

.....
.....
.....

السؤال الثاني: وضّح أسباب مايلي:

أ- انخفاض نسبة الذكور في اليمن:

.....
.....

ب - ارتفاع نسبة الذكور على الإناث في شبه الجزيرة العربية:

.....

ورقة عمل رقم (5) 2025/10/19

السؤال الأول: اختر الإجابة الصحيحة مما يلي:

1- الشجرة الأكثر انتشارا في شبه الجزيرة العربية:

أ - التفاح. ☐ ب - الغناب. ☐

ج - النخيل. ☐ د - الزيتون. ☐

2 - " علم يتعلق بالظواهر الجوية من سحب وأمطار وحر وبرد" يشير المفهوم إلى علم:

أ - الفلك. ☐ ب - الطب. ☐

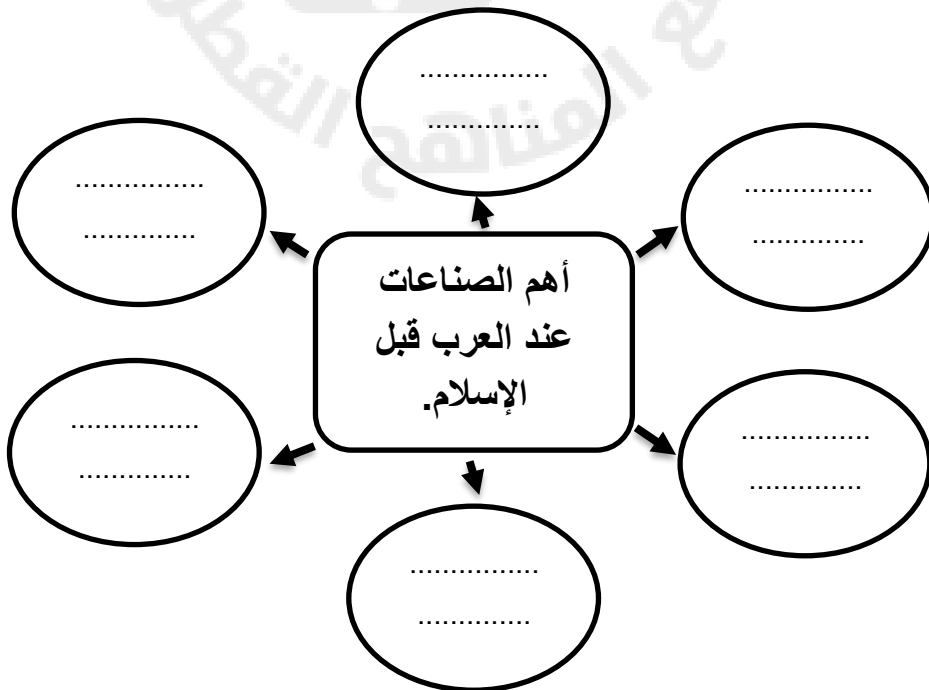
ج - الأنواء. ☐ د - الكيمياء. ☐

3 - عبادة الله على دين سيدنا إبراهيم عليه السلام هي:

أ - الحنيفية. ☐ ب - النصرانية. ☐

ج - اليهودية. ☐ د - الوثنية. ☐

السؤال الثاني: أكمل المخطط المعرفي التالي:



ورقة عمل رقم (6) 15/ 11/ 2025

السؤال الأول: اختر الإجابة الصحيحة مما يلي:

1- من العادات الحسنة عند العرب قبل الإسلام:

- أ - كرم الضيافة. ☐ ب - العصبية القبلية. ☐
ج - وأد البنات. ☐ د - قطع الطرق. ☐

2 - واحدة من الآتية تنتسب إلى القبائل العدنانية:

- أ - الأوس ☐ ب - حمير. ☐
ج - قريش. ☐ د - الخزرج. ☐

السؤال الثاني: صنف عادات العرب قبل الإسلام حسب مكانها في الجدول:

(كرم الضيافة - وأد البنات - إغاثة الملهوف - قطع الطرق - الوفاء بالعهد - العصبية القبلية)

العادات السيئة	العادات الحسنة
.....
.....
.....

السؤال الثالث: اذكر أهم أقوام العرب البائدة.

-
.....

ورقة عمل رقم (7) 2025/11/10

السؤال الأول: اختر الإجابة الصحيحة مما يلي:

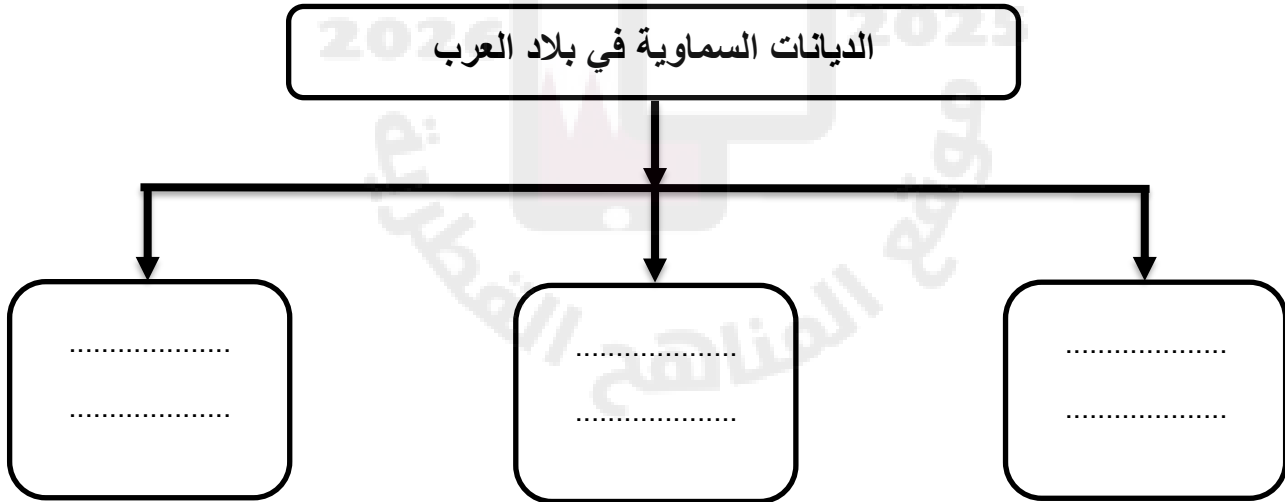
1- من القبائل العدنانية:

- أ - الأوس. ☐ ب - قريش. ☐
ج - قضاة. ☐ د - جرهم. ☐

2 - الحرفة السائدة لسكان البادية في شبه الجزيرة العربية:

- أ - الزراعة. ☐ ب - الصناعة. ☐
ج - الرعي. ☐ د - التجارة. ☐

السؤال الثاني: أكمل حل المخطط المعرفي التالي:



السؤال الثالث: وضح أثر الإسلام على الحياة الاجتماعية.

- أ-
ب -
ج-

ورقة عمل رقم (8) 2025/11/26

السؤال الأول: اختر الإجابة الصحيحة مما يلي:

1 – " القيمة التي تعبر عن احترام حقوق الانسان بغض النظر عن جنسه او دينه او لغته او اصله " يشير المفهوم السابق إلى:

- ☐ أ – الكرامة الانسانية. ☐ ب – التضامن.
☐ ج – التعاون. ☐ د – العمل التطوعي

السؤال الثاني: أجب على ما يلي:

2- بين المظاهر الاقتصادية عند العرب:

- -
..... -
..... -

السؤال الثالث:-

3- وضح أهمية العمل التطوعي:

- -
..... -
..... -

ورقة عمل رقم (9) 2025/11/27

السؤال الأول:

1- أكمل ملء الجدول التالي بما يناسبه:

صور الكرامة الإنسانية في الإسلام			
.....
.....
.....
.....
.....

2- اذكر العادات الحسنة عند العرب قبل الإسلام:

-
-
-

2- أسباب زيادة سكان شبه الجزيرة العربية في السنوات الأخيرة.

-
-

3- عدد البنود التي نص عليها الدستور القطري في المادة "36":

-
-

ورقة عمل رقم (10) 2025/11/16

السؤال الأول: اختر الإجابة الصحيحة مما يلي:

1 - "أقل دول شبه الجزيرة العربية سكاناً لعام 2019 :

- أ - البحرين. ☐ ب - الكويت ☐
ج - قطر. ☐ د - السعودية. ☐

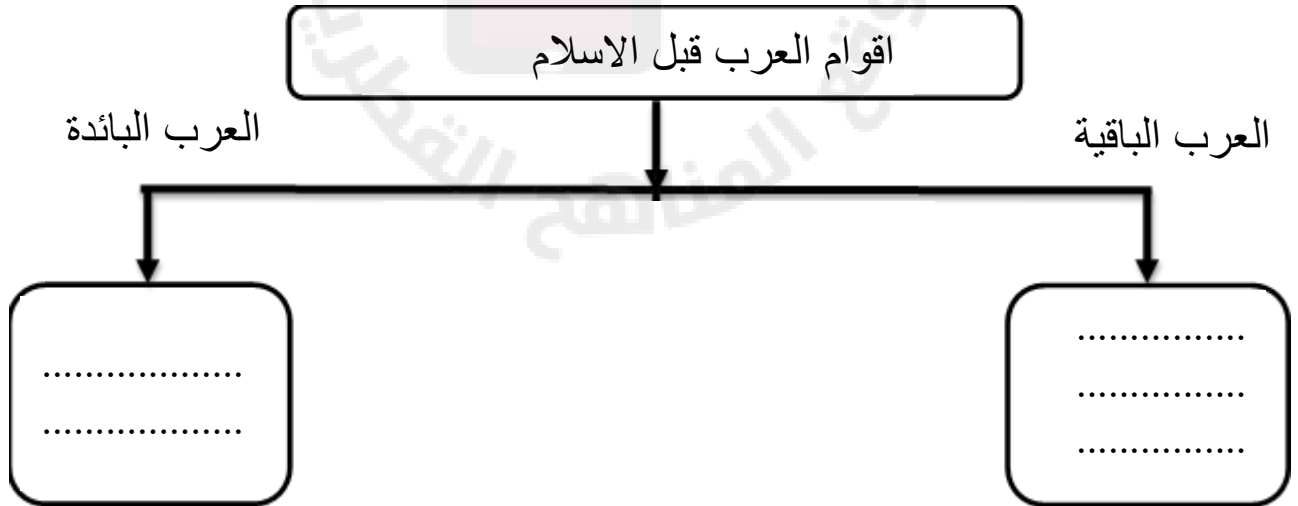
2 - أكثر دول شبه الجزيرة العربية سكاناً:

- أ - عمان. ☐ ب - اليمن. ☐
ج - السعودية. ☐ د - الإمارات. ☐

3 - من القبائل القحطانية :

- أ - الأوس. ☐ ب - ثقيف. ☐
ج - هوازن. ☐ د - تغلب. ☐

السؤال الثاني: أجب على ما يلي:



2- عدد العلوم عند العرب قبل الإسلام :

-
-

ورقة عمل رقم (11) 2025/11/13

السؤال الاول: اختر الاجابة الصحيحة مما يلي:

1 - "جماعة من الناس ينتمون الى أصل واحد تربطهم رابطة الدم والنسب يقصد به تعريف :

أ - القبيلة . ☐ ب - مدينة ☐

ج - الدولة . ☐ د - قرية ☐

4 - هو معرفة وتتبع آثار الأقدام ساعدهم في ذلك الصحراء المغطاة بالرمال يقصد به :

أ - علم الأثر . ☐ ب - علم الانواء ☐

ج - الطب . ☐ د - الرياضيات . ☐

السؤال الثاني: أجب على ما يلي:

1- أثر الإسلام في تغيير الحياة السياسية عند العرب:

.....

.....

2- أثر الإسلام في تغيير الحياة الدينية عند العرب:

.....

.....

2- بما تفسر ما يلي:

أ- تسمية القحطانيون بعرب الجنوب:

.....

ب- هجرة بعض القبائل القحطانية إلى وسط وشمال شبه الجزيرة العربية:

.....

.....

ورقة عمل رقم (12) 2025/11/23

السؤال الاول: اختر الاجابة الصحيحة مما يلي:

1 – أحد المقومات الطبيعية للمجتمع القطري:

- أ – الأرض. ☐ ب – الدين والشعب. ☐
ج – العادات والتقاليد. ☐ د – النظام السياسي. ☐

2 – أحد المقومات الثقافية للمجتمع القطري:

- أ – البيئة البحرية. ☐ ب – النظام الاقتصادي. ☐
ج – النظام السياسي. ☐ د – الدين. ☐

3 – من الأزياء القطرية الرجالية:

- أ – العباءة. ☐ ب – الثوب. ☐
ج – البخناق. ☐ د – الدراعة. ☐

4 – الجهد الذي يبذله الإنسان تجاه المجتمع بدون مقابل مادي:

- أ – الاحترام. ☐ ب – التسامح. ☐
ج – الصالح العام. ☐ د – العمل التطوعي. ☐

5 – من المقومات الثقافية للمجتمع القطري:

- أ – الأرض. ☐ ب – السكان. ☐
ج – الاقتصاد. ☐ د – العادات والتقاليد. ☐

6- " ما يقدمه الزوج من خلي ومجوهرات وملابس قبل الزواج يقصد به:

- أ – الدزة. ☐ ب – البخناق. ☐
ج – العباءة. ☐ د – الدراعة. ☐

ورقة عمل رقم (13) 2025/11/25

السؤال الثاني:-

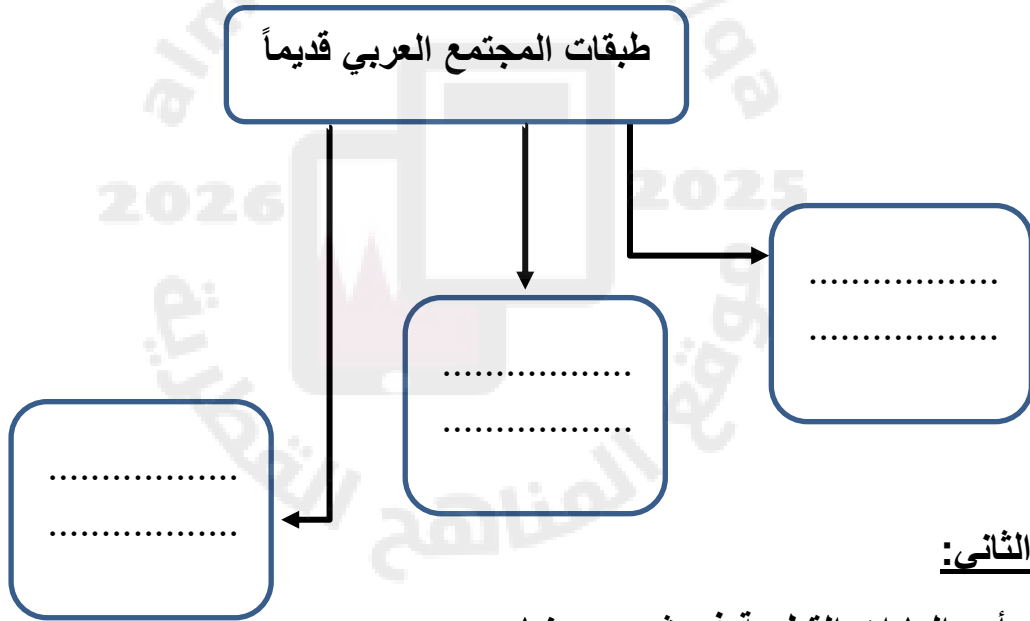
1- أذكر مقومات المجتمع القطري .مع ذكر مثالا على كل منها.

أ - -

ب - -

ج - -

2 - أكمل خريطة المفاهيم التالية:



السؤال الثاني:-

1- وضح أهم العادات القطرية في شهر رمضان.

أ - -

ب - -

ج - -

2 - ما دور المجتمع القطري في الحفاظ على العادات والتقاليد الإيجابية .

- -