

تم تحميل هذا الملف من موقع المناهج القطرية



أوراق عمل دعم وإثراء الفرقان منتصف الفصل غير مجابة

موقع المناهج ← المناهج القطرية ← المستوى الخامس ← تربية اسلامية ← الفصل الثاني ← أوراق عمل ← الملف

تاريخ إضافة الملف على موقع المناهج: 14:04:33 2025-02-17

ملفات اكتب للمعلم اكتب للطالب | اختبارات الكترونية | اختبارات | حلول | عروض بوربوينت | أوراق عمل
منهج انجليزي | ملخصات وتقارير | مذكرات وبنوك | الامتحان النهائي | للمدرس

المزيد من مادة
تربية اسلامية:

التواصل الاجتماعي بحسب المستوى الخامس



صفحة المناهج
القطرية على
فيسبوك

الرياضيات

اللغة الانجليزية

اللغة العربية

التربية الاسلامية

المواد على تلغرام

المزيد من الملفات بحسب المستوى الخامس والمادة تربية اسلامية في الفصل الثاني

أوراق عمل دعم وإثراء الفرقان منتصف الفصل مع الإجابة النموذجية	1
أوراق عمل دعم وإثراء الفرقان منتصف الفصل غير مجابة	2
أوراق عمل الأندلس منتصف الفصل مع الإجابة النموذجية	3
أوراق عمل الأندلس منتصف الفصل غير مجابة	4
جدول مواصفات اختبار منتصف الفصل	5

5

الحوسبة

1446 هـ - 24-25 م

منتصف ف 2

تدريبات
دعم
وإثراء



يا رب انصر عبادك المؤمنين
وجنّدك الموحدين في كل مكان

القدس والأقصى ▼ حتماً ستعود

ملحوظة: هذه التدريبات لا تقني عن الكتاب المدرسي

الاسم / الصف / 5-

التميز



س1 : ضع الكلمة المناسبة في الفراغ المناسب :

WAN

ثنائية الأبعاد

الانترنت

LAN

❖ الأشكال لها بعدين فقط (الطول والعرض).

❖ شبكة هي شبكة عالمية تتكون من ملايين الأجهزة التي تتبادل المعلومات.

❖ هي شبكة كبيرة تغطي مناطق واسعة .

❖ هي شبكة صغيرة تغطي مبنى أو بيت .

س2 : ضع الكلمة المناسبة في الفراغ المناسب :

المعلومات

البيانات

المؤلف

القرصنة

❖ هي المخرجات الناتجة من معالجة وتنظيم الحاسوب للبيانات .

❖ هي حقائق أولية قد تكون أرقام أو حروف أو رموز ولا تعطي معنى.

❖ هي قيام بعض الأشخاص بنسخ المواد دون ترخيص من المؤلف

❖ يمتلك حقوق الملكية للعمل الذي قام به .

س3 : ضع الكلمة المناسبة في الفراغ المناسب :

السرقَة الأدبية

المحتوى المجاني

البرامج المجانية

أشكال ثلاثية الأبعاد

❖ هي نسخ عمل شخص آخر والادعاء بأنه من عملك..

❖ هو أي نوع من المعلومات، أو الأعمال الفنية أو الأدبية أو غيرها التي

عليها قيود لاستخدام الأشخاص.

❖ هي برامج الحاسوب التي يمكن استخدامها، وإعادة توزيعها بدون أي

قيود.

❖ هي كائنات ذات ثلاثة أبعاد الطول – العرض – الارتفاع .

س4 : ضع دائرة حول الإجابة الصحيحة فيما يلي :**1 - الأشكال ثنائية الأبعاد هي :**

- A . كائنات ذات أربعة أبعاد
- B . كائنات ذات بعدين الطول والعرض فقط
- C . كائنات ذات ثلاثة أبعاد الطول والعرض والارتفاع
- D . كائنات ذات بعد واحد طول فقط

2 - من أمثلة الأشكال ثنائية الأبعاد :

- A . دائرة
- B . كرة
- C . مكعب
- D . مخروط

3- الأسطوانة من أمثلة الأشكال

- A . الأشكال رباعية الأبعاد
- B . الأشكال ثلاثية الأبعاد
- C . الأشكال ثنائية الأبعاد
- D . الأشكال خماسية الأبعاد

4 - الشبكة المحلية LAN هي عبارة عن :

- A . شبكة صغيرة
- B . شبكة كبيرة
- C . شبكة تغطي مناطق واسعة
- D . شبكة الإنترنت

5 - شبكة الإنترنت هي شبكة تتكون من ملايين أجهزة الحاسوب التي تتبادل المعلومات :

- A . صغيرة
- B . مدرسة
- C . بلد
- D . عالمية

6 - البيانات هي :

- A . مجرد مجموعة من الأعداد فقط .
- B . قد تكون أرقام أو حروف أو رموز ولا تعطي معنى
- C . معلومات منظمة .
- D . حقائق نهائية .

7 - أي نوع من أنواع البيانات يتضمن مجموعة من الأعداد من 0 إلى 9 :

- A . البيانات العددية
- B . البيانات الصوتية
- C . البيانات الأبجدية
- D . البيانات الأبجدية العددية

8 - ما هو الفرق بين البيانات والمعلومات :

- A . مفهومان يطلقان على الشيء نفسه .
- B . البيانات الرقمية والمعلومات نصية.
- C . البيانات قيم أساسية والمعلومات قيم نهائية .
- D . الحواسيب تحفظ البيانات

9- هي فكرة أو ابتكار أو عمل قام به شخص ما مثل الاختراعات والمصنفات الأدبية والفنية :

- A . الإنترنت
- B . الملكية الفكرية
- C . الشبكات المحلية
- D . الشبكات واسعة المجال

10 - هي نسخ مواضع إلى مواقعهم الشخصية دون ترخيص من المؤلف :

- A . برامج الحاسوب
- B . الأشكال ثلاثية الأبعاد
- C . المحتوى المجاني
- D . القرصنة

س5 : أجب عن الأسئلة التالية :

- اذكر الأبعاد التي تتكون منها الأشكال ثلاثية الأبعاد D3 :

.....

.....

.....

- اذكر أنواع الشبكات:

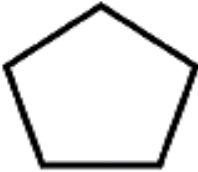





.....

.....

قارن بين البيانات والمعلومات

وجه المقارنة	البيانات	المعلومات
التعريف		
الفهم		
التنظيم		
مدخلات / مخرجات		

س6 : أختَر نوع الشكل ثنائي الأبعاد (2D) أم ثلاثي الأبعاد (3D) :

3D	2D	
<input type="checkbox"/>	<input type="checkbox"/>	
<input type="checkbox"/>	<input type="checkbox"/>	
<input type="checkbox"/>	<input type="checkbox"/>	
<input type="checkbox"/>	<input type="checkbox"/>	
<input type="checkbox"/>	<input type="checkbox"/>	
<input type="checkbox"/>	<input type="checkbox"/>	

س7 : أختَر الخصائص التي تمثل الشبكة :

<u>الخصائص</u>	<u>الشبكة المحلية</u>	<u>الشبكة الواسعة</u>
اختصار الاسم WAN	<input type="checkbox"/>	<input type="checkbox"/>
اختصار الاسم LAN	<input type="checkbox"/>	<input type="checkbox"/>
شبكة صغيرة	<input type="checkbox"/>	<input type="checkbox"/>
شبكة كبيرة	<input type="checkbox"/>	<input type="checkbox"/>
مثال عليها (الانترنت)	<input type="checkbox"/>	<input type="checkbox"/>
مثال عليها (المدرسة)	<input type="checkbox"/>	<input type="checkbox"/>

س8 : أختَر نوع البيانات الصحيح:

البيانات	البيانات العددية	البيانات الأبجدية	البيانات الأبجدية العددية
30.25	<input type="radio"/>	<input type="radio"/>	<input type="radio"/>
Qatar	<input type="radio"/>	<input type="radio"/>	<input type="radio"/>
Airbus - A380	<input type="radio"/>	<input type="radio"/>	<input type="radio"/>
Four Seasons	<input type="radio"/>	<input type="radio"/>	<input type="radio"/>
سعد	<input type="radio"/>	<input type="radio"/>	<input type="radio"/>
mm 10:25	<input type="radio"/>	<input type="radio"/>	<input type="radio"/>