

## أوراق عمل الفرقان نهاية الفصل مع الإجابة النموذجية



### تم تحميل هذا الملف من موقع المناهج القطرية

موقع المناهج ⇨ المناهج القطرية ⇨ الصف الخامس ⇨ علوم الحاسب ⇨ الفصل الأول ⇨ ملفات متنوعة ⇨ الملف

تاريخ إضافة الملف على موقع المناهج: 22:32:07 2025-12-10

ملفات اكتب للمعلم اكتب للطالب ا اختبارات الكترونية ا اختبارات ا حلول ا عروض بوربوينت ا أوراق عمل  
منهج انجليزي ا ملخصات وتقارير ا مذكرات وبنوك ا الامتحان النهائي ا للمدرس

المزيد من مادة  
علوم الحاسب:

إعداد: مجمع الفرقان

### التواصل الاجتماعي بحسب الصف الخامس



صفحة المناهج  
القطرية على  
فيسبوك

الرياضيات

اللغة الانجليزية

اللغة العربية

التربية الاسلامية

المواد على تلغرام

### المزيد من الملفات بحسب الصف الخامس والمادة علوم الحاسب في الفصل الأول

أوراق عمل مدرسة الزبير بن العوام نهاية الفصل مع الإجابة النموذجية

1

أوراق عمل الجانب العملي نهاية الفصل مدرسة عبدالله بن رواحة

2

أوراق عمل وتدريبات نهاية الفصل مع الإجابة النموذجية

3

أوراق عمل مدرسة عبدالله بن رواحة نهاية الفصل غير مجابة

4

أوراق عمل مدرسة الزبير بن العوام نهاية الفصل غير مجابة

5

# 5

## إجابات

# الحوسبة

1447 هـ - 25-26 م

تدريبات  
دعم  
وإثراء

## نهاية ف 1



يا رب انصر عبادك المؤمنين  
وجندك الموحدين في كل مكان

القدس والأقصى ▼ حتماً ستعود

ملحوظة: هذه التدريبات لا تقني عن الكتاب المدرسي

الاسم / ..... الصف / 5-

التميز



مراجعة نهاية الفصل الدراسي الأول 2025-2026 م

مادة الحوسبة وتكنولوجيا المعلومات

الصف الخامس



السؤال الأول : اختر الإجابة الصحيحة فيما يأتي :

1.	مجموعه من التعليمات مكتوبة بإحدى لغات البرمجة ينفذها الحاسوب لتحقيق هدف معين :				
أ.	الشفرة	ب.	البرنامج	ج.	لغة الآلة
				د.	الخوارزمية

2.	هي مجموعة من برامج الحاسوب الصممة لمساعدة الأشخاص في تنفيذ مهمة ما :				
أ.	نظام التشغيل.	ب.	المترجمات	ج.	التطبيقات البرمجية
				د.	لغة البرمجة.

3.	ما هو التطبيق المستخدم في التواصل عبر الأنترنت ويستخدم للاتصالات المرئية وارسال الرسائل والصور؟				
أ.	WhatsApp.	ب.	Chat gpt.	ج.	YouTube.
				د.	Google photos

4.	ما هو التطبيق الذي يستخدم كمحرك للبحث ويمكن المستخدم من البحث عبر الانترنت ؟				
أ.	Turtle art.	ب.	google.	ج.	YouTube
				د.	telegram.







مراجعة نهاية الفصل الدراسي الأول 2025-2026 م

مادة الحوسبة وتكنولوجيا المعلومات

الصف الخامس

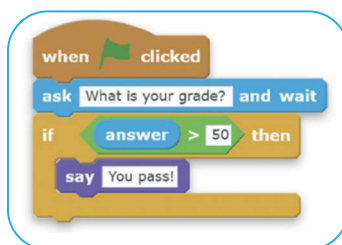


5.	لكي نصمم برنامج يجب علينا اتباع .....				
أ.	خطوات انشاء البرنامج	ب.	الخوارزمية.	ج.	التدرج الهرمي .
د.	المخطط الانسيابي.				

6.	هوشكل من اشكال المخطط الانسيابي يستخدم في البدايات والنهايات ؟				
أ.		ب.		ج.	
د.					

7.	هي طريقة تستخدم في تمثيل الخوارزمية وتعطي صوررسومية واضحة :				
أ.	تخطيط الصفحة .	ب.	Scratch .	ج.	المخطط الانسيابي.
د.	الصفحة الرئيسية.				

8.	في اللبنة البرمجية الآتية ما هي الجملة الشرطية المستخدمة ؟				
أ.	If-then	ب.	If_then_else	ج.	repeat
د.	Repeat_until				





السؤال الثاني: ضع الكلمة المناسبة في الفراغ المناسب:

Google maps

تحليل المشكلة

المبرمج

كتابة الكود البرمجي

وسائل التواصل الاجتماعي

معالج النصوص

1. من اهم تطبيقات الويب الذي يمكن الوصول اليها عبرمتصفح الانترنت.. وسائل التواصل الاجتماعي

2. يعتبر... معالج النصوص ..... من التطبيقات البرمجية التي لا تحتاج الاتصال بالانترنت .

3. قبل ان نبدأ في تصميم البرنامج يجب علينا.. تحليل المشكلة ..... لنتمكن من حلها .

4. في خطوة ..... كتابة الكود البرمجي ..... نقوم بتحويل الخطوات الي تعليمات برمجية.

5. يستخدم.. Google maps . لمعرفة الأماكن ويستخدم تكنولوجيا تحديد المواقع GPS.

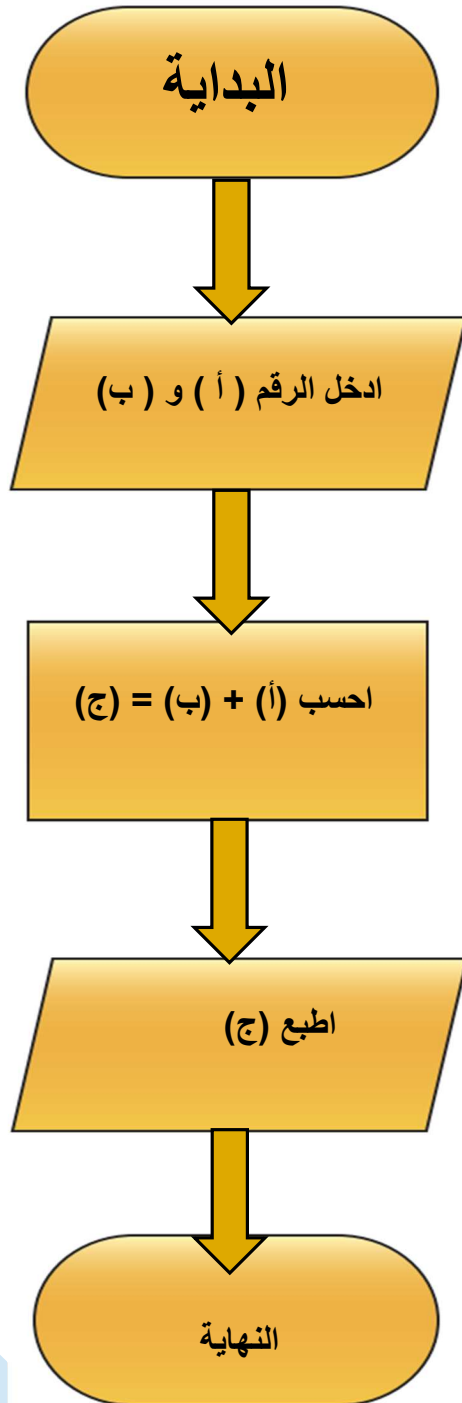
6. تتم عملية كتابة الكود البرمجي من قبل ..... المبرمج ..... بلغة خاصة مفهومة للحاسوب.





### السؤال الثالث : أجب على الأسئلة الآتية :

1- قم بتحويل خوارزمية الجمع الآتية الى مخطط انسيابي:



I. البداية

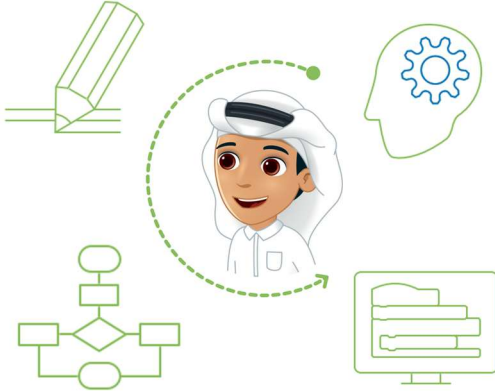
II. ادخل الرقم (أ) والرقم (ب)

III. احسب (أ) + (ب) = (ج)

IV. اطبع (ج)

V. النهاية

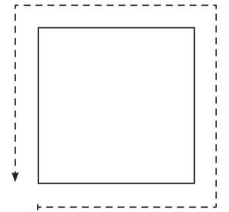
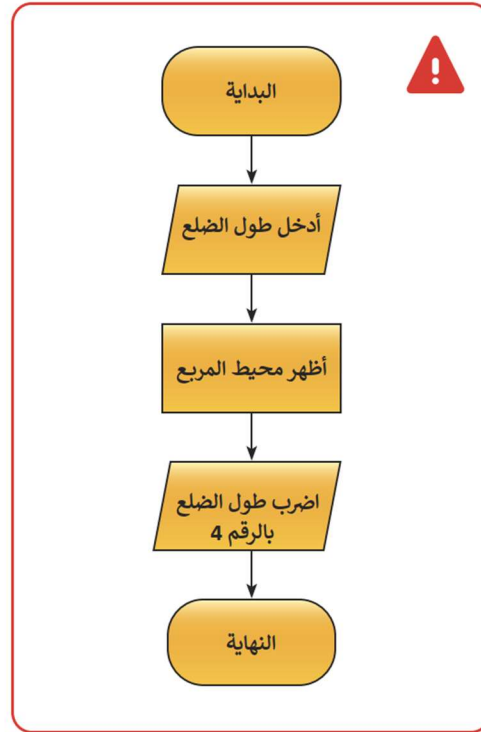
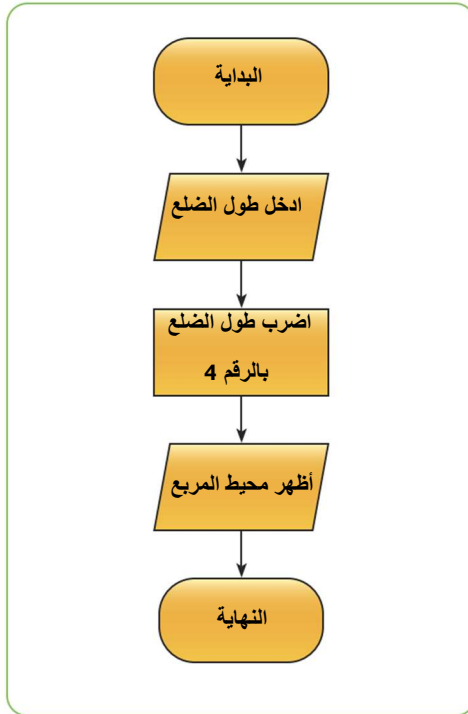




2- اذكر ماهي خطوات انشاء البرنامج بالترتيب :

- I. تحليل المشكلة
- II. كتابة الخوارزمية
- III. رسم المخطط الانسيابي
- IV. كتابة الكود البرمجي

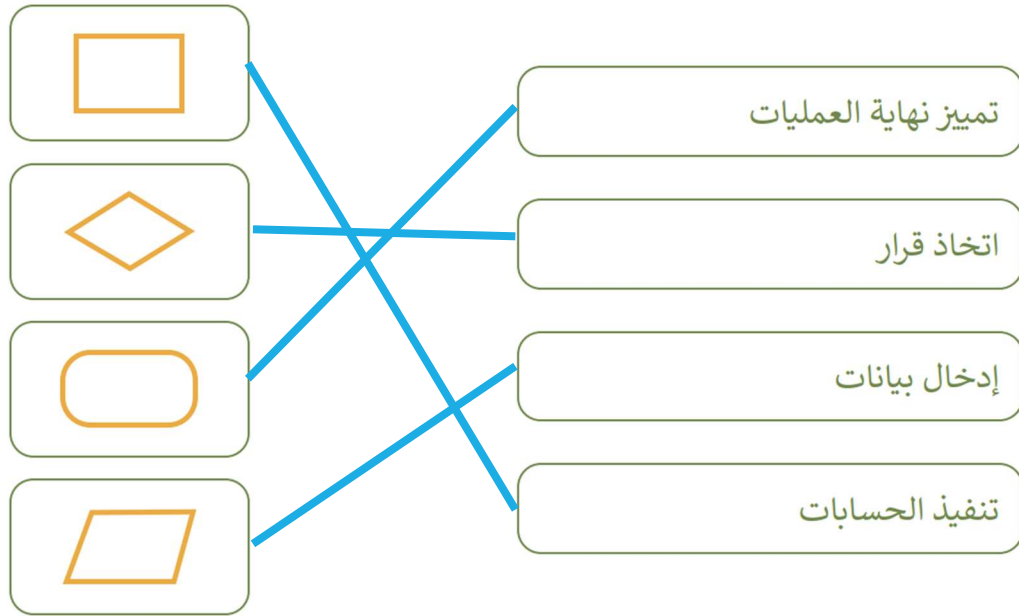
3- اوجد الخطأ في المخطط الانسيابي الاتي يقوم بحساب محيط المربع :







4- صل كل وصف لرموز المخطط الانسيابي بالشكل المناسب :



5- طابق الشعار مع التطبيقات :







6- ضع علامة صح امام العبارة الصحيحة وعلامة خطأ امام العبارة الخاطئة :

✓ خطأ ● صحيح

توجد الخوارزميات في الحاسوب فقط لكنها غير موجودة في العالم الواقعي.

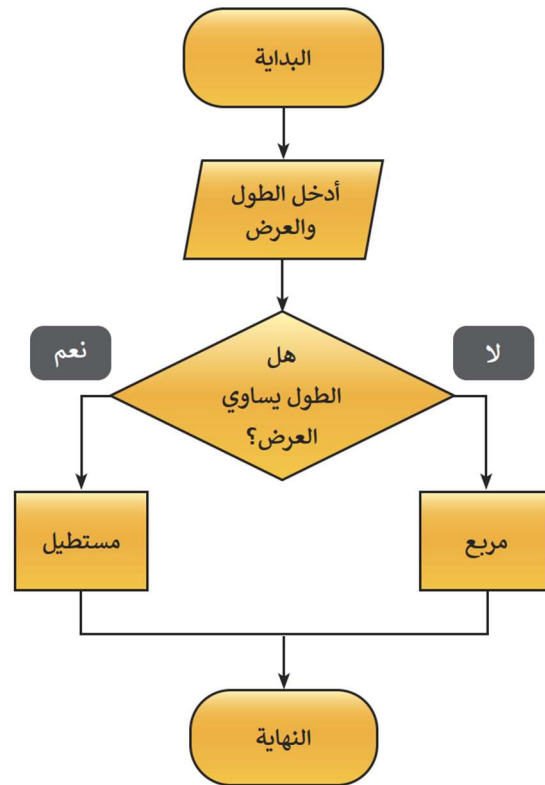
✓ خطأ ● صحيح

عند إنشاء الخوارزمية يمكن كتابة الخطوات بدون ترتيب.

✓ خطأ ● صحيح

الخوارزميات تستخدم فقط لوصفات الطعام.

7- ما هو الناتج المتوقع المخطط الانسيابي الآتي :



استنتاج الشكل النهائي من خلال الطول

والعرض هل هو مربع ام مستطيل

