

تم تحميل هذا الملف من موقع المناهج القطرية



## أوراق عمل دعم وإثراء الفرقان نهاية الفصل غير مجانية

موقع المناهج ← المناهج القطرية ← المستوى الخامس ← علوم الحاسب ← الفصل الأول ← أوراق عمل ← الملف

تاريخ إضافة الملف على موقع المناهج: 19:18:10 2024-12-02

ملفات اكتب للمعلم اكتب للطالب الاختبارات الالكترونية | اختبارات | حلول | عروض بوربوينت | أوراق عمل  
منهج انجليزي | ملخصات وتقارير | مذكرات وبنوك | الامتحان النهائي للمدرس

المزيد من مادة  
علوم الحاسب:

إعداد: مجمع الفرقان

## التواصل الاجتماعي بحسب المستوى الخامس



صفحة المناهج  
القطرية على  
فيسبوك

الرياضيات

اللغة الانجليزية

اللغة العربية

التربية الاسلامية

المواد على تلغرام

## المزيد من الملفات بحسب المستوى الخامس والمادة علوم الحاسب في الفصل الأول

أوراق عمل الأندلس نهاية الفصل مع الإجابة النموذجية

1

أوراق عمل الأندلس نهاية الفصل غير مجانية

2

أوراق عمل دعم وإثراء الفرقان منتصف الفصل غير مجانية

3

أوراق عمل اثرائية منتصف الفصل غير مجانية

4

أوراق عمل اثرائية منتصف الفصل مع الإجابة النموذجية

5

# الحواسبة

1446 هـ - 24-25 م

# 5

نهاية ف 1

تدريبات  
دعم  
وإثراء



يا رب انصر عبادك المؤمنين  
وجنك الموحدين في كل مكان

القدس والأقصى ▼ حتماً ستعود

ملحوظة: هذه التدريبات لا تقني عن الكتاب المدرسي

الاسم / ..... الصف / 5-

التميز



**أولاً: ضع دائرة حول الإجابة الصحيحة فيما يلي:****( 1 ) - من أشهر التطبيقات المستخدمة في البحث في تحديد الأماكن :**

Google ( أ )

YouTube ( ب )

WhatsApp ( ج )

Google Maps ( د )

**( 2 ) - من أشهر التطبيقات المستخدمة في مشاهدة الفيديوهات :**

Google ( أ )

YouTube ( ب )

WhatsApp ( ج )

Google Maps ( د )

**( 3 ) - من أشهر التطبيقات المستخدمة في البحث في شبكة الإنترنت :**

Google ( أ )

YouTube ( ب )

WhatsApp ( ج )

Google Maps ( د )

**( 4 ) - من أشهر التطبيقات المستخدمة في الاتصالات والتواصل الاجتماعي :**

Google ( أ )

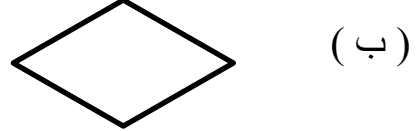
YouTube ( ب )

WhatsApp ( ج )

Google Maps ( د )

**( 5 ) - أحد الأشكال المستخدمة في مخطط الانسيابي للدلالة على عمليات حسابية :**

( أ )



( ب )



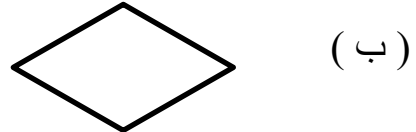
( ج )



( د )

**( 7 ) - أحد الأشكال المستخدمة في مخطط الانسيابي للدلالة على اتخاذ قرار:**

( أ )



( ب )



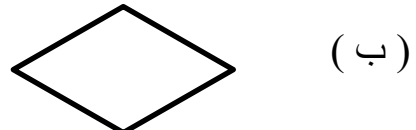
( ج )



( د )

**( 8 ) - أحد الأشكال المستخدمة في مخطط الانسيابي للدلالة على إدخال وإخراج النتائج:**

( أ )



( ب )



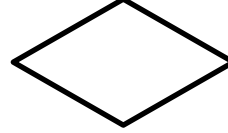
( ج )



( د )

**( 9 ) - أحد الأشكال المستخدمة في مخطط الانسيابي للدلالة على البداية والنهاية:**

( أ )



( ب )



( ج )



( د )

**ثانياً: ضع الكلمة المناسبة في الفراغ المناسب :**

البريد الإلكتروني

المخطط الانسيابي

الخوارزمية

البرنامج

- 1-..... هو مخطط رسومي يمثل مجموعة خطوات متسلسلة  
لحل مشكله ما .
- 2-..... من تطبيقات الويب التي يمكن الوصول إليها عبر  
متصفح الويب.
- 3-..... خطوات مرتبة تسلسلياً يجب اتباعها لحل مشكلة ما .
- 4-..... هو مجموعة من التعليمات مكتوبة بإحدى لغات  
البرمجة ينفذها الحاسوب لتحقيق هدف معين.

**ثالثاً - 1 - أ. - أنشئ المخطط الانسيابي للخوارزمية الآتية :****المخطط الانسيابي****الخوارزمية**

1- البداية

2- أدخل الطول والعرض

3- احسب مساحة المستطيل

الطول x العرض

4- أظهر الناتج

5- النهاية

ب - ما هو الناتج المتوقع من هذا المخطط

عند إدخال الطول 3 والعرض 5

الناتج هو .....

2- أ. أنشئ المخطط الانسيابي للخوارزمية الآتية :

المخطط الانسيابي

الخوارزمية

1- البداية

2- أدخل العددين

3- اجمع العددين

4- أظهر الناتج

5- النهاية

ب - ما هو الناتج المتوقع من هذا المخطط

عند إدخال العددين 3 و 7

الناتج هو .....

**رابعاً : أجب عن الأسئلة الآتية :**

أ- أكتب خطوات إنشاء برنامج :

..... 1-..... 2-..... 3-..... 4-**ب - اذكر فوائد التطبيقات التالية في حياتنا اليومية**WhatsAppGoogle mapYou TubeGoogle