

أوراق عمل مدرسة الأندلس نهاية الفصل غير مجابة



تم تحميل هذا الملف من موقع المناهج القطرية

موقع المناهج ← المناهج القطرية ← الصف الرابع ← علوم الحاسب ← الفصل الأول ← ملفات متنوعة ← الملف

تاريخ إضافة الملف على موقع المناهج: 11:10:08 2025-12-15

ملفات اكتب للمعلم اكتب للطالب | اختبارات الكترونية | اختبارات | حلول | عروض بوربوينت | أوراق عمل
منهج انجليزي | ملخصات وتقارير | مذكرات وبنوك | الامتحان النهائي | للمدرس

المزيد من مادة
علوم الحاسب:

إعداد: مدرسة الأندلس

التواصل الاجتماعي بحسب الصف الرابع



صفحة المناهج
القطرية على
فيسبوك

الرياضيات

اللغة الانجليزية

اللغة العربية

التربية الاسلامية

المواد على تلغرام

المزيد من الملفات بحسب الصف الرابع والمادة علوم الحاسب في الفصل الأول

أوراق عمل الأندلس للبنين التحضيرية لاختبار نهاية الفصل مع الإجابة النموذجية

1

أوراق عمل الأندلس للبنين التحضيرية لاختبار نهاية الفصل غير مجابة

2

أوراق عمل مدرسة الأندلس نهاية الفصل مع الإجابة النموذجية

3

أوراق عمل الفرقان نهاية الفصل مع الإجابة النموذجية

4

أوراق عمل مسعيد لاختبار نهاية الفصل مع الإجابة النموذجية

5

مدرسة الأندلس الخاصة للبنات
العام الأكاديمي 2026/2025
نهاية الفصل الدراسي الاول منهاج كامل



أوراق عمل إثرائية
لمادة الحوسبة وتكنولوجيا المعلومات
الصف الرابع

اسم الطالبة/.....

الصف والشعبة /.....

السؤال الأول: ضع علامة (✓) أو (x):

- 1- وضع القراءة هي طريقة لقراءة المستند ()
- 2- يمكننا معرفة نوع الملف من خلال امتداده ()
- 3- أصغر وحدة لقياس حجم الملفات في الحاسوب هي Byte ()
- 4- تعتبر حقوق الطبع والنشر أحد أشكال الحماية ()
- 5- يمكننا التعديل على ملف الصوت باستخدام التأثيرات ()

السؤال الثاني: اختر الإجابة الصحيحة:

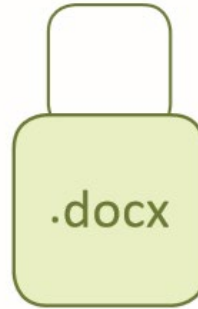
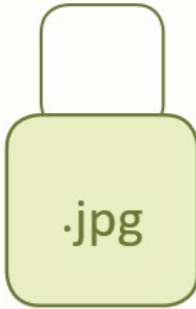

1	إذا أردت أن تستمع إلى ملف صوت يجب عليك أن تحفظه بتنسيق.	
	A .pod	
	B .wap	
	C .aup	
	D .mp3	

2	تعتبر واحدة من الإرشادات الصحية عند استخدام الحاسوب.	
	A اجعل الكرسي الخاص بك معتدلاً.	
	B استمر بالعمل لمدة طويلة.	
	C الإضاءة الشديدة.	
	D اجعل الحاسوب قريباً منك.	

3	أداة تستخدم للتباعد بين الأسطر.	
	A 	
	B 	
	C 	
	D 	

4	استخدام الحاسوب لساعات طويلة يمكن أن يسبب لك.	
	A	النشاط.
	B	التوتر والقلق.
	C	السعادة.
	D	الاحراج.
5	هو جهاز يستخدم في إدخال الصور و الرسومات والوثائق إلى الحاسوب.	
	A	مكبر الصوت.
	B	الميكروفون.
	C	الطابعة.
	D	الماسح الضوئي(Scanner).
6	هي مجموعة من الجمل المترابطة التي تختص بموضوع معين.	
	A	الفقرة.
	B	الحدود.
	C	المحاذاة.
	D	العمود.
7	قاعدة حماية العينين.	
	A	30-30-30.
	B	20-20-20.
	C	40-40-40.
	D	50-50-50.
8	أكبر وحدة لقياس حجم الملفات في الحاسوب.	
	A	.GB
	B	.TB
	C	.B
	D	.MB

السؤال الرابع: طابق الصور التالية بالامتداد المناسب:



السؤال الخامس: صل بين العمود A والعمود B:

B العمود


الإضاءة المباشرة




A العمود
الجلسة الخاطئة أمام الحاسوب
الجلسة الصحيحة أمام الحاسوب
يجب تجنبها أثناء استخدام الحاسوب
منافذ USB
برنامج يستخدم لتحرير الصوت
برنامج يستخدم للبحث في الويب