

## أوراق عمل الفرقان نهاية الفصل مع الإجابة النموذجية



### تم تحميل هذا الملف من موقع المناهج القطرية

موقع المناهج ← المناهج القطرية ← الصف الرابع ← علوم الحاسب ← الفصل الأول ← ملفات متنوعة ← الملف

تاريخ إضافة الملف على موقع المناهج: 11:07:08 2025-12-15

ملفات اكتب للمعلم اكتب للطالب | اختبارات الكترونية | اختبارات | حلول | عروض بوربوينت | أوراق عمل  
منهج انجليزي | ملخصات وتقارير | مذكرات وبنوك | الامتحان النهائي | للمدرس

المزيد من مادة  
علوم الحاسب:

إعداد: مجمع الفرقان

### التواصل الاجتماعي بحسب الصف الرابع



صفحة المناهج  
القطرية على  
فيسبوك

الرياضيات

اللغة الانجليزية

اللغة العربية

التربية الاسلامية

المواد على تلغرام

### المزيد من الملفات بحسب الصف الرابع والمادة علوم الحاسب في الفصل الأول

أوراق عمل مسيعيد لاختبار نهاية الفصل مع الإجابة النموذجية

1

أوراق عمل مسيعيد لاختبار نهاية الفصل غير مجابة

2

أوراق عمل الأندلس للبنين التحضيرية لاختبار منتصف الفصل مع الإجابة النموذجية

3

أوراق عمل الأندلس للبنين التحضيرية لاختبار منتصف الفصل غير مجابة

4

إجابة أوراق عمل الفرقان منتصف الفصل

5

# إجابات



تدريبات  
دعم  
واثر



**القدس والأقصى** **حتماً ستعود**

ملحوظة: هذه التدريبات لا تقني عن الكتاب المدرسي

الاسم / ..... الصف /4-

## التميز



ملخص الوحدة :-

وظيفة كل جهاز من أجهزة تسجيل الصوت والتقاط الصور والفيديو لتخزينها في الحاسوب .



تحديد نوع الملف من خلال امتداده:

امتداد الملف	نوع الملف
.txt	ملفات نصية فقط
.doc, .docx	ملفات نصية بصور أو بدون صور
.jpg	ملفات الصور أو الرسومات
.mp3	ملف صوتي
.mp4	ملف فيديو

- ترتيب وحدات التخزين من الأصغر إلى الأكبر في السعة التخزينية

4	3	2	1
TB	GB	MB	KB

قانون الملكية الفكرية : حقوق الطبع والنشر عند تحميل أو استخدام أي مواد من الانترنت.

تعتبر حقوق الطبع والنشر أحد أشكال الحماية

**س1 : ضع دائرة حول الإجابة الصحيحة فيما يلي :****( 1 ) – ما الجهاز الذي يستخدم لالتقاط الصور ومقاطع الفيديو والصوت إلى جهاز الحاسوب ؟**

أ	وصلة USB
ب	منافذ التوصيل Port
ج	السماعات (Speakers)
د	الهاتف المحمول (Mobile)

**( 2 ) – ما الجهاز الذي يستخدم لإدخال الصور والرسومات والوثائق إلى الحاسوب ؟**

أ	الطابعة (Printer)
ب	السماعات (Speakers)
ج	الماسح الضوئي (Scanner)
د	الميكروفون (Microphone)

**( 3 ) – ما الجهاز المستخدم لتسجيل المقاطع الصوتية؟.**

أ	الفأرة
ب	الطابعة
ج	الميكروفون
د	الماسح ضوئي

**( 4 ) - أي مما يلي يمثل امتداد ملف الفيديو.**

أ	. mp4
ب	. mp3
ج	. Jpg
د	. txt

**( 5 ) – أي مما يلي يمثل امتداد ملف الصوت.**

أ	. mp4
ب	. mp3
ج	. Jpg
د	. txt

**( 6 ) – أي مما يلي يمثل امتداد ملف الصورة.**

أ	. mp4
ب	. mp3
ج	. Jpg
د	. txt

**( 7 ) – أي مما يلي يمثل امتداد ملف نصي يحتوي على صور.**

أ	. mp4
ب	. mp3
ج	. Jpg
د	. doc

**( 8 ) – إدراج صورة من الانترنت نستخدم علامة التبويب.**

أ	insert ادراج
ب	File ملف
ج	Help مساعده
د	Design تصميم

## س2 : ضع الكلمة المناسبة في الفراغ المناسب :

الميكروفون

Mp4

Mp3

الكاميرا الرقمية

❖ إمتداد ملف الفيديو هو .....Mp4.....

❖ إمتداد ملف الصوت هو .....Mp3.....

❖ لتسجيل الصوت نستخدم جهاز الميكروفون

❖ جهاز يستخدم في التقاط الصور ومقاطع الفيديو والصوت ....الكاميرا الرقمية.....

## س3 : ضع الكلمة المناسبة في الفراغ المناسب :

Jpg

USB

الملكية الفكرية

تيرابايت TB

1- إمتداد ملف الصورة هو .....Jpg.....

2-تعتبر..... تيرابايت TB أكبر وحدات قياس حجم الملفات .

3 -لتوصيل الأجهزة بالحاسوب يمكننا استخدام.....USB

4- .... الملكية الفكرية .... هي حقوق الطبع والنشر عند تحميل أو استخدام أي مواد من الانترنت.

## س4 : أذكر اسم الجهاز ووظيفته :

	<p>-1</p> 
<p>اسم الجهاز</p> <p>.....الهاتف المحمول.....</p>	<p>اسم الجهاز</p> <p>.....الكاميرا الرقمية....</p>
<p>الوظيفة</p> <p>يستخدم لإلتقاط الصور ومقاطع الفيديو والصوت</p>	<p>الوظيفة</p> <p>يستخدم لإلتقاط الصور ومقاطع الفيديو والصوت</p>
<p>-4</p> 	<p>-3</p> 
<p>اسم الجهاز</p> <p>.....الميكروفون.....</p>	<p>اسم الجهاز</p> <p>.....<u>الماسح الضوئي</u>.....</p>
<p>الوظيفة</p> <p>تسجيل الصوت</p>	<p>الوظيفة</p> <p>يستخدم لإدخال الصور والرسومات والوثائق إلى الحاسوب</p>

**س5 : وضح كيف يمكنك تحديد نوع الملف من خلال امتداده:**

امتداد الملف	نوع الملف
.txt	ملفات نصية فقط
.doc, .docx	ملفات نصية بصور أو بدون صور
.jpg	ملفات الصور أو الرسومات
.mp3	ملف صوتي
.mp4	ملف فيديو

**س6 : رتب وحدات التخزين من الأصغر إلى الأكبر في السعة التخزينية**

4	3	2	1
TB	GB	MB	KB

## حل تدريبات الكتاب

### الإجابات النموذجية للتدريبات:

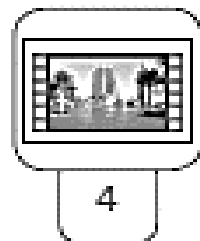


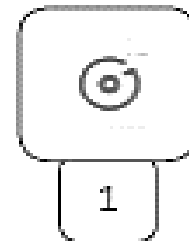


ضع علامة ✓ أمام العبارة الصحيحة وعلامة ✗ أمام العبارة الخطأ

1. يمكننا طباعة المستندات باستخدام الماسح الضوئي. ✗
2. لتوصيل الأجهزة بالحاسوب يمكننا استخدام وصلة USB. ✓
3. يمكننا التقاط الصور ومقاطع الفيديو الرقمية باستخدام الكاميرا الرقمية. ✓
4. يشغل ملف الفيديو عادةً مساحة أقل من المساحة التي يشغلها ملف الصورة على القرص الصلب للحاسوب. ✗
5. يمكن معرفة نوع الملف من خلال امتداده. ✓



طابق الرموز التالية بالامتداد المناسب لكل منها وذلك بكتابة الرقم الصحيح في مربع الامتداد المناسب.


			
4	3	2	1
3	1	2	4
.jpg	.mp3	.docx	.mp4



طابق الوظائف التالية بصورة الجهاز المناسب لكل منها وذلك بكتابة الرقم الصحيح في مربع الصورة المناسبة.



2



3



1

1

جهاز يستخدم لالتقاط الصور ومقاطع الفيديو ومن ثم تخزينها كملفات وسائط متعددة في جهاز الحاسوب.

2

جهاز يستخدم لتسجيل المقاطع الصوتية .

3

جهاز التقاط يستخدم لادخال الصور والرسومات والوثائق إلى الحاسوب في شكل ملف رقمي.



اختر الإجابة الصحيحة وتحقق من إجابتك باستخدام الحاسوب.

3. امتداد ملفات الصور هو:

.doc

.mp3

.jpg

4. امتداد الملف النصي الذي يحتوي على الصور هو:

.rar

.xlsx

.doc

1. امتداد الملف النصي هو:

.txt

.zip

.ppt

2. امتداد ملف الفيديو هو:

.docx

.mp4

.xls

اختر الإجابة الصحيحة وذلك من خلال وضع علامة ✓ بجانب العبارة الصحيحة.

2. امتداد الملف يساعد على:

- ☒ < تحديد البرنامج اللازم لفتح هذا الملف.
- ☐ < تحديد حجم الملف وسرعة الوصول إلى البيانات.
- ☐ < تحديد ما إذا كان الملف يحتوي على فيروس.
- ☐ < التعرف على من قام بإنشاء الملف.

1. نوع من الملفات

يشغل عادة مساحة تخزينية كبيرة على جهاز الحاسوب.

- ☐ < ملف الصور.
- ☐ < ملف الصوت.
- ☒ < ملف الفيديو.
- ☐ < ملف النص.

3. المتخصصون الذين يستخدمون الملفات بامتدادات JPG بشكل أساسي هم:

- ☐ < فنيو الصوت.
- ☐ < لاعبو الكرة.
- ☐ < الممثلون.
- ☒ < مصممو الجرافيك (الرسومات).