

أوراق عمل مدرسة الخور الوحدة الخامسة غير مجابة



تم تحميل هذا الملف من موقع المناهج القطرية

موقع المناهج ← المناهج القطرية ← الصف الثالث ← رياضيات ← الفصل الأول ← ملفات متنوعة ← الملف

تاريخ إضافة الملف على موقع المناهج: 2025-12-08 15:17:46

ملفات اكتب للمعلم اكتب للطالب | اختبارات الكترونية | اختبارات | حلول | عروض بوربوينت | أوراق عمل منهج انجليزي | ملخصات وتقارير | مذكرات وبنوك | الامتحان النهائي | للمدرس

المزيد من مادة رياضيات:

إعداد: مدرسة الخور

التواصل الاجتماعي بحسب الصف الثالث



صفحة المناهج القطرية على فيسبوك

الرياضيات

اللغة الانجليزية

اللغة العربية

التربية الاسلامية

المواد على تلغرام

المزيد من الملفات بحسب الصف الثالث والمادة رياضيات في الفصل الأول

أوراق عمل مدرسة الخور الوحدة الرابعة غير مجابة

1

أوراق عمل مدرسة الخور الوحدة الرابعة مع الإجابة النموذجية

2

أوراق عمل مدرسة الخور الوحدة الخامسة مع الإجابة النموذجية

3

أوراق عمل الفرقان نهاية الفصل غير مجابة

4

أوراق عمل الأندلس للبنين التحضيرية لاختبار نهاية الفصل مع الإجابة النموذجية

5

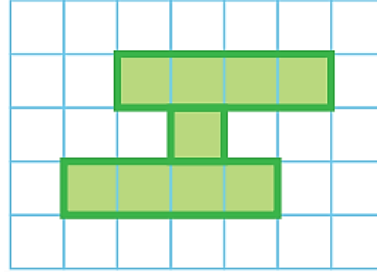
الاسم: _____ الشعبة _____

الصف الثالث

(تدريبات اثرائية 2025-2026) (الوحدة 5)

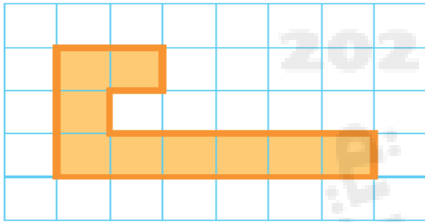
الدرس الأول: تغطية المناطق

ما مساحة الشكل أدناه؟

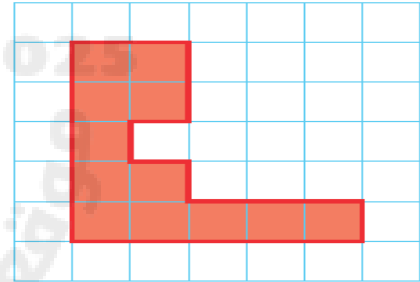


- A وحدة مربعة 8
B وحدة مربعة 9
C وحدة مربعة 10

أعدّ لإيجاد مساحة الأشكال.




.....

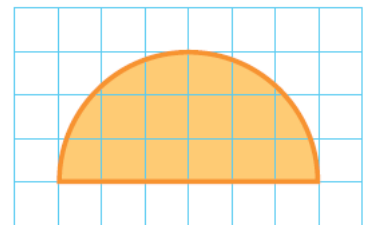


.....

قدر مساحة الشكل.



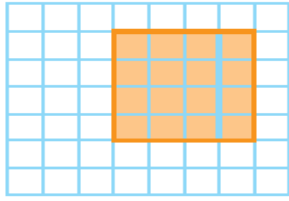
.....



.....

الدرس الثالث: المساحة: الوحدات القياسية

إذا كانت مساحة كل مربع = 1 إنش مربع.
ما مساحة الشكل المظلل؟

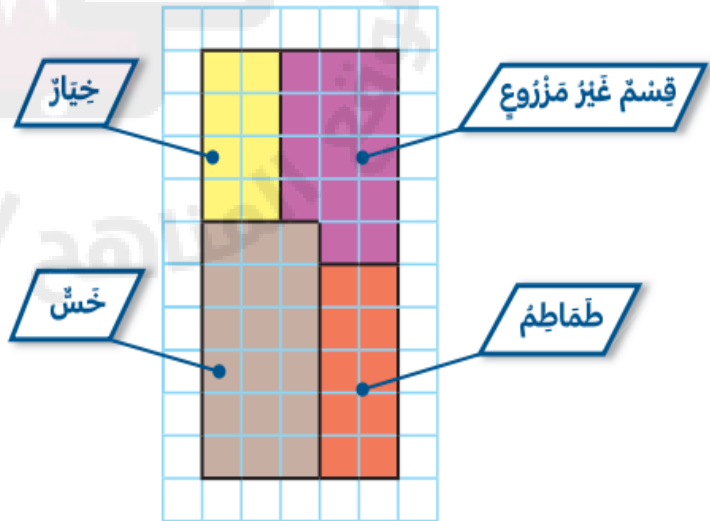


1 = 1 إنش مَرَبَّع

- A 16 إنش مربع
- B 14 إنش مربع
- C 15 إنش مربع

ما مساحة الحديقة التي استعملها حاتم لزراعة الطماطم؟

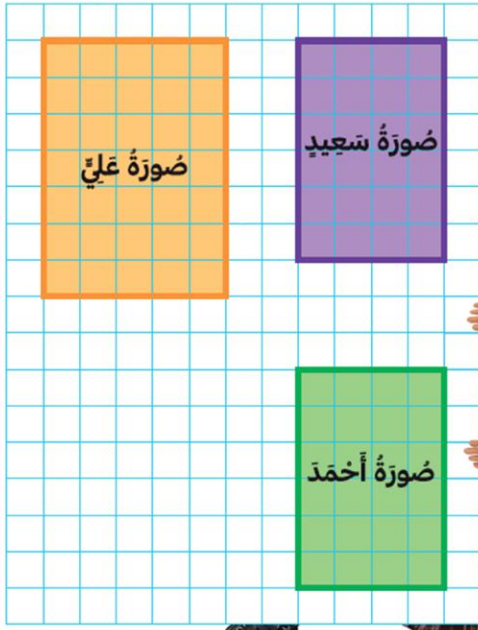
حديقة حاتم



1 = 1 منر مَرَبَّع

- A 9 متر مربع
- B 8 متر مربع
- C 10 متر مربع

أَكُونُ دَقِيقًا مَا مِسَاحَةُ صُورَةِ أَحْمَدَ؟
أَوْضَحْ كَيْفَ أَغْرِفُ الْوَحْدَاتِ الَّتِي يَجِبُ اسْتِغْمَالُهَا.

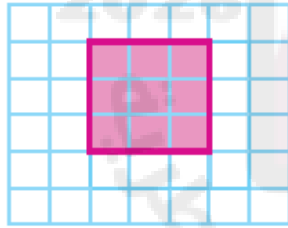


1 = سَنِيمَتَرٌ مُرَبَّعٌ



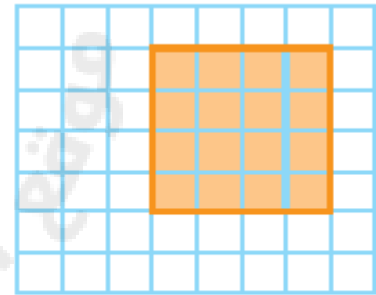
مَا مِسَاحَةُ الصُّورِ كُلِّهَا بِالسَّنِيمَتَرِ الْمُرَبَّعِ؟
أَوْضَحْ إِجَابَتِي.

كل مربع وحدة يمثل وحدة قياسية. ما مساحة الشكل المجاور؟



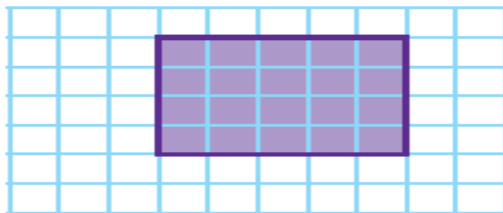
1 = قَدَمٌ مُرَبَّعَةٌ

..... = مساحة الشكل



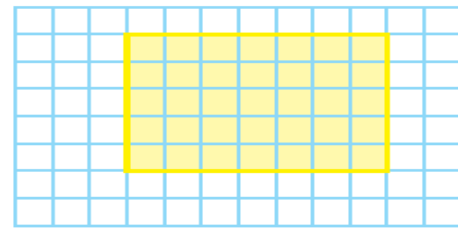
1 = إِنْشٌ مُرَبَّعٌ

..... = مساحة الشكل



1 = قَدَمٌ مُرَبَّعَةٌ

..... : مساحة الشكل

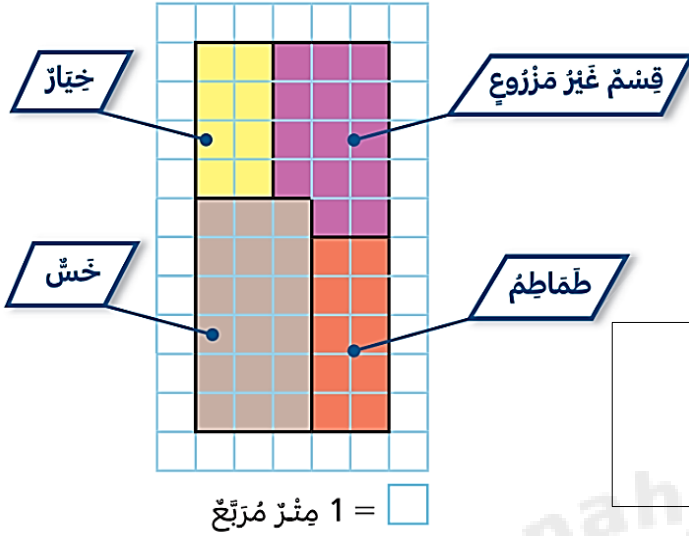


1 = سَنِيمَتَرٌ مُرَبَّعٌ

..... : مساحة الشكل

حديقة حاتم

استعمل المخطط التالي .




➤ ما مساحة المنطقة المزروعة من الخيار ؟
الإجابة :

➤ ما المساحة من الحديقة التي استعملها حاتم
لزراعة الخس والطماطم معاً ؟

وضح عملك هنا

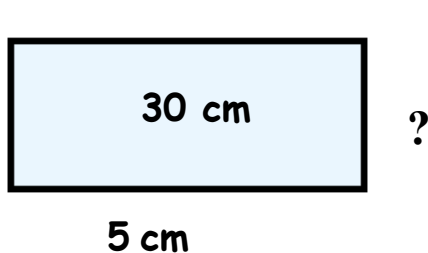
الدرس الرابع: مساحة المربعات والمستطيلات

حقل نور مستطيل الشكل طوله 10 أمتار وعرضه 9 أمتار.
أوجد مساحة الحقل؟

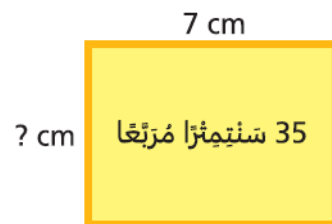


- A 60 m²
B 45 m
C 90 m²

أوجد طول الضلع المجهول في الشكل المجاور؟



وضح عملك هنا:



وضح عملك هنا:

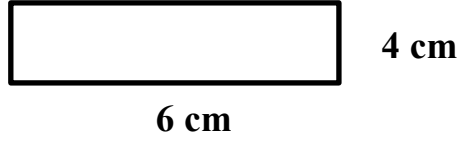
أَجِدْ الْمِسَاحَةَ.



وضح عملك هنا:

طول مزرعة حمد 6 أمتار وعرضها 4 متر.

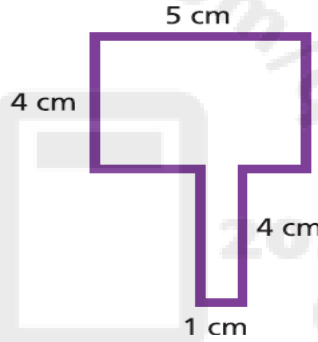
ما مساحة المزرعة؟



وضح عملك هنا:

الدرس السادس: تطبيق الخواص: مساحة الأشكال غير المنتظمة

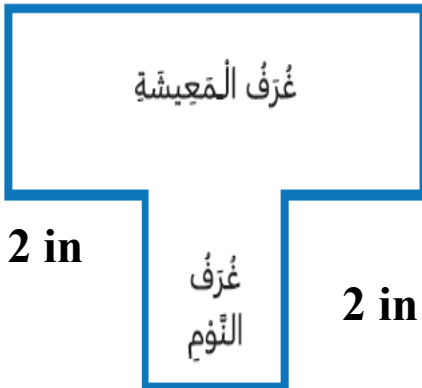
ما مساحة الشكل أدناه ؟



- A 20 cm²
B 24 cm²
C 30 cm²

مُخَطَّطُ الْمَنْزِلِ

10 in



غُرْفُ الْمَعِيشَةِ

غُرْفُ
النُّومِ

2 in

9 in



وضح عملك هنا:



تستاهلين وردة

الصفحة 5 من 5