

شكراً لتحميلك هذا الملف من موقع المناهج القطرية



اوراق عمل منتصف الفصل غير مجانية

[موقع المناهج](#) ⇨ [المناهج القطرية](#) ⇨ [المستوى الثالث](#) ⇨ [علوم الحاسب](#) ⇨ [الفصل الثاني](#) ⇨ [الملف](#)

تاريخ نشر الملف على موقع المناهج: 2024-01-24 15:01:13

التواصل الاجتماعي بحسب المستوى الثالث



روابط مواد المستوى الثالث على تلغرام

[الرياضيات](#)

[اللغة الانجليزية](#)

[اللغة العربية](#)

[التربية الاسلامية](#)

المزيد من الملفات بحسب المستوى الثالث والمادة علوم الحاسب في الفصل الثاني

[تدريبات دعم وإثراء نهاية الفصل](#)

1

[مراجعات نهاية الفصل اختبار من متعدد وملاء فراغات](#)

2

[اوراق عمل نهاية الفصل](#)

3

[إجابات تدريبات الفرقان منتصف الفصل](#)

4

[تدريبات دعم وإثراء منتصف الفصل الثاني](#)

5

أوراق العمل والتثبيت

للصف الثالث

لمادة الحوسبة وتكنولوجيا المعلومات

الاسم: الصف: الثالث

صل المواقع الإلكترونية الآتية مع ما يناسبها:

.edu

.org

.gov

.com

1 مواقع إلكترونية للمنظمات

2 مواقع إلكترونية للجامعات


3 مواقع إلكترونية تجارية

4 مواقع إلكترونية حكومية


ضع علامة ✓ بجوار الإجابة المناسبة لكل مما يلي:




USB Flash memory




CD



DVD



Memory card



Hard disc

<input type="checkbox"/>	<input type="checkbox"/>	<input type="checkbox"/>	<input type="checkbox"/>	<input type="checkbox"/>	1. يمكنك استخدامه لنقل البيانات بين الأجهزة
<input type="checkbox"/>	<input type="checkbox"/>	<input type="checkbox"/>	<input type="checkbox"/>	<input type="checkbox"/>	2. DVD هو جيل متطور من
<input type="checkbox"/>	<input type="checkbox"/>	<input type="checkbox"/>	<input type="checkbox"/>	<input type="checkbox"/>	3. الطريقة الأسرع لحفظ البيانات في الهواتف الذكية
<input type="checkbox"/>	<input type="checkbox"/>	<input type="checkbox"/>	<input type="checkbox"/>	<input type="checkbox"/>	4. إذا أردت حفظ مقاطع فيديو فإنك ستشتري
<input type="checkbox"/>	<input type="checkbox"/>	<input type="checkbox"/>	<input type="checkbox"/>	<input type="checkbox"/>	5. يعد وحدة التخزين الشائعة للحاسوب

أكمل الفراغ بالإجابة المناسبة من الصناديق أدناه:

التسلسل

المشكلة

تحليل المشكلة

الخوارزمية

1. _____ هي موقف معين يجب إيجاد حل له.
2. دراسة المشكلة وتحديد طرائق الحل الممكنة لها يسمى _____.
3. _____ هي الخطوات التي تصف حل مشكلة ما.
4. الترتيب الصحيح لخطوات الخوارزمية يسمى بـ _____.

أكمل الفراغ بالإجابة المناسبة من الصناديق أدناه:

تسلسل

لغة البرمجة

برنامج الحاسوب

أوامر برمجية

1. _____ هو سلسلة من الأوامر المعطاة للحاسوب لأداء مهمة محددة.
2. تتم كتابة برامج الحاسوب بلغة يستطيع الحاسوب فهمها، وتُسمى هذه اللغة بـ _____.
3. لتحريك السلحفاة من خلال التعليمات التي يمكن أن يفهمها الحاسوب، يجب علينا ترجمة الخوارزميات إلى _____.
4. أثناء إنشاء برنامج نقوم بتحديد _____ الأوامر من خلال تركيب كل لبنة على الأخرى، كما نعمل في لعبة تركيب الصور.

أكمل الفراغ باختيار الإجابة المناسبة من الصناديق أدناه:

متصفح الويب

محرك البحث

شريط العنوان

URL

1. برنامج يستخدم لتصفح المواقع الإلكترونية عبر شبكة الإنترنت _____.

2. يطلق اسم _____ على عنوان موقع الويب.

3. لزيارة موقع الويب عليك كتابة عنوان الموقع في _____.

4. الموقع الإلكتروني الذي يقدم خدمات متميزة في البحث عن المعلومات عبر الإنترنت يسمى _____.

1. جهاز يلتقط الفيديو والصور ويستخدم للتواصل المرئي عبر الإنترنت:

a. كاميرا الويب _____

b. الميكروفون _____

c. الكاميرا الرقمية _____

d. كاميرا الفيديو _____

صل بين المصطلح والتعريف المناسب له.

دراسة المشكلة وتحديد طرائق الحل الممكنة لها.	المشكلة
موقف معين يجب إيجاد حل له.	تحليل المشكلة
الترتيب الصحيح لخطوات الخوارزمية.	الخوارزمية
الخطوات التي تصف حل مشكلة ما.	التسلسل

ضع علامة ✓ للجملة الصحيحة وعلامة ✗ للجملة الخاطئة.

- يستخدم المهندس المعماري الراسمة أثناء عمله.
- طابعة نفث الحبر تستخدم الحبر الأسود، الأبيض والأحمر.
- تطبع المحلات التجارية الفواتير باستخدام الطابعات الحرارية.
- الطباعة عالية الجودة هي إحدى ميزات طباعة الليزر.

صل جهاز الالتقاط بالاسم المناسب له :



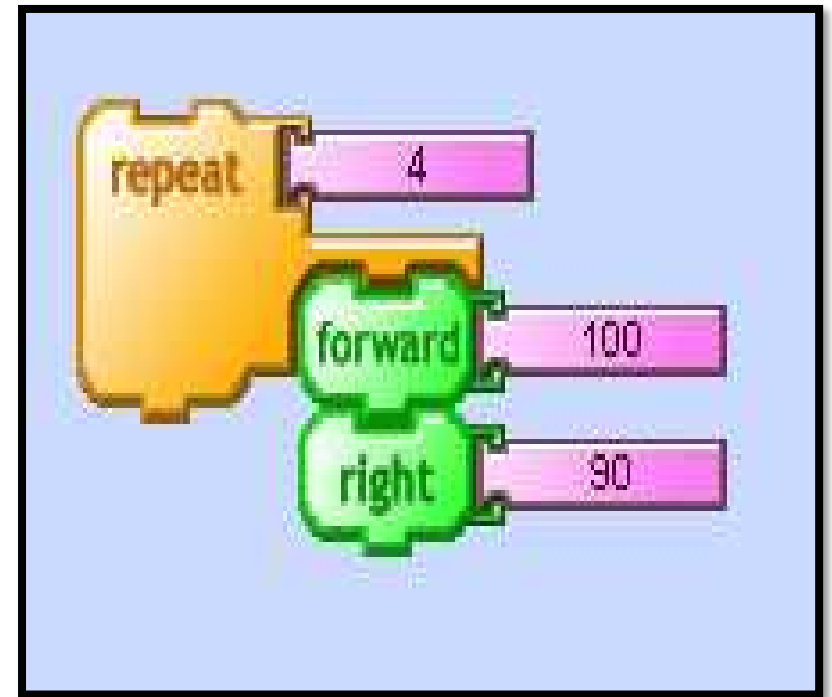
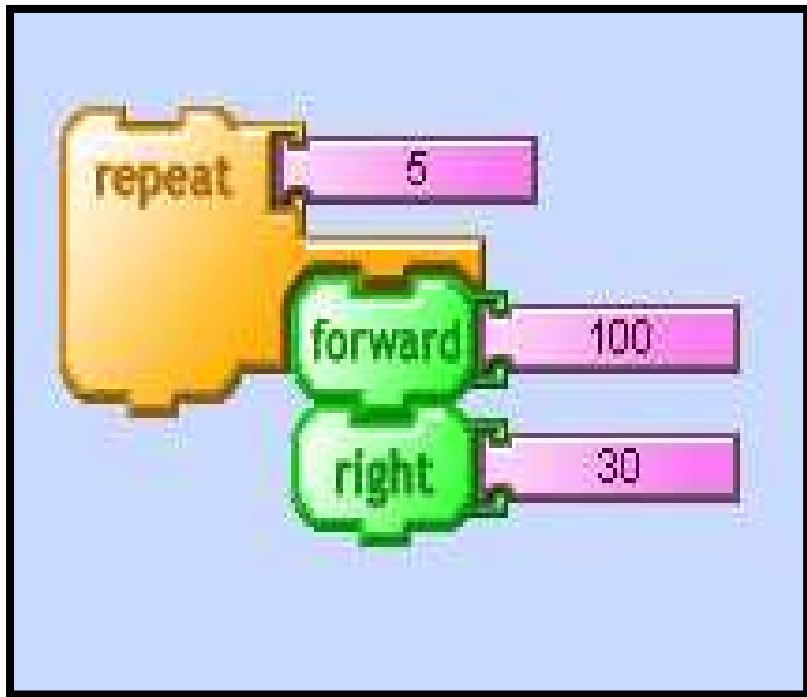
كاميرا الويب.

الكاميرا الرقمية.

الميكروفون.

كاميرا الفيديو.

اختر الأوامر البرمجية الصحيحة لرسم شكل مربع:



اختر الأوامر البرمجية الصحيحة لرسم شكل دائرة:

