

تم تحميل هذا الملف من موقع المناهج القطرية



\*للحصول على أوراق عمل لجميع الصفوف وجميع المواد اضغط هنا

<https://almanahj.com/qa>

\* للحصول على أوراق عمل لجميع مواد المستوى الثاني اضغط هنا

<https://almanahj.com/qa/2>

\* للحصول على جميع أوراق المستوى الثاني في مادة علوم ولجميع الفصول, اضغط هنا

<https://almanahj.com/qa/2science>

\* للحصول على أوراق عمل لجميع مواد المستوى الثاني في مادة علوم الخاصة بـ الفصل الثاني اضغط هنا

<https://almanahj.com/qa/2science2>

\* لتحميل كتب جميع المواد في جميع الفصول للمستوى الثاني اضغط هنا




<https://almanahj.com/qa/grade2>

للتحدث إلى بوت المناهج القطرية على تلغرام: اضغط هنا

[https://t.me/qacourse\\_bot](https://t.me/qacourse_bot)

تعليمات  
اختر الإجابة الصحيحة لكل من الأسئلة من 1 إلى 5 ، وذلك بوضع علامة x داخل  
المربع المجاور للإجابة الصحيحة:

السؤال رقم ( 1 )	1/.....
كم كوبًا من الماء يحتاج <u>الطفل</u> أن يشرب يوميًا ليحافظ على صحته؟	
A	3 أكواب
B	6 أكواب
C	8 أكواب

السؤال رقم ( 2 )	1/.....
أي من الأطعمة الآتية هي الأفضل للوجبة الخفيفة؟	
A	
B	
C	



1/.....

السؤال رقم ( 3 )

ما المصدر الرئيسي للضوء والحرارة على الأرض؟

A النجوم

B الشمس

C المصباح

تم تحميل هذا الملف من

موقع المناهج القطرية

alManahj.com/qa

1/.....

السؤال رقم ( 4 )

أي من المواد الآتية مادة معتمدة؟

A خشب

B زجاج

C ورق مشمع

1/.....

السؤال رقم ( 5 )






لماذا أستطيع أن أرى القمر؟

A لأنه يحترق

B لأنه يصدر الضوء

C لأنه يعكس ضوء الشمس

صل ما في العمود ( أ ) بما يناسبه في العمود ( ب ).

( ب )	( أ )
	<p>مادّة تسمخ للضوء بالمرور من خلالها</p>
	<p>يُصدرُ الضوء بالكهرباء</p>
	<p>يُصدرُ الضوء بالاحتراق</p>
	<p>مادّة يُمكنني أن أرى من خلالها بوضوح جزئي</p>
	

ضع علامة (√) أمام العبارة الصحيحة، وعلامة (x) أمام العبارة الخطأ.

- (1) الدهون من المجموعات الغذائية التي يجب تناولها بكثرة. ( )
- (2) تُصنَع التوافد من الخشب لأرى من خلالها بوضوح. ( )
- (3) شكل الظل يشبه شكل الشيء نفسه. ( )

أكمل الفراغات التالية مستعيناً بالكلمات في الجدول التالي.

صغيرة	الحليب	كبيرة	تعكس
-------	--------	-------	------

- (1) يساعدُ \_\_\_\_\_ على نمو العظام والمحافظة على قوتها.
- (2) أرى نفسي بالمرآة لأنها \_\_\_\_\_ الضوء.
- (3) عندما يكون مصدر الضوء قريباً من الشيء تكون مساحة الظل \_\_\_\_\_.



1/.....

السؤال رقم ( 9 )

صنّف الأطعمة ضمن المجموعة الغذائية المناسبة.



الحليب



السّمك

اللحوم

منتجات الألبان

.....

.....

1/.....

السؤال رقم ( 10 )

أجب عن السؤال التالي:

ماذا يتشكّل عندما يسقطُ الضّوء على أشياءٍ معتمة؟

.....

انتهت الأسئلة

نتمنى لكم التوفيق