

تم تحميل هذا الملف من موقع المناهج القطرية



اختبار تجريبي في الوحدة الأولى مواطن الكائنات الحية

موقع المناهج ← المناهج القطرية ← المستوى الثاني ← علوم ← الفصل الأول ← اختبارات ← الملف

تاريخ إضافة الملف على موقع المناهج: 2024-10-20 17:10:47

ملفات اكتب للمعلم اكتب للطالب | اختبارات الكترونية | اختبارات | حلول | عروض بوربوينت | أوراق عمل
منهج انجليزي | ملخصات وتقارير | مذكرات وبنوك | الامتحان النهائي للمدرس

المزيد من مادة
علوم:

التواصل الاجتماعي بحسب المستوى الثاني



صفحة المناهج
القطرية على
فيسبوك

الرياضيات

اللغة الانجليزية

اللغة العربية

التربية الاسلامية

المواد على تلغرام

المزيد من الملفات بحسب المستوى الثاني والمادة علوم في الفصل الأول

1 اختبار تجريبي في الوحدة الثانية استخدام الكهرباء غير مجاب

1

2 أوراق عمل دعم وإثراء الفرقان منتصف الفصل مع الإجابة النموذجية

2

3 ورق عمل إثرائي تحضيري لاختبار منتصف الفصل

3

4 بنك اسئلة اختبار منتصف الفصل

4

5 أوراق عمل اثرائية غير مجابة استعدادا لاختبار منتصف الفصل

5



بنك الأسئلة


العام الأكاديمي 2024 – 2025

المرحلة الابتدائية للبنات	اسم المدرسة
الثاني	الصف
العلوم	المادة
الأولى (مواطن الكائنات الحية)	الوحدة
○ منتصف الفصل الدراسي الأول	المحتوى



اختر الإجابة الصحيحة لكل من الأسئلة من 1 إلى 10 ، وذلك بوضع علامة × داخل
المربع المجاور للإجابة الصحيحة:


تعليمات

السؤال رقم (1)	
	ما مناخ الموطن في الصورة؟
A	معتدل
B	بارد جداً
C	حار جداً

السؤال رقم (2)	
	ما الموطن المناسب للفهد ؟
A	الصحراء
B	الغابة المطيرة
C	المنطقة العشبية




السؤال رقم (3)



ماذا يساعد الأسماك على العيش في موطنها؟

A
فراءB
زعانفC
رموش طويلة

السؤال رقم (4)



ما الخاصية التي تساعد الدب القطبي للعيش في موطنها التكيف في بيئته؟

A
خف عريضB
شفاه مشقوقةC
فراء سميك



السؤال رقم (5)	
ما الموطن الذي يعيش فيه نبات الصبار؟	
A	القطب.
B	الغابة المطيرة.
C	الصحراء.

السؤال رقم (6)	
ما خصائص شجرة النخيل التي تمكنها من العيش في موطنها؟	
A	لديها أشواك.
B	لديها جذور قصيرة.
C	لديها أوراق رفيعة لامعة.



السؤال رقم (7)	
	على ماذا تدل الإشارة التالية؟
A	أعد تدوير النفايات
B	اقتصد في استهلاك الماء
C	أطفئ المصابيح في المباني

السؤال رقم (8)	
كيف يحافظ الإنسان على الوطن؟	
A	تقليل النفايات
B	قطع الأشجار
C	دخان السيارات



السؤال رقم (9)	
ما الأسباب التي تساهم في انقراض ضب الصحراء؟	
A	زراعة الأشجار.
B	خسارة الموطن.
C	تقليل النفايات.

السؤال رقم (10)	
ما الأسباب التي أدت الى تعرض الاطوم للانقراض؟	
A	الزراعة
B	ترشيد الاستهلاك.
C	التلوث والصيد



السؤال رقم (11)

أكمل الفراغات التالية مستعيناً بالكلمات في الصندوق:

الزعانف	حار	العوسج	الطاقة	سنام	المنطقة القطبية	النفائات
---------	-----	--------	--------	------	-----------------	----------

1- مناخ الصحراء جاف.

2- الجمل لديه يخزن فيه الدهون ليتحمل الجوع و العطش.

3- ترك المبنى مضاء يهدر

4- يمكن المحافظة على المواطن عبر تقليل

5- من النباتات المهددة بالانقراض في دولة قطر نبات

6 - يعيش الارنب القطبي في



السؤال رقم (12)

ضع علامة (√) أمام العبارة الصحيحة، أو علامة (×) أمام العبارة الخاطئة :

1. الغابة موطن حار قليل الأمطار . ()
2. للنباتات خصائص تساعد على العيش في الموطن المناسب لها. ()
3. يعيش الدب القطبي في موطن حار وجاف . ()
4. للأرنب القطبي رموش طويلة تساعد على التخفي في الطبيعة. ()
5. لشجرة النخيل خصائص تساعد على العيش في الصحراء. ()
6. تعيش في المنطقة العشبية نباتات لها جذور قصيرة. ()
7. تعيش في المنطقة الصحراوية نباتات الصبار ذات اشواك رفيعة. ()
8. تعيش في الغابات القليل من النباتات لندرة الامطار ()
9. ترك المباني مضاءة من صور ترشيد الاستهلاك. ()
10. من طرق المحافظة على الموطن إعادة الاستخدام . ()
11. هوية جمع الحيوانات تسبب في انقراض الحيوانات . ()
12. نبات العوسج من النباتات المهددة بالانقراض في دولة قطر . ()
13. من الحيوانات المهددة بالانقراض طائر الحبارى . ()



السؤال رقم (13)


أصل كل حيوان من العمود (ب) بالموطن الذي يعيش فيه من العمود (أ)

العمود ب

العمود أ




الصحراء




المنطقة القطبية



المنطقة العشبية



الغابة المطيرة





السؤال رقم (14)

اجب عن الأسئلة التالية:

1- ما هو مناخ المنطقة القطبية ؟

2- ما موطن شجرة النخيل ؟

3- اذكر اسم حيوان مهدد بالانقراض في قطر .

4- اذكر اثنان من طرق المحافظة على الموطن.