

أوراق عمل دعم وتثبيت الوحدة الرابعة مع الإجابة النموذجية



تم تحميل هذا الملف من موقع المناهج القطرية

موقع المناهج ← المناهج القطرية ← المستوى الثاني ← علوم ← الفصل الثاني ← ملفات متنوعة ← الملف

تاريخ إضافة الملف على موقع المناهج: 10:40:59 2025-06-17

ملفات اكتب للمعلم اكتب للطالب ا اختبارات الكترونية ا اختبارات ا حلول ا عروض بوربوينت ا أوراق عمل منهج انجليزي ا ملخصات وتقارير ا مذكرات وبنوك ا الامتحان النهائي ا للمدرس

المزيد من مادة علوم:

التواصل الاجتماعي بحسب المستوى الثاني



صفحة المناهج القطرية على فيسبوك

الرياضيات

اللغة الانجليزية

اللغة العربية

التربية الاسلامية

المواد على تلغرام

المزيد من الملفات بحسب المستوى الثاني والمادة علوم في الفصل الثاني

أوراق عمل دعم وتثبيت الوحدة الرابعة	1
إجابات أوراق عمل الفرقان نهاية الفصل	2
بنك أسئلة الوحدة الأولى الظل والنباتات والضوء في مدرسة الأندلس الابتدائية الخاصة للبنين	3
أوراق عمل الأندلس نهاية الفصل في الضوء والنباتات مع الإجابة النموذجية	4
أوراق عمل الأندلس نهاية الفصل في الضوء والنباتات	5

دعم وتثبيت "الوحدة الرابعة" الإجابة النموذجية

السؤال الأول: اختر الإجابة الصحيحة

أي المواد التالية تشكل ظلًا واضحًا؟		1
المادة شفافة	A	
المادة شبه شفافة	B	
المادة المعتمة	C	

كيف يسير الضوء؟		2
في خطوط مستقيمة	A	
في خطوط منحنية	B	
في خطوط متعرجة	C	

كيف يكون شكل الظل؟		3
شكل الشيء نفسه	A	
مختلف عن شكل الشيء	B	
ليس له شكل	C	

4	ماذا يحدث عندما يكون مصدر الضوء قريباً من الشيء؟	
A	تصبح مساحة الظل كبيرة	
B	تصبح مساحة الظل صغيرة	
C	لا تتغير مساحة الظل	

5	ماذا يحدث عندما يكون مصدر الضوء بعيداً عن الشيء؟	
A	تصبح مساحة الظل كبيرة	
B	تصبح مساحة الظل صغيرة	
C	لا تتغير مساحة الظل	

6	على ماذا يعتمد موقع الظل وطوله أثناء النهار؟	
A	موقع الشمس في السماء	
B	موقع القمر في السماء	
C	موقع النجوم في السماء	

متى يكون الظل طويلاً؟		7
ليلاً	A	
في بداية النهار	B	
في منتصف النهار	C	

متى يكون الظل قصيراً؟		8
في بداية النهار	A	
في نهاية النهار	B	
في منتصف النهار	C	

متى تعمل ساعة الظل؟	9
في الجو المشمس	A
في الجو الغائم	B
أثناء الليل	C

فيما تستخدم ساعة الظل؟	10
لمعرفة أيام الأسبوع	A
لمعرفة الوقت	B
لمعرفة أشهر السنة	C

كيف يكون طول الظل عند الساعة الواحدة ظهراً؟		11
الظل أطول	A	
الظل أقصر	B	
لا يظهر ظل	C	

إلى أي جهة تمتد الظلال صباحاً؟		12
الغرب	A	
الشرق	B	
لا يظهر الظل	C	

إلى أي جهة تمتد الظلال بعد العصر؟		13
الغرب	A	
الشرق	B	
لا يظهر الظل	C	

السؤال الثاني: أكمل الفراغ بالكلمة المناسبة:

أكمل الفراغات التالية مستعيناً بالكلمات في الجدول التالي:

مساحة	طويل	الظل	الوقت
-------	------	------	-------

1- يكون الظل **طويل** في بداية النهار ونهايته.

2- تتغير **مساحة** ظلي موقعه في أثناء النهار.

3- تستخدم ساعة الظل لمعرفة **الوقت**

4- يعتمد موقع ... **الظل** ... على موقع الشمس في السماء.

السؤال الثالث: ضع علامة (✓) أمام العبارة الصحيحة وعلامة (×) أمام العبارة الخطأ:

1. لا يتغير موقع الظل وطوله في أثناء النهار (×)




2. يعتمد موقع الظل وطوله على موقع الشمس في السماء (✓)

3. يكون الظل أقصر في بداية النهار ونهايته (×)

4. تعمل ساعة الظل عندما يكون الجو غائماً (×)

5. تستخدم ساعات الظل لمعرفة الوقت (✓)

السؤال السابع: أصل بخط بين العمود (أ) بما يناسبه من العمود (ب):

(ب)		(أ)
		ظل كرة
		ساعة الظل
		الظل ظهراً