

أوراق عمل الأندلس نهاية الفصل في الويب والرسم بالأوامر مع الإجابة النموذجية



تم تحميل هذا الملف من موقع المناهج القطرية

موقع المناهج ← المناهج القطرية ← المستوى الثاني ← علوم الحاسب ← الفصل الثاني ← ملفات متنوعة ← الملف

تاريخ إضافة الملف على موقع المناهج: 12:09:15 2025-05-19

ملفات اكتب للمعلم اكتب للطالب | اختبارات الكترونية | اختبارات | حلول | عروض بوربوينت | أوراق عمل
منهج انجليزي | ملخصات وتقارير | مذكرات وبنوك | الامتحان النهائي | للمدرس

المزيد من مادة
علوم الحاسب:

إعداد: مدرسة الأندلس

التواصل الاجتماعي بحسب المستوى الثاني



صفحة المناهج
القطرية على
فيسبوك

الرياضيات

اللغة الانجليزية

اللغة العربية

التربية الاسلامية

المواد على تلغرام

المزيد من الملفات بحسب المستوى الثاني والمادة علوم الحاسب في الفصل الثاني

أوراق عمل الأندلس نهاية الفصل في الويب والرسم بالأوامر

1

أنشطة وتمارين لتعزيز المهارات الرقمية وإدارة الأمان الإلكتروني منتصف الفصل مع الإجابة النموذجية

2

أنشطة وتمارين لتعزيز المهارات الرقمية وإدارة الأمان الإلكتروني منتصف الفصل

3

أوراق عمل الأندلس منتصف الفصل غير مجابة

4

أوراق عمل الأندلس منتصف الفصل مع الإجابة النموذجية

5

مدرسة الأندلس الخاصة للبنات
العام الأكاديمي 2025/2024
نهاية الفصل الدراسي الثاني



أوراق عمل إثرائية وإجاباتها
الحوسبة وتكنولوجيا المعلومات
الصف: الثاني

اسم الطالبة/.....
الصف والشعبة /.....

السؤال الأول: الأسئلة الموضوعية:

اختار الإجابة الصحيحة:



1.1	تستخدم صفحات الويب أنواع مختلفة من المعلومات منها " النص ":	
	<p>A</p> <p>المها هو نوع من الظباء الصحراوية التي تقطن شبه الجزيرة العربية وأجزاء مختلفة من قارة أفريقيا، وللحفاظ على حيوان المها العربي من الانقراض أقامت دولة قطر العديد من المحميات الطبيعية.</p>	
	<p>B</p> 	1
	<p>C</p> 	

1.2	تستخدم صفحات الويب أنواع مختلفة من المعلومات منها " الصورة ":	
	<p>A</p> <p>المها هو نوع من الظباء الصحراوية التي تقطن شبه الجزيرة العربية وأجزاء مختلفة من قارة أفريقيا، وللحفاظ على حيوان المها العربي من الانقراض أقامت دولة قطر العديد من المحميات الطبيعية.</p>	
	<p>B</p> 	1
	<p>C</p> 	

نستطيع أن نرى العالم باستخدام برنامج

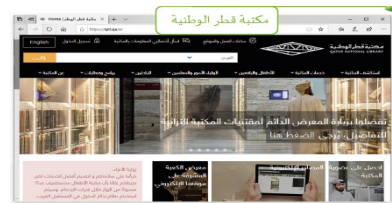
1.3



A



B

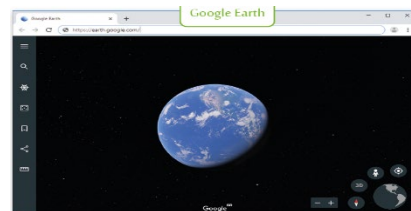


C

1

يمكنك زيارة المتاحف بزيارة متحف

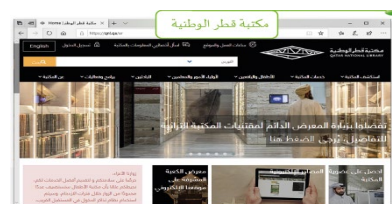
1.4



A



B



C

1

نستطيع استكشاف مكتبة الأطفال بزيارة

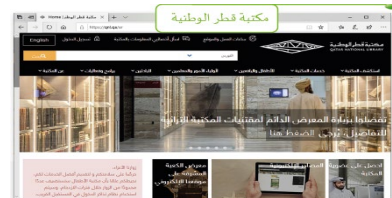
1.5



A



B



C

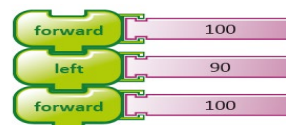
1

الأوامر هي التعليمات التي تتلقاها الحواسيب لتستطيع تأدية مهامها:

1.6



A



B



C

1

ما هو البرنامج الذي يستخدم أوامر بسيطة في إنشاء برنامج لرسم أشكال هندسية ورسومات فنية؟		1.7
	A	1
	B	
	C	


ما هو الأمر الذي يستخدم لتحريك السلحفاة إلى الأمام:		1.8
	A	1
	B	
	C	

 ما هو الأمر الذي يستخدم لتحريك السلحفاة إلى الخلف:	1.9
 	<div data-bbox="1305 472 1347 517">A</div>
 	<div data-bbox="1305 636 1347 680">B</div> <div data-bbox="1385 591 1481 725">1</div>
 	<div data-bbox="1305 799 1347 844">C</div>
 ما هو الأمر الذي يستخدم لاستدارة السلحفاة إلى اليمين:	1.10
 	<div data-bbox="1305 1122 1347 1167">A</div>
 	<div data-bbox="1305 1285 1347 1330">B</div> <div data-bbox="1385 1240 1481 1375">1</div>
 	<div data-bbox="1305 1449 1347 1494">C</div>




ما هو الأمر الذي يستخدم لاستدارة السلحفاة إلى اليسار:


1.11



A



B

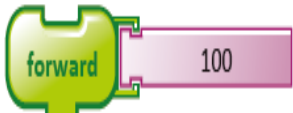


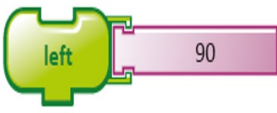
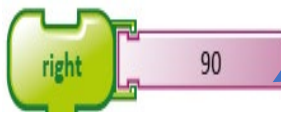


C

1

الأسئلة المقالية:

السؤال الثاني: صل العمود (أ) مع ما يناسبه من العمود (ب) :

(ب)	(أ)
	أمر التحرك الى الخلف
	أمر التحرك الى الامام
	أنواع المعلومات " نص "
	أنواع المعلومات " صورة "
	أمر الالتفاف الى اليمين
	أمر الالتفاف الى اليسار

السؤال الثالث: أجب عن الأسئلة التالية:

ارسم هنا



اكتب اسم الشكل: مربع

أ- تتبع الخطوات التالية وارسم الشكل؟

1. ارسم خطأ.
2. استدر لليمين.
3. ارسم خطأ بنفس القياس.
4. استدر لليمين.
5. ارسم خطأ بنفس القياس.
6. استدر لليمين.
7. ارسم خطأ بنفس القياس.
8. استدر لليمين.

ب - تتبع الخطوات التالية وارسم مستطيل؟

ارسم هنا



اكتب اسم الشكل : مستطيل

1. ارسم خطأ بطول 60 سم.
2. استدر لليمين.
3. ارسم خطأ بطول 20 سم.
4. استدر لليمين.
5. ارسم خطأ بطول 60 سم.
6. استدر لليمين.
7. ارسم خطأ بطول 20 سم.
8. استدر لليمين.

انتهت الأسئلة