

تم تحميل هذا الملف من موقع المناهج القطرية



*للحصول على أوراق عمل لجميع الصفوف وجميع المواد اضغط هنا

<https://almanahj.com/qa>

* للحصول على أوراق عمل لجميع مواد المستوى الثاني اضغط هنا

<https://almanahj.com/qa/2>

* للحصول على جميع أوراق المستوى الثاني في مادة رياضيات ولجميع الفصول, اضغط هنا

<https://almanahj.com/qa/2math>

* للحصول على أوراق عمل لجميع مواد المستوى الثاني في مادة رياضيات الخاصة بـ الفصل الثاني اضغط هنا

<https://almanahj.com/qa/2math2>

* لتحميل كتب جميع المواد في جميع الفصول للمستوى الثاني اضغط هنا

<https://almanahj.com/qa/grade2>

للتحدث إلى بوت المناهج القطرية على تلغرام: اضغط هنا

https://t.me/qacourse_bot

السؤال رقم (1)

1/.....

ما القيمة الكلية للأوراق النقدية المبينة أدناه؟



A QR 55

B QR 60

تم تحميل هذا الملف من

موقع المناهج القطرية

C QR 65

السؤال رقم (2)

/.....

alManahj.com/qa

ما يلي يمثل قيمة الرقم 3 في العدد 923؟

A 3

B 30

C 300

1/.....

السؤال رقم (3)

نتائج الجمع ذهنياً للجملة العددية التالية :

$$534 + 10$$

A

535

B

544

C

634

تم تحميل هذا الملف من

موقع المناهج المطوية

EYE31008

1/.....

سؤال رقم (4)

يساوي 863 مطروحا منه 100؟

A

862

B

853

C

763

السؤال رقم (5)

ما تقدير طول فلم التلوين أدناه؟



A

1 سنتمتر تقريبًا

B

4 سنتمتر تقريبًا

C

10 سنتمتر تقريبًا

تم تحميل هذا الملف من

موقع المراهج القطرية
EYE31008

السؤال رقم (6)

1/.....

اسم خالد شكلأله 3 أضلاع و3 رؤوس.

اسم الشكل الذي رسمه خالد؟

A

مثلث

B

شكل رباعي

C

شكل خماسي

تعليمات : عند الإجابة على الأسئلة من 7 إلى 17، اكتب إجاباتك في المساحات المخصصة لذلك.

2/.....

السؤال رقم 7

وجد ناتج الطرح للمساواة التالية.

عشرات	آحاد
1	19
2	5
	7
-	
1	8

تم تحميل هذا الملف من

موقع المناهج القطرية

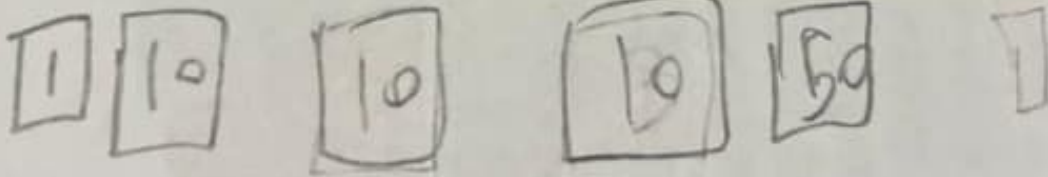
EYE31008

2/.....

السؤال رقم 8

(أ) لدى مريم 50 QR، أعطتها جدتها 3 من الأوراق النقدية من فئة 10 QR، و 1 من الأوراق النقدية من فئة 1 QR.

ما المبلغ الكلي الذي لدى مريم؟



وضح اجابتك:

QR.....


81

ب) عند الوقت بكتابة الأرقام بحيث تظهر كلتا الساعتين نفس الوقت.
ثم حوِّط p.m. أو a.m.

الوقت الذي يتناول فيه جاسم وجبة العشاء.



a.m.



p.m.

EYE31008

تم تحميل هذا الملف من

2/.....

السؤال رقم 9

موقع المناهج القطرية

اكتب العدد بالصيغة التحليلية والصيغة القياسية.

ثلاثمائة وأربعة وخمسون .



$$300 + 50 + 4$$

الصيغة التحليلية :

$$354$$

الصيغة القياسية :

(أ) استعمل أنماط القيم المنزلية والحساب الذهني لإيجاد الأعداد الناقصة.

535	536	537	538	539	540
545	546	547	548	549	550
555	556	557	558	559	560

(ب) قارن بين الأعداد ثم اكتب < أو > أو =.

341



432

(1)

539



521

(2)

تم تحميل هذا الملف من
موقع المناهج القطرية

EYE31008

ارسم قوالب القيم المنزلية لتوضيح عملك إذا لزم الأمر.

	مئات	عشرات	آحاد
	2	17	
	3	7	2
+	2	8	1
	0	9	3

مئات	عشرات	آحاد



..... سلتمترات تقريبا.

عصا مترية لقياس طول حائط.
طول الحائط يساوي 4 مرات طول العصا المترية.

..... أمتار
تم تحميل هذا الملف من
موقع المناهج القطرية

EYE31008

عدد الزوايا. ثم سم الشكل.

..... 5 زوايا.



اسم الشكل :
.....

2/.....

16

السؤال رقم 16
انظر الى الشكل ادناه ، وأجب عن الأسئلة :



1. ما اسم الجسم؟ مكعب

2. ما عدد الأوجه المستوية؟ 6

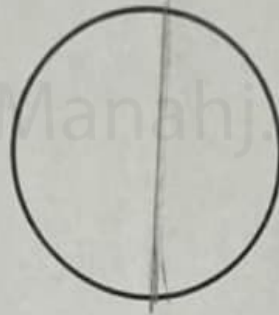
3. ما عدد الرؤوس؟ 8

4. ما عدد الأحرف؟ 12

3/.....

السؤال رقم 17


قسّم الشكل التالي إلى 2 من الأجزاء المتساوية .



ب) صبف كل جزء من الأجزاء المتساوية لكل شكل من الأشكال التالية .
اكتب نصف أو ثلث أو ربيع .



..... ثلث



..... ربيع

EYE31001

انتهت الأسئلة

نرجولكم التوفيق