

أوراق عمل الأندلس نهاية الفصل في الويب والرسم بالأوامر



تم تحميل هذا الملف من موقع المناهج القطرية

موقع المناهج ← المناهج القطرية ← المستوى الثاني ← علوم الحاسب ← الفصل الثاني ← ملفات متنوعة ← الملف

تاريخ إضافة الملف على موقع المناهج: 12:08:12 2025-05-19

ملفات اكتب للمعلم اكتب للطالب | اختبارات الكترونية | اختبارات | حلول | عروض بوربوينت | أوراق عمل
منهج انجليزي | ملخصات وتقارير | مذكرات وبنوك | الامتحان النهائي | للمدرس

المزيد من مادة
علوم الحاسب:

إعداد: مدرسة الأندلس

التواصل الاجتماعي بحسب المستوى الثاني



صفحة المناهج
القطرية على
فيسبوك

الرياضيات

اللغة الانجليزية

اللغة العربية

التربية الاسلامية

المواد على تلغرام

المزيد من الملفات بحسب المستوى الثاني والمادة علوم الحاسب في الفصل الثاني

1 أنشطة وتمارين لتعزيز المهارات الرقمية وإدارة الأمان الإلكتروني منتصف الفصل مع الإجابة النموذجية

1

2 أنشطة وتمارين لتعزيز المهارات الرقمية وإدارة الأمان الإلكتروني منتصف الفصل

2

3 أوراق عمل الأندلس منتصف الفصل غير مجابة

3

4 أوراق عمل الأندلس منتصف الفصل مع الإجابة النموذجية

4

5 تدريبات دعم واثراء نهاية الفصل مع الإجابة النموذجية

5

مدرسة الأندلس الخاصة للبنات
العام الأكاديمي 2025/2024
نهاية الفصل الدراسي الثاني



أوراق عمل إثرائية وإجاباتها
الحوسبة وتكنولوجيا المعلومات
الصف: الثاني

اسم الطالبة/.....
الصف والشعبة /.....

السؤال الأول: الأسئلة الموضوعية:

اختار الإجابة الصحيحة:



تستخدم صفحات الويب أنواع مختلفة من المعلومات منها " النص ":	1.1
<p>المها هو نوع من الطيأ الصحراوية التي تقطن شبه الجزيرة العربية وأجزاء مختلفة من قارة أفريقيا، وللحفاظ على حيوان المها العربي من الانقراض أقامت دولة قطر العديد من المحميات الطبيعية.</p>	A
	B
	C
تستخدم صفحات الويب أنواع مختلفة من المعلومات منها " الصورة ":	1.2
<p>المها هو نوع من الطيأ الصحراوية التي تقطن شبه الجزيرة العربية وأجزاء مختلفة من قارة أفريقيا، وللحفاظ على حيوان المها العربي من الانقراض أقامت دولة قطر العديد من المحميات الطبيعية.</p>	A
	B
	C

نستطيع أن نرى العالم باستخدام برنامج

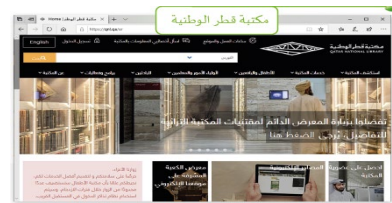
1.3



A



B

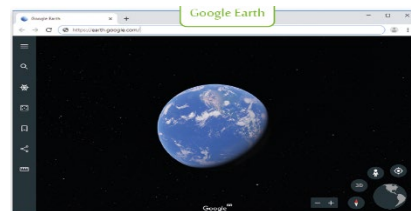


C

1

يمكنك زيارة المتاحف بزيارة متحف

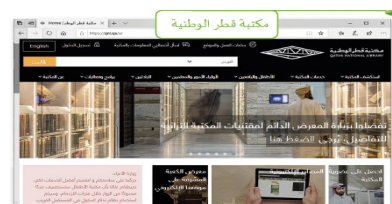
1.4



A



B



C

1

نستطيع استكشاف مكتبة الأطفال بزيارة

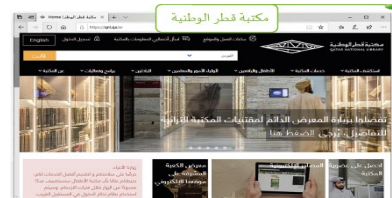
1.5



A



B



C

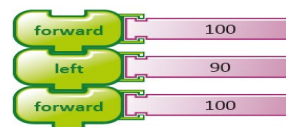
1

الأوامر هي التعليمات التي تتلقاها الحواسيب لتستطيع تأدية مهامها:

1.6



A



B



C

1

ما هو البرنامج الذي يستخدم أوامر بسيطة في إنشاء برنامج لرسم أشكال هندسية ورسومات فنية؟		1.7
	A	1
	B	
	C	


ما هو الأمر الذي يستخدم لتحريك السلحفاة إلى الأمام:		1.8
	A	1
	B	
	C	

<p>ما هو الأمر الذي يستخدم لتحريك السلحفاة إلى الخلف:</p> 	1.9
<div> <div>right</div> <div>90</div> <div>A</div> </div>	<div>1</div>
<div> <div>back</div> <div>100</div> <div>B</div> </div>	
<div> <div>forward</div> <div>100</div> <div>C</div> </div>	
<p>ما هو الأمر الذي يستخدم لاستدارة السلحفاة إلى اليمين:</p> 	1.10
<div> <div>right</div> <div>90</div> <div>A</div> </div>	<div>1</div>
<div> <div>back</div> <div>100</div> <div>B</div> </div>	
<div> <div>forward</div> <div>100</div> <div>C</div> </div>	



ما هو الأمر الذي يستخدم لاستدارة السلحفاة إلى اليسار:


1.11



A



B



C

1

الأسئلة المقالية:

السؤال الثاني: صل العمود (أ) مع ما يناسبه من العمود (ب) :

(ب)	(أ)
	أمر التحرك الي الخلف
	أمر التحرك الى الامام
	أنواع المعلومات " نص "
	أنواع المعلومات " صورة "
	أمر الالتفاف الى اليمين
	أمر الالتفاف الى اليسار

السؤال الثالث: أجب عن الأسئلة التالية:

ارسم هنا

أ- تتبع الخطوات التالية وارسم الشكل؟

1. ارسم خطأ.
2. استدر لليمين.
3. ارسم خطأ بنفس القياس.
4. استدر لليمين.
5. ارسم خطأ بنفس القياس.
6. استدر لليمين.
7. ارسم خطأ بنفس القياس.
8. استدر لليمين.

اكتب اسم الشكل

ب - تتبع الخطوات التالية وارسم مستطيل؟

ارسم هنا

1. ارسم خطأ بطول 60 سم.
2. استدر لليمين.
3. ارسم خطأ بطول 20 سم.
4. استدر لليمين.
5. ارسم خطأ بطول 60 سم.
6. استدر لليمين.
7. ارسم خطأ بطول 20 سم.
8. استدر لليمين.

اكتب اسم الشكل

انتهت الأسئلة