

## شكراً لتحميلك هذا الملف من موقع المناهج القطرية



## تدريبات دعم وإثراء الفرقان نهاية الفصل مع الحل

[موقع المناهج](#) ⇨ [المناهج القطرية](#) ⇨ [المستوى الثاني](#) ⇨ [علوم الحاسب](#) ⇨ [الفصل الأول](#) ⇨ [الملف](#)

تاريخ نشر الملف على موقع المناهج: 2023-12-01 14:13:11

## التواصل الاجتماعي بحسب المستوى الثاني



## روابط مواد المستوى الثاني على تلغرام

[الرياضيات](#)

[اللغة الانجليزية](#)

[اللغة العربية](#)

[التربية الاسلامية](#)

## المزيد من الملفات بحسب المستوى الثاني والمادة علوم الحاسب في الفصل الأول

<a href="#">تدريبات دعم وإثراء الفرقان نهاية الفصل</a>	1
<a href="#">احابة اختبار الوحدة الاولى انا استخدم الحاسوب</a>	2
<a href="#">اختبار الوحدة الاولى انا استخدم الحاسوب</a>	3
<a href="#">تدريبات مجمع الفرقان منتصف الفصل</a>	4
<a href="#">تحميل كتاب الأنشطة</a>	5

# الحوسبة

2  
الصف

دعم وإثراء نهائية ف1

العام الدراسي

1445 هـ

24-23 م



يا رب انصر عبادك المؤمنين  
وجنك الموحدين في كل مكان

القدس والأقصى ▼ حتماً ستعود

ملحوظة: هذه التدريبات لا تقني عن الكتاب المدرسي

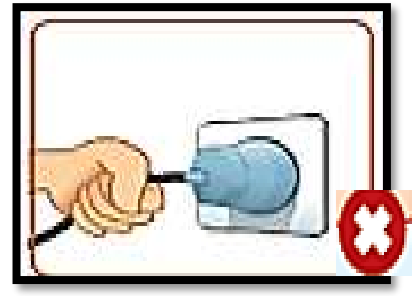
الاسم / ..... الصف /5-

التميز



### أسئلة محلولة


س : ضع علامة ( ✓ ) على الاستخدام الصحيح للأجهزة  
وعلمة ( × ) على الاستخدام الخاطئ للأجهزة :-



تدريب كتاب النشاط صفحة رقم 9



ضع دائرة حول الأشياء التي لا يصح أن تكون بجوار الحاسوب.



س :



**عرف إعادة التدوير :**

هي استخدام الأشياء القديمة المستعملة لإنشاء أشياء جديدة.



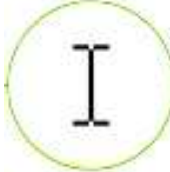


## تدريب كتاب النشاط صفحة رقم 11

3

صل المواد القابلة لإعادة التدوير بالسلة المناسبة.

The diagram illustrates the recycling process for electronic waste. On the left, there are three recycling bins: a green bin for paper, a yellow bin for plastic, and a blue bin for metal. On the right, there are four circular icons representing different types of electronic waste: a laptop, a smartwatch, a battery, and a stack of paper. Red arrows point from the laptop, smartwatch, and battery to the yellow bin (plastic). A red arrow points from the stack of paper to the green bin (paper). A blue arrow points from the laptop to the blue bin (metal).

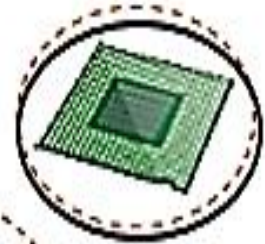
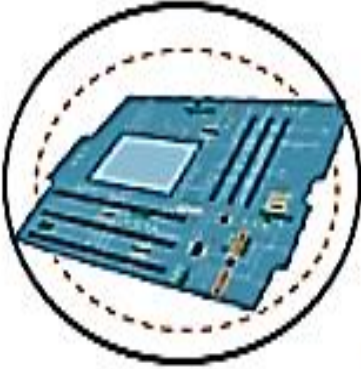
يس : صل الكلمات في العمود ( أ ) مع ما يناسبها من العمود ( ب ) :

<u>( ب ) المهام</u>	<u>( أ ) شكل مؤشر الفأرة</u>
الاختيار	
التحريك	
انتقال إلى	
كتابة نص	
انتظار	

## حل كتاب التدريبات ص 15

3

ضع دائرة حول المكونات الموجودة في وحدة النظام.







## حل كتاب التدريبات والأنشطة ص 16




صل وظائف الأجهزة بالصورة المناسبة وذلك بكتابة الرقم المناسب في الصورة أمام الصورة المناسبة.



2

تسجيل صوت.

1



1

كتابة نص.

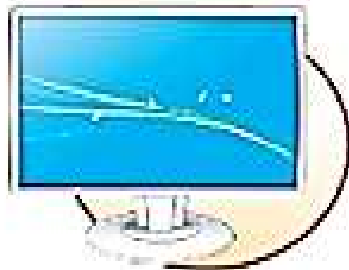
2



4

عرض شاشات البرنامج.

3



3

التقاط الصور أو مقاطع الفيديو.

4



5

الاستماع إلى الملفات الصوتية.

5

## حل كتاب التدريبات ص 17

اكتب رقم الجهاز الصحيح في الدائرة المناسبة:

2 الاستماع إلى الملفات الصوتية.



1 تحريك المؤشر.



4 طباعة الصور والصفحات.



3 إدخال المستندات إلى الحاسوب.



5 مشاهدة الأصدقاء عبر الإنترنت.




## اجب عن الأسئلة الآتية :

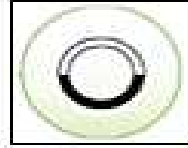
السؤال الأول :-

ضع علامة (X) أمام الإجابة الصحيحة

من أشكال مؤشر الفأرة ويستخدم للانتظار:








1

من الأجهزة الملحقة للحاسوب:








2

الصورة التي تدل على الطريقة الصحيحة لاستخدام الأجهزة المكتبية:








3

من الأشياء التي لا يصبح أن تكون بجوار الحاسوب:











4


السؤال الثاني: -  
صل أجهزة الحاسوب في العمود (A) بوظيفتها المناسبة في العمود (B)

B		A
تحريك المؤشر		
تسجيل الصوت		
إدخال المستندات وصور للحاسوب		

السؤال الثالث: -  
ضع علامة ✓ بجانب الصورة المناسبة

من مكونات وحدة النظام:








1

من الأجهزة الرئيسية للحاسوب:








2

لإعادة تدوير الأجهزة نستخدم:












3

## السؤال الرابع

صل أشكال مؤنتر الفارة في العمود (A) بالعهام المناسبة بالعمود (B)

B		A
الاختيار		
الانتقال إلى		
الكتابة		
الانتظار		
التحرك		