

## أوراق عمل الأندلس للبنين التحضيرية لاختبار نهاية الفصل غير مجابة



### تم تحميل هذا الملف من موقع المناهج القطرية

موقع المناهج ← المناهج القطرية ← الصف الثاني ← علوم الحاسب ← الفصل الأول ← ملفات متنوعة ← الملف

تاريخ إضافة الملف على موقع المناهج: 11:16:19 2025-12-14

ملفات اكتب للمعلم اكتب للطالب ا اختبارات الكترونية ا اختبارات ا حلول ا عروض بوربوينت ا أوراق عمل منهج انجليزي ا ملخصات وتقارير ا مذكرات وبنوك ا الامتحان النهائي للمدرس

المزيد من مادة  
علوم الحاسب:

إعداد: مدرسة الأندلس

### التواصل الاجتماعي بحسب الصف الثاني



صفحة المناهج  
القطرية على  
فيسبوك

الرياضيات

اللغة الانجليزية

اللغة العربية

التربية الاسلامية

المواد على تلغرام

### المزيد من الملفات بحسب الصف الثاني والمادة علوم الحاسب في الفصل الأول

أوراق عمل الأندلس للبنين التحضيرية لاختبار نهاية الفصل مع الإجابة النموذجية

1

أوراق عمل الفرقان منتصف الفصل مع الإجابة النموذجية

2

أوراق عمل الأندلس للبنين التحضيرية لاختبار منتصف الفصل مع الإجابة النموذجية

3

أوراق عمل الأندلس للبنين التحضيرية لاختبار منتصف الفصل غير مجابة

4

أوراق عمل الفرقان منتصف الفصل غير مجابة

5



السؤال الأول:ضع دائرة حول الإجابة الصحيحة لكل مما يلي:

|   |               |
|---|---------------|
| 1- لكتابة الحروف والأرقام في الحاسوب نستخدم |               |
| A   | مكبر الصوت    |
| B   | لوحة المفاتيح |
| c   | الفأرة        |
| 2- لإدخال صورة الى الحاسوب نستخدم           |               |
| A   | الماسح الضوئي |
| B   | الطابعة       |
| c   | سماعات الأذن  |
| 3- للإستماع الى الملفات الصوتية نستخدم      |               |
| A   | الشاشة        |
| B   | الفأرة        |
| c   | سماعات الأذن  |
| 4- من أجل طباعة صفحة يتم استخدام            |               |
| A   | الماسح الضوئي |
| B   | الشاشة        |
| c   | الطابعة       |

## 5- أحد أجهزة الحاسوب والذي يستخدم لتحريك المؤشر

|   |               |
|---|---------------|
| A | الميكروفون    |
| B | لوحة المفاتيح |
| c | الفأرة        |

## 6- يتم عرض شاشات البرنامج من خلال

|   |               |
|---|---------------|
| A | مكبر الصوت    |
| B | الشاشة        |
| c | الماسح الضوئي |

## 7- يمكن تسجيل ملف صوتي باستخدام

|   |               |
|---|---------------|
| A | الشاشة        |
| B | الميكروفون    |
| c | لوحة المفاتيح |

## 8- أحد أجزاء جهاز الحاسوب والذي يوجد داخل وحدة النظام

|   |         |
|---|---------|
| A | المعالج |
| B | الفأرة  |
| c | الطابعة |

## السؤال الثاني:

وصل عناصر العمود ( أ ) بما يناسبه من عناصر العمود ( ب )

(أ)

اللوحة الأم




المعالج

شرائح الذاكرة

القرص الصلب

مشغل الأقراص

(ب)



السؤال الثالث:

صل وظائف الأجهزة بالصورة المناسبة وذلك بكتابة الرقم المناسب أمام الصورة



تسجيل صوت.

1



كتابة نص.

2



عرض شاشات البرنامج.

3



التقاط الصور أو مقاطع الفيديو.

4



الاستماع إلى الملفات الصوتية.

5

## السؤال الرابع:

اكتب رقم الجهاز الصحيح في الدائرة المناسبة

1. الاستماع إلى الملفات الصوتية.

2. تحريك المؤشر.

3. طباعة الصور والصفحات.


4. إدخال المستندات إلى الحاسوب.

5. مشاهدة الأصدقاء عبر الإنترنت.

## السؤال الخامس:

وصل عناصر العمود ( أ ) بما يناسبه من عناصر العمود ( ب )

(ب)



(أ)

مؤشر الفأرة في حالة التحريك

مؤشر الفأرة في حالة الكتابة

مؤشر الفأرة في حالة الانتقال الى

مؤشر الفأرة في حالة الاختيار

مؤشر الفأرة في حالة الإنتظار

**السؤال السادس:**

صنف الأجهزة التالية الى أجهزة رئيسية أو ملحقة للحاسوب وذلك بوضع دائرة حول الإجابة الصحيحة أسفل الصورة حسب تصنيف كل جهاز.

|   |   |   |  |   |         |
|---|---|---|--|---|---------|
|  |  |  |  |  | الجهاز  |
| A. جهاز رئيسي<br>B. جهاز ملحق   | A. جهاز رئيسي<br>B. جهاز ملحق   | A. جهاز رئيسي<br>B. جهاز ملحق   | A. جهاز رئيسي<br>B. جهاز ملحق  | A. جهاز رئيسي<br>B. جهاز ملحق   | التصنيف |