

الاختبار النهائي نهاية الفصل



تم تحميل هذا الملف من موقع المناهج القطرية

موقع المناهج ← المناهج القطرية ← المستوى الثاني ← رياضيات ← الفصل الثاني ← ملفات متنوعة ← الملف

تاريخ إضافة الملف على موقع المناهج: 2025-06-22 13:50:05

ملفات اكتب للمعلم اكتب للطالب | اختبارات الكترونية | اختبارات | حلول | عروض بوربوينت | أوراق عمل
منهج انجليزي | ملخصات وتقارير | مذكرات وبنوك | الامتحان النهائي للمدرس

المزيد من مادة
رياضيات:

التواصل الاجتماعي بحسب المستوى الثاني



صفحة المناهج
القطرية على
فيسبوك

الرياضيات

اللغة الانجليزية

اللغة العربية

التربية الاسلامية

المواد على تلغرام

المزيد من الملفات بحسب المستوى الثاني والمادة رياضيات في الفصل الثاني

أوراق عمل في قراءة وكتابة الأعداد

1

ورقة عمل في فهم المئات

2

ورقة عمل في تسمية القيمة المنزلية

3

ورقة عمل في أنماط القيم المنزلية

4

ورقة عمل في العد القفزي

5



اختبار نهاية الفصل الدراسي الثاني

العام الأكاديمي: 2025/2024

المادة: الرياضيات


الصف: الثاني

30

السؤال	رقم السؤال	درجة السؤال	درجة الطالب	المصحح	المراجع
أسئلة الاختيار من متعدد	1 - 6	6			
الأسئلة المقالية	7	2			
	8	2			
	9	3			
	10	3			
	11	2			
	12	2			
	13	3			
	14	2			
	15	2			
	16	3			
المجموع		30			
المجموع لفظيًا					

المنسق / قائد الطاولة: التوقيع:

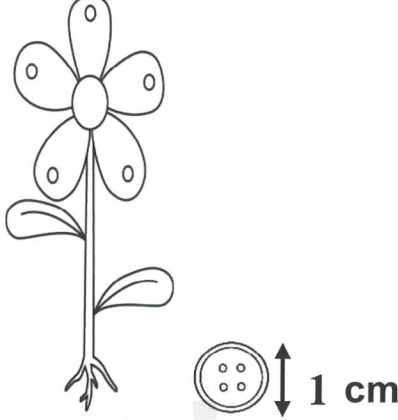
تعليمات: اختر الإجابة الصحيحة لكل من الأسئلة من 1 إلى 6، وذلك بوضع علامة × داخل المربع المجاور للإجابة الصحيحة:




السؤال الأول	1 /
<p>ما العدد الكلي للكرات الزجاجية؟</p> 	
A	700
B	800
C	900

السؤال الثاني	1 /
<p>ما القيمة الصحيحة للرقم الذي تحته خط في العدد 4<u>3</u>9 ؟</p>	
A	3
B	30
C	300

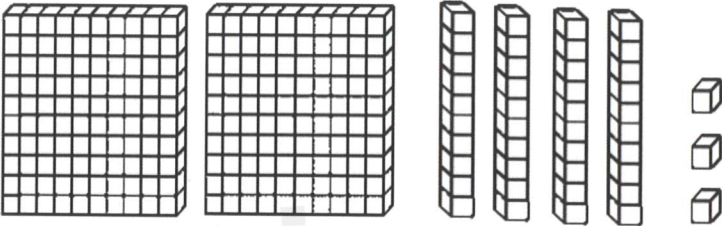
السؤال الثالث	1 /.....
<p>ما ناتج جمع الجملة العددية التالية باستعمال الحساب الذهني؟</p> $186 + 100 =$	
A	187
B	196
C	286

السؤال الرابع	1 /.....
<p>ما العدد الذي يساوي 145 مطروحًا منه 10؟</p>	
A	135
B	144
C	155

السؤال الخامس	1 /
<p>ما تقدير طول الزهرة؟</p> 	
A	1 سنتمتر تقريبًا
B	2 سنتمتر تقريبًا
C	5 سنتمتر تقريبًا

السؤال السادس	1 /
<p>أي من هذه الأشكال مقسم إلى 3 أجزاء متساوية؟</p>	
A	
B	
C	

تعليمات: عند الإجابة على الأسئلة من 7 إلى 16، اكتب إجاباتك في المساحات المخصصة لذلك.

السؤال السابع	2 /
<p>اكتب العدد بالصيغة التحليلية، ثم اكتبه بالصيغة القياسية.</p> <div style="text-align: center; margin: 20px 0;">  </div> <p style="text-align: center;"> الصيغة التحليلية: _____ + _____ + _____ الصيغة القياسية: _____ </p>	

السؤال الثامن	2 /																		
<p>اكتب الأعداد الناقصة باستعمال أنماط القيم المنزلية والحساب الذهني.</p> <table border="1" style="width: 100%; border-collapse: collapse; text-align: center;"> <tr> <td>774</td> <td>775</td> <td>776</td> <td>777</td> <td></td> <td></td> </tr> <tr> <td>784</td> <td></td> <td>786</td> <td>787</td> <td>788</td> <td>789</td> </tr> <tr> <td>794</td> <td></td> <td>796</td> <td>797</td> <td>798</td> <td>799</td> </tr> </table>		774	775	776	777			784		786	787	788	789	794		796	797	798	799
774	775	776	777																
784		786	787	788	789														
794		796	797	798	799														

3 /.....	السؤال التاسع
<p style="text-align: center;">(أ) اكتب الأعداد الناقصة باستعمال العد القفزي.</p> <p style="text-align: center;">100, 200, 300, _____, _____, 600</p>	
<p style="text-align: center;">(ب) قارن. اكتب > أو < أو = .</p> <div style="display: flex; justify-content: space-around; align-items: center;"> <div style="text-align: center;"> <p>635 ○ 535</p> </div> <div style="text-align: center;"> <p>218 ○ 238</p> </div> </div>	

3 /.....	السؤال العاشر												
<p style="text-align: center;"><u>حل المسألة أدناه. ارسم قوالب القيمة المنزلية لتوضيح عملك.</u></p> <p style="text-align: right;">قرأت مريم 231 صفحة.</p> <p style="text-align: right;">وقرأت نورة 252 صفحة.</p> <p style="text-align: right;">ما إجمالي عدد الصفحات التي قرأتها؟</p>													
<div style="display: flex; justify-content: space-around;"> <table border="1" style="border-collapse: collapse; text-align: center;"> <tr> <th style="padding: 5px;">الآحاد</th> <th style="padding: 5px;">العشرات</th> <th style="padding: 5px;">المئات</th> </tr> <tr> <td style="height: 100px; vertical-align: bottom;">○</td> <td style="height: 100px; vertical-align: bottom;">□</td> <td style="height: 100px; vertical-align: bottom;">□</td> </tr> </table> <table border="1" style="border-collapse: collapse; text-align: center;"> <tr> <th style="padding: 5px;">الآحاد</th> <th style="padding: 5px;">العشرات</th> <th style="padding: 5px;">المئات</th> </tr> <tr> <td style="height: 100px;"></td> <td style="height: 100px;"></td> <td style="height: 100px;"></td> </tr> </table> </div>		الآحاد	العشرات	المئات	○	□	□	الآحاد	العشرات	المئات			
الآحاد	العشرات	المئات											
○	□	□											
الآحاد	العشرات	المئات											

2 /.....

السؤال الحادي عشر

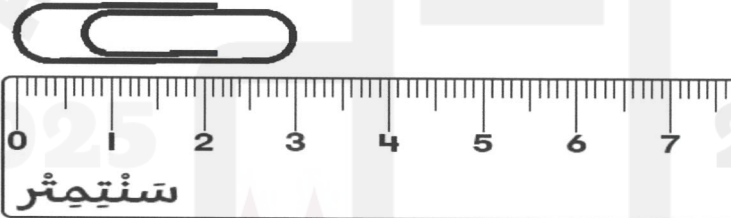
اشرح. أعد التجميع إذا لزم الأمر. ارسم قوالب القيمة المنزلية إذا لزم الأمر.

المئات	العشرات	الآحاد
<div style="border: 1px solid black; width: 30px; height: 30px; margin: 0 auto;"></div>	<div style="border: 1px solid black; width: 30px; height: 30px; margin: 0 auto;"></div>	<div style="border: 1px solid black; width: 30px; height: 30px; margin: 0 auto;"></div>
4	3	8
1	6	2

2 /.....

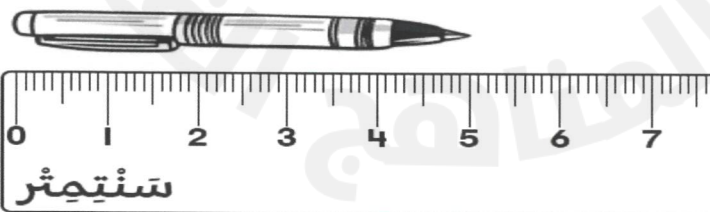
السؤال الثاني عشر

(أ) ما تقدير طول المشبك بالسنتيمتر.




سنتيمتر تقريباً. _____

(ب) يريد حمد ضم قلمين معاً. كم سيبلغ طول القلمين معاً تقريباً؟



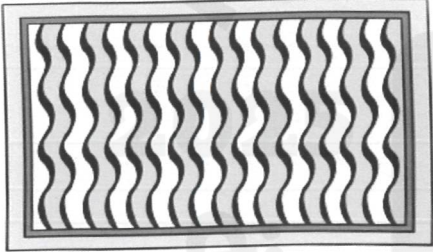
سنتيمتر تقريباً. _____

أ) استعمل المسطرة لقياس الطول المحدد.



_____ سنتمتر تقريباً. _____ سنتمتر تقريباً.

ب) يبلغ طول مضرب الكرة الخاص بمحمد متراً واحداً.
استعمل محمد 3 مضارب لقياس طول السجادة في غرفته.
ما طول السجادة تقريباً؟





_____ متر تقريباً.

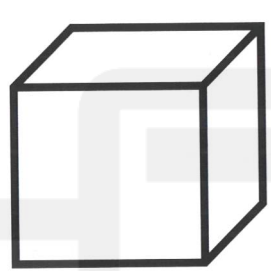
اكتب عدد الأضلاع والرؤوس للشكل أدناه.

_____ أضلاع.

_____ رؤوس.



السؤال الخامس عشر	2 /.....
<p>اكتب اسم الشكل، ثم اكتب عدد الزوايا.</p> <div style="display: flex; justify-content: space-between; align-items: flex-start;"> <div style="text-align: center;">  </div> <div style="width: 60%;"> <p>اسم الشكل: _____</p> <p>عدد الزوايا: _____</p> </div> </div>	

السؤال السادس عشر	3 /.....
<p>انظر إلى المكعب أدناه وأجب عن الأسئلة.</p> <div style="display: flex; justify-content: center; align-items: center; margin: 20px 0;">  </div> <p>ما عدد الأوجه المستوية؟ _____</p> <p>ما عدد الرؤوس؟ _____</p> <p>ما عدد الأحرف؟ _____</p>	

انتهت الأسئلة

نتمنى لكم التوفيق