

الاختبار النهائي نهاية الفصل مع الإجابة



تم تحميل هذا الملف من موقع المناهج القطرية

موقع المناهج ← المناهج القطرية ← المستوى الثاني ← علوم ← الفصل الثاني ← ملفات متنوعة ← الملف

تاريخ إضافة الملف على موقع المناهج: 11:28:59 2025-06-18

ملفات اكتب للمعلم اكتب للطالب ا اختبارات الكترونية ا اختبارات ا حلول ا عروض بوربوينت ا أوراق عمل
منهج انجليزي ا ملخصات وتقارير ا مذكرات وبنوك ا الامتحان النهائي للمدرس

المزيد من مادة
علوم:

التواصل الاجتماعي بحسب المستوى الثاني



صفحة المناهج
القطرية على
فيسبوك

الرياضيات

اللغة الانجليزية

اللغة العربية

التربية الاسلامية

المواد على تلغرام




المزيد من الملفات بحسب المستوى الثاني والمادة علوم في الفصل الثاني

نسخة مجابة من بنك اسئلة الوحدة الرابعة	1
أوراق عمل الفرقان الاستعدادية لاختبار نهاية الفصل	2
أوراق عمل مريم بنت عمران غير مجابة	3
أوراق عمل مريم بنت عمران مع الإجابة النموذجية	4
أوراق عمل استعدادية لاختبار نهاية الفصل	5

تعليمات اختر الإجابة الصحيحة للأسئلة من 1 إلى 10، وذلك بوضع علامة × داخل المربع المجاور للإجابة الصحيحة:

السؤال الأول	1 /.....
أي مما يلي ظل الكرة في الصورة؟	
A	
B	
C	

السؤال الثاني	1 /.....
كيف يكون الظل في منتصف النهار؟	
A	قصيراً
B	طويلاً
C	مساوياً لطول الشيء

1 /.....	السؤال الثالث
أي من الساعات التالية تُستخدم فقط عندما يكون الجو مشمسًا؟	
	A
	B
	C

1 /.....	السؤال الرابع
من أين تحصل معظم النباتات على العناصر الغذائية؟	
الهواء	A
التربة	B
الشمس	C

1 /.....	السؤال الخامس
ما هو الجزء المسؤول عن تثبيت النبات في التربة؟	
	A
	B
	C

1 /..... 2025	السؤال السادس
أي مما يلي وظيفة أوراق النبات؟	
تثبيت النبات	A
صنع الغذاء	B
نقل الماء لبقية أجزاء النبات	C

السؤال السابع	1 /.....
أي مما يلي يحمي الزهرة؟	
A	السبلة
B	البتلة
C	حبوب اللقاح

السؤال الثامن	1 /.....
أي مما يلي وظيفة ساق النبات؟	
A	يثبت النبات
B	يصنع الغذاء
C	ينقل الماء من الجذور

السؤال التاسع	1 /.....
أي جزء من أجزاء النبات يُنتج البذور؟	
A	الزهرة
B	الساق
C	الأوراق

السؤال العاشر	1 /.....
أي مما يلي نبات لم تتوفر له الظروف المناسبة ليعيش؟	
A	
B	
C	

صل بين صورة الظل في العمود (أ) والوقت المناسب له في العمود (ب):

(ب)	(أ)
<p>بداية النهار</p>	
<p>منتصف النهار</p>	
<p>ليلاً</p>	

صل بين الكلمة في العمود (أ) والصورة المناسبة في العمود (ب):

(أ)	(ب)
الزهرة	
الجزور	
الورقة	
الساق	

ضع علامة (✓) أمام العبارة الصحيحة، أو علامة (×) أمام العبارة الخطأ:

1- موقع الظل لا يتغير خلال النهار. ()

2- توجد الجذور بالقرب من قمة النبات. ()

3- للفواكه المختلفة أنواع مختلفة من البذور. ()

4- ينمو النبات إذا توافرت له الظروف المناسبة. ()

5- تتشابه البتلات في أشكالها وألوانها ورائحتها. ()

2/.....	السؤال الرابع عشر (أ)		
<p style="text-align: center;">أكمل الفراغات التالية مستعيناً بصندوق الكلمات:</p> <table border="1" style="margin: 10px auto; width: 80%; border-collapse: collapse;"> <tr> <td style="width: 50%; text-align: center; padding: 5px;">الضوء</td> <td style="width: 50%; text-align: center; padding: 5px;">تجنب</td> </tr> </table> <p>1- يسير ----- في خطوط مستقيمة.</p> <p>2- الأشياء المعتمة ----- الضوء.</p>		الضوء	تجنب
الضوء	تجنب		

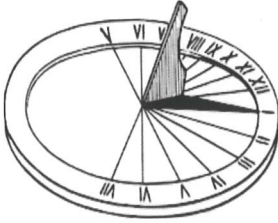
4/.....	السؤال الرابع عشر (ب)				
<p style="text-align: center;">أكمل الفراغات التالية مستعيناً بصندوق الكلمات:</p> <table border="1" style="margin: 10px auto; width: 90%; border-collapse: collapse;"> <tr> <td style="width: 25%; text-align: center; padding: 5px;">التلقيح</td> <td style="width: 25%; text-align: center; padding: 5px;">محاصيل</td> <td style="width: 25%; text-align: center; padding: 5px;">البذور</td> <td style="width: 25%; text-align: center; padding: 5px;">الساق</td> </tr> </table> <p>1- يوجد ----- في وسط النبات.</p> <p>2- تُزرع نباتات الأرز في مروج تُسمى</p> <p>3- تنمو ----- لتصبح نباتات زهرية .</p> <p>4- نقل حبوب اللقاح من زهرة إلى زهرة يُسمى</p>		التلقيح	محاصيل	البذور	الساق
التلقيح	محاصيل	البذور	الساق		

السؤال الخامس عشر

1/.....

أجب عن السؤال التالي.

ما اسم هذه الأداة؟




الإجابة:

السؤال السادس عشر

2/.....

أجب عن السؤال التالي:

رتب مراحل نمو البذرة بكتابة الأرقام من 1 إلى 4 في المربعات تحت الصور.



انتهت الأسئلة

نتمنى لكم التوفيق