

## أوراق عمل الفرقان نهاية الفصل غير مجانية



### تم تحميل هذا الملف من موقع المناهج القطرية

موقع المناهج ← المناهج القطرية ← الصف الثاني ← علوم الحاسب ← الفصل الأول ← ملفات متنوعة ← الملف

تاريخ إضافة الملف على موقع المناهج: 11:22:13 2025-12-14

ملفات اكتب للمعلم اكتب للطالب | اختبارات الكترونية | اختبارات | حلول | عروض بوربوينت | أوراق عمل  
منهج انجليزي | ملخصات وتقارير | مذكرات وبنوك | الامتحان النهائي | للمدرس

المزيد من مادة  
علوم الحاسب:

إعداد: مجمع الفرقان

### التواصل الاجتماعي بحسب الصف الثاني



صفحة المناهج  
القطرية على  
فيسبوك

الرياضيات

اللغة الانجليزية

اللغة العربية

التربية الاسلامية

المواد على تلغرام

### المزيد من الملفات بحسب الصف الثاني والمادة علوم الحاسب في الفصل الأول

أوراق عمل مدرسة الخور نهاية الفصل مع الإجابة النموذجية

1

أوراق عمل مدرسة الخور نهاية الفصل غير مجانية

2

أوراق عمل مدرسة الأندلس نهاية الفصل مع الإجابة النموذجية

3

أوراق عمل مدرسة الأندلس نهاية الفصل غير مجانية

4

أوراق عمل الفرقان نهاية الفصل مع الإجابة النموذجية

5

# 2

# الحوسبة

1447 هـ - 25-26 م

نهاية ف 1

تدريبات  
دعم  
وإثراء



يا رب انصر عبادك المؤمنين  
وجندك الموحدين في كل مكان

القدس والأقصى ▼ حتماً ستعود

ملحوظة: هذه التدريبات لا تقني عن الكتاب المدرسي

الاسم / ..... الصف / 2-

التميز



مراجعة نهاية الفصل الدراسي الأول 2025-2026 م





مادة الحوسبة وتكنولوجيا المعلومات











الصف الثاني



السؤال الأول : اختر الإجابة الصحيحة فيما يأتي :

1. أي من الأجهزة الآتية هو جهاز رئيسي ( أساسي ) ؟					
أ.	ب.	ج.	د.		
					
كاميرا الويب Webcam	مكبر الصوت Speakers	الفأرة Mouse	الماسح الضوئي Scanner		

2. أي من الأجهزة الآتية هو جهاز ملحق ؟					
أ.	ب.	ج.	د.		
					
الفأرة Mouse	كاميرا الويب Webcam	لوحة المفاتيح Keyboard	الشاشة Monitor		

3. ما هو شكل مؤشر الفأرة الذي يدل علي كتابة نص :					
أ.	ب.	ج.	د.		
					

مراجعة نهاية الفصل الدراسي الأول 2025-2026 م

مادة الحوسبة وتكنولوجيا المعلومات



الصف الثاني



4. تستخدم لطباعة النصوص والأرقام والصور والرسومات :					
أ.	ب.	ج.	د.		

5. ما هو شكل مؤشر الفأرة الذي يدل علي تحريك الأشياء :					
أ.	ب.	ج.	د.		


6. من مكونات سطح المكتب "التاريخ والوقت" :					
أ.	ب.	ج.	د.		



السؤال الثاني: صل بين العمودين (أ) و(ب):

(ب)

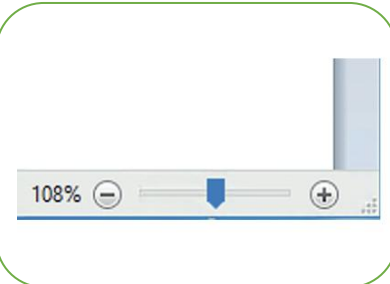
(أ)



الميكروفون



شرائح الذاكرة



مؤشر الاختيار







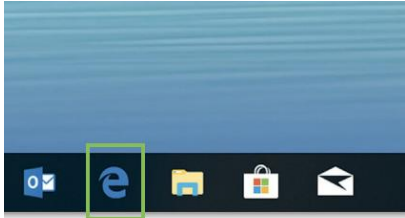



تكبير وتصغير الصفحة



السؤال الثالث: اختر الوصف الذي يمثل الصورة المعروضة بشكل صحيح:

1- مستكشف الملفات على سطح المكتب :			
			

2- شريط الأدوات داخل برنامج الدفتر:			
			

3- متصفح الأنترنت الموجود على سطح المكتب :			
			





مراجعة نهاية الفصل الدراسي الأول 2025-2026 م

مادة الحوسبة وتكنولوجيا المعلومات



الصف الثاني





4- وحدة النظام في الحاسوب :

	<input type="checkbox"/>		<input type="checkbox"/>
---	--------------------------	--	--------------------------

5- شرائح الذاكرة بداخل وحدة النظام :

	<input type="checkbox"/>		<input type="checkbox"/>
---	--------------------------	--	--------------------------

6- اللوحة الأم بداخل وحدة النظام :

	<input type="checkbox"/>		<input type="checkbox"/>
---	--------------------------	--	--------------------------