

أوراق عمل لاختبار منتصف الفصل من مدرسة الفرقان مع الإجابة



تم تحميل هذا الملف من موقع المناهج القطرية

موقع المناهج ← المناهج القطرية ← الصف الثاني ← علوم الحاسب ← الفصل الثاني ← ملفات متنوعة ← الملف

تاريخ إضافة الملف على موقع المناهج: 2026-04-12 18:50:43

ملفات اكتب للمعلم اكتب للطالب | الاختبارات الكترونية | اختبارات | حلول | عروض بوربوينت | أوراق عمل
منهج انجليزي | ملخصات وتقارير | مذكرات وبنوك | الامتحان النهائي للمدرس

المزيد من مادة
علوم الحاسب:

إعداد: مجمع الفرقان

التواصل الاجتماعي بحسب الصف الثاني



صفحة المناهج
القطرية على
فيسبوك

الرياضيات

اللغة الانجليزية

اللغة العربية

التربية الاسلامية

المواد على تلغرام

المزيد من الملفات بحسب الصف الثاني والمادة علوم الحاسب في الفصل الثاني

أوراق عمل الأندلس مجابة تحضيرية لاختبار منتصف الفصل

1

أوراق عمل الأندلس غير مجابة تحضيرية لاختبار منتصف الفصل

2

أوراق عمل لاختبار منتصف الفصل من مدرسة الفرقان غير مجابة

3

أوراق عمل في الوجدتين الثانية والثالثة مع الإجابة النموذجية

4

أوراق عمل في الوجدتين الثانية والثالثة غير مجابة

5

2

إجابات

الحواسبة

1447 هـ | 25-26 م

منتصف ف2

تدريبات
دعم
وإثراء



يا رب انصر عبادك المؤمنين
وجندك الموحدين في كل مكان

القدس والأقصى ▼ حتماً ستعود

ملحوظة: هذه التدريبات لا تقني عن الكتاب المدرسي

الاسم / الصف/2-

التميز





السؤال الأول : اختر الإجابة الصحيحة فيما يأتي :

1. أي من ايقونات الملفات الأتية تشير إلى ملف الفيديو :



ج.



ب.



أ.



2. أي من ايقونات الملفات الأتية تشير إلى ملف صوتي :



ج.



ب.



أ.



3. أي من ايقونات الملفات الأتية تشير إلى ملف نصي :



ج.



ب.

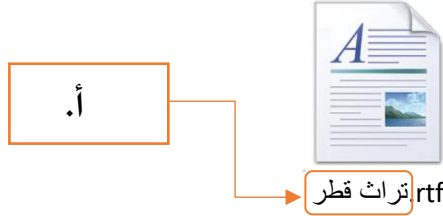


أ.





4. يشير السهم في الملف الاتي الي :

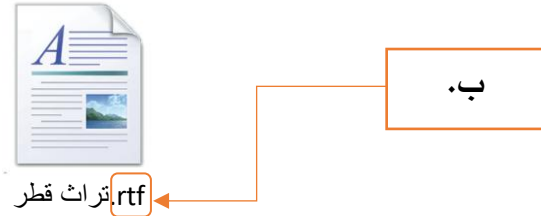


ج. ايقونة الملف

ب. امتداد الملف

أ. اسم الملف

5. يشير السهم في الملف الاتي الي :

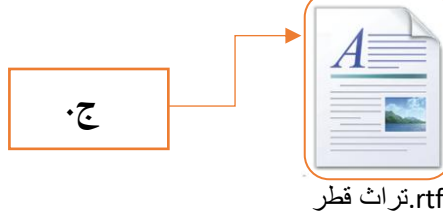


ج. ايقونة الملف

ب. امتداد الملف

أ. اسم الملف

6. يشير السهم في الملف الاتي الي :



ج. ايقونة الملف

ب. امتداد الملف

أ. اسم الملف

مراجعة منتصف الفصل الدراسي الثاني 2025-2026 م

مادة الحوسبة وتكنولوجيا المعلومات

الصف الثاني



7. البرنامج المستخدم للتصفح عبر الأنترنت هو:



ج.



ب.



أ.



8. أي من الآتي هو شريط العنوان في صفحة الويب:

2

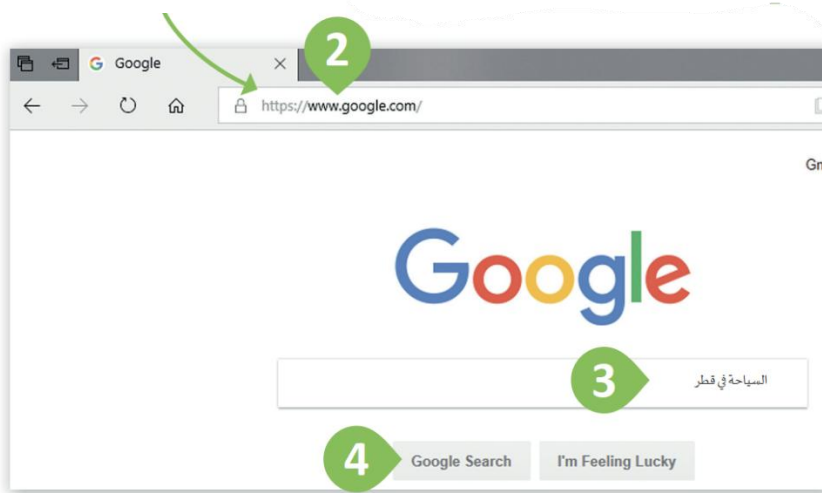
أ.

3

ب.

4

ج.





مادة الحوسبة وتكنولوجيا المعلومات



الصف الثاني

السؤال الثاني . اجب عن الأسئلة الآتية بشكل صحيح

1. حدد حجم المساحة التخزينية لكل مما يأتي :


حجم الملف صغير

حجم الملف	الامتداد	
7 كيلو بايت (KB)	.rtf	

حجم الملف كبير

حجم الملف	الامتداد	
18 كيلوبايت (KB)	.png	

2. قم بتوصيل العبارات في القائمة (أ) بما يناسبها من القائمة (ب) في قواعد التصفح الامن عبر الانترنت :






استخدام برامج مضادة
للفيروسات

استخدام اسم مستعار

تجنب الضغط علي
الاعلانات



السؤال الثالث : اكتب اسم الملف، ضع علامة صح علي نوع الملف في الجدول الآتي :-

نوع الملف			اسم الملف	الملف
فيديو	صورة	نصي		
		✓	كرة القدم	 كرة القدم.rtf
✓			الأحصنة	 الأحصنة.mp4
	✓		جزر	 جزر.png