

تم تحميل هذا الملف من موقع المناهج القطرية



الاختبار النهائي منتصف الفصل

موقع المناهج ← المناهج القطرية ← المستوى الثاني ← علوم ← الفصل الأول ← اختبارات ← الملف

تاريخ إضافة الملف على موقع المناهج: 2024-10-21 11:42:00

ملفات اكتب للمعلم اكتب للطالب | اختبارات الكترونية | اختبارات | حلول | عروض بوربوينت | أوراق عمل
منهج انجليزي | ملخصات وتقارير | مذكرات وبنوك | الامتحان النهائي للمدرس

المزيد من مادة
علوم:

التواصل الاجتماعي بحسب المستوى الثاني



صفحة المناهج
القطرية على
فيسبوك

الرياضيات

اللغة الانجليزية

اللغة العربية

التربية الاسلامية

المواد على تلغرام

المزيد من الملفات بحسب المستوى الثاني والمادة علوم في الفصل الأول

اختبار تجريبي في الوحدة الأولى مواطن الكائنات الحية

1

اختبار تجريبي في الوحدة الثانية استخدام الكهرباء غير مجاب

2

أوراق عمل دعم وإثراء الفرقان منتصف الفصل مع الإجابة النموذجية

3

ورق عمل إثرائي تحضير لاختبار منتصف الفصل

4

بنك اسئلة اختبار منتصف الفصل

5




تعليمات
اختر الإجابة الصحيحة لكل من الأسئلة من 1 إلى 6، وذلك بوضع علامة × داخل
المربع المجاور للإجابة الصحيحة:




السؤال الأول	1 /.....
أي مما يلي يصف مناخ الغابة المطيرة؟	
A	حار وجاف
B	بارد جدًا
C	كثير الأمطار وحر

السؤال الثاني	1 /.....
أي مما يلي يساعد السمكة على الحركة في الماء؟	
A	الزعانف
B	الفراء الكثيف
C	الشفاه المشقوقة

السؤال الثالث	1 /.....
أي من الحيوانات التالية مهددة بالانقراض؟	
A	القرد
B	الأطوم
C	الأسد

السؤال الرابع	1 /.....
ما خصائص النباتات التي تعيش في المنطقة القطبية؟	
A	أوراقها صغيرة
B	جذورها طويلة
C	أوراقها مغطاة بطبقة شمعية

السؤال الخامس	
1 /.....	
أي من الأجهزة الكهربائية التالية يُنتج الحرارة كطاقة مفيدة؟	
A	
B	
C	

السؤال السادس	
1 /.....	
أي من الأجهزة الكهربائية التالية يعمل بواسطة مصدر كهرباء رئيس؟	
A	
B	
C	

السؤال السابع

2 /.....

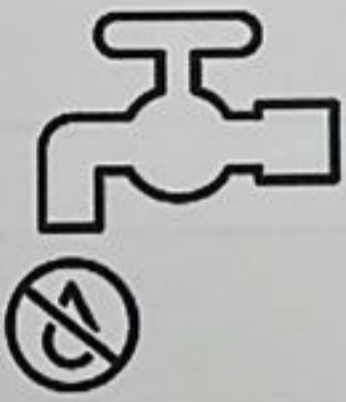
صِل بين الجملة في العمود (أ) والصورة المناسبة في العمود (ب):

(أ)

(ب)



الاققتصاد في استهلاك الماء.



رمي النفايات في المكان
المخصص لها.



السؤال الثامن

3 /.....

ضع علامة (✓) أمام العبارة الصحيحة، أو علامة (x) أمام العبارة الخاطئة:

1- جذور شجرة النخيل طويلة تساعد على الوصول للماء. ()

2- تعمل المكواة الكهربائية بواسطة البطارية. ()

3- الضوء الناتج من المصباح الكهربائي طاقة مهدورة. ()

السؤال التاسع

3 /.....

أكمل الفراغات التالية مستعيناً بصندوق الكلمات:

العوسج	قابس	جهاز كهربائي
--------	------	--------------


1- من النباتات المهددة بالانقراض نبات -----.

2- الشيء الذي يعمل بالكهرباء يُسمى -----.

3- الأجهزة الكهربائية لها سلك كهربائي و -----.

السؤال العاشر

1/.....



اكتب اسم الموطن الذي يعيش فيه الجمل.

الإجابة: _____

انتهت الأسئلة

نتمنى لكم التوفيق

