

أوراق عمل مدرسة الخور نهاية الفصل غير مجابة



تم تحميل هذا الملف من موقع المناهج القطرية

موقع المناهج ← المناهج القطرية ← الصف الثاني ← علوم الحاسب ← الفصل الأول ← ملفات متنوعة ← الملف

تاريخ إضافة الملف على موقع المناهج: 11:21:18 2025-12-14

ملفات اكتب للمعلم اكتب للطالب | اختبارات الكترونية | اختبارات | حلول | عروض بوربوينت | أوراق عمل
منهج انجليزي | ملخصات وتقارير | مذكرات وبنوك | الامتحان النهائي | للمدرس

المزيد من مادة
علوم الحاسب:

إعداد: مدرسة الخور

التواصل الاجتماعي بحسب الصف الثاني



صفحة المناهج
القطرية على
فيسبوك

الرياضيات

اللغة الانجليزية

اللغة العربية

التربية الاسلامية

المواد على تلغرام

المزيد من الملفات بحسب الصف الثاني والمادة علوم الحاسب في الفصل الأول

أوراق عمل مدرسة الأندلس نهاية الفصل مع الإجابة النموذجية

1

أوراق عمل مدرسة الأندلس نهاية الفصل غير مجابة

2

أوراق عمل الفرقان نهاية الفصل مع الإجابة النموذجية

3

أوراق عمل الأندلس للبنين التحضيرية لاختبار نهاية الفصل غير مجابة

4

أوراق عمل الأندلس للبنين التحضيرية لاختبار نهاية الفصل مع الإجابة النموذجية

5

مدرسة الخور الابتدائية للبنات

تدريبات اثرائية لاختبار نهاية الفصل الأول للمصف الثاني الابتدائي

ملاحظة: هذه التدريبات لا تُغني عن الكتاب المدرسي

معلمة المادة: دعاء جهاد

تحديد صفحات الاختبار


| كتاب الطالب | كتاب التدريبات والأنشطة: | |
|--|---|---|
| <ul style="list-style-type: none"> • صفحة 14 إلى 17 • صفحة 21 إلى 22 | <ul style="list-style-type: none"> • صفحة 13 إلى 17 • صفحة 28 | <p>الوحدة الأولى: أنا أستخدم الحاسوب</p> <ul style="list-style-type: none"> • الدرس الثاني: حاسوبي • الدرس الرابع: أشكال مؤشر الفأرة |
| <ul style="list-style-type: none"> • صفحة 28 إلى 29 • صفحة 43 | <ul style="list-style-type: none"> • 36 • - | <p>الوحدة الثانية: أنا أكتب نصاً</p> <ul style="list-style-type: none"> • الدرس الأول: بدء الكتابة • الدرس الرابع: طباعة المستند |

جهاز يستخدم في كتابة الحروف والأرقام

☐ لوحة المفاتيح

☐ الفأرة

☐ الكاميرا الرقمية




جهاز يستخدم في إدخال صورة للحاسوب

☐ الفأرة

☐ الطابعة

☐ الماسح الضوئي

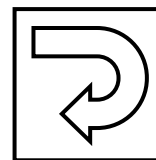


جهاز يستخدم في الاستماع إلى الملفات الصوتية

☐ كاميرا الويب

☐ سماعات الأذن

☐ الشاشة

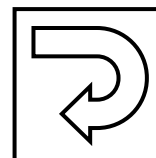


جهاز يستخدم في طباعة صفحة

☐ السماعات

☐ الميكروفون

☐ الطابعة



جهاز يستخدم في التقاط الصور أو مقاطع الفيديو

☐ الكاميرا الرقمية

☐ الشاشة

☐ الطابعة




جهاز يستخدم في تحريك المؤشر

☐ الطابعة

☐ الماسح الضوئي

☐ الفأرة



جهاز يستخدم في مشاهدة الأصدقاء عبر الإنترنت

☐ لوحة المفاتيح

☐ الماسح الضوئي

☐ كاميرا الويب

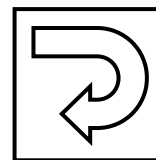


جهاز يستخدم في عرض صورة من برنامج الرسام

☐ الماسح الضوئي

☐ الشاشة

☐ القرص الصلب




جهاز يستخدم في تسجيل صوت

☐ وحدة النظام

☐ الميكروفون

☐ لوحة المفاتيح

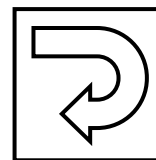


جهاز يستخدم لطباعة النصوص والأرقام والصور والرسومات


☐ الطابعة

☐ الميكروفون


☐ لوحة المفاتيح



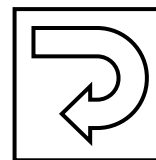

من أجهزة الحاسوب الرئيسية



من أجهزة الحاسوب الطرفية



إحدى مكونات وحدة النظام






يستخدم مؤشر الفأرة التالي في

الاختيار

التحريك

الانتقال إلى






يستخدم مؤشر الفأرة التالي في

الانتظار

الكتابة

التحريك






يستخدم مؤشر الفأرة التالي في

الكتابة

التحريك

الانتقال إلى






يستخدم مؤشر الفأرة التالي في

الانتظار

الكتابة

التحريك





يستخدم مؤشر الفأرة التالي في

الانتقال إلى

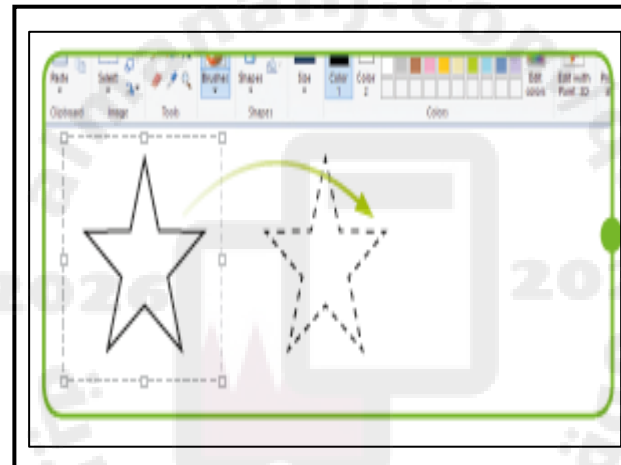
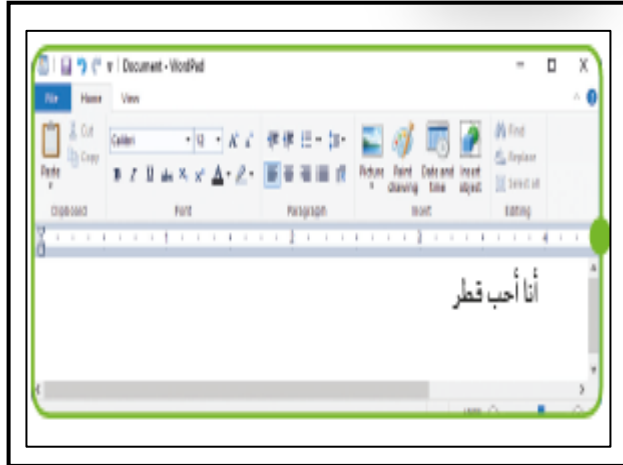
الانتظار

التحريك



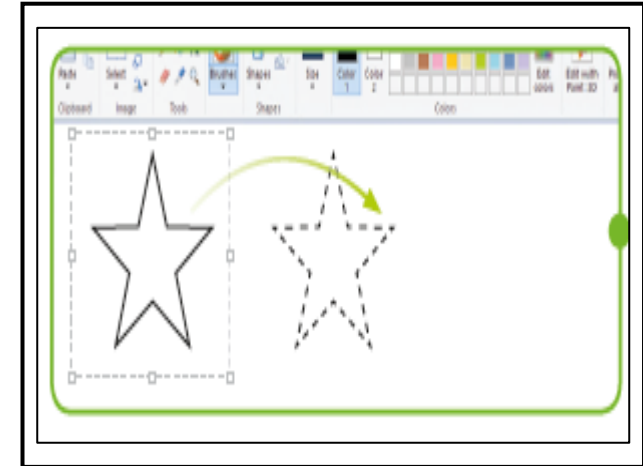
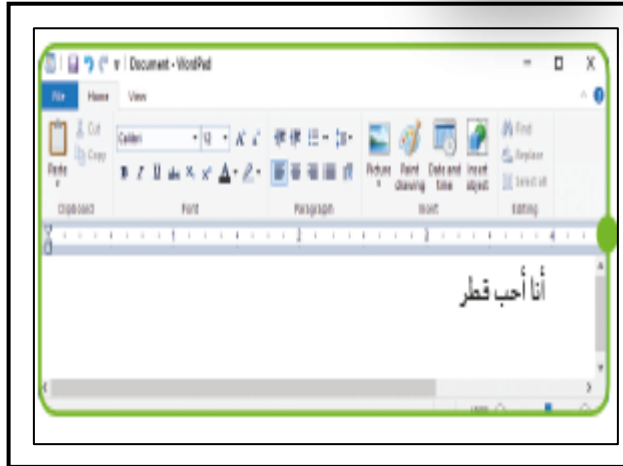


متى يظهر مؤشر الفأرة التالي




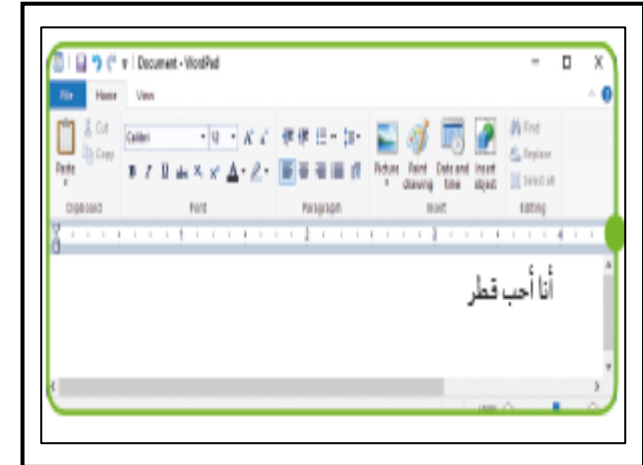
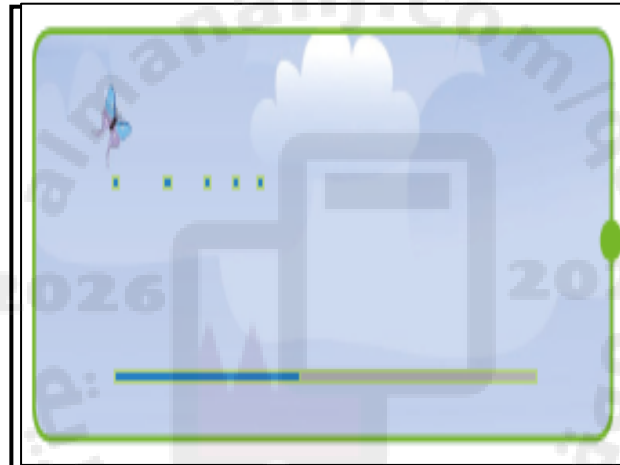


متى يظهر مؤشر الفأرة التالي



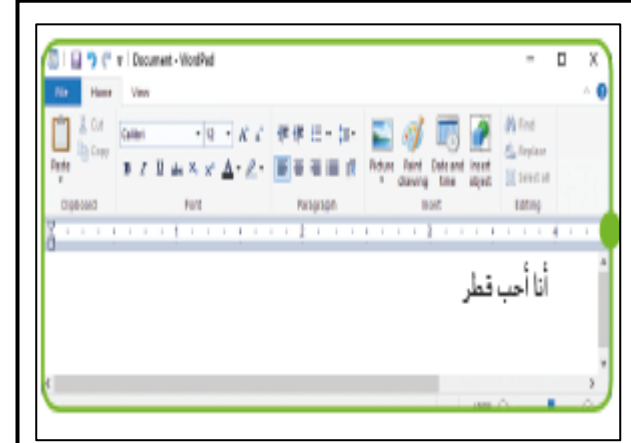



متى يظهر مؤشر الفأرة التالي




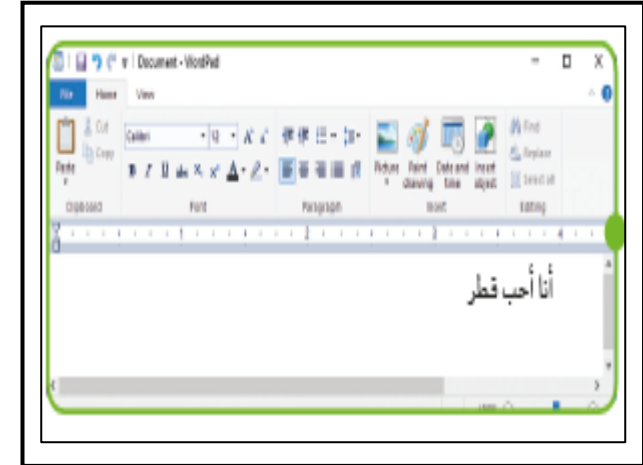
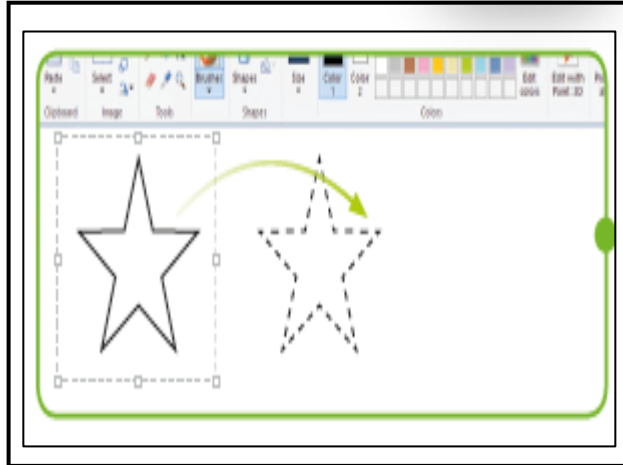


متى يظهر مؤشر الفأرة التالي





متى يظهر مؤشر الفأرة التالي

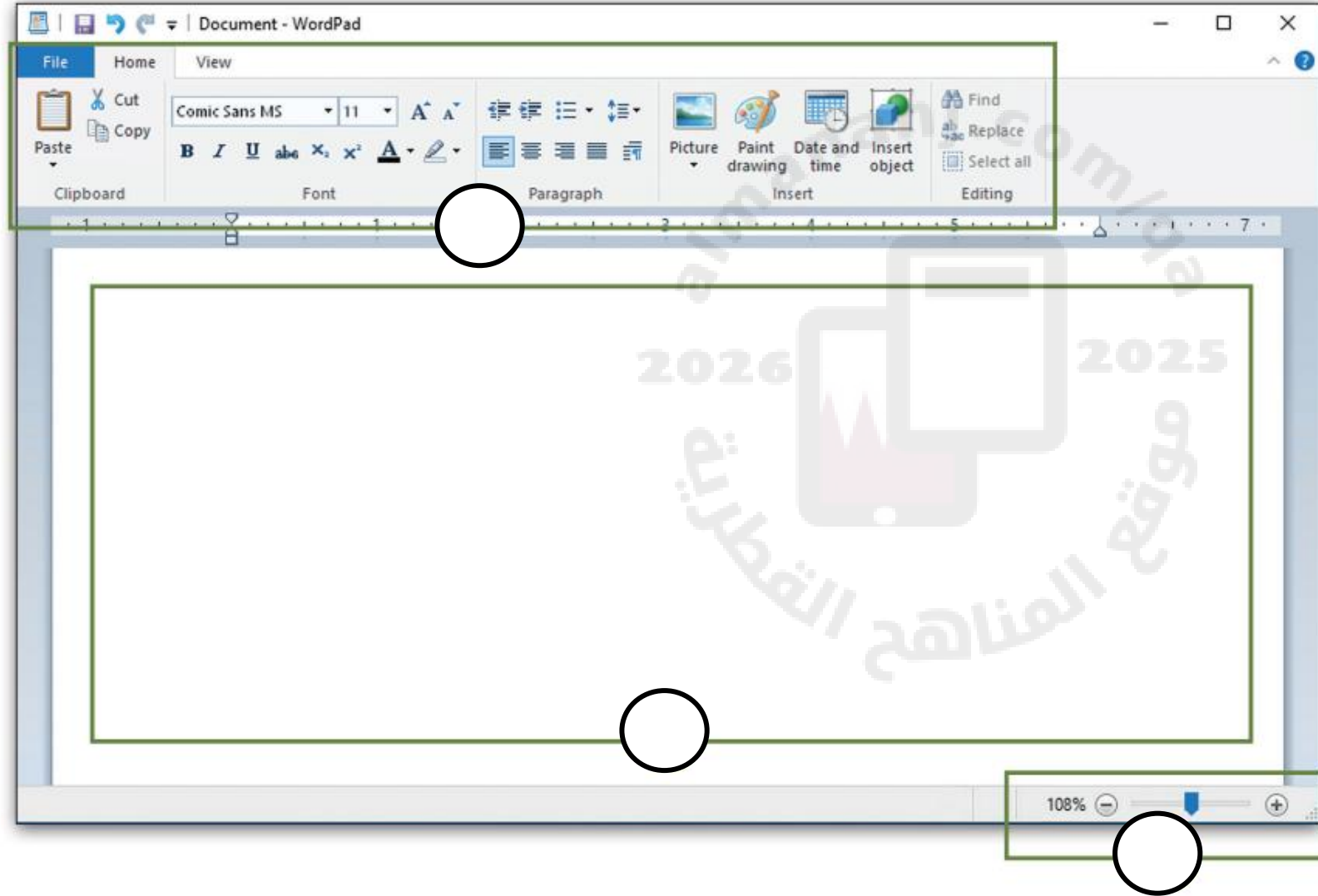


صنفي الأجهزة التالية إلى أجهزة رئيسة أو أجهزة طرفية

- 1 
- 2 
- 3 
- 4 
- 5 



صنفي مكونات برنامج الدفتر وذلك بكتابة الرقم المناسب في الدائرة المناسبة.



1

أدواتي في برنامج الدفتر

2

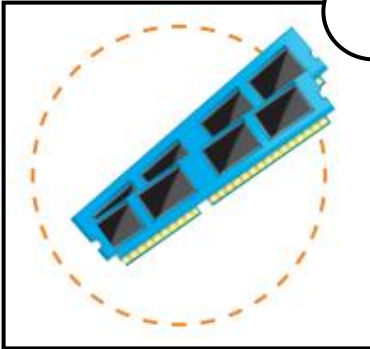
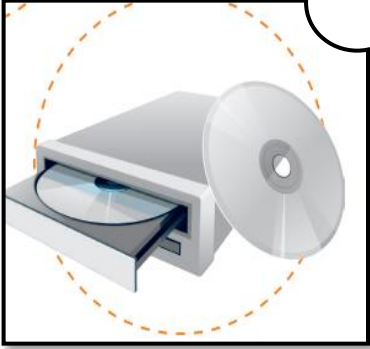
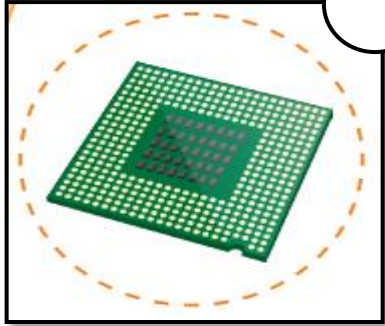
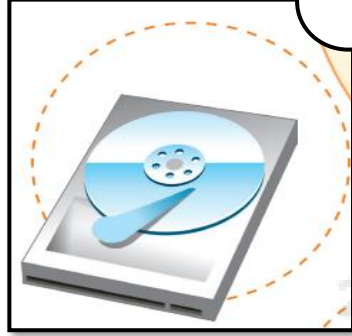
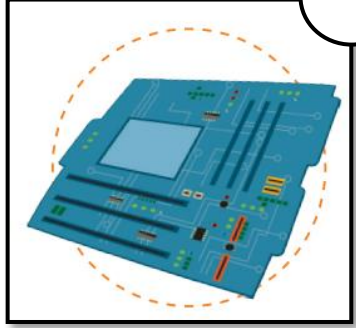
لجعل الصفحة تبدو أكبر
أو أصغر

3

اكتب هنا



صنفي مكونات وحدة النظام وذلك بكتابة الرقم المناسب في الدائرة المناسبة.



4
اللوحة الأم

5
مشغل أقراص DVD

1
شرائح الذاكرة

2
المعالج

3
القرص الصلب



ضع دائرة حول المكونات الموجودة داخل وحدة النظام

