

## أوراق عمل مدرسة الأندلس نهاية الفصل مع الإجابة النموذجية



### تم تحميل هذا الملف من موقع المناهج القطرية

موقع المناهج ← المناهج القطرية ← الصف الثاني ← علوم الحاسب ← الفصل الأول ← ملفات متنوعة ← الملف

تاريخ إضافة الملف على موقع المناهج: 11:20:12 2025-12-14

ملفات اكتب للمعلم اكتب للطالب | اختبارات الكترونية | اختبارات | حلول | عروض بوربوينت | أوراق عمل  
منهج انجليزي | ملخصات وتقارير | مذكرات وبنوك | الامتحان النهائي | للمدرس

المزيد من مادة  
علوم الحاسب:

إعداد: مدرسة الأندلس

### التواصل الاجتماعي بحسب الصف الثاني



صفحة المناهج  
القطرية على  
فيسبوك

الرياضيات

اللغة الانجليزية

اللغة العربية

التربية الاسلامية

المواد على تلغرام

### المزيد من الملفات بحسب الصف الثاني والمادة علوم الحاسب في الفصل الأول

أوراق عمل مدرسة الأندلس نهاية الفصل غير مجابة

1

أوراق عمل الفرقان نهاية الفصل مع الإجابة النموذجية

2

أوراق عمل الأندلس للبنين التحضيرية لاختبار نهاية الفصل غير مجابة

3

أوراق عمل الأندلس للبنين التحضيرية لاختبار نهاية الفصل مع الإجابة النموذجية

4

أوراق عمل الفرقان منتصف الفصل مع الإجابة النموذجية

5

مدرسة الأندلس الخاصة للبنات  
العام الأكاديمي 2026/2025  
نهاية الفصل الدراسي الأول



أوراق عمل إثرائية وإجاباتها  
مادة الحوسبة وتكنولوجيا المعلومات  
الصف: الثاني

اسم الطالبة/.....

الصف والشعبة /.....

الأسئلة الموضوعية:

السؤال الأول:



1.1	ما هو الجهاز الذي يستخدم لكتابة نص؟
	<div style="display: flex; justify-content: space-between; align-items: center;"> <div style="border: 1px solid black; border-radius: 10px; padding: 5px; width: 150px; height: 100px; position: relative;">  </div> <div style="background-color: red; color: white; padding: 5px 10px; border-radius: 5px;">A</div> </div>
	<div style="display: flex; justify-content: space-between; align-items: center;"> <div style="border: 1px solid black; border-radius: 10px; padding: 5px; width: 150px; height: 100px; position: relative;">  </div> <div style="border: 1px solid black; padding: 5px 10px; border-radius: 5px;">B</div> </div>
	<div style="display: flex; justify-content: space-between; align-items: center;"> <div style="border: 1px solid black; border-radius: 10px; padding: 5px; width: 150px; height: 100px; position: relative;">  </div> <div style="border: 1px solid black; padding: 5px 10px; border-radius: 5px;">C</div> </div>

1.2	ما هو الجهاز الذي يستخدم لالتقاط الصور أو تصوير الفيديو؟
	<div style="display: flex; justify-content: space-between; align-items: center;"> <div style="border: 1px solid black; border-radius: 10px; padding: 5px; width: 150px; height: 100px; position: relative;">  </div> <div style="border: 1px solid black; padding: 5px 10px; border-radius: 5px;">A</div> </div>
	<div style="display: flex; justify-content: space-between; align-items: center;"> <div style="border: 1px solid black; border-radius: 10px; padding: 5px; width: 150px; height: 100px; position: relative;">  </div> <div style="border: 1px solid black; padding: 5px 10px; border-radius: 5px;">B</div> </div>
	<div style="display: flex; justify-content: space-between; align-items: center;"> <div style="border: 1px solid black; border-radius: 10px; padding: 5px; width: 150px; height: 100px; position: relative;">  </div> <div style="background-color: red; color: white; padding: 5px 10px; border-radius: 5px;">C</div> </div>

1.3	ما هو الجهاز الذي يستخدم لتحريك مؤشر الفأرة؟	
		A
		B
		C

1.4	ما هو الجهاز الذي يستخدم لإدخال مستندات وصور للحاسوب؟	
		A
		B
		C

1.5	ما هو الجهاز الذي يستخدم للاستماع إلى الملفات الصوتية؟	
		A
		B
		C

1.6	ما هو الجهاز الذي يستخدم لتسجيل الصوت؟	
		A
		B
		C

1.7	من مكونات وحدة النظام " اللوحة الأم".	
		A
		B
		C






1.8	ما هو البرنامج الذي يستخدم في الكتابة:	
		A
		B
	 Paint 3D	C

1.9	ما هو رمز مؤشر الفأرة الذي يدل على إمكانية الكتابة باستخدام لوحة المفاتيح؟	
		<input checked="" type="radio"/> A
		<input type="radio"/> B
		<input type="radio"/> C
1.10	متي يظهر هذا المؤشر؟ 	
	انتظار.	<input checked="" type="radio"/> A
	كتابة.	<input type="radio"/> B
	انتقال الى.	<input type="radio"/> C
1.11	متي يظهر هذا المؤشر؟ 	
	تحريك.	<input checked="" type="radio"/> A
	اختيار.	<input type="radio"/> B
	انتقال إلى.	<input type="radio"/> C







الأسئلة المقالية:

السؤال الثاني: صلي بين العمودين:

ب	أ
	المعالج
	شرائح الذاكرة
	مشغل أقراص DVD
	القرص الصلب
	اللوحة الأم

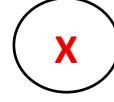
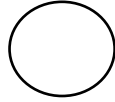


السؤال الثالث: صلي بين العمودين:

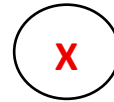
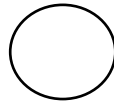
ب	أ
	اختيار
	انتقل إلي
	كتابة
	تحريك

السؤال الرابع: ضع علامة (X) أسفل الصورة المناسبة:

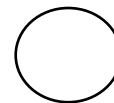

1- الجهاز الذي يستخدم للاستماع الى الملفات الصوتية:




2- شكل مؤشر الفأرة الذي يشير إلى "الانتظار":





3- الجهاز الذي يستخدم لتحريك مؤشر الفأرة:



السؤال الخامس: صنف الأجهزة التالية إلى أجهزة رئيسة أو أجهزة ملحقة بوضع دائرة على الإجابة الصحيحة:

	أجهزة رئيسة
	أجهزة ملحقة

	أجهزة رئيسة
	أجهزة ملحقة

	أجهزة رئيسة
	أجهزة ملحقة

انتهت الأسئلة