

تم تحميل هذا الملف من موقع المناهج القطرية



* للحصول على أوراق عمل لجميع الصفوف وجميع المواد اضغط هنا

<https://almanahj.com/qa>

* للحصول على أوراق عمل لجميع مواد المستوى الأول اضغط هنا

<https://almanahj.com/qa/1>

* للحصول على جميع أوراق المستوى الأول في مادة رياضيات وجميع الفصول, اضغط هنا

<https://almanahj.com/qa/1>

* للحصول على أوراق عمل لجميع مواد المستوى الأول في مادة رياضيات الخاصة بـ اضغط هنا

<https://almanahj.com/qa/1>

* لتحميل كتب جميع المواد في جميع الفصول لد المستوى الأول اضغط هنا

<https://almanahj.com/qa/grade1>

للتحدث إلى بوت على تلغرام: اضغط هنا

https://t.me/qacourse_bot



مدرسة الأندلس الابتدائية الاعدادية الثانوية الخاصة للبنات

العام الأكاديمي 2020-2021

رويتنا: تنشئة جيل واعٍ بالعلم متفوقٍ به، راقٍ بالقيم والأخلاق، معتز بوطنه، أصيل بعقيدته، متواصل عالمياً.



{ أسئلة علاجية للصف الأول لمادة الرياضيات

الصف:

اسم الطالبة: _____

2021-2020

• هذه الأسئلة لا تغني أبداً عن الدراسة من الكتاب.

رسالتنا: تنمية الطالبات معرفياً ومهارياً ووجدانياً واجتماعياً ونفسياً على القيم الإسلامية وثوابت المجتمع.



مدرسة الأندلس الابتدائية الاعدادية الثانوية الخاصة للبنات

العام الأكاديمي 2020-2021

رؤيتنا: تنشئة جيل واعٍ بالعلم متفوقٍ به، راقٍ بالقيم والأخلاق، معتز بوطنه، أصيل بعقيدته، متواصل عالمياً.



السؤال رقم (7)

ما الأعداد الناقصة في لوحة الأعداد التالية؟

1	2	3	4
11	—	13	14
21	—	23	24
31	—	33	34
41	42	43	44

- ☐ A 12 – 13 – 14
☐ B 31 – 32 – 33
☐ C 12 – 22 – 32

السؤال رقم (8)

عد بالاحاد والعشرات ثم اوجد العدد الكلي للمكعبات .



- ☐ A 54
☐ B 45
☐ C 56

السؤال رقم (9)

ما العدد الذي يكون فيه : 5 آحاد و 1 عشرات

- ☐ A 15
☐ B 16
☐ C 17

• هذه الأسئلة لا تغني أبداً عن الدراسة من الكتاب.

رسالتنا: تنمية الطالبات معرفياً ومهارياً ووجدانياً واجتماعياً ونفسياً على القيم الإسلامية وثوابت المجتمع.



مدرسة الأندلس الابتدائية الاعدادية الثانوية الخاصة للبنات

العام الأكاديمي 2020-2021

رؤيتنا: تنشئة جيل واعٍ بالعلم متفوقٍ به، راقٍ بالقيم والأخلاق، معتز بوطنه، أصيل بعقيدته، متواصل عالمياً.



السؤال رقم (10)

لدى بدر 5 أوعية زجاجية يحتوي كل وعاء على 10 كرات مطاطية.
ما عدد الكرات المطاطية لدى بدر؟



- A 30
- B 40
- C 50

السؤال رقم (11)

لدى حمد 7 أكياس في كل كيس 10 مكعبات و4 مكعبات إضافية خارج الأكياس. كم مكعباً لدى حمد ؟



- A 74
- B 75
- C 76

• هذه الأسئلة لا تغني أبداً عن الدراسة من الكتاب.

رسالتنا: تنمية الطالبات معرفياً ومهارياً ووجدانياً واجتماعياً ونفسياً على القيم الإسلامية وثوابت المجتمع.



مدرسة الأندلس الابتدائية الاعدادية الثانوية الخاصة للبنات

العام الأكاديمي 2020-2021

رؤيتنا: تنشئة جيل واعٍ بالعلم متفوقٍ به، راقٍ بالقيم والأخلاق، معتز بوطنه، أصيل بعقيدته، متواصل عالمياً.



السؤال رقم (10)

ما العدد الممثل في النموذج التالي؟



- ☐ A 84
- ☐ B 47
- ☐ C 48

Andalus Educational Complex
Since 1993

• هذه الأسئلة لا تغني أبداً عن الدراسة من الكتاب.

رسالتنا: تنمية الطالبات معرفياً ومهارياً ووجدانياً واجتماعياً ونفسياً على القيم الإسلامية وثوابت المجتمع.



مدرسة الأندلس الابتدائية الإعدادية الثانوية الخاصة للبنات

العام الأكاديمي 2020-2021

رؤيتنا: تنشئة جيل واعٍ بالعلم متفوقٍ به، راقٍ بالقيم والأخلاق، معتز بوطنه، أصيل بعقيدته، متواصل عالمياً.



السؤال الثاني : اوجدي الناتج بتوضيح خطوات الحل


السؤال رقم (1)

أستعمل خط الاعداد لإيجاد ناتج الطرح .

$$14 - 6 = \square$$

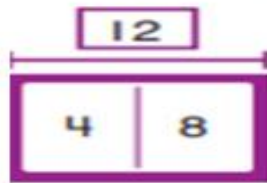


$$13 - 8 = \square$$



السؤال رقم (2)

أكتب عائلة الحقائق للنموذج التالي .



$$\text{-----} + \text{-----} = \text{-----}$$

$$\text{-----} + \text{-----} = \text{-----}$$

$$\text{-----} - \text{-----} = \text{-----}$$

$$\text{-----} - \text{-----} = \text{-----}$$

• هذه الأسئلة لا تغني أبداً عن الدراسة من الكتاب.

رسالتنا: تنمية الطالبات معرفياً ومهارياً ووجدانياً واجتماعياً ونفسياً على القيم الإسلامية وثوابت المجتمع.



مدرسة الأندلس الابتدائية الاعدادية الثانوية الخاصة للبنات

العام الأكاديمي 2020-2021

رويتنا: تنشئة جيل واعٍ بالعلم متفوقٍ به، راقٍ بالقيم والأخلاق، معتز بوطنه، أصيل بعقيدته، متواصل عالمياً.



المسألة رقم (3)

أستعمل البيانات في جدول الإشارات لتمثيلها بالمصورات .

النشاط المنزلي المفضل

الألعاب الإلكترونية	التلوين	قراءة القصص
		
 		

النشاط المنزلي المفضل

الألعاب الإلكترونية	التلوين	قراءة القصص
		

• هذه الأسئلة لا تغني أبداً عن الدراسة من الكتاب.

رسالتنا: تنمية الطالبات معرفياً ومهارياً ووجدانياً واجتماعياً ونفسياً على القيم الإسلامية وثوابت المجتمع.



مدرسة الأندلس الابتدائية الإعدادية الثانوية الخاصة للبنات

العام الأكاديمي 2020-2021

رويتنا: تنشئة جيل واعٍ بالعلم متفوقٍ به، راقٍ بالقيم والأخلاق، معتز بوطنه، أصيل بعقيدته، متواصل عالمياً.



السؤال رقم (4)

أستعمل التمثيل بالمصورات لحل المسائل التالية .

المادة الدراسية المفضلة						
 اللغة العربية						
 العلوم						
 الرياضة						

- كم عدد الطلاب الذين يفضلون اللغة العربية ؟
- بكم يزيد عدد الطلاب الذين يفضلون العلوم عن عدد الطلاب الذين يفضلون اللغة العربية؟.....
- بكم يقل عدد الطلاب الذين يفضلون اللغة العربية عن عدد الذين يفضلون الرياضة؟
- ما المادة الأكثر تفضيلاً ؟
- ما المادة الأقل تفضيلاً ؟

• هذه الأسئلة لا تغني أبداً عن الدراسة من الكتاب.

رسالتنا: تنمية الطالبات معرفياً ومهارياً ووجدانياً واجتماعياً ونفسياً على القيم الإسلامية وثوابت المجتمع.



مدرسة الأندلس الابتدائية الإعدادية الثانوية الخاصة للبنات

العام الأكاديمي 2020-2021

رويتنا: تنشئة جيل واعٍ بالعلم متفوقٍ به، راقٍ بالقيم والأخلاق، معتز بوطنه، أصيل بعقيدته، متواصل عالمياً.




السؤال رقم (5)

لدى إبراهيم 3 علب من الأقلام يوجد في كل علبة 10 أقلام . ماعدد الأقلام التي لدى إبراهيم ؟

وضح عملك هنا

السؤال رقم (6)

عد بالأحاد والعشرات ثم اكتب العدد الكلي.



.....



.....

• هذه الأسئلة لا تغني أبداً عن الدراسة من الكتاب.

رسالتنا: تنمية الطالبات معرفياً ومهارياً ووجدانياً واجتماعياً ونفسياً على القيم الإسلامية وثوابت المجتمع.



مدرسة الأندلس الابتدائية الإعدادية الثانوية الخاصة للبنات

العام الأكاديمي 2020-2021

رؤيتنا: تنشئة جيل واعٍ بالعلم متفوقٍ به، راقٍ بالقيم والأخلاق، معتز بوطنه، أصيل بعقيدته، متواصل عالمياً.



السؤال رقم (7)

أ. أكمل الأعداد المفقودة باستعمال الأنماط حتى 50

1	2	3		5		7	8		10
11	12		14	15	16	17	18	19	
		23	24	25	26		28	29	30
31	32	33	34		36	37	38		
41	42	43		45		47	48		50

ب. أكمل الأعداد المفقودة باستعمال الأنماط حتى 100

51	52	53	54	55	56	57	58	59	60
61	62	63	64	65	66	67	68	69	
71	72	73	74	75	76	77	78	79	
81	82	83	84	85	86	87	88	89	

• هذه الأسئلة لا تغني أبداً عن الدراسة من الكتاب.

رسالتنا: تنمية الطالبات معرفياً ومهارياً ووجدانياً واجتماعياً ونفسياً على القيم الإسلامية وثوابت المجتمع.



مدرسة الأندلس الابتدائية الإعدادية الثانوية الخاصة للبنات

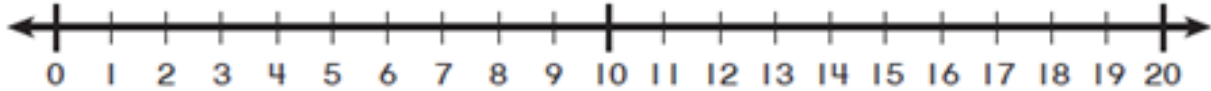
العام الأكاديمي 2020-2021

رويتنا: تنشئة جيل واعٍ بالعلم متفوقٍ به، راقٍ بالقيم والأخلاق، معتز بوطنه، أصيل بعقيدته، متواصل عالمياً.



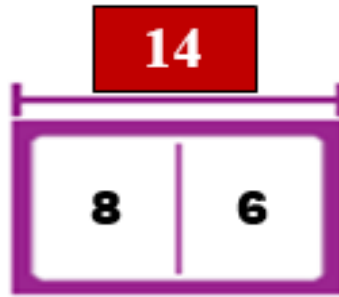
السؤال رقم (2)

A - استعمل خط الأعداد للعد تنازلياً أو تصاعدياً وأوجد ناتج الطرح :



الإجابة : $16 - 4 = \dots\dots\dots$

B - أكمل عائلة الحقائق التي تمثل هذا النموذج .



الإجابة : $6 + 8 = \dots\dots\dots$

$\dots\dots\dots + 6 = 14$

$14 - \dots\dots\dots = 6$

$14 - \dots\dots\dots = 8$

• هذه الأسئلة لا تغني أبداً عن الدراسة من الكتاب.

رسالتنا: تنمية الطالبات معرفياً ومهارياً ووجدانياً واجتماعياً ونفسياً على القيم الإسلامية وثوابت المجتمع.



مدرسة الأندلس الابتدائية الاعدادية الثانوية الخاصة للبنات

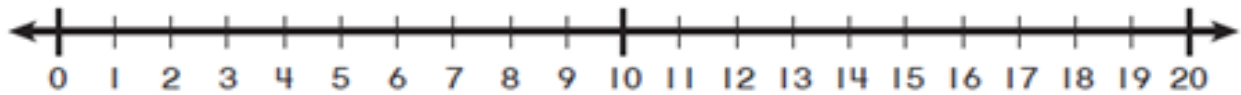
العام الأكاديمي 2020-2021

رويتنا: تنشئة جيل واعٍ بالعلم متفوقٍ به، راقٍ بالقيم والأخلاق، معتز بوطنه، أصيل بعقيدته، متواصل عالمياً.



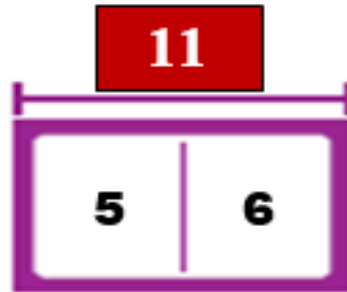
السؤال رقم (3)

A - استعمل خط الأعداد للعد تنازلياً أو تصاعدياً وأوجد ناتج الطرح :



الإجابة : $11 - 3 = \dots\dots\dots$

B - أكمل عائلة الحقائق التي تمثل هذا النموذج .



الإجابة : $5 + 6 = \dots\dots\dots$

$\dots\dots\dots + 5 = 11$

$11 - \dots\dots\dots = 5$

$11 - \dots\dots\dots = 6$

• هذه الأسئلة لا تغني أبداً عن الدراسة من الكتاب.

رسالتنا: تنمية الطالبات معرفياً ومهارياً ووجدانياً واجتماعياً ونفسياً على القيم الإسلامية وثوابت المجتمع.



مدرسة الأندلس الابتدائية الاعدادية الثانوية الخاصة للبنات

العام الأكاديمي 2020-2021

رويتنا: تنشئة جيل واعٍ بالعلم متفوقٍ به، راقٍ بالقيم والأخلاق، معتز بوطنه، أصيل بعقيدته، متواصل عالمياً.



أي أداة هي الأطول؟ أحوط هذه الأداة.
واستعمل الشيء النزلتاني للمساعدة.



استعملت في الشريطين الموضحين أداة في مشروعها الفني.

الجزء A

استعمل الخيط والمكعبات لقياس طول كل شريط.



مكعبات القربا

مكعبات القربا

الجزء B

بكم يريد طول الشريط البنفسجي عن
طول الشريط الوردي؟

من المكعبات القربا

Andalus Educational Complex
Since 1993

• هذه الأسئلة لا تغني أبداً عن الدراسة من الكتاب.

رسالتنا: تنمية الطالبات معرفياً ومهارياً ووجدانياً واجتماعياً ونفسياً على القيم الإسلامية وثوابت المجتمع.



مدرسة الأندلس الابتدائية الاعدادية الثانوية الخاصة للبنات

العام الأكاديمي 2020-2021

رويتنا: تنشئة جيل واعٍ بالعلم متفوقٍ به، راقٍ بالقيم والأخلاق، معتزٍ بوطنه، أصيل بعقيدته، متواصل عالمياً.



1. بقود ناصر ذراجته بعد الساعة 2 وقبل الساعة 6 كل جمعة.
ما الساعات التي نوصح الوقت المحتمل لقيادة ناصر ذراجته؟
أختار كل ما ينطبق.



3. أكتب الوقت المبين على الساعة.



2. ما الوقت المبين على الساعة؟



(A)



(B)



(C)



(D)

Andalus Educational Complex
Since 1993

• هذه الأسئلة لا تغني أبداً عن الدراسة من الكتاب.

رسالتنا: تنمية الطالبات معرفياً ومهارياً ووجدانياً واجتماعياً ونفسياً على القيم الإسلامية وثوابت المجتمع.



مدرسة الأندلس الابتدائية الاعدادية الثانوية الخاصة للبنات

العام الأكاديمي 2020-2021

رويتنا: تنشئة جيل واعٍ بالعلم متفوقٍ به، راقٍ بالقيم والأخلاق، معزٍ بوطنه، أصيل بعقيدته، متواصل عالمياً.



ما الشكل الثلاثي الأبعاد الذي لا يحتوي على رأس؟



(A)



(B)



(C)



(D)

ما الشكل الثنائي الأبعاد الذي لا يحتوي على أحرف مستقيمة؟



(A)



(B)



(C)



(D)

أصل كل شكل ثلاثي الأبعاد بخاصية واحدة تنطبق عليه.




له 12 حرفاً

له رأس واحد

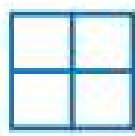
له 6 أوجه

ليس له أسطح مستوية

1. أي شكل يوضح 2 من الأجزاء المتساوية؟




(A)



(B)



(C)



(D)

Andalus Educational Complex
Since 1993

• هذه الأسئلة لا تغني أبداً عن الدراسة من الكتاب.

رسالتنا: تنمية الطالبات معرفياً ومهارياً ووجدانياً واجتماعياً ونفسياً على القيم الإسلامية وثوابت المجتمع.