

أوراق عمل غير مجابة في خصائص المواد



تم تحميل هذا الملف من موقع المناهج القطرية

موقع المناهج ⇨ المناهج القطرية ⇨ الصف الأول ⇨ علوم ⇨ الفصل الأول ⇨ ملفات متنوعة ⇨ الملف

تاريخ إضافة الملف على موقع المناهج: 2025-12-08 13:36:37

ملفات اكتب للمعلم اكتب للطالب ا اختبارات الكترونية ا اختبارات ا حلول ا عروض بوربوينت ا أوراق عمل
منهج انجليزي ا ملخصات وتقارير ا مذكرات وبنوك ا الامتحان النهائي للمدرس

المزيد من مادة
علوم:

التواصل الاجتماعي بحسب الصف الأول



صفحة المناهج
القطرية على
فيسبوك

الرياضيات

اللغة الانجليزية

اللغة العربية

التربية الاسلامية

المواد على تلغرام

المزيد من الملفات بحسب الصف الأول والمادة علوم في الفصل الأول

أوراق عمل غير مجابة في الأشياء المتحركة

1

أوراق عمل الفرقان نهاية الفصل مع الإجابة النموذجية

2

أوراق عمل مجابة في الأشياء المتحركة

3

أوراق عمل مجابة في خصائص المواد

4

أوراق عمل مدرسة الأندلس نهاية الفصل مع الإجابة النموذجية

5

أوراق اثرائية وحدة خصائص المواد - مادة العلوم

الصف الأول الابتدائي

اختر الإجابة الصحيحة لكل من الأسئلة من 1 إلى 10، وذلك بوضع علامة × داخل المربع تعليمات المجاور للإجابة الصحيحة:

السؤال الأول	1 /.....
مما صنعت هذه الملاعة ؟	
A	الورق
B	الزجاج
C	المعدن


السؤال الثاني	1 /.....
أي المواد الاتيه يمكن ان تستخدم في صنع الكتاب ؟	
A	الطين
B	الورق
C	المعدن


1 /.....	السؤال الثالث
أي المواد الآتية تصنع منها النافذة ؟	
القماش	A
الورق	B
الزجاج	C

1 /.....	السؤال الرابع
<p>2026 2025</p> <p>ما ملمس قطعة الخشب ؟</p> 	
خشن	A
ناعم	B
طري	C

1 /.....	السؤال الخامس
<div data-bbox="842 226 1015 367" data-label="Image"> </div> <p data-bbox="1034 360 1485 421">ما ملمس الشيء الذي امامك</p>	
طري	A
قاس	B
خشن	C


1 /.....	السؤال السادس
<p data-bbox="946 1144 1485 1205">ما المادة المناسبة لصنع الملابس؟</p>	
المادة الطرية	A
المادة القاسية	B
المادة الخشنة	C


السؤال السابع	1 /.....
<div style="text-align: right;">  <p>ما ملمس الحجر ؟</p> </div>	
A	طري
B	خشن
C	ناعم

السؤال الثامن	1 /.....
<div style="text-align: right;">  <p>ما ملمس اللعبة القطنية التي أمامك ؟</p> </div>	
A	طري
B	خشن
C	قاس

السؤال التاسع	1 /.....
<div data-bbox="963 250 1062 421" data-label="Image"> </div> <p>ما ملمس الكوب الزجاجي ؟</p>	
A	خشن
B	ناعم
C	طري


السؤال العاشر	1 /.....
<div data-bbox="288 1236 588 1393" data-label="Image"> </div> <p>انظر الى الصورة التي امامك . ما ملمس الطاولة التي امامك ؟</p>	
A	خشن
B	ناعم
C	طري

السؤال 11	1 /.....
 <p>ما المواد التي صنعت منها المطرقة ؟</p>	
A	خشب ومعدن
B	زجاج و ورق
C	بلاستيك و

السؤال 12	1 /.....
 <p>أي المواد التالية مناسبة لصنع المسمار ؟</p>	
A	خشن
B	ناعم
C	طري

1 /.....	السؤال 13
<div data-bbox="539 219 831 479" data-label="Image"> </div> <p data-bbox="863 456 1485 510">لماذا يستخدم القماش في صناعة الملابس ؟</p>	
لأنه طري	A
لأنه قاسي	B
لأنه خشن	C

صل بخط الكلمة في العمود (أ) بالصورة المناسبة في العمود (ب):

العمود (ب)	العمود (أ)
	طرية
	
	قاسية

ضع علامة (✓) أمام العبارة الصحيحة، أو علامة (×) أمام العبارة الخطأ:

1. تستخدم المواد الطرية مثل الاقمشة في صنع الملابس لانها مريحة عند ارتدائها ()
2. تستخدم المواد القاسية في صنع المطارق والمسامير ()
3. تستخدم المواد الطرية لحماية الأشياء من الضرر ()
4. يستخدم الزجاج في صنع ألعاب الأطفال ()
5. السكين مصنوع من مادة طرية ()
6. القماش مصنوع من مادة قاسية ()
7. يمكن تصنيف المواد بحسب لونها و شكلها و حجمها ()

ضع علامة (✓) أمام العبارة الصحيحة، أو علامة (×) أمام العبارة الخطأ:

1. البالون مصنوع من مادة ناعمة ()
2. تصنع الأشياء من مواد مختلفة ()
3. يستعمل الزجاج في صناعة عجلات السيارة ()
4. يستعمل المعدن في مفاتيح الأبواب ()
5. يمكن صنع الأشياء من أكثر من مادة واحدة ()
6. تصنع الأشياء من مواد مختلفة ()
7. يمكن صنع النظارة من زجاج ومعدن وبلاستيك ()

ضع علامة (✓) أمام العبارة الصحيحة، أو علامة (×) أمام العبارة الخاطئة:

1. جميع الأشياء مصنوعة من المواد ()
2. تصنع الأشياء من مادة واحدة فقط ()
3. يستعمل القماش في صناعة النوافذ ()
4. يستعمل الورق في صناعة الكتب ()

أكمل الفراغات التالية مستعيناً بالكلمات في الجدول التالي :

طرية	القماش	قاسية	الزجاج
------	--------	-------	--------

1- يستخدم في صناعة القبة ، لأنها مادة

2- يستخدم في صناعة الزجاج ، لأنها مادة

أكمل الفراغات التالية مستعيناً بالكلمات في الجدول التالي:

القاسية	حماية	الطرية	خشن
---------	-------	--------	-----

1. تستخدم المواد في صنع الملابس .
2. تستخدم المواد في صنع المطارق والمسامير .
3. يمكن استخدام المواد الطرية لـ الأشياء .

أكمل الفراغات التالية مستعيناً بالكلمات في الجدول التالي:

القاسية	لمسه	الطرية	خشن
---------	------	--------	-----

1. يمكن تحديد الشيء من خلال
2. المادة هي مادة يسهل ضغطها أو عصرها
3. المادة هي مادة يصعب ضغطها أو عصرها

أكمل الفراغات التالية مستعيناً بالكلمات في الجدول التالي:

تتحرك	مختلفة	متعرج	منحن	العجلات
-------	--------	-------	------	---------

4. تتحرك الأشياء بمسارات مختلفة : , مستقيم ,

5. تسهل تحريك الأشياء الكبيرة و الثقيلة

6. تتحرك الأشياء بطرق

7. تساعد العجلات الأشياء كي

- صنف الصور الأشياء في الجدول ادناه



1



2



3



4

مصنوع من المعدن	مصنوع من ورق
.....

السؤال 23

1/.....

- اكمل الفراغات التالية للمواد التي صنعت منها النظارة مستعينا بالكلمات في الجدول .

زجاج	ورق	بلاستيك	معدن
------	-----	---------	------



السؤال 24

1/.....

- اكمل الفراغات التالية مستعينا بالكلمات في الجدول التالي :

الشم	اللمس	السمع
------	-------	-------

1- استخدمت حاسة عندما مررت يدي على الغطاء الناعم .

السؤال 25

1/.....

- ما المادة المصنوع منها هذا الشيء ؟




.....

السؤال 29	1/.....
<p>- ما المادة المصنوع منها هذا الشيء ؟</p> <p>.....</p>	
	

السؤال 30	1/.....
<p>- ما المادة المصنوع منها هذا الشيء ؟</p> <p>.....</p>	
	

السؤال 31	1/.....
<p>- ما المادة المصنوع منها هذا الشيء ؟</p> <p>.....</p>	
	

السؤال 32	1/.....
<p>- ما المادة المصنوع منها هذا الشيء ؟</p> <p>.....</p>	
	



- ما المادة المصنوع منها هذا الشيء ؟

.....

😊 بالتوفيق للجميع

