

تم تحميل هذا الملف من موقع المناهج القطرية



\*للحصول على أوراق عمل لجميع الصفوف وجميع المواد اضغط هنا

<https://almanahj.com/qa>

\* للحصول على أوراق عمل لجميع مواد المستوى الأول اضغط هنا

<https://almanahj.com/qa/1>

\* للحصول على جميع أوراق المستوى الأول في مادة علوم الحاسب ولجميع الفصول, اضغط هنا

<https://almanahj.com/qa/1computer>

\* للحصول على أوراق عمل لجميع مواد المستوى الأول في مادة علوم الحاسب الخاصة بـ الفصل الأول اضغط هنا

<https://almanahj.com/qa/1computer1>

\* لتحميل كتب جميع المواد في جميع الفصول للـ المستوى الأول اضغط هنا

<https://almanahj.com/qa/grade1>

للتحدث إلى بوت المناهج القطرية على تلغرام: اضغط هنا

[https://t.me/qacourse\\_bot](https://t.me/qacourse_bot)

أوراق عمل اثنائية  
للفصل الأول  
مادة الحوسبة و تكنولوجيا المعلومات

صل بين الصور الحواسيب التاليه على حسب

ظهورها:



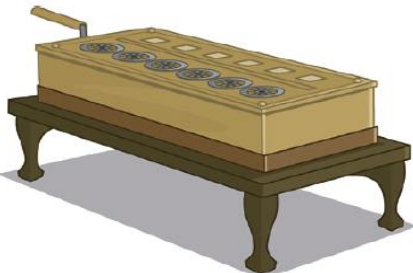
1



2



3



4


## صل بين الجملة و الصورة المناسبة :



الحاسوب المكتبي



الساعة الذكية



ملف الصوت



ملف النص



أشياء لا يجب وضعها بجانب  
الحاسوب


## صل بين الجملة و الصورة المناسبة :



جهاز يستخدم لكتابة الحروف و الأرقام



يتم توصيل جميع الأجهزة في الحاسوب بوحدة النظام



ما الملف الرقمي الذي يتم إنشاؤه عندما نقوم بالكتابة على لوحة المفاتيح




ما الملف الرقمي الذي يتم إنشاؤه عندما تقوم بالتقاط صورة بواسطة الهاتف الذكي



الجلسة الصحيحة امام الحاسوب

## اختر الإجابة الصحيحة مما يلي :

1- ما الملف الرقمي الذي يتم انشاءه عند تصوير فيديو باستخدام كاميرة الفيديو :



-2




-1



-3

2 - ما الملف الرقمي الذي يتم انشاءه عند تصوير صورة باستخدام الكاميرا :



-2



-1



-3

### 3- ما هو احدث أنواع أجهزة الحاسوب :



-1



-2



-3

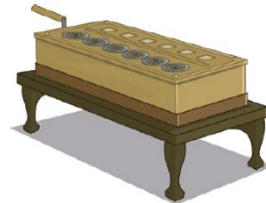
### 4- ما هو اقدم أنواع أجهزة الحاسوب :



-1



-2



-3

5- اين يستخدم الحاسوب في هذه الصورة:



1- المدرسة

2- البنك

3- السوق

6- اين يستخدم الحاسوب في هذه الصورة:



1- المدرسة

2- البنك

3- السوق

7- اين يستخدم الحاسوب في هذه الصورة:



1- المدرسة

2- البنك

3- السوق