

ورقة عمل العد حتى 100



تم تحميل هذا الملف من موقع المناهج القطرية


موقع المناهج ← المناهج القطرية ← الصف الأول ← رياضيات ← الفصل الثاني ← ملفات متنوعة ← الملف

تاريخ إضافة الملف على موقع المناهج: 22:01:57 2026-04-03

ملفات اكتب للمعلم اكتب للطالب الاختبارات الكترونية الاختبارات ا حلول ا عروض بوربوينت ا أوراق عمل منهج انجليزي ا ملخصات وتقارير ا مذكرات وبنوك الامتحان النهائي للمدرس

المزيد من مادة رياضيات:

التواصل الاجتماعي بحسب الصف الأول



صفحة المناهج القطرية على فيسبوك

الرياضيات

اللغة الانجليزية

اللغة العربية

التربية الاسلامية

المواد على تلغرام

المزيد من الملفات بحسب الصف الأول والمادة رياضيات في الفصل الثاني

أوراق عمل الأندلس غير مجابة تحضيرية لاختبار منتصف الفصل

1

أوراق عمل لاختبار منتصف الفصل من مدرسة الفرقان غير مجابة

2

الاختبار النهائي نهاية الفصل

3

أوراق عمل الوحدة العاشرة غير مجابة

4


مجمع أوراق عمل الوحدة العاشرة

5

اسم الطالبة:	الصف: الأول	الشعبة:
المادة: رياضيات	رقم الوحدة: (8)	اسم الوحدة: العد حتى 100
الهدف من ورقة العمل: رفع التحصيل الأكاديمي		
اليوم:	التاريخ:	

السؤال الأول: الأسئلة الموضوعية:

تعليمات: اختر الإجابة الصحيحة لكل من الأسئلة من 1 إلى 2

السؤال (1)	
 <p>لدى هند 5 أوعية زجاجية في كل وعاء 10 كرات مطاطية ، ما عدد الكرات التي لدى هند ؟</p>	
A	40
B	50
C	60

السؤال (2)																					
<p>أي مما يلي يمثل الأعداد الناقصة في لوحة الأعداد؟</p> <table border="1" data-bbox="308 1447 756 1704"> <tr><td>5</td><td>6</td><td>7</td><td>8</td></tr> <tr><td>15</td><td>16</td><td>17</td><td>18</td></tr> <tr><td>25</td><td>26</td><td>27</td><td>28</td></tr> <tr><td>35</td><td>_____</td><td>_____</td><td>_____</td></tr> <tr><td>45</td><td>46</td><td>47</td><td>48</td></tr> </table>		5	6	7	8	15	16	17	18	25	26	27	28	35	_____	_____	_____	45	46	47	48
5	6	7	8																		
15	16	17	18																		
25	26	27	28																		
35	_____	_____	_____																		
45	46	47	48																		
A	32,33,34																				
B	26,36,46																				
C	36,37,38																				



الأسئلة المقالية:

السؤال (رقم 3)

أكتب الأعداد الناقصة في لوحة الأعداد أدناه لإكمال النمط.

1	2	3	4
11	12	13	14
21	___	23	24
31	___	33	34
41	42	43	44

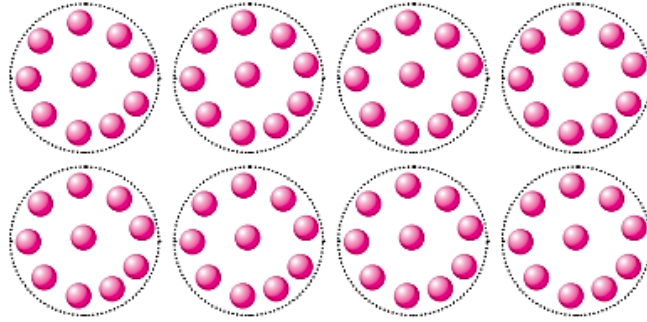
السؤال (رقم 4)

أحوط مجموعة الأعداد التي رقم الآحاد فيها 4 .

1	2	3	4	5	6	7	8	9	10
11	12	13	14	15	16	17	18	19	20
21	22	23	24	25	26	27	28	29	30
31	32	33	34	35	36	37	38	39	40

السؤال (5)

A. أعدد بالعشرات وأكتب العدد الكلي.



<input type="checkbox"/> ممتازة فخورة بك <input type="checkbox"/> احسنت تقدمك ملحوظ <input type="checkbox"/> أعيدى قراءة السؤال رقم لتحديد المطلوب بدقة	<input type="checkbox"/> مجهود رائع ومميز <input type="checkbox"/> خطك جميل ومرتب	التغذية الراجعة
<input type="checkbox"/> إعادة حل ورقة العمل <input type="checkbox"/> مراجعة صفحات الكتاب ص <input type="checkbox"/> استخدام الخرائط الذهنية لتسهيل الحفظ <input type="checkbox"/> اطلبى المساعدة من معلمتك إذا شعرت بصعوبة في الفهم : لا بأس بذلك ❤️	<input type="checkbox"/> حل المزيد من الأسئلة المشابهة <input type="checkbox"/> تلخيص الدرس بأسلوبك لتثبيت المعلومات	الخطوة العلاجية لرفع التحصيل الأكاديمي للطالبة
توقيع ولي الأمر	التاريخ	

معلومات الصف	منسقة القسم
--------------	-------	-------------	-------