

أوراق عمل الأندلس للبنين التحضيرية لاختبار نهاية الفصل غير مجابة



تم تحميل هذا الملف من موقع المناهج القطرية

موقع المناهج ⇨ المناهج القطرية ⇨ الصف الأول ⇨ علوم ⇨ الفصل الأول ⇨ ملفات متنوعة ⇨ الملف

تاريخ إضافة الملف على موقع المناهج: 2025-12-08 13:38:28

ملفات اكتب للمعلم اكتب للطالب ا اختبارات الكترونية ا اختبارات ا حلول ا عروض بوربوينت ا أوراق عمل منهج انجليزي ا ملخصات وتقارير ا مذكرات وبنوك ا الامتحان النهائي للمدرس

المزيد من مادة علوم:

إعداد: مدرسة الأندلس

التواصل الاجتماعي بحسب الصف الأول



صفحة المناهج القطرية على فيسبوك

الرياضيات

اللغة الانجليزية

اللغة العربية

التربية الاسلامية

المواد على تلغرام

المزيد من الملفات بحسب الصف الأول والمادة علوم في الفصل الأول

أوراق عمل غير مجابة في خصائص المواد

1

أوراق عمل غير مجابة في الأشياء المتحركة

2

أوراق عمل الفرقان نهاية الفصل مع الإجابة النموذجية

3

أوراق عمل مجابة في الأشياء المتحركة

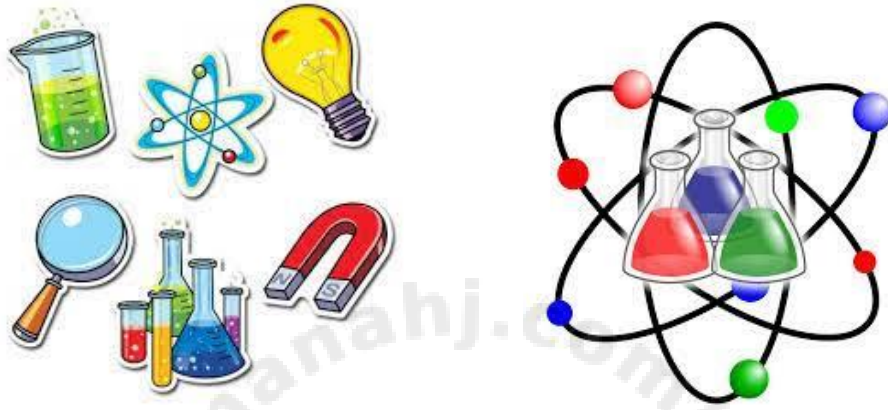
4

أوراق عمل مجابة في خصائص المواد

5

العام الأكاديمي 2025/2026

نهاية الفصل الدراسي الأول



أوراق العمل الإثرائية

مادة العلوم

الصف الأول الابتدائي




اسم الطالب	
الصف والشعبة	الأول /

هذه الأوراق مُساعدة ولا تُغني عن الكتاب المدرسي وتدريبات الكتاب المدرسي

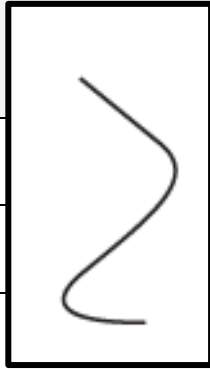
الاسم: الصف: الأول / التاريخ: 11... / 11 / 2025

السؤال الأول: اختر الإجابة الصحيحة.

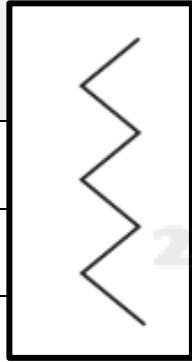
(1) ما الشيء الذي يحتاج إلى مساعدة كي يتحرك؟	
	A
	B
	C

(2) أي مما يلي يحتاج الى محرك كي يتحرك؟	
	A
	B
	C

(3) ما نوع المسار في الصورة المجاورة؟	
A	منحنٍ
B	متعرج
C	مستقيم



(4) ما نوع المسار في الصورة المجاورة؟	
A	منحنٍ
B	متعرج
C	مستقيم



(5) كيف نصف حركة السيارة في الصورة؟	
A	إلى الأمام
B	إلى الخلف
C	إلى الأعلى



(6) كيف نصف حركة الطفل في الصورة؟



A ينزلق

B يتدحرج

C الى الأعلى

(7) كيف نصف حركة الكرة في الصورة؟



A تنزلق

B تتدحرج

C الى الأعلى

السؤال الثاني : ضع إشارة √ امام العبارة الصحيحة وإشارة x أمام العبارة الخاطئة.

1 - تتحرك الحقيبة من تلقاء نفسها. ()

2 - يستخدم المحرك الوقود. ()

3 - تتحرك جميع الأشياء بمسار متعرج فقط . ()

4 - تساعد العجلات الأشياء كي تتحرك . ()

السؤال الثالث : أصل بين كل صورة والكلمة التي تصف ما الذي يجعل ما في الصورة يتحرك.



[illegible]

الاسم: الصف: الأول / التاريخ: ...23 / 11 / 2025

(1) ما المادة التي تصنع منها الملابس؟



A الزجاج

B الخشب

C القماش

(2) ما المادة التي صنع منها الشيء في الصورة؟



A الطين

B الخشب

C المطاط

(3) ما المادة التي صنع منها الشيء في الصورة؟

PRO
ALUMINUM SOLUTIONS (PRIVATE) LIMITED



A الورق

B الخشب

C الزجاج

(4) ما المادة التي صنع منها الشيء في الصورة؟



A البلاستيك

B المعدن

C المطاط

5) ما المواد التي صنع منها الشيء في الصورة؟



البلاستيك ومعدن

A

الخشب والمطاط

B

القماش والورق

C

6) ما الوصف الصحيح للمادة التي صنعت منها المطرقة؟



ليننة

A

طرية

B

قاسية

C

7) ما الوصف الصحيح للمادة التي صنعت منها الدمية؟



A
طرية

B
خشنة

C
قاسية

8) ما الشيء الذي يصعب ضغطه أو عصره؟

A
الستارة

B
طاولة

C
بالون

السؤال الثاني : ضع إشارة √ امام العبارة الصحيحة وإشارة x أمام العبارة الخاطئة.

1 - يصنع الكتاب من الورق . ()

2 - يمكن وصف الحجر بأنه مادة طرية . ()

3 - تستخدم المواد الطرية لحماية الأشياء . ()

4 - نستخدم القماش في صناعة الملابس لأنه طري ومريح . ()

السؤال الثالث: أكمل الجمل التالية باستخدام الكلمات الموجودة في صندوق الكلمات.



المطاط - مختلفة - ناعم - القاسية

1-	يمكن صنع الملاعق من مواد (-----).
2-	للريشة ملمس (-----).
3-	يصنع البالون من (-----).

السؤال الرابع: صل بين صورة الشيء وبين المادة المصنوع منها.





السؤال الخامس : أ) حدد المادة التي صنع منها الشيء بكتابة الرقم تحت الكلمة المناسبة :-

 <div data-bbox="282 684 402 802">2</div>	 <div data-bbox="607 684 727 802">1</div>	<div data-bbox="1003 407 1101 462">زجاج</div> <div data-bbox="974 730 1188 751">-----</div>	<div data-bbox="1312 407 1393 449">خشب</div> <div data-bbox="1286 730 1490 751">-----</div>
--	--	---	---

ب) اكتب على النقاط ملمس الشيء أسفل الصورة المناسبة :-

ناعم , خشن

 <div data-bbox="467 1717 743 1738">-----</div>	 <div data-bbox="1084 1717 1328 1738">-----</div>
--	---

● انسخ الكلمات التالية.

[illegible]