

مراجعة هامة جدا ومتوقعة لاختبار نهاية الفصل مع الإجابة



تم تحميل هذا الملف من موقع المناهج القطرية

موقع المناهج ← المناهج القطرية ← المستوى الأول ← علوم ← الفصل الثاني ← ملفات متنوعة ← الملف

تاريخ إضافة الملف على موقع المناهج: 19:10:02 2025-06-17

ملفات اكتب للمعلم اكتب للطالب ا اختبارات الكترونية ا اختبارات ا حلول ا عروض بوربوينت ا أوراق عمل
منهج انجليزي ا ملخصات وتقارير ا مذكرات وبنوك ا الامتحان النهائي ا للمدرس

المزيد من مادة
علوم:

التواصل الاجتماعي بحسب المستوى الأول



صفحة المناهج
القطرية على
فيسبوك

الرياضيات

اللغة الانجليزية

اللغة العربية

التربية الاسلامية

المواد على تلغرام

المزيد من الملفات بحسب المستوى الأول والمادة علوم في الفصل الثاني

مراجعة هامة جدا ومتوقعة لاختبار نهاية الفصل

1

التدريبات الإثرائية التحضيرية لاختبار نهاية الفصل

2

أوراق عمل نهاية الفصل مريم بنت عمران

3

إجابات أوراق عمل الفرقان نهاية الفصل

4

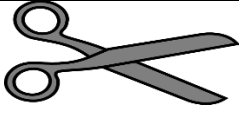
أوراق عمل الفرقان نهاية الفصل حول الكائنات الحية والمواد والقوى والحركة

5

مراجعة اختبار نهاية الفصل الدراسي الثاني

العام الأكاديمي: 2025/2024

المادة: العلوم

السؤال الأول	
ما المادة التي صنع منها المقص؟ 	
A	معدن
B	خشب
C	زجاج

السؤال الثاني	
ما المادة التي يصنع منها سياج المنزل	
A	ورق
B	معدن
C	زجاج

السؤال الثالث	
لماذا الورق مناسب لصنع الكتب؟	
A	طري
B	قاس
C	خشن

السؤال الرابع	
ماهي المادة المناسبة لصنع نوافذ السيارة؟	
A	خشب
B	معدن
C	زجاج

السؤال الخامس	
جزء النبات الذي يساعده على الحصول على الماء هو :	
A	أزهار
B	أوراق
C	جذور

السؤال السادس	
أي مما يلي يحتاجه الانسان للبقاء على قيد الحياة؟	
A	كتاب
B	هواء
C	العاب

السؤال السابع	
أي مما يلي تفعلة جميع الكائنات الحية؟	
A	سباحة
B	طيران
C	اخراج الفضلات

السؤال الثامن	
ماذا يحدث للأزهار عندما يتم قطفها	
A	تنمو
B	تتكاثر
C	يتوقف نموها

السؤال التاسع	
ماذا يحدث عند دفع سيارة لعبة بقوة كبيرة؟	
A	تتحرك بسرعة
B	تتحرك ببطء
C	لا تتحرك

السؤال العاشر	1 /.....
الحيوان الأكثر خطراً عندما يتحرك هو	
A	
B	
C	

السؤال الحادي عشر	1 /.....
أي مما يلي يجب ارتدائه عند ركوب الدراجة ليلاً؟	
A	ملابس زاهية وخوذة
B	ملابس زاهية بدون خوذة
C	ملابس داكنة بدون خوذة

السؤال الثاني عشر	1 /.....
أي مما يلي يبدو نبات نظرا؟	
	A
	B

السؤال الثالث عشر	1 /.....
أي مما يلي يتكاثر عن طريق وضع البيض؟	
الدجاجة	A
الخروف	B
الجمل	C

السؤال الرابع عشر	1 /.....
أي مما يلي يبينه هذا الشكل؟	
	
A	نمو النبات
B	حركة النبات
C	اخراج الفضلات عند النبات

السؤال الخامس عشر	1 /.....
المكان الذي تعيش فيه الكائنات الحية ويوفر لها الغذاء والماء والمأوى هو :	
A	الموطن
B	التلوث
C	الزيت

السؤال السادس عشر

صل الجملة في العمود (أ) بالصورة المناسبة في العمود (ب):

العمود (ب)



العمود (أ)

0 سنة




1 سنة

2024

12 سنة

السؤال السابع عشر

صل الجملة في العمود (أ) بالصورة المناسبة في العمود (ب):

العمود (ب)	العمود (أ)
	سحب
	دفع
	


ضع علامة (✓) أمام العبارة الصحيحة، أو علامة (×) أمام العبارة الخطأ:

1. الخشب مادة شفافة. (×)
2. تستفيد الحيوانات من كل الأطعمة التي تأكلها. (×)
3. يصنع النبات غذائه بنفسه. (✓)
4. يتغير شكل الانسان والحيوان اثناء النمو. (✓)
5. الأشياء الثقيلة تتحرك ببطأ أكثر من الأشياء الخفيفة (✓)

أكمل الفراغات التالية مستعيناً بصندوق الكلمات:

الضرر	البذور	الموطن	القوة	السلامة	خصائصها
-------	--------	--------	-------	---------	---------

1. تنمو النباتات من **البذور**
2. يوفر **الموطن** الغذاء والماء والمأوى.
3. يسبب تسرب بقع الزيت في البحر **الضرر** للحيوانات.
4. يتم اختيار المواد لصنع الأشياء بحسب **خصائصها**
5. الدفع والسحب نوعان من **القوة**
6. العب في الأماكن المخصصة للعب للمحافظة على **السلامة**



أ- أي جزء يساعد النبات للحصول على الماء؟

.....**الجنذور**.....

ب- ما اسم الجزء الذي يصنع فيه النبات غذائه؟

.....**الورقة**.....

ما اسم القوة التي استخدمها لتحريك الأشياء باتجاهي؟

.....**سحب**.....