

## أوراق عمل الأندلس نهاية الفصل غير مجانية



### تم تحميل هذا الملف من موقع المناهج القطرية

موقع المناهج ← المناهج القطرية ← المستوى الأول ← علوم الحاسب ← الفصل الثاني ← ملفات متنوعة ← الملف

تاريخ إضافة الملف على موقع المناهج: 10:28:26 2025-05-16

ملفات اكتب للمعلم اكتب للطالب | اختبارات الكترونية | اختبارات | حلول | عروض بوربوينت | أوراق عمل  
منهج انجليزي | ملخصات وتقارير | مذكرات وبنوك | الامتحان النهائي | للمدرس

المزيد من مادة  
علوم الحاسب:

إعداد: مدرسة الأندلس

### التواصل الاجتماعي بحسب المستوى الأول



صفحة المناهج  
القطرية على  
فيسبوك

الرياضيات

اللغة الانجليزية

اللغة العربية

التربية الاسلامية

المواد على تلغرام

### المزيد من الملفات بحسب المستوى الأول والمادة علوم الحاسب في الفصل الثاني

أوراق عمل الأندلس نهاية الفصل مع الإجابة النموذجية

1

تدريبات الفرقان الإثرائية لتعزيز مهارات الحوسبة والتكنولوجيا مع الإجابة النموذجية

2

تدريبات الفرقان الإثرائية لتعزيز مهارات الحوسبة والتكنولوجيا

3

أوراق عمل الأندلس منتصف الفصل مع الإجابة النموذجية

4

أوراق عمل الأندلس منتصف الفصل غير مجانية

5

مدرسة الأندلس الخاصة للبنات  
العام الأكاديمي 2025/2024



نهاية الفصل الدراسي الثاني



أوراق عمل إثرائية

الحوسبة وتكنولوجيا المعلومات

الصف: الأول

اسم الطالبة/.....

الصف والشعبة /.....

السؤال الأول: الأسئلة الموضوعية:

اختر الإجابة الصحيحة:



1.1	من أنواع الملفات الرقمية التي يمكنك إرسالها عبر البريد الإلكتروني " نص ":
<input type="checkbox"/>	A 
<input type="checkbox"/>	B 
<input type="checkbox"/>	C 

1.2	من أنواع الملفات الرقمية التي يمكنك إرسالها عبر البريد الإلكتروني " صورة ":
<input type="checkbox"/>	A 
<input type="checkbox"/>	B 
<input type="checkbox"/>	C 




<p>من أنواع الملفات الرقمية التي يمكنك إرسالها عبر البريد الإلكتروني " صوت":</p>		<p>1.3</p>		
	<p>A</p>	<table border="1"> <tr> <td></td> </tr> <tr> <td>1</td> </tr> </table>		1
1				
	<p>B</p>			
	<p>C</p>			
<p>من أنواع الملفات الرقمية التي يمكنك إرسالها عبر البريد الإلكتروني " فيديو":</p>		<p>1.4</p>		
	<p>A</p>	<table border="1"> <tr> <td></td> </tr> <tr> <td>1</td> </tr> </table>		1
1				
	<p>B</p>			
	<p>C</p>			

<p>من مزايا استخدام البريد الإلكتروني " مجاني ":</p>		<p>1.5</p>
	<p>A</p>	<div></div> <div>1</div>
	<p>B</p>	
	<p>C</p>	

<p>من مزايا استخدام البريد الإلكتروني " يجول العالم ":</p>		<p>1.6</p>
	<p>A</p>	<div> </div> <div>1</div>
	<p>B</p>	
	<p>C</p>	




من مزايا استخدام البريد الإلكتروني " سرعة تبادل الرسائل ":

1.7

	A	
	B	1
	C	




ما هي الخطوة الأولى من خطوات تسلسل الوضوء؟

1.8

	A	
	B	1
	C	



ما هي الخطوة الثانية من خطوات تسلسل الوضوء؟		1.9
	A	<div></div> <div>1</div>
	B	
	C	
ما هي الخطوة الأولى من خطوات تسلسل ارتداء الجوارب؟		1.10
	A	<div></div> <div>1</div>
	B	
	C	

<p>ما هي الخطوة الثانية من خطوات تسلسل ارتداء الجوارب؟</p>		<p>1.11</p>
	<p>A</p>	<div> </div> <div> 1 </div>
	<p>B</p>	
	<p>C</p>	

ما هي البرنامج الذي يجعل النحلة تتحرك داخل الحديقة من خلال إعطاء التعليمات؟		1.12
	Bumblebee Alda	A
	Camera	B
	Paint 3D	C

1

من أنواع الأنماط " نمط اللون ":	1.13
<div data-bbox="638 414 1212 548">  </div>	A
<div data-bbox="638 571 1212 705">  </div>	B
<div data-bbox="638 728 1212 862">  </div>	C





من أنواع الأنماط " نمط الشكل ":	1.14
<div data-bbox="638 1064 1212 1198">  </div>	A
<div data-bbox="638 1220 1212 1355">  </div>	B
<div data-bbox="638 1377 1212 1512">  </div>	C





<p>من أنواع الأنماط " نمط الشكل واللون ":</p>	<p>1.15</p>
<div>  </div>	<p>A</p>
<div>  </div>	<p>B</p>
<div>  </div>	<p>C</p>
<p>أوجد الشكل المفقود في النمط التالي:</p> <div>  </div>	<p>1.16</p>
<div>  </div>	<p>A</p>
<div>  </div>	<p>B</p>
<div>  </div>	<p>C</p>

?	     	أوجد الشكل المفقود في النمط التالي:	1.17
			A
			B
			C





?	     	أوجد الشكل المفقود في النمط التالي:	1.18
			A
			B
			C

أعثر على الخطأ في نمط الشكل التالي:		1.19
		
	A	<div>1</div>
	B	
	C	

أعثر على الخطأ في نمط الشكل التالي:		1.20
		
	A	<div>1</div>
	B	
	C	




الأسئلة المقالية:

السؤال الثاني: صل العمود ( أ ) مع ما يناسبه من العمود ( ب ) :

( ب )





( أ )
نص
صورة
صوت
فيديو

السؤال الثالث: صل العمود ( أ ) مع ما يناسبه من العمود ( ب ) :

( ب )







( أ )
مجاني
يجول العالم
سرعة تبادل الرسائل

السؤال الرابع: صل العمود ( أ ) مع ما يناسبه من العمود ( ب ) :

( ب )	( أ )
	التف إلى اليمين
	ارجع للخلف
	التف إلى اليسار
	ابدأ
	احذف جميع التعليمات
	تحرك للأمام

السؤال الخامس: صل العمود ( أ ) مع ما يناسبه من العمود ( ب ) :

( ب )

( أ )

نمط اللون
نمط الشكل
نمط الشكل واللون

انتهت الأسئلة