

أوراق عمل الأندلس للبنين التحضيرية لاختبار نهاية الفصل مع الإجابة النموذجية



تم تحميل هذا الملف من موقع المناهج القطرية

موقع المناهج ⇨ المناهج القطرية ⇨ الصف الأول ⇨ علوم ⇨ الفصل الأول ⇨ ملفات متنوعة ⇨ الملف

تاريخ إضافة الملف على موقع المناهج: 13:40:42 2025-12-08

ملفات اكتب للمعلم اكتب للطالب | اختبارات الكترونية | اختبارات | حلول | عروض بوربوينت | أوراق عمل منهج انجليزي | ملخصات وتقارير | مذكرات وبنوك | الامتحان النهائي | للمدرس

المزيد من مادة علوم:

إعداد: مدرسة الأندلس

التواصل الاجتماعي بحسب الصف الأول



صفحة المناهج القطرية على فيسبوك

الرياضيات

اللغة الانجليزية

اللغة العربية

التربية الاسلامية

المواد على تلغرام

المزيد من الملفات بحسب الصف الأول والمادة علوم في الفصل الأول

أوراق عمل الأندلس للبنين التحضيرية لاختبار نهاية الفصل غير مجابة

1

أوراق عمل غير مجابة في خصائص المواد

2

أوراق عمل غير مجابة في الأشياء المتحركة

3

أوراق عمل الفرقان نهاية الفصل مع الإجابة النموذجية

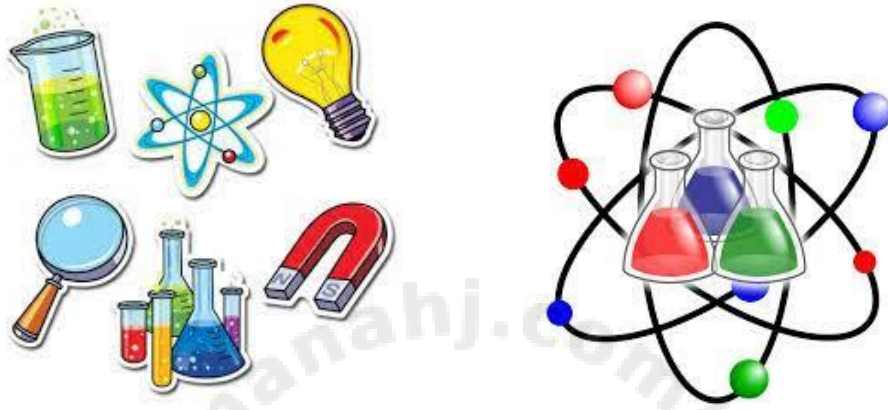
4

أوراق عمل مجابة في الأشياء المتحركة

5

العام الأكاديمي 2025/2026

نهاية الفصل الدراسي الأول



حل أوراق العمل الإثرائية

مادة العلوم

الصف الأول الابتدائي




| | |
|--------------|---------|
| اسم الطالب | الأول / |
| الصف والشعبة | |

هذه الأوراق مُساعدة ولا تُغني عن الكتاب المدرسي وتدريبات الكتاب المدرسي

الاسم: الصف: الأول / التاريخ: 11... / 11 / 2025

السؤال الأول : اختر الإجابة الصحيحة

| (1) ما الشيء الذي يحتاج الى مساعدة كي يتحرك؟ | |
|---|---|
|  | A |
|  | B |
|  | C |

| (2) أي مما يلي يحتاج الى محرك كي يتحرك؟ | |
|---|---|
|  | A |
|  | B |
|  | C |

(3) ما نوع المسار في الصورة المجاورة ؟

| | |
|--------|---|
| منحنٍ | A |
| متعرج | B |
| مستقيم | C |

(4) ما نوع المسار في الصورة المجاورة ؟

| | |
|--------|---|
| منحنٍ | A |
| متعرج | B |
| مستقيم | C |

(5) كيف نصف حركة السيارة في الصورة؟

| | |
|------------|---|
| الى الأمام | A |
| الى الخلف | B |
| الى الأعلى | C |

(6) كيف نصف حركة الطفل في الصورة؟



ينزلق

A

يتدحرج

B

الى الأعلى

C

(7) كيف نصف حركة الكرة في الصورة؟



تنزلق

A

تتدحرج

B

الى الأعلى

C

السؤال الثاني : ضع اشارة ✓ امام العبارة الصحيحة وإشارة ✗ امام العبارة الخاطئة.

(✗)

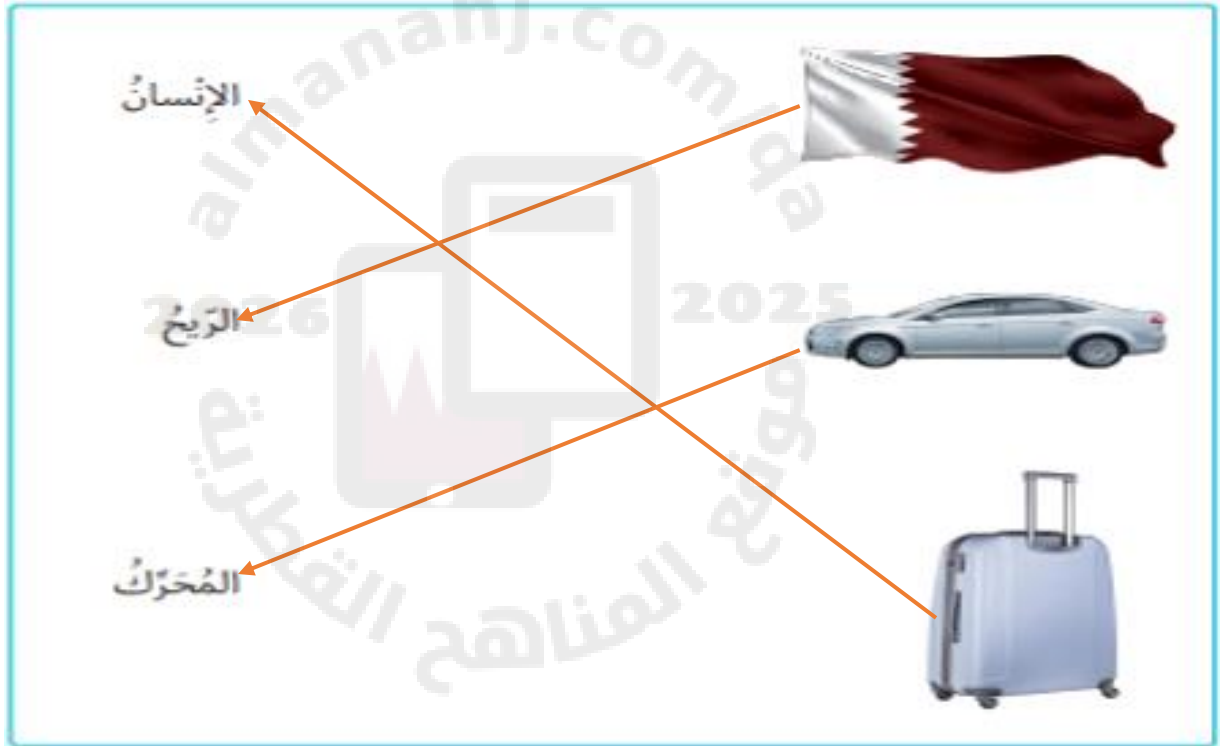
1 - تتحرك الحقيبة من تلقاء نفسها.

2 - يستخدم المحرك الوقود. (√)

3 - تتحرك جميع الأشياء بمسار متعرج فقط. (X)

4 - تساعد العجلات الأشياء كي تتحرك. (√)

السؤال الثالث : أصل بين كل صورة والكلمة التي تصف ما الذي يجعل ما في الصورة يتحرك:-



السؤال الرابع : أختَر الكلمة المناسبة لإكمال الجمل التالية :

1- يحتاج المحرك الى **الوقود** (الوقود , الصابون)

2- تتحرك الأشياء بطرق **مختلفة** (متشابهة ، مختلفة)

3- توصف حركة الكرة بأنها **تتدحرج** (تتدحرج ، تنزلق)

• اكتب الكلمات التالية :-

| يتدحرج | وقود | محرك |
|--------|------|------|
| | | |
| | | |
| | | |

الاسم: الصف: الاول / التاريخ: 23... / 11 / 2025

(1) ما المادة التي تصنع منها الملابس ؟



الزجاج

A

| | |
|--------|---|
| | |
| الخشب | B |
| القماش | C |

(2) ما المادة التي صنع منها الشيء في الصورة ؟

| | | |
|--|--------|---|
|  | الطين | A |
| | الخشب | B |
| | المطاط | C |

(3) ما المادة التي صنع منها الشيء في الصورة ؟

| | | |
|---|-------|---|
|  | الورق | A |
| | | B |
| | | |

| | |
|--------|---|
| الخشب | |
| الزجاج | C |

4) ما المادة التي صنع منها الشيء في الصورة ؟



البلاستيك

A

المعدن

B

المطاط

C

5) ما المواد التي صنع منها الشيء في الصورة ؟



البلاستيك ومعدن

A

الخشب والمطاط

B

| | |
|---------------|---|
| القماش والورق | C |
|---------------|---|

| | |
|--|---|
| (6) ما الوصف الصحيح للمادة التي صنعت منها المطرقة؟ | |
| ليننة | A |
| طرية | B |
| قاسية | C |



| | |
|---|---|
| (7) ما الوصف الصحيح للمادة التي صنعت منها الدمية؟ | |
| طرية | A |
| خشنة | B |



| | |
|---|-------|
| C | قاسية |
|---|-------|

| | |
|---------------------------------------|---------|
| (8) ما الشيء الذي يصعب ضغطه أو عصره ؟ | |
| A | الستاره |
| B | طاولة |
| C | بالون |

السؤال الثاني : ضع اشارة ☒ امام العبارة الصحيحة وإشارة ☐ أمام العبارة الخاطئة.

1 - يصنع الكتاب من الورق . (☒)

2 - يمكن وصف الحجر بانه مادة طرية . (☐)

3 - تستخدم المواد الطرية لحماية الأشياء . (☒)

4 - نستخدم القماش في صناعة الملابس لانه طري ومريح . (☒)

السؤال الثالث

أكمل الجمل التالية باستخدام الكلمات الموجودة في صندوق الكلمات:

المطاط - مختلفة - ناعم - القاسية

1. يمكن صنع الملاعق من مواد (----- مختلفة -----).

2- للريشة ملمس (----- ناعم -----).

3 - يصنع البالون من (----- المطاط -----).

السؤال الرابع : صل بين صورة الشيء وبين المادة المصنوع منها .



قُمَاشٌ



طِينٌ

خَشَبٌ







السؤال الخامس : أ) حدد المادة التي صنع منها الشيء بكتابة الرقم تحت الكلمة المناسبة :-

| | | | |
|--|--|--|---|
|  <div data-bbox="272 640 393 756">2</div> |  <div data-bbox="597 640 717 756">1</div> | <div data-bbox="998 357 1096 420">زجاج</div> <div data-bbox="971 630 1177 703">1</div> | <div data-bbox="1307 357 1388 420">خشب</div> <div data-bbox="1279 630 1485 703">2</div> |
|--|--|--|---|

ب) اكتب على النقاط ملمس الشيء أسفل الصورة المناسبة :-

ناعم , خشن

| | |
|---|---|
|  <div data-bbox="467 1612 743 1690">ناعم</div> |  <div data-bbox="1084 1617 1328 1696">خشن</div> |
|---|---|

| زجاج | ورق | طري | قاس |
|------|-----|-----|-----|
| | | | |
| | | | |
| | | | |
| | | | |

