

تم تحميل هذا الملف من موقع المناهج القطرية



بنك أسئلة الوحدة الثانية عشر غير مجابة مدرسة عبد الحميد الدايل

[موقع المناهج](#) ← [المناهج القطرية](#) ← [المستوى الأول](#) ← [رياضيات](#) ← [الفصل الأول](#) ← [الملف](#)

تاريخ إضافة الملف على موقع المناهج: 08:30:08 2024-05-31

إعداد: مدرسة عبد الحميد الدايل

التواصل الاجتماعي بحسب المستوى الأول



اضغط هنا للحصول على جميع روابط "المستوى الأول"

روابط مواد المستوى الأول على تلغرام

[الرياضيات](#)

[اللغة الانجليزية](#)

[اللغة العربية](#)

[التربية الاسلامية](#)

المزيد من الملفات بحسب المستوى الأول والمادة رياضيات في الفصل الأول

[بنك أسئلة الوحدة التاسعة غير مجابة مدرسة عبد الحميد الدايل](#)

1

[أوراق عمل نهاية الفصل مدرسة الأندلس](#)

2

[تطبيقات امتحانية في نهاية الفصل](#)

3

[الإجابة النموذجية لتدريبات الكتاب](#)

4

[تدريبات دعم وإثراء الفرقان نهاية الفصل](#)




5

مدرسة عبد الحميد الدايل للبنين
نهاية الفصل الدراسي الثاني للعام 2023-2024م
بنك الأسئلة الوحدة الثانية عشر




الاسم:

الصف: أول /


اختر الإجابة الصحيحة لكل من الأسئلة من 1 إلى 6، وذلك بوضع علامة × داخل المربع المجاور للإجابة الصحيحة:

		1
أي مما يلي يمثل أفضل وصف للأقلام:		
	A	
	B	
	C	
	القلم A هو الأطول.	A
	القلم B هو الأطول.	B
	القلم C هو الأطول.	C

		2
حوظ الشيء الأقصر		
	A	
	B	
	C	

		3
حوظ الشيء الأطول:		
		A
		B
		C

		4
أي الأشياء التالية هي الأقصر؟		
	سيارة	A
	دراجة هوائية	B
	طائرة	C

		5
		
ما هو عدد المشابك المناسبة لقياس طول الكتاب؟		
	3	A
	4	B
	5	C

أي مما يلي الطول الصحيح للقلم بالمكعبات؟



5

A

10

B

20

C

عند الإجابة على الأسئلة من 7 إلى 13، اكتب إجاباتك في المساحات المخصصة لذلك مع توضيح خطوات الحل:

السؤال رقم (7)

اكتب رقم الشيء الأطول ثم اكتب رقم الشيء الأقصر:

1:

2:

3:

الأطول: _____ الأقصر: _____

السؤال رقم (8)

حوظ الشيء الأطول، استعمل الخيط للمساعدة.

كتاب

معجون أسنان



السؤال رقم (9)

باستعمال المكعبات، ما طول قياس القلم بالصورة أدناه؟



..... مكعبًا.

السؤال رقم (10)

باستعمال مشابك الورق، ما طول قياس القلم بالصورة أدناه؟



..... مشبكًا.

السؤال رقم (11)

أي مما يلي ليس الطول الصحيح للقلم الموضح أدناه؟ أختار كل ما ينطق



20 

10 

5 

1 

السؤال رقم (12)

حوط لتوضح هل تحتاج إلى مكعبات فقط أم إلى خيط ومكعبات لقياس طول الشيء ، ثم قم بقياس الطول.

خَيْطٌ وَمُكْعَبَاتٌ

2. مُكْعَبَاتٌ



_____ مُكْعَبَاتٌ

خَيْطٌ وَمُكْعَبَاتٌ

1. مُكْعَبَاتٌ



_____ مُكْعَبَاتٌ

السؤال رقم (13)

حوط لتوضح هل تحتاج إلى مشابك ورق فقط أم إلى خيط و مشابك ورق لقياس طول الشيء ، ثم قم بقياس الطول.

خَيْطٌ وَمَشَابِكُ وَرَقِي

2. مَشَابِكُ وَرَقِي



_____ مَشَابِكُ وَرَقِي

خَيْطٌ وَمَشَابِكُ وَرَقِي

1. مَشَابِكُ وَرَقِي



_____ مَشَابِكُ وَرَقِي